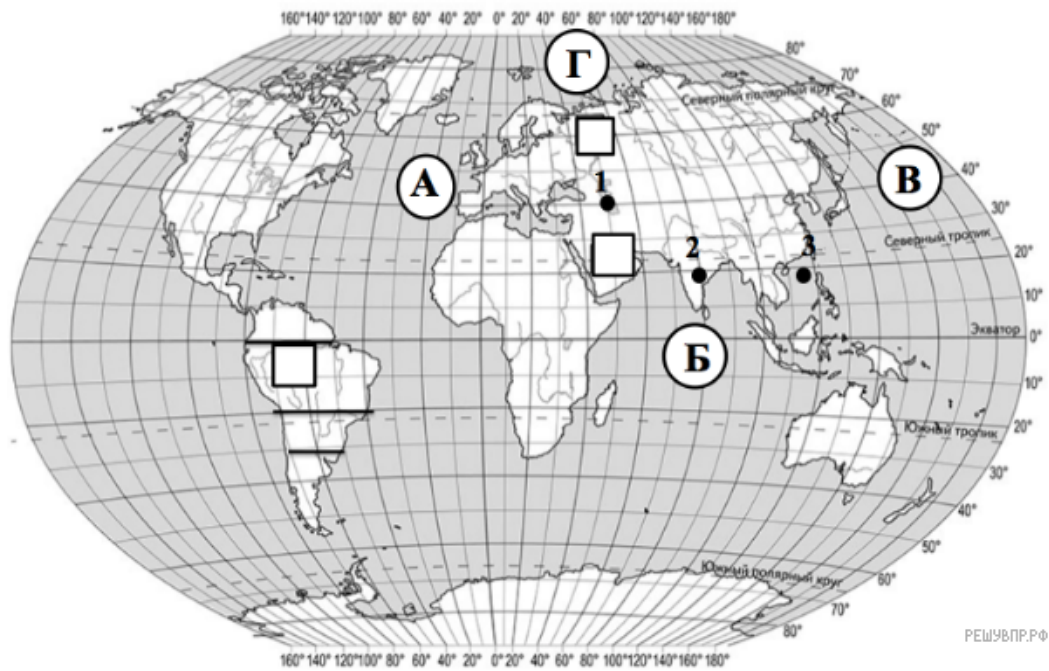


Карта составлена по состоянию на 01.01.2021

1. На карте буквами обозначены объекты, определяющие географическое положение материка, по которому проходил маршрут экспедиции. Запишите в таблицу названия этих объектов.

А	Б	В	Г
<input type="text"/>	<input type="text"/>	<input type="text"/>	<input type="text"/>



РЕШУ ВПР.РФ

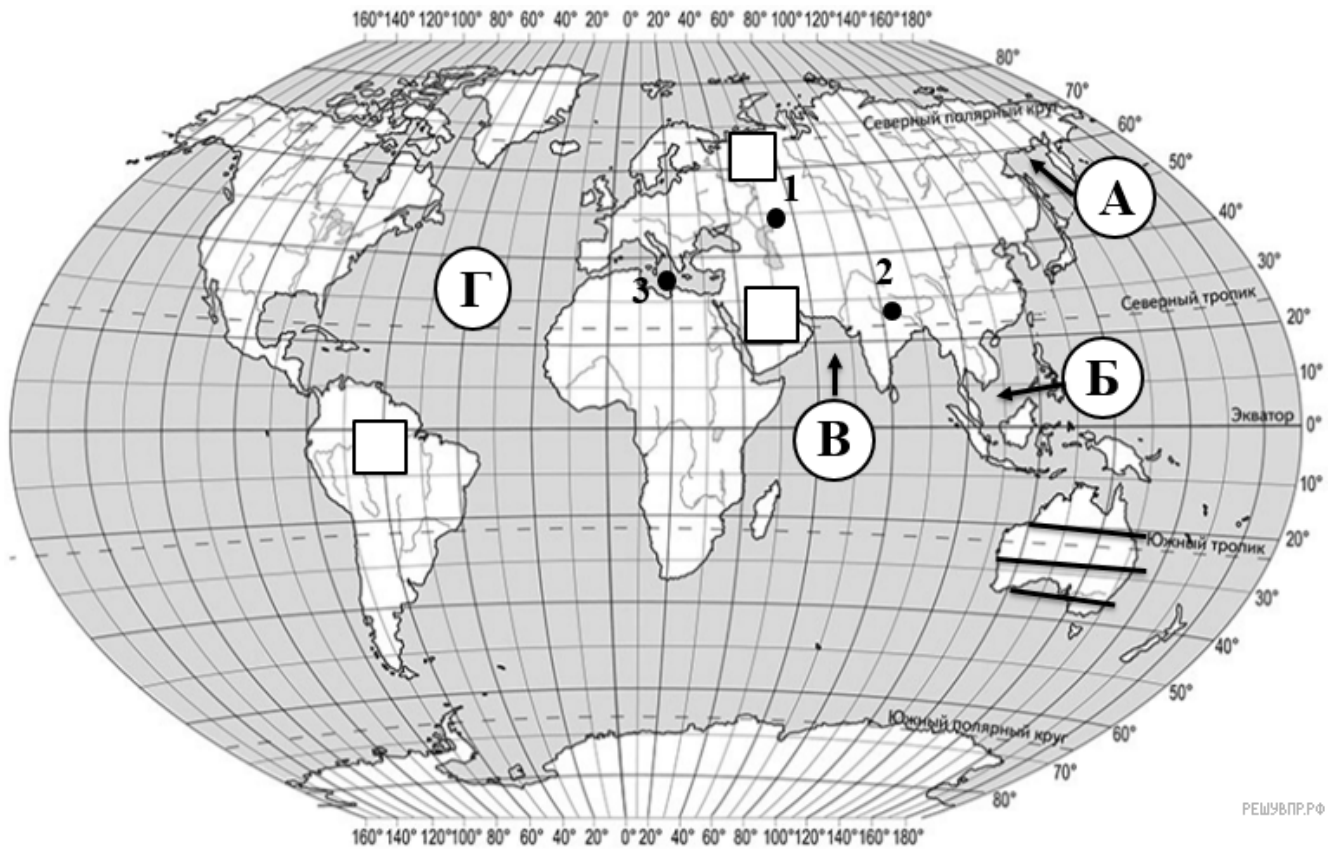
Карта составлена по состоянию на 01.01.2019

2. На карте буквами обозначены объекты, определяющие географическое положение материка, по которому проходил маршрут экспедиции. Запишите в таблицу названия этих объектов.

А	Б	В	Г



РЕШУ ВПР.РФ



РЕШУ ВПР.РФ

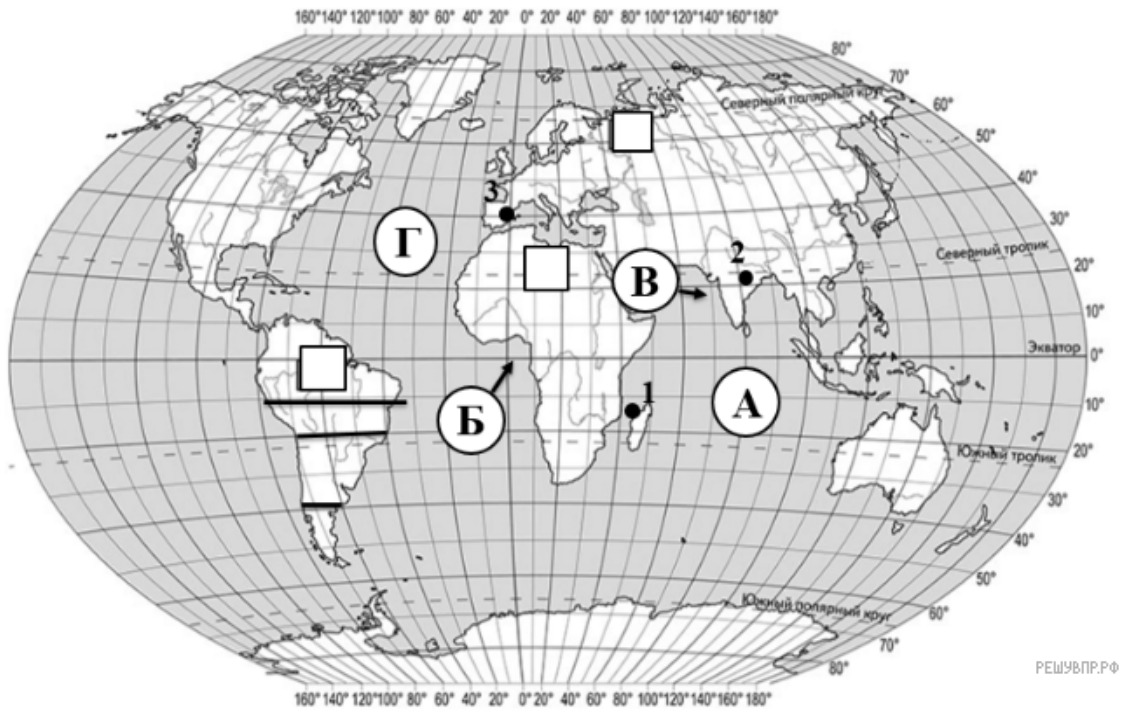
Карта составлена по состоянию на 01.01.2019

3. На карте буквами обозначены водные объекты, определяющие географическое положение материка, по которому проходил маршрут экспедиции. Запишите в таблицу названия этих объектов.

А	Б	В	Г



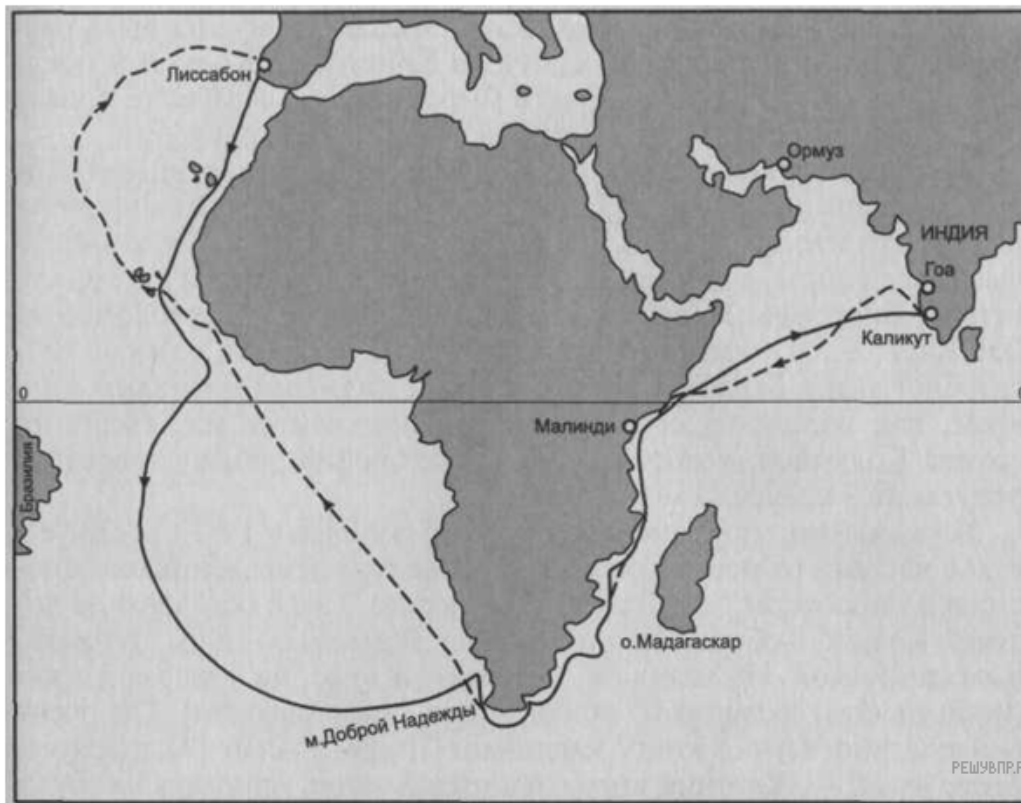
РЕШУ ВПР.РФ

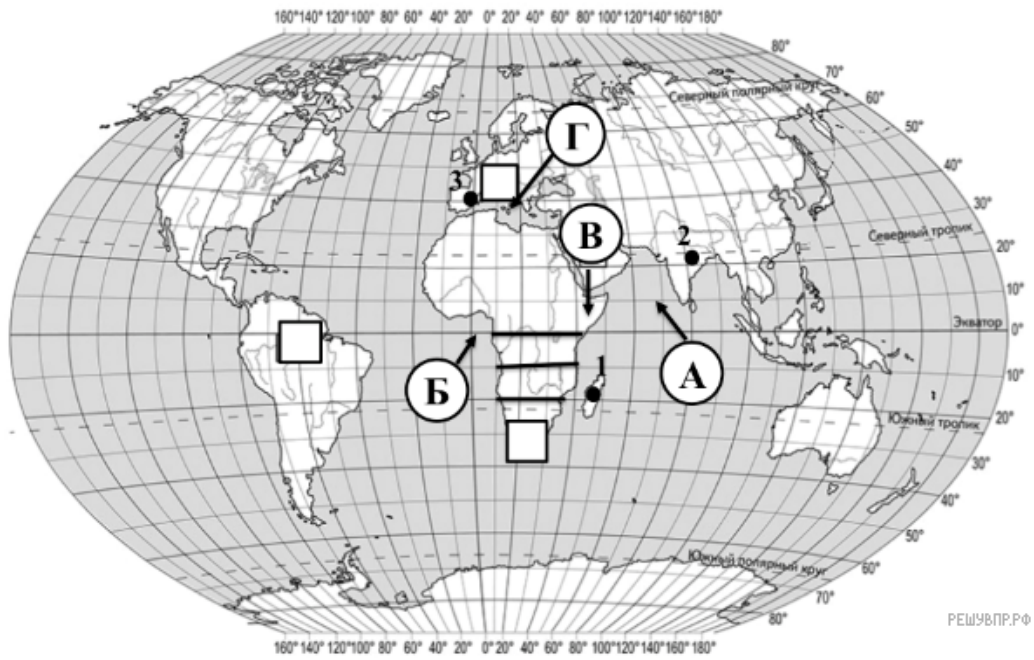


Карта составлена по состоянию на 01.01.2019

4. На карте буквами обозначены водные объекты, определяющие географическое положение материка, по которому проходил маршрут экспедиции. Запишите в таблицу названия этих объектов.

А	Б	В	Г
<input type="text"/>	<input type="text"/>	<input type="text"/>	<input type="text"/>

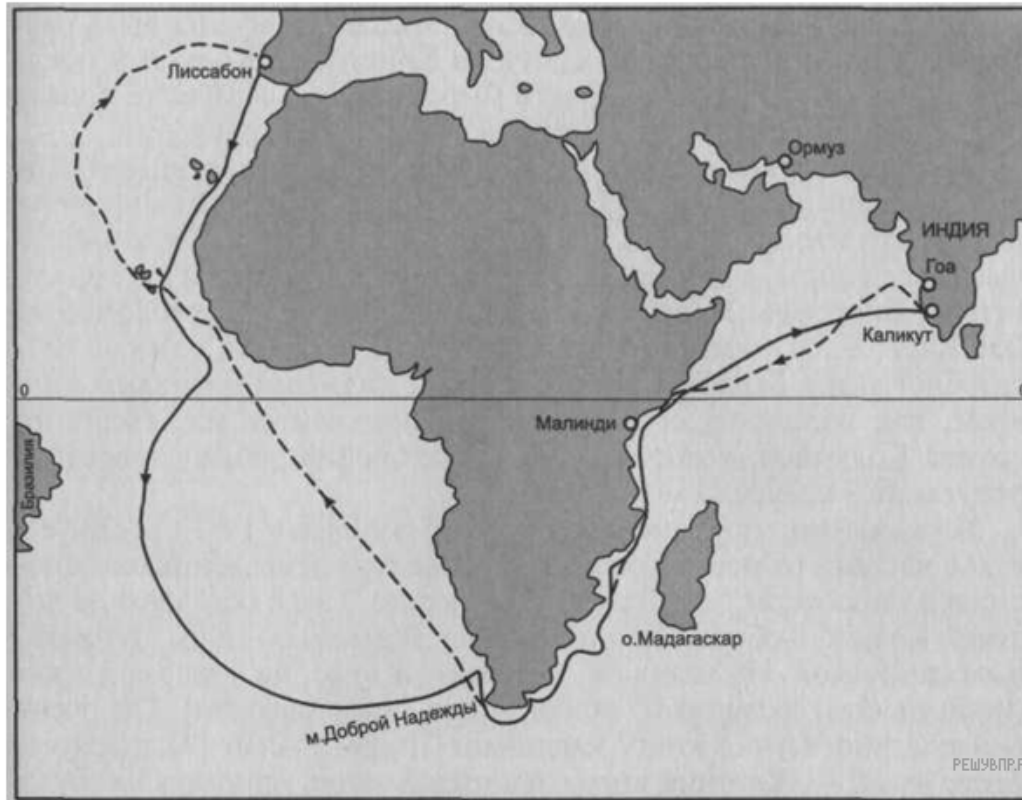


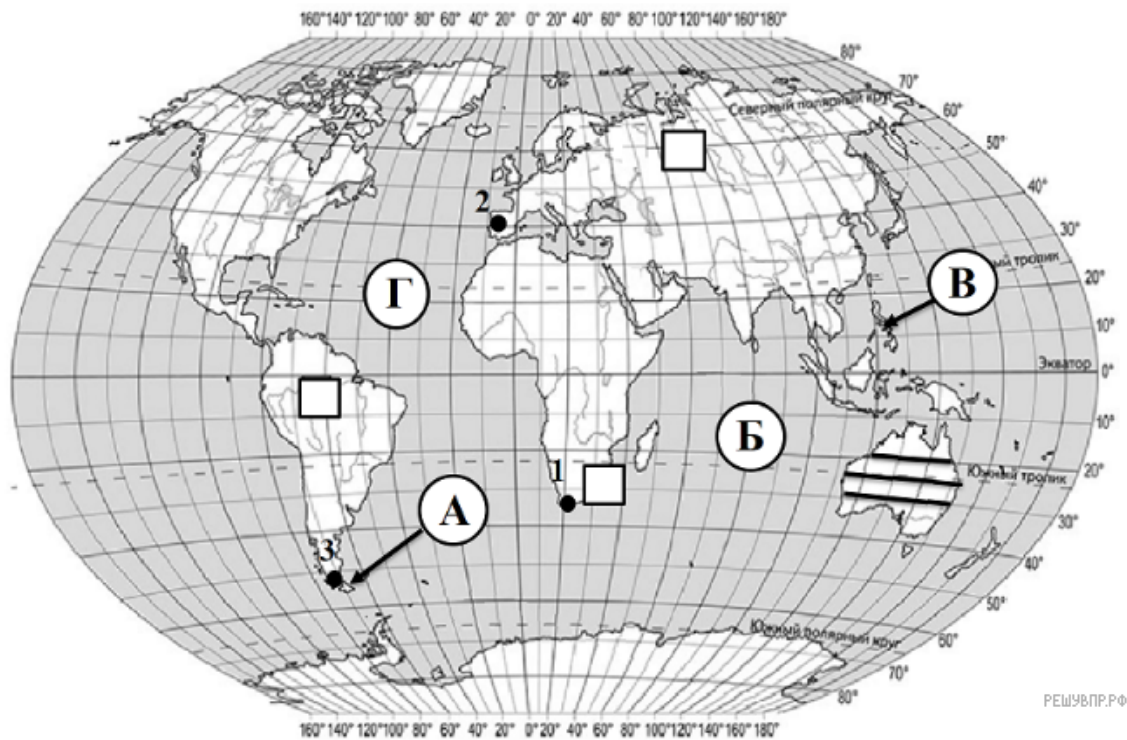


Карта составлена по состоянию на 01.01.2019

5. На карте буквами обозначены крупные объекты, определяющие географическое положение материка, по которому проходил маршрут экспедиции. Запишите в таблицу названия этих объектов.

А	Б	В	Г
<input type="text"/>	<input type="text"/>	<input type="text"/>	<input type="text"/>



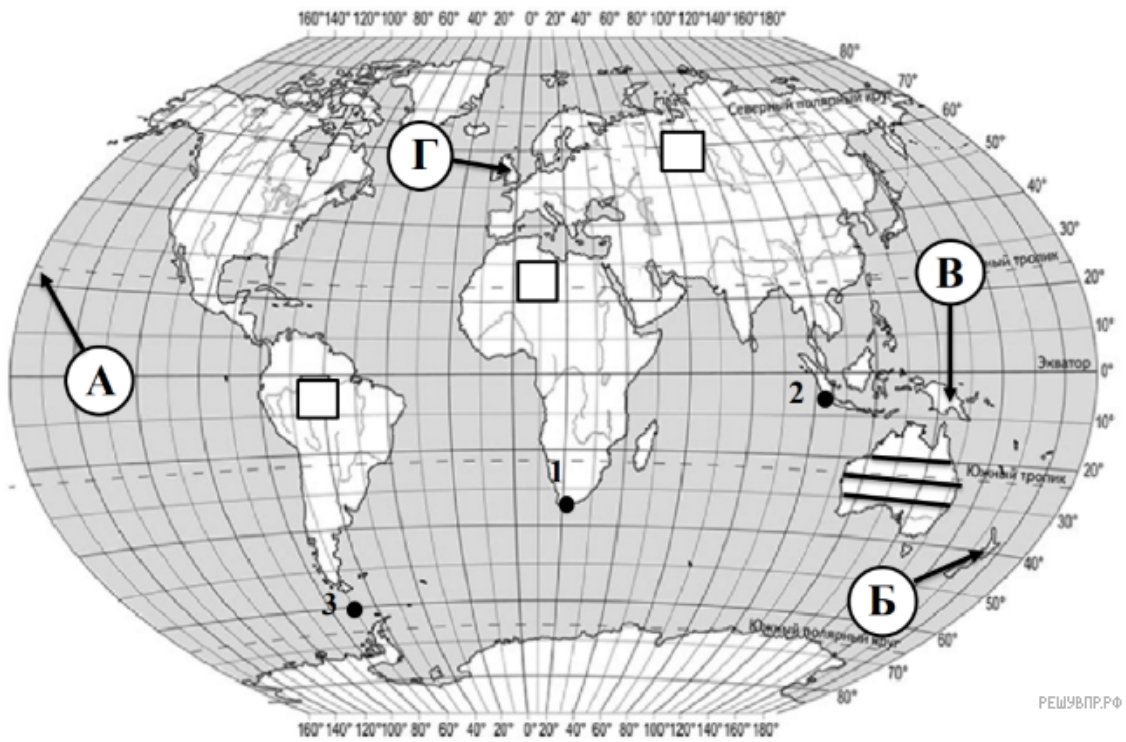


Карта составлена по состоянию на 01.01.2019

6. На карте буквами обозначены крупные объекты, определяющие географическое положение материка, по которому проходил маршрут экспедиции. Запишите в таблицу названия этих объектов.

А	Б	В	Г



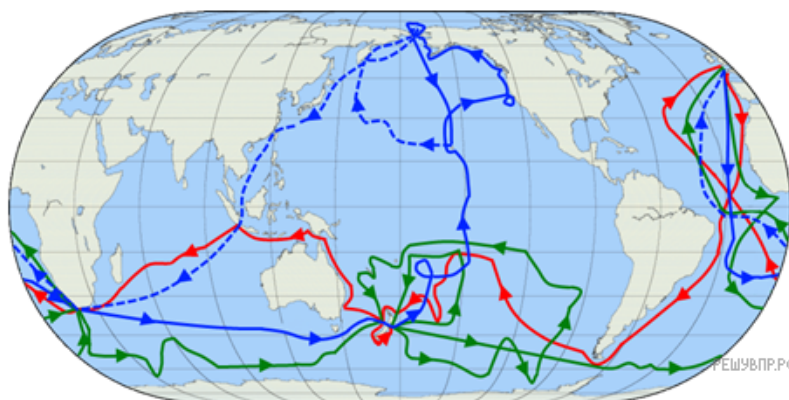


РЕШУ ВПР.РФ

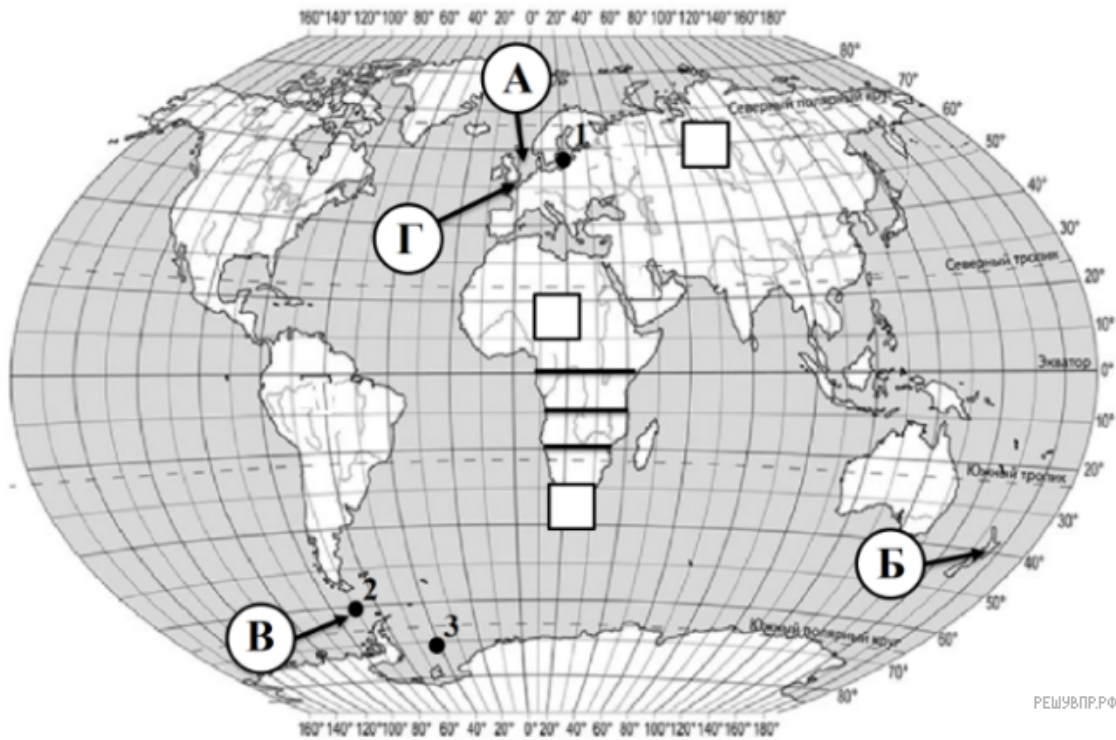
Карта составлена по состоянию на 01.01.2019

7. На карте буквами обозначены крупные объекты, определяющие географическое положение материка, по которому проходил маршрут экспедиции. Запишите в таблицу названия этих объектов.

А	Б	В	Г



РЕШУ ВПР.РФ



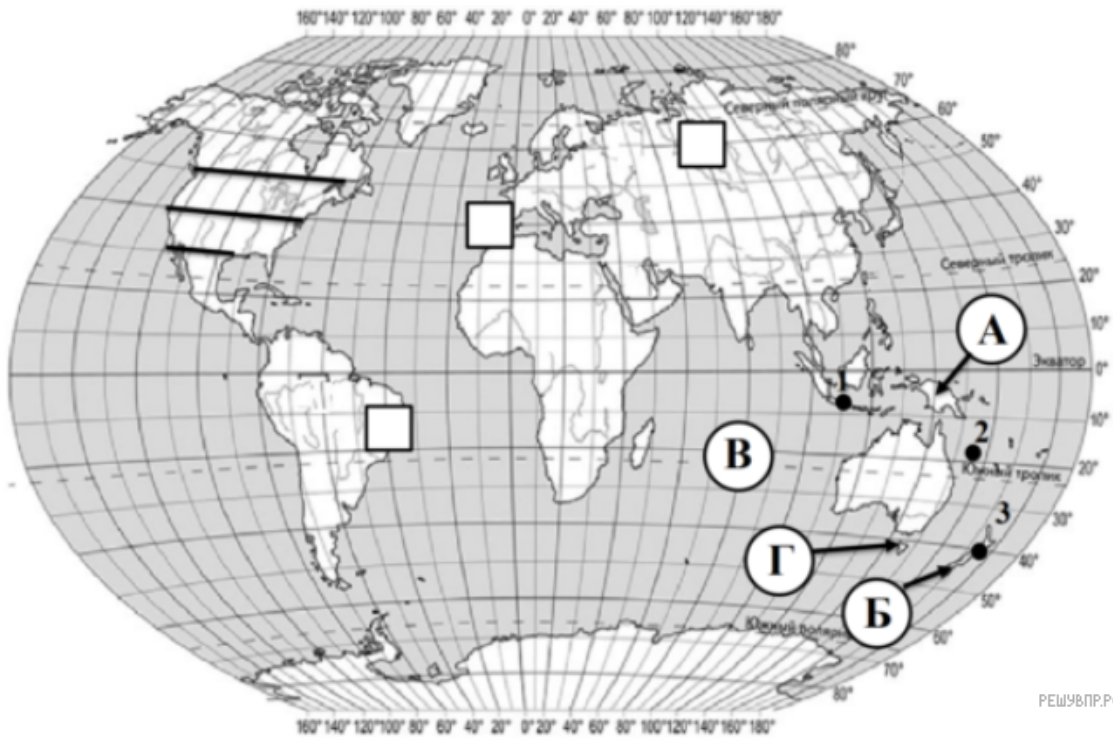
РЕШУ ВПР.РФ

Карта составлена по состоянию на 01.01.2019

8. На карте буквами обозначены крупные объекты, через которые проходило плавание, изображенное на рисунке. Запишите в таблицу названия этих объектов.

А	Б	В	Г

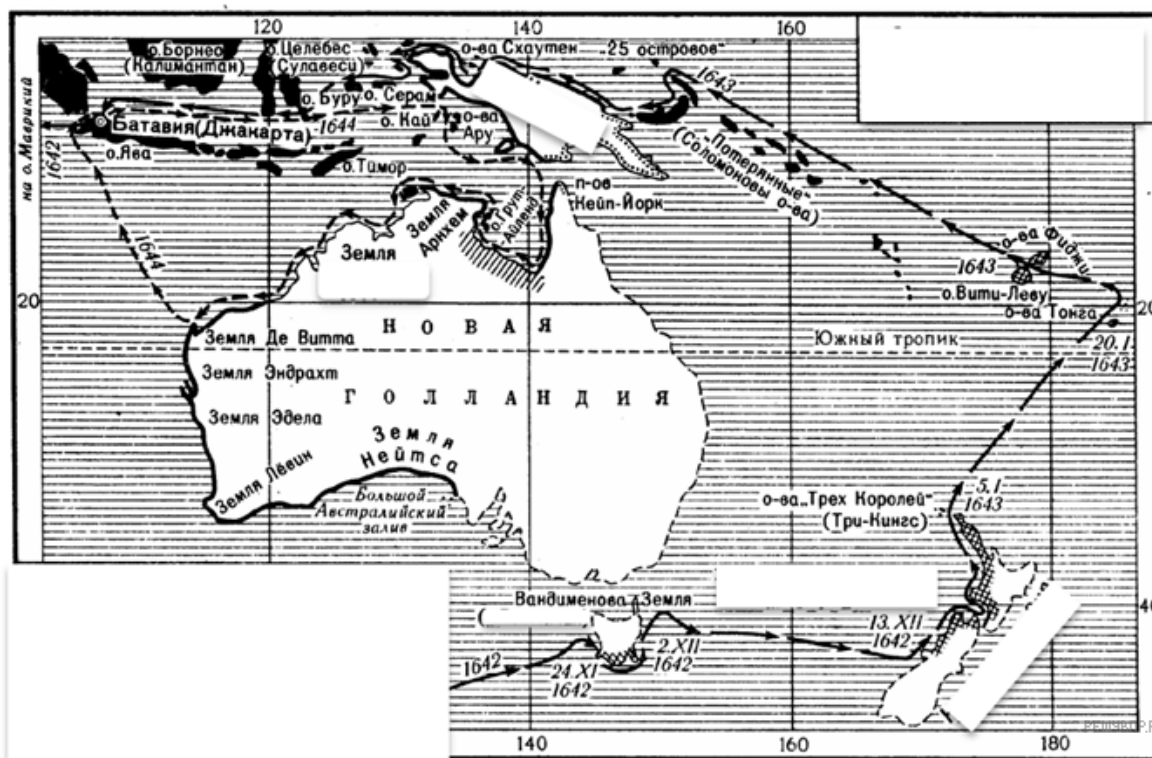


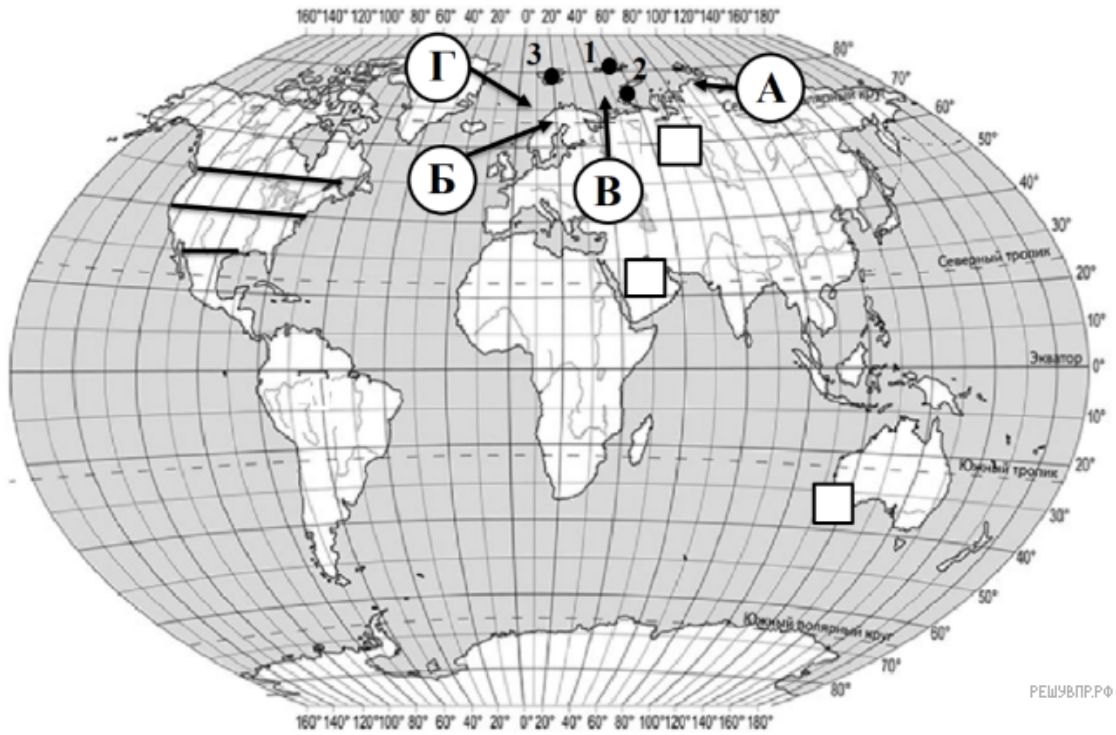


Карта составлена по состоянию на 01.01.2019

10. На карте буквами обозначены крупные объекты, через которые проходило плавание, изображенное на рисунке. Запишите в таблицу названия этих объектов.

А	Б	В	Г



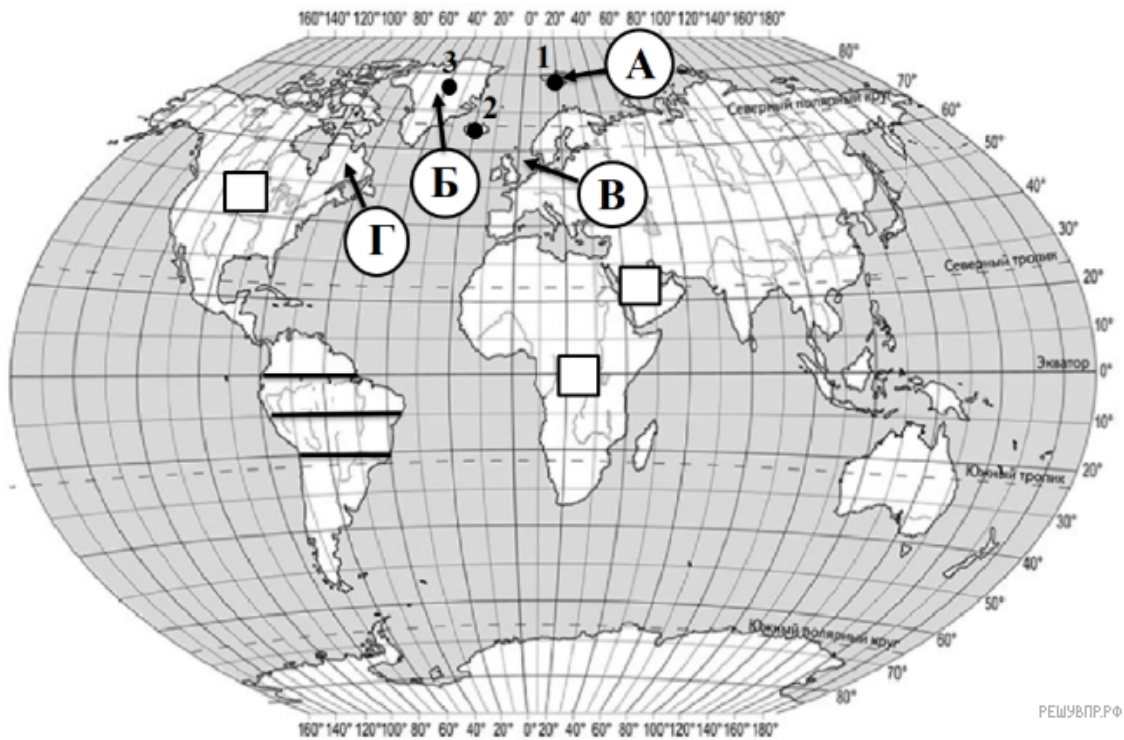


Карта составлена по состоянию на 01.01.2019

11. На карте буквами обозначены крупные объекты, через которые проходило плавание, изображенное на рисунке. Запишите в таблицу названия этих объектов.

А	Б	В	Г



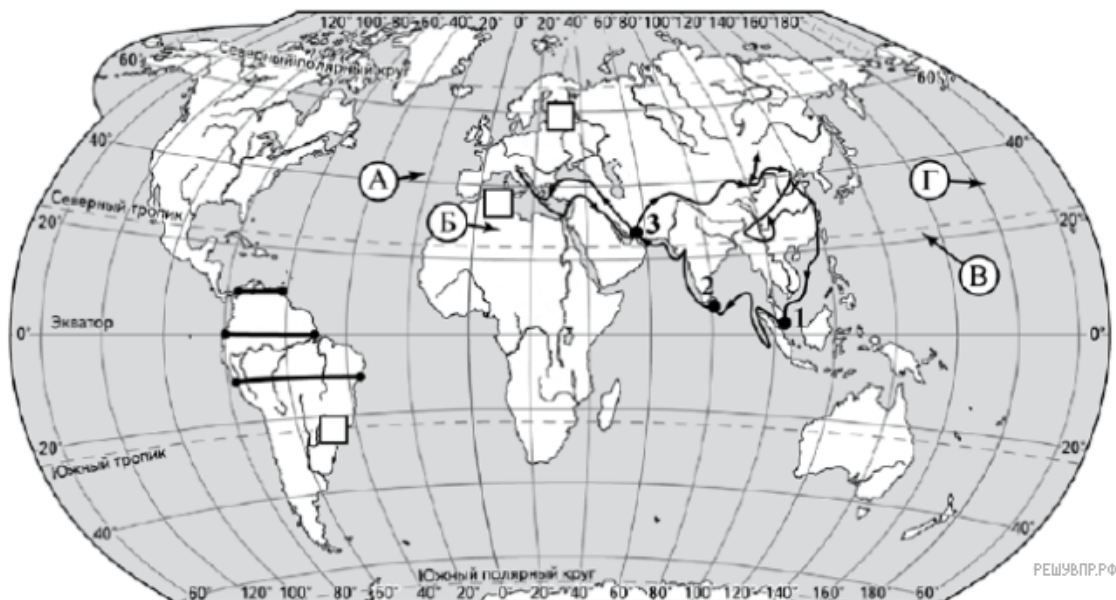


Карта составлена по состоянию на 01.01.2019

12. На карте буквами обозначены крупные объекты, через которые проходило плавание, изображенное на рисунке. Запишите в таблицу названия этих объектов.

А	Б	В	Г
<input type="text"/>	<input type="text"/>	<input type="text"/>	<input type="text"/>



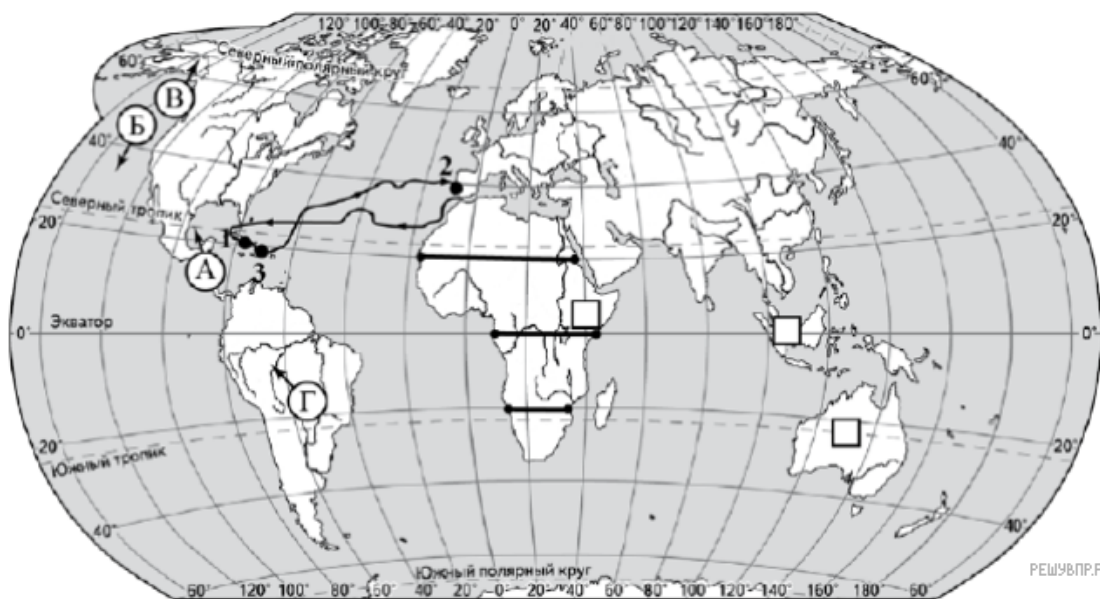


РЕШУ ВПР.РФ

Карта составлена по состоянию на 01.01.2019

13. На карте буквами обозначены объекты, определяющие географическое положение материка, по которому проходил маршрут экспедиции. Запишите в таблицу названия этих объектов.

А	Б	В	Г
<input type="text"/>	<input type="text"/>	<input type="text"/>	<input type="text"/>

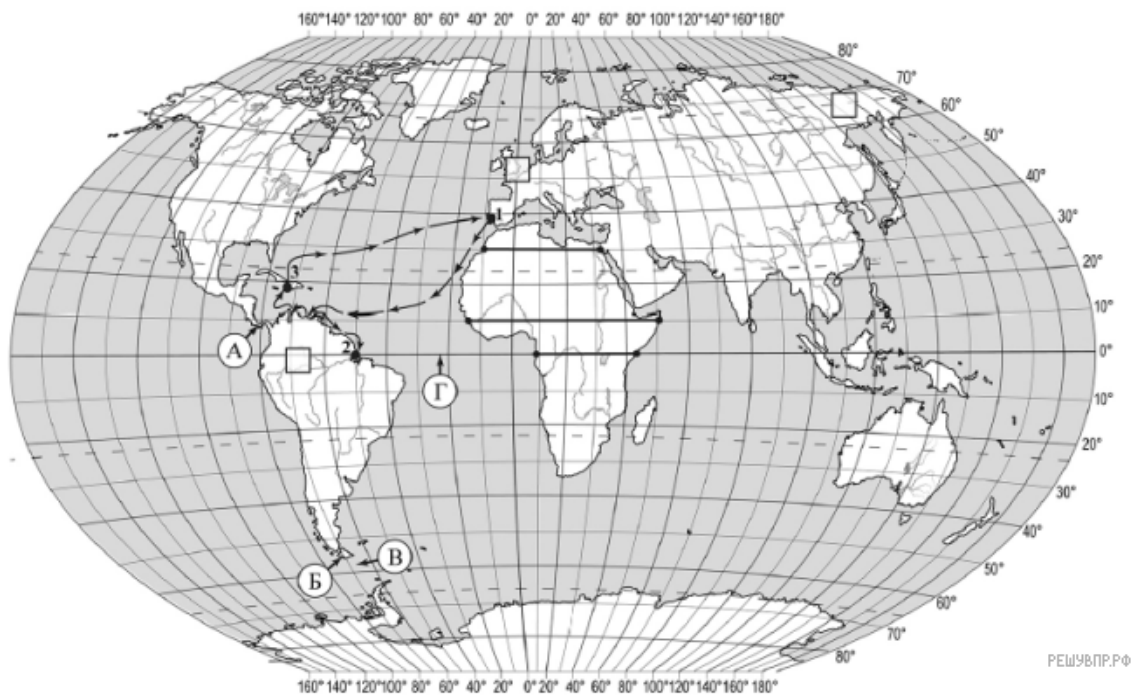


РЕШУ ВПР.РФ

Карта составлена по состоянию на 01.01.2019

14. На карте буквами обозначены объекты, определяющие географическое положение материка, к берегам которого направлялась экспедиция. Запишите в таблицу названия этих объектов.

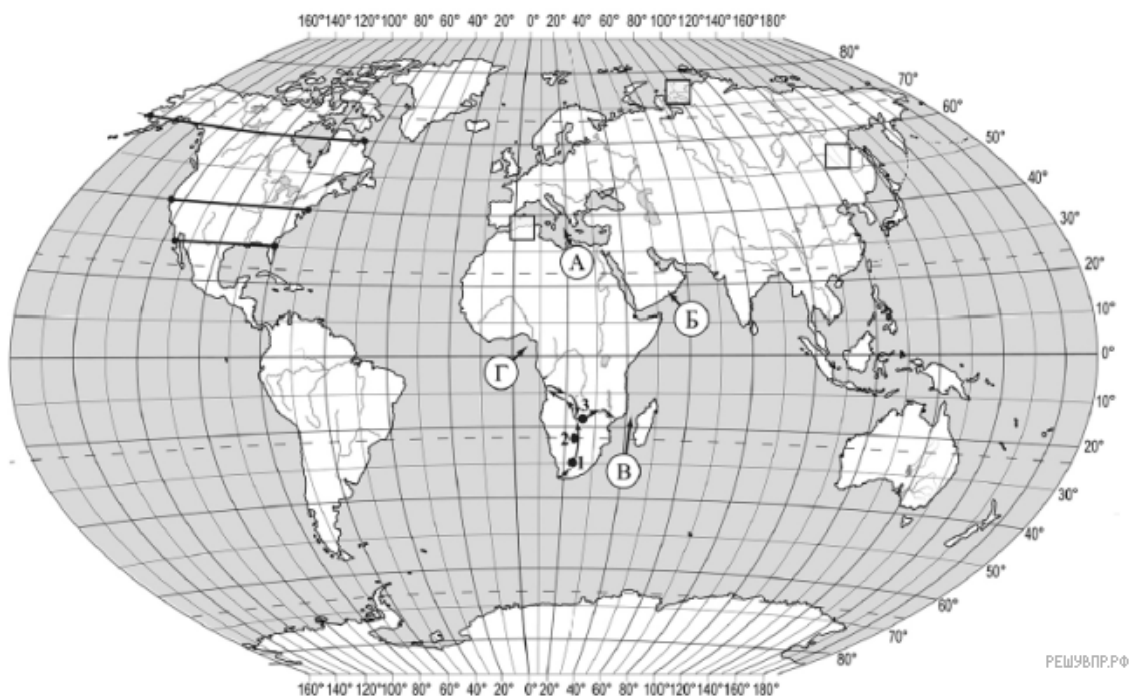
А	Б	В	Г
<input type="text"/>	<input type="text"/>	<input type="text"/>	<input type="text"/>



Карта составлена по состоянию на 01.01.2019

15. На карте буквами обозначены объекты, определяющие географическое положение указанного Вами материка. Запишите в таблицу названия этих объектов.

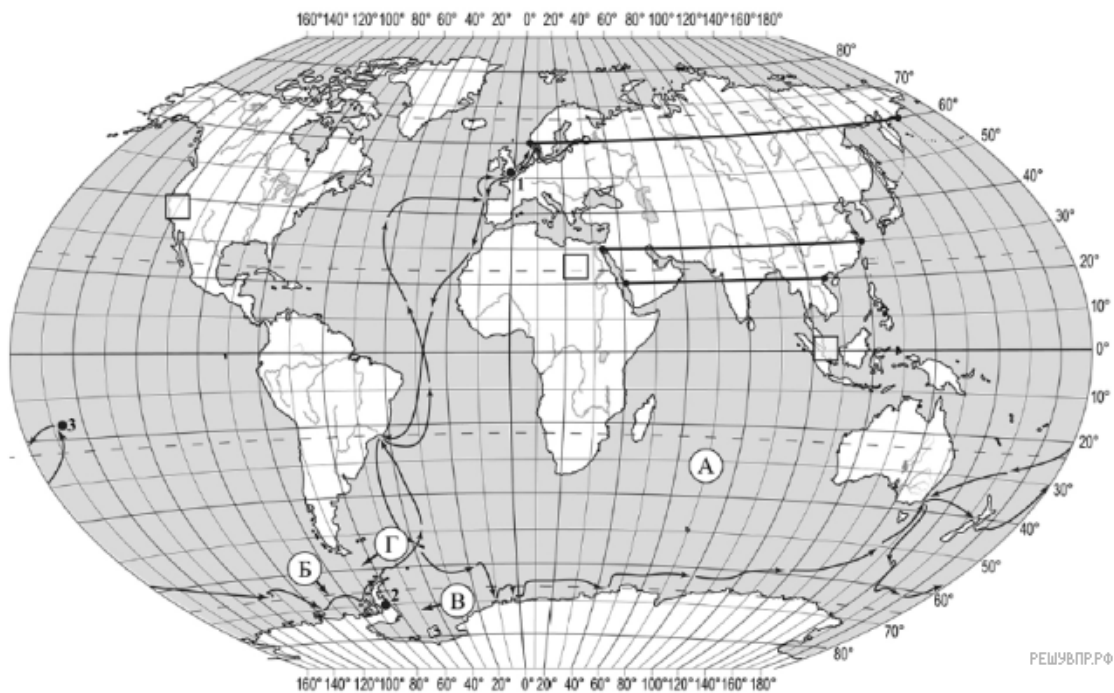
А	Б	В	Г
<input type="text"/>	<input type="text"/>	<input type="text"/>	<input type="text"/>



Карта составлена по состоянию на 01.01.2019

16. На карте буквами обозначены объекты, определяющие географическое положение указанного Вами материка. Запишите в таблицу названия этих объектов.

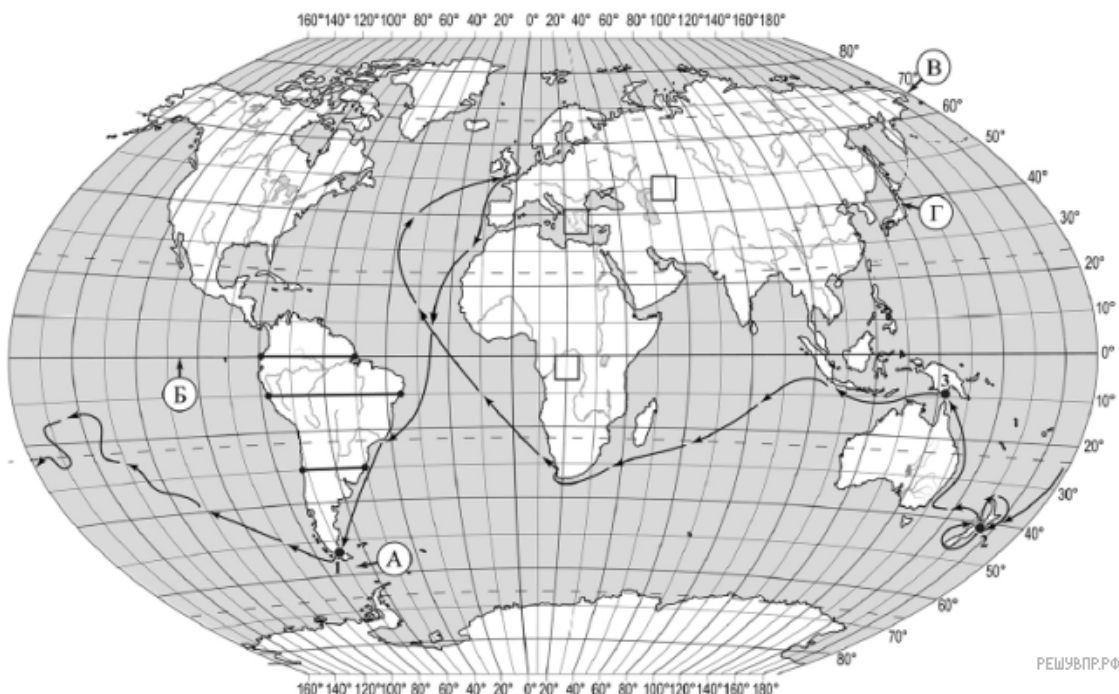
А	Б	В	Г
<input type="text"/>	<input type="text"/>	<input type="text"/>	<input type="text"/>



Карта составлена по состоянию на 01.01.2019

17. На карте буквами обозначены объекты, определяющие географическое положение указанного Вами материка. Запишите в таблицу названия этих объектов.

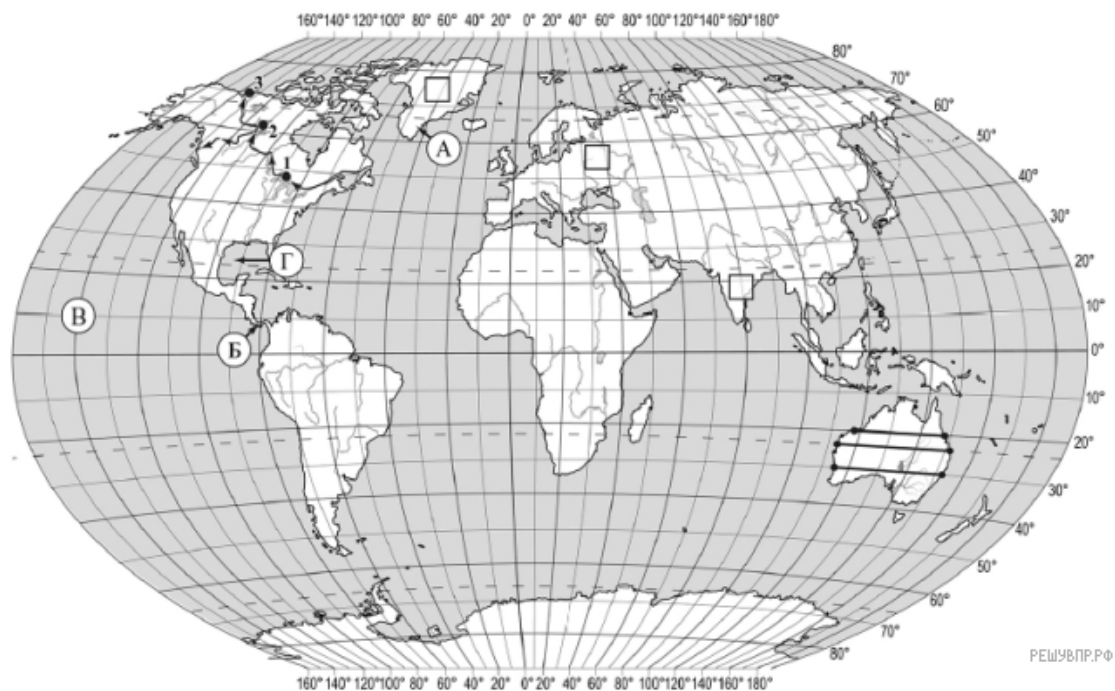
А	Б	В	Г
<input type="text"/>	<input type="text"/>	<input type="text"/>	<input type="text"/>



Карта составлена по состоянию на 01.01.2019

18. На карте буквами обозначены объекты, определяющие географическое положение указанного Вами океана. Запишите в таблицу названия этих объектов.

А	Б	В	Г
<input type="text"/>	<input type="text"/>	<input type="text"/>	<input type="text"/>



РЕШУВПР.РФ

Карта составлена по состоянию на 01.01.2019

19. На карте буквами обозначены объекты, определяющие географическое положение указанного Вами материка. Запишите в таблицу названия этих объектов.

А	Б	В	Г
<input type="text"/>	<input type="text"/>	<input type="text"/>	<input type="text"/>

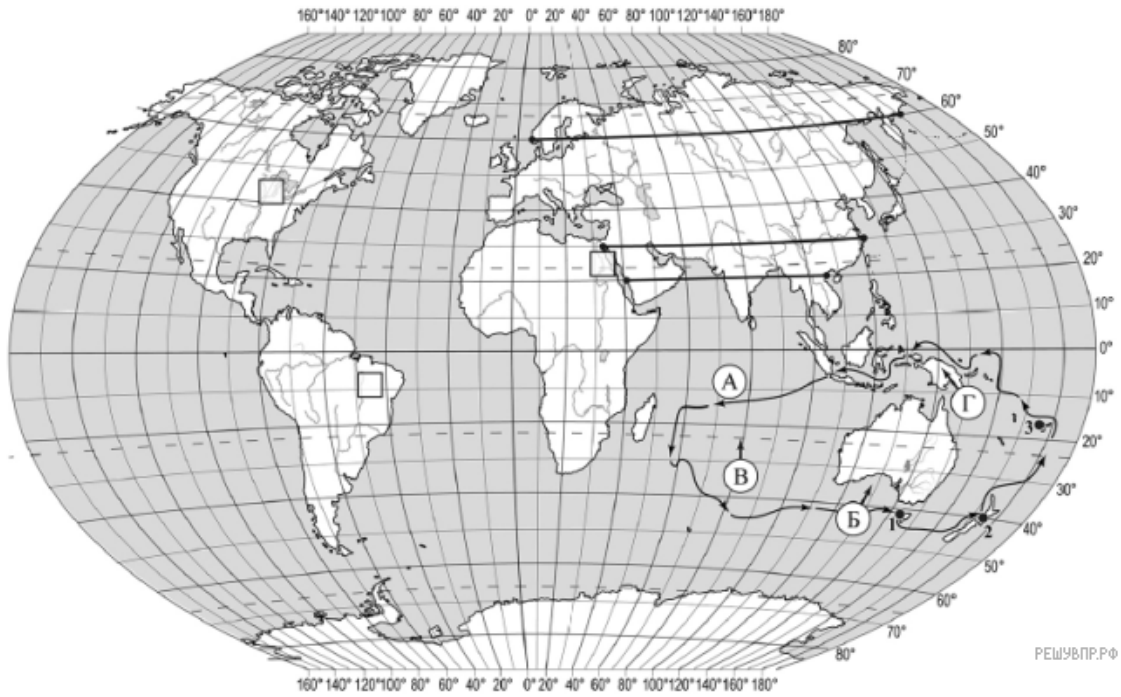


РЕШУВПР.РФ

Карта составлена по состоянию на 01.01.2019

20. На карте буквами обозначены объекты, определяющие географическое положение указанного Вами материка. Запишите в таблицу названия этих объектов.

А	Б	В	Г
<input type="text"/>	<input type="text"/>	<input type="text"/>	<input type="text"/>

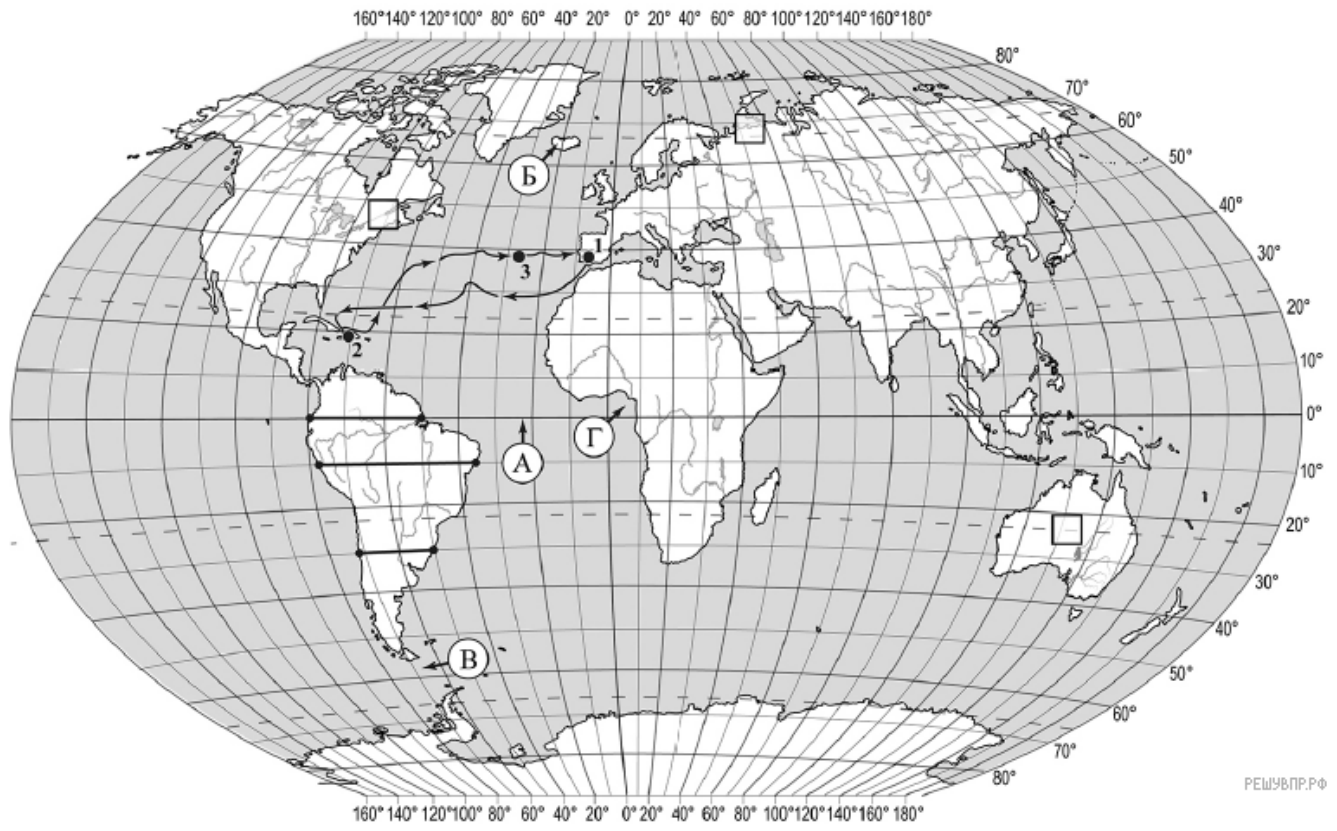


РЕШУВП.РФ

Карта составлена по состоянию на 01.01.2019

21. На карте буквами обозначены объекты, определяющие географическое положение указанного Вами материка. Запишите в таблицу названия этих объектов.

А	Б	В	Г
<input type="text"/>	<input type="text"/>	<input type="text"/>	<input type="text"/>

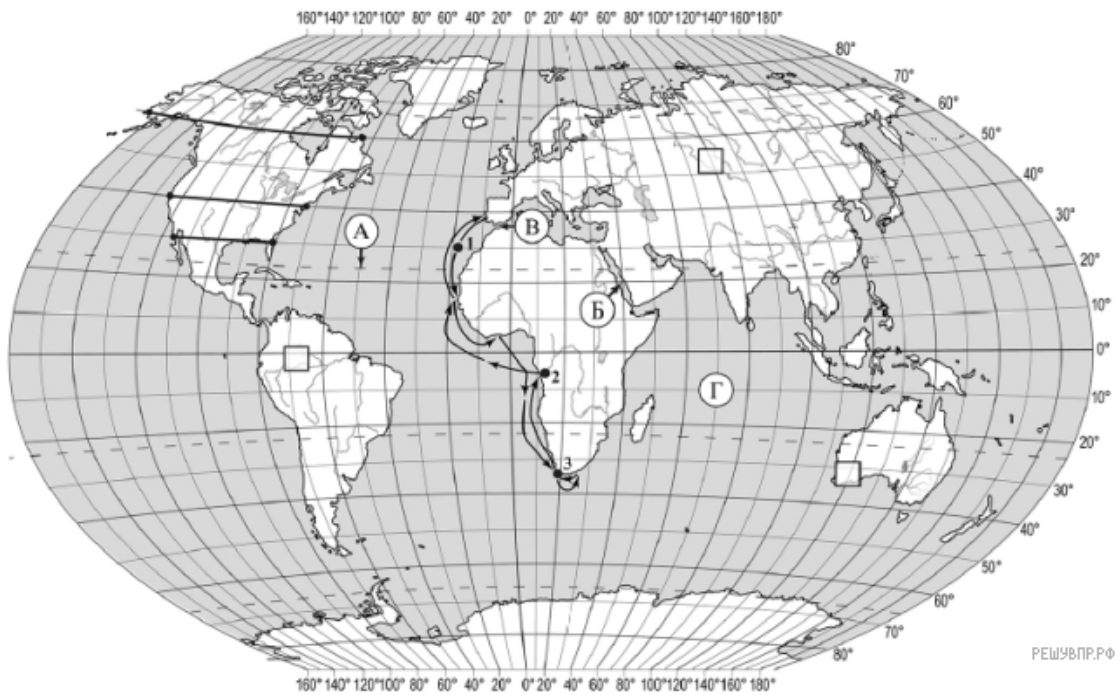


РЕШУВП.РФ

Карта составлена по состоянию на 01.01.2019

22. На карте буквами обозначены объекты, определяющие географическое положение указанного Вами океана. Запишите в таблицу названия этих объектов.

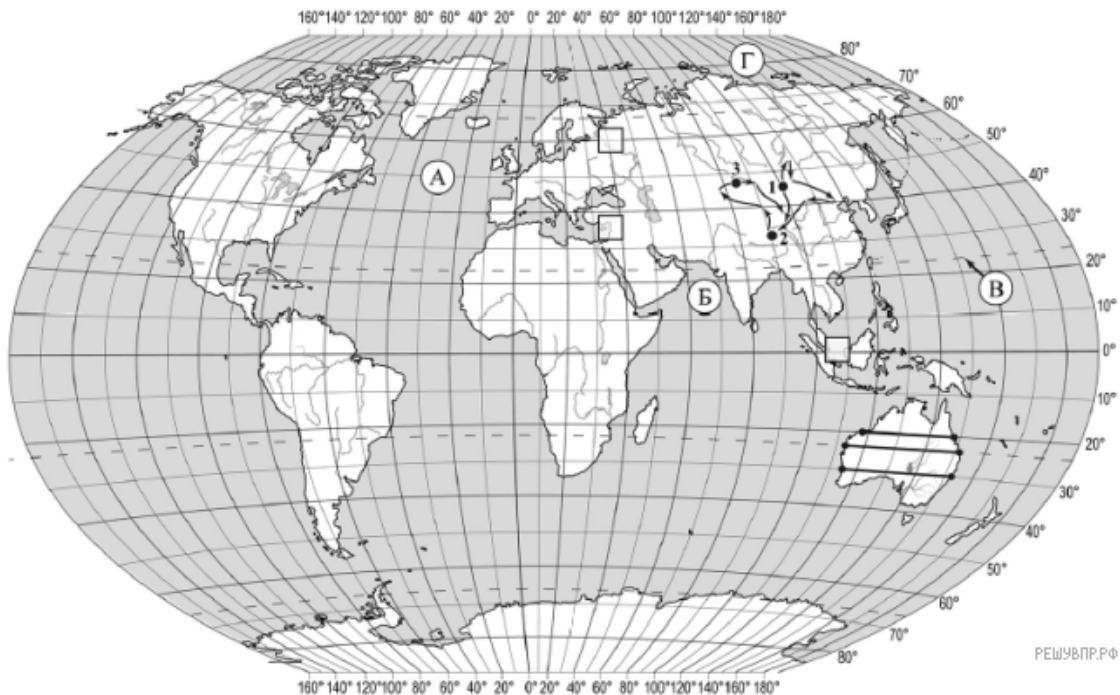
А	Б	В	Г



Карта составлена по состоянию на 01.01.2019

23. На карте буквами обозначены объекты, определяющие географическое положение указанного Вами материка. Запишите в таблицу названия этих объектов.

А	Б	В	Г



Карта составлена по состоянию на 01.01.2019

24. На карте буквами обозначены объекты, определяющие географическое положение указанного Вами материка. Запишите в таблицу названия этих объектов.

А	Б	В	Г

Для выполнения задания приводим текст задания 1.1:

На карте мира изображён маршрут экспедиции одного из путешественников, портреты которых представлены ниже. Рассмотрите карту и портреты путешественников и выполните задания. Маршрут экспедиции кого из путешественников изображён на карте?



Александр Маккензи

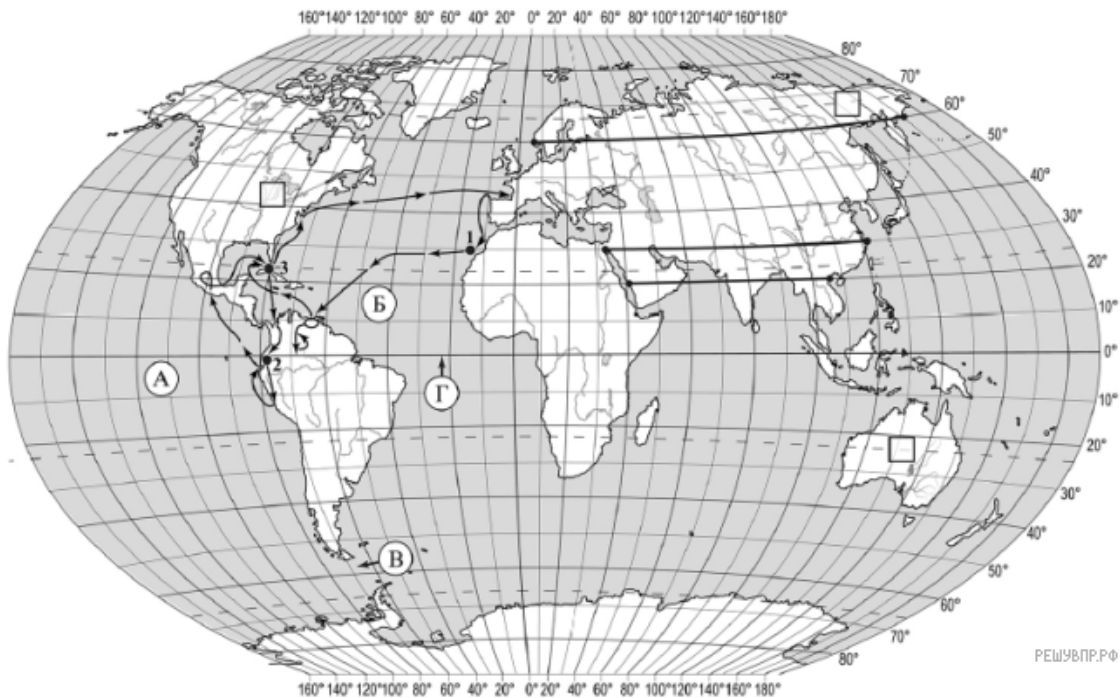


Н.М. Пржевальский



РЕШУВР.РФ
Давид Ливингстон

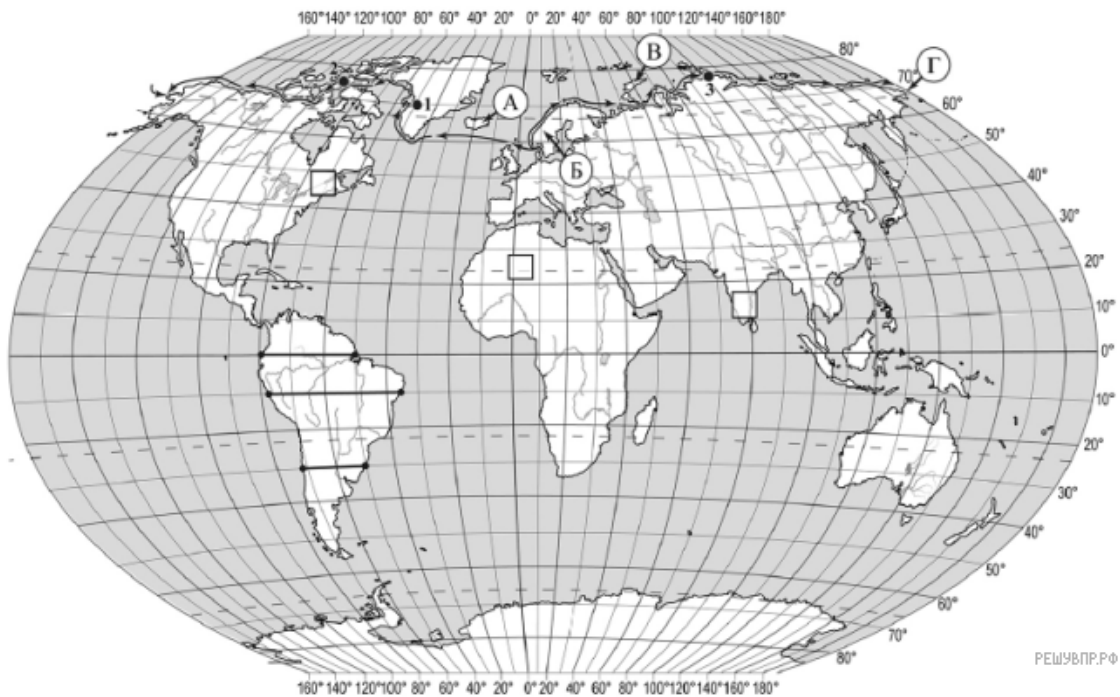
Подпишите на карте название материка, по которому проходил маршрут экспедиции.



Карта составлена по состоянию на 01.01.2019

25. На карте буквами обозначены объекты, определяющие географическое положение указанного Вами материка. Запишите в таблицу названия этих объектов.

А	Б	В	Г



Карта составлена по состоянию на 01.01.2019

26. На карте буквами обозначены объекты, определяющие географическое положение указанного Вами океана. Запишите в таблицу названия этих объектов.

А	Б	В	Г
<input type="text"/>	<input type="text"/>	<input type="text"/>	<input type="text"/>

Для выполнения задание приводим текст задания 1.1:

На карте мира изображён маршрут экспедиции одного из путешественников, портреты которых представлены ниже. Рассмотрите карту и портреты путешественников и выполните задания.

Маршрут экспедиции кого из путешественников изображён на карте?



Руаль Амундсен

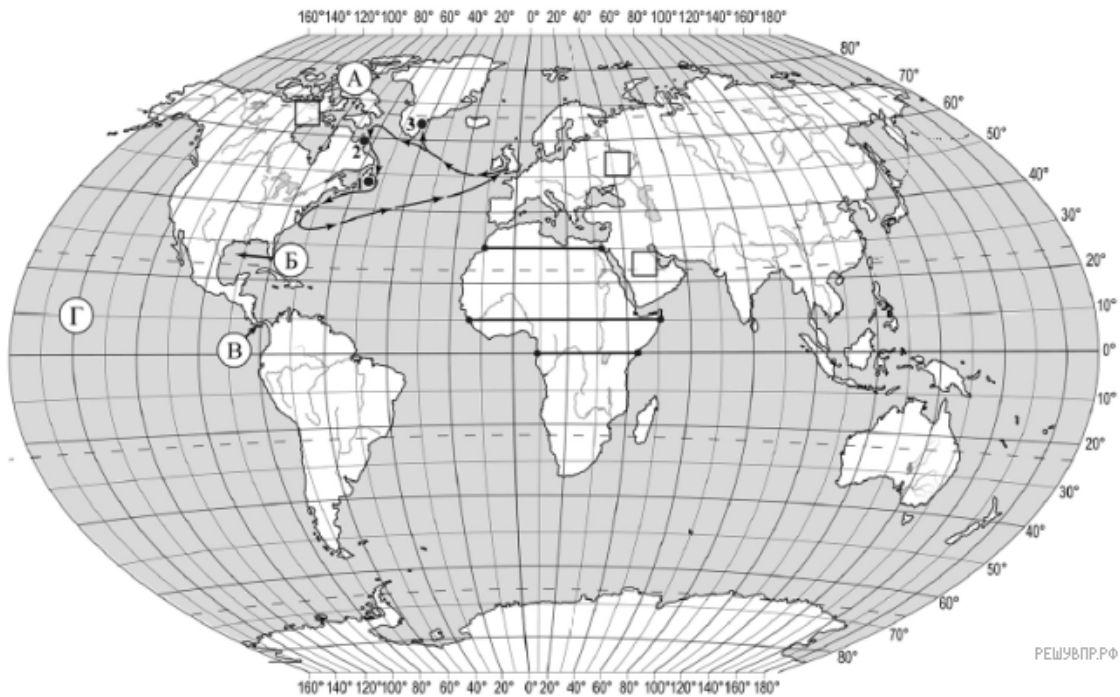


Абель Тасман



Александр Гумбольдт

Подпишите на карте название океана, по которому проходил маршрут экспедиции.



РЕШУВПР.РФ

Карта составлена по состоянию на 01.01.2019

27. На карте буквами обозначены объекты, определяющие географическое положение указанного Вами материка. Запишите в таблицу названия этих объектов.

А	Б	В	Г
<input type="text"/>	<input type="text"/>	<input type="text"/>	<input type="text"/>

Для выполнения задание приводим текст задания 1.1:

На карте мира изображён маршрут экспедиции одного из путешественников, портреты которых представлены ниже. Рассмотрите карту и портреты путешественников и выполните задания.

Маршрут экспедиции кого из путешественников изображён на карте?



Александр Маккензи



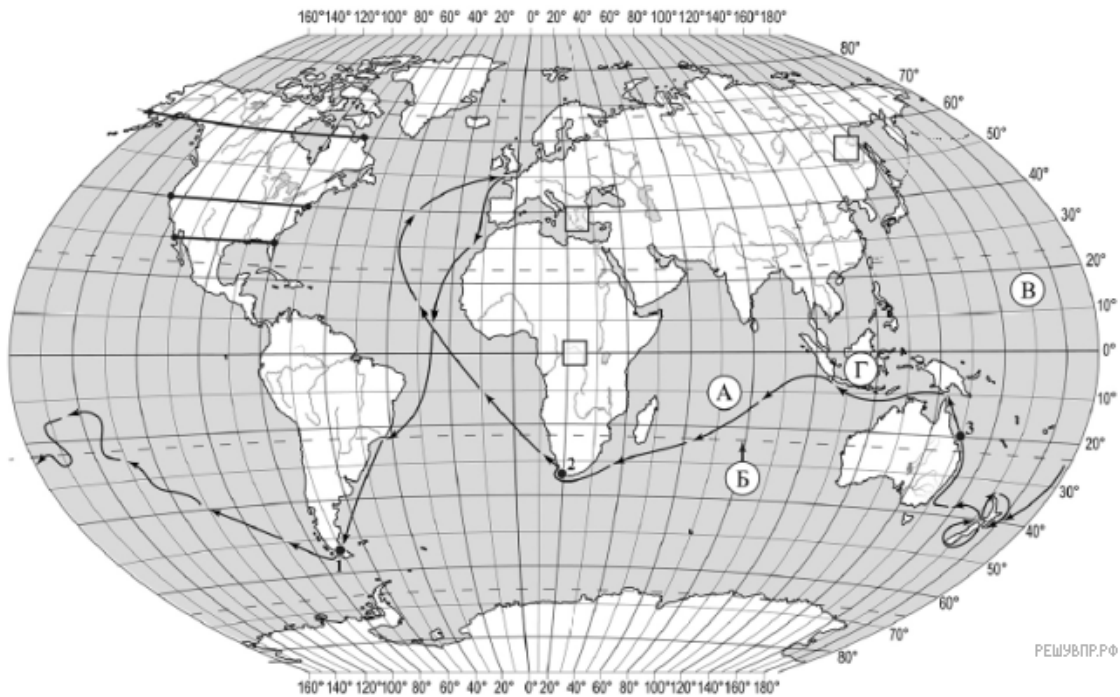
Джон Кабот



П.П. Семёнов-Тян-Шанский

РЕШУВПР.РФ

Подпишите на карте название материка, вдоль берегов которого проходил маршрут экспедиции.



Карта составлена по состоянию на 01.01.2019

28. На карте буквами обозначены объекты, определяющие географическое положение материка, по которому проходил маршрут экспедиции. Запишите в таблицу названия этих объектов.


А	Б	В	Г

Для выполнения задание приводим текст задания 1.1:

На карте мира изображён маршрут экспедиции одного из путешественников, портреты которых представлены ниже. Рассмотрите карту и портреты путешественников и выполните задания. Маршрут экспедиции кого из путешественников изображён на карте?



Джеймс Кук

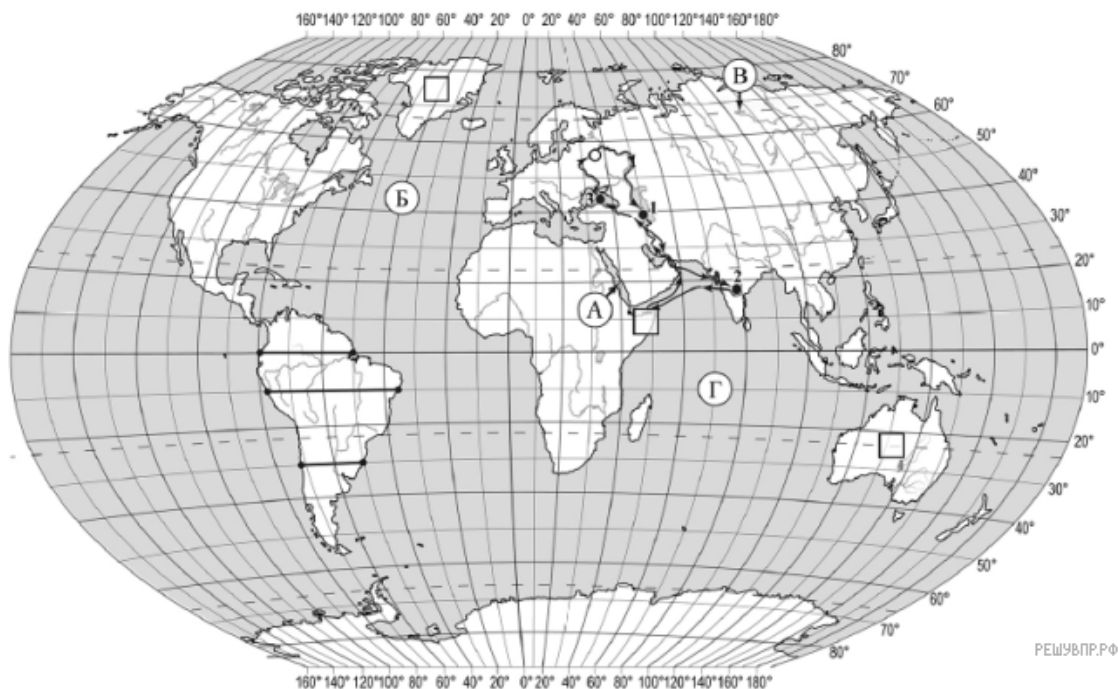


Афанасий Никитин



Н.М. Пржевальский

Подпишите на карте название материка, который был исследован этой экспедицией.



Карта составлена по состоянию на 01.01.2019

29. На карте буквами обозначены объекты, определяющие географическое положение указанного Вами материка. Запишите в таблицу названия этих объектов.

А	Б	В	Г
<input type="text"/>	<input type="text"/>	<input type="text"/>	<input type="text"/>

Для выполнения задание приводим текст задания 1.1:


На карте мира изображён маршрут экспедиции одного из путешественников, портреты которых представлены ниже. Рассмотрите карту и портреты путешественников и выполните задания. Маршрут экспедиции кого из путешественников изображён на карте?



Александр Гумбольдт



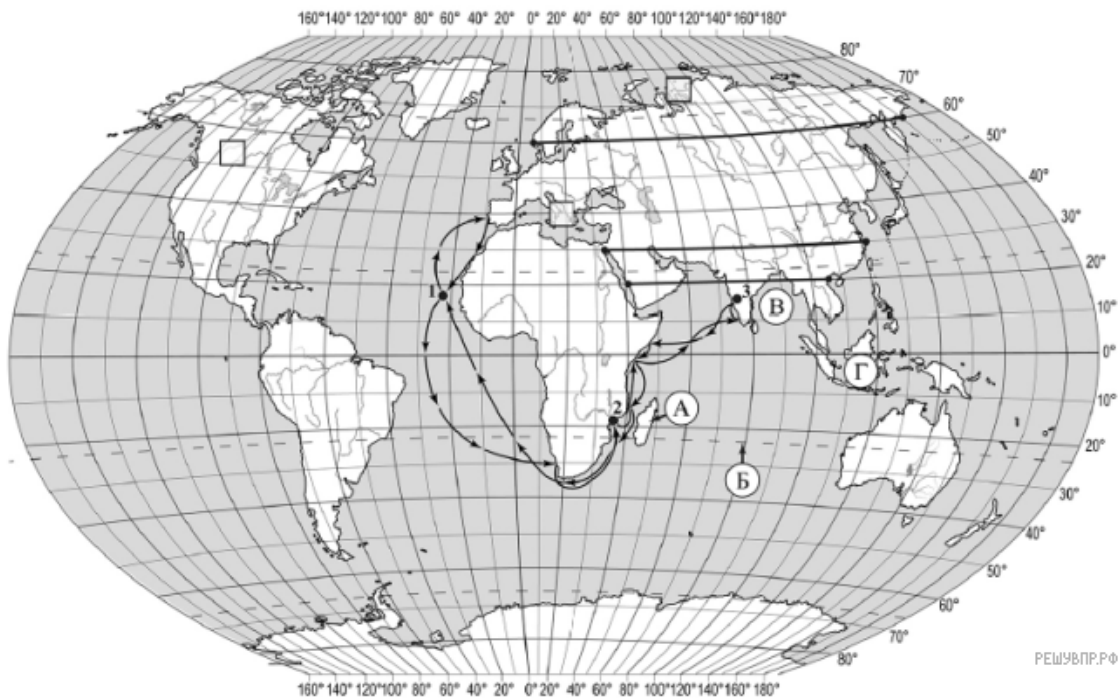
Г.И. Шелихов



Афанасий Никитин

РЕШУ.В.П.Р.Ф

Подпишите на карте название материка, по территории которого проходил маршрут экспедиции.



Карта составлена по состоянию на 01.01.2019

30. На карте буквами обозначены объекты, определяющие географическое положение указанного Вами океана. Запишите в таблицу названия этих объектов.

А	Б	В	Г
<input type="text"/>	<input type="text"/>	<input type="text"/>	<input type="text"/>

Для выполнения задание приводим текст задания 1.1:

На карте мира изображён маршрут экспедиции одного из путешественников, портреты которых представлены ниже. Рассмотрите карту и портреты путешественников и выполните задания.

Маршрут экспедиции кого из путешественников изображён на карте?



Джон Кабот



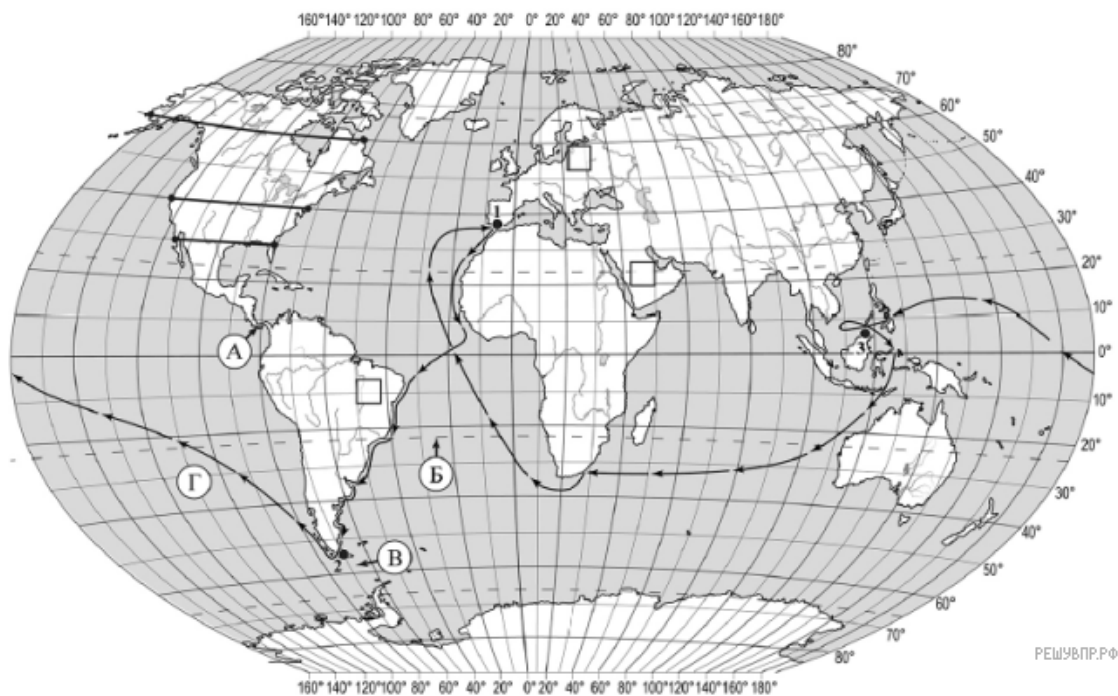
Александр Маккензи



Васко да Гама

РЕШУ ВПР.РФ

Подпишите на карте название океана, которого удалось достичь этой экспедиции.



Карта составлена по состоянию на 01.01.2019

31. На карте буквами обозначены объекты, определяющие географическое положение указанного Вами материка. Запишите в таблицу названия этих объектов.

А	Б	В	Г
<input type="text"/>	<input type="text"/>	<input type="text"/>	<input type="text"/>

Для выполнения задание приводим текст задания 1.1:

На карте мира изображён маршрут экспедиции одного из путешественников, портреты которых представлены ниже. Рассмотрите карту и портреты путешественников и выполните задания.

Маршрут экспедиции кого из путешественников изображён на карте?



Фернан Магеллан



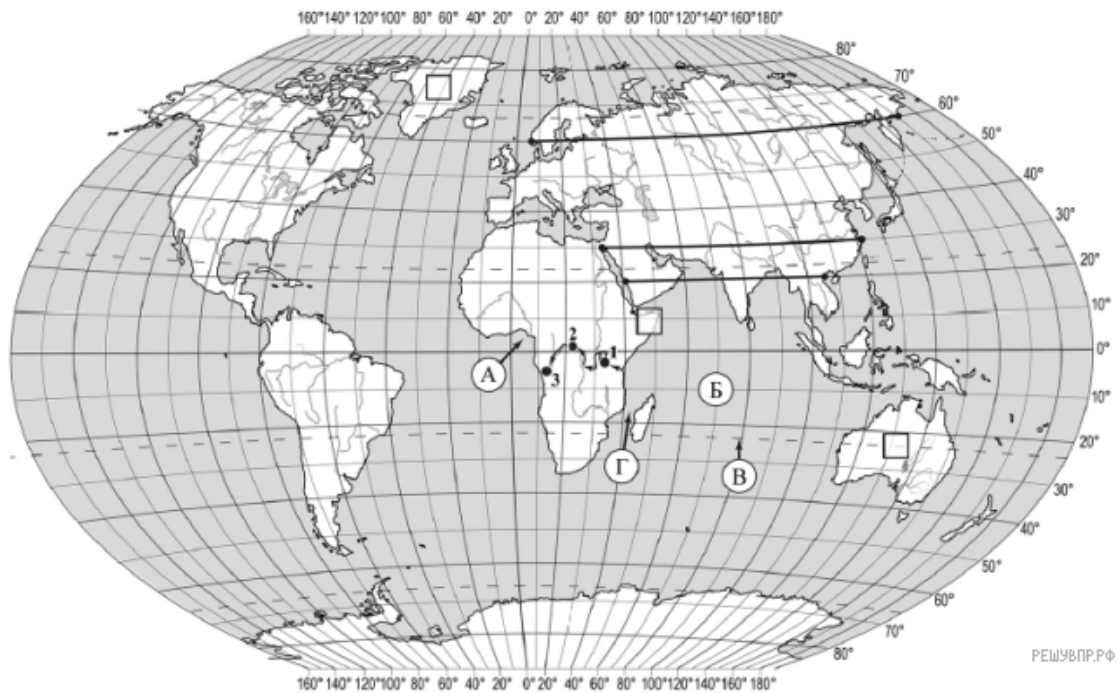
Абель Тасман



Христофор Колумб

РЕШУ ВПР.РФ

Подпишите на карте название материка, который эта экспедиция обогнула с юга, пройдя через узкий пролив.



Карта составлена по состоянию на 01.01.2019

32. На карте буквами обозначены объекты, определяющие географическое положение указанного Вами материка. Запишите в таблицу названия этих объектов.

А	Б	В	Г
<input type="text"/>	<input type="text"/>	<input type="text"/>	<input type="text"/>

Для выполнения задание приводим текст задания 1.1:

На карте мира изображён маршрут экспедиции одного из путешественников, портреты которых представлены ниже. Рассмотрите карту и портреты путешественников и выполните задания.

Маршрут экспедиции кого из путешественников изображён на карте?



Америго Вестуччи

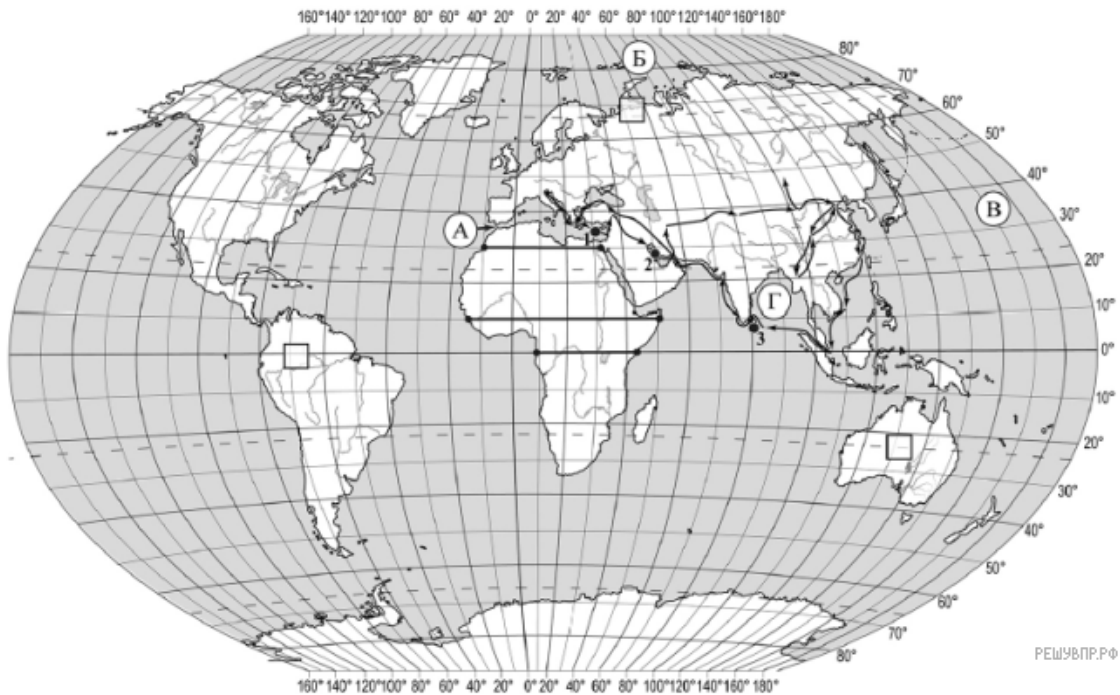


Александр Гумбольдт



Генри Стэнли

Подпишите на карте название материка, по которому проходил маршрут экспедиции.



Карта составлена по состоянию на 01.01.2019

33. На карте буквами обозначены объекты, определяющие географическое положение указанного Вами материка. Запишите в таблицу названия этих объектов.

А	Б	В	Г
<input type="text"/>	<input type="text"/>	<input type="text"/>	<input type="text"/>

Для выполнения задание приводим текст задания 1.1:

На карте мира изображён маршрут экспедиции одного из путешественников, портреты которых представлены ниже. Рассмотрите карту и портреты путешественников и выполните задания.

Маршрут экспедиции кого из путешественников изображён на карте?



Америго Вестуччи



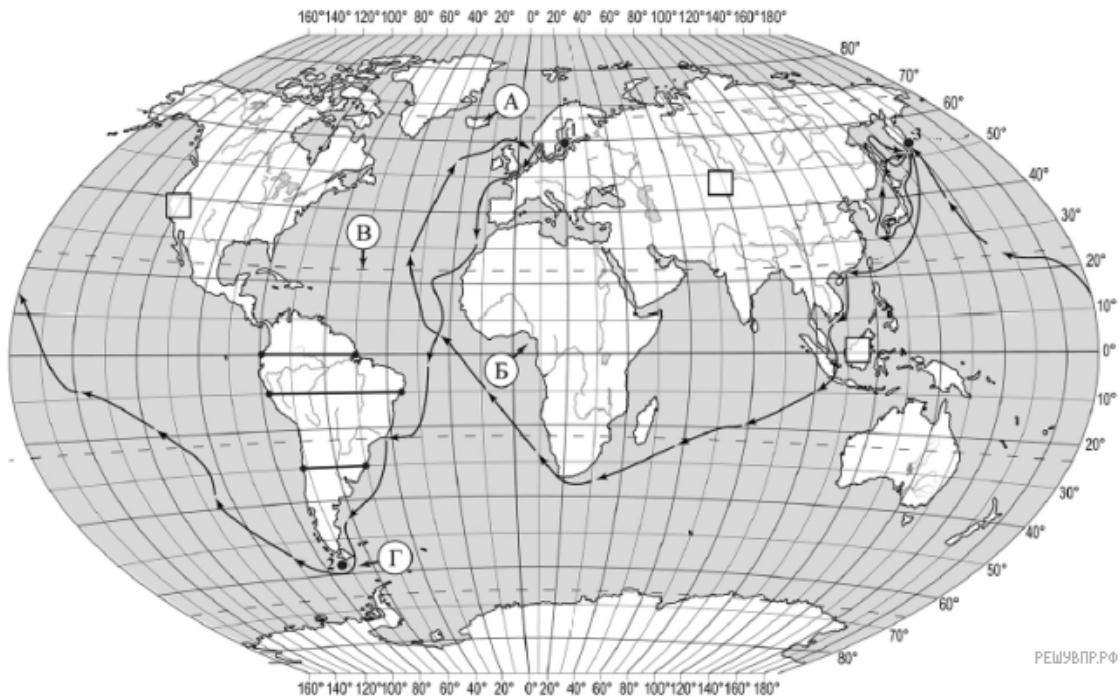
Александр Гумбольдт



Генри Стэнли

РЕШУВПР.РФ

Подпишите на карте название материка, по которому проходил маршрут экспедиции.



Карта составлена по состоянию на 01.01.2019

34. На карте буквами обозначены объекты, определяющие географическое положение указанного Вами океана. Запишите в таблицу названия этих объектов.

А	Б	В	Г
<input type="text"/>	<input type="text"/>	<input type="text"/>	<input type="text"/>

Для выполнения задание приводим текст задания 1.1:

На карте мира изображён маршрут экспедиции одного из путешественников, портреты которых представлены ниже. Рассмотрите карту и портреты путешественников и выполните задания.

Маршрут экспедиции кого из путешественников изображён на карте?



Христофор Колумб



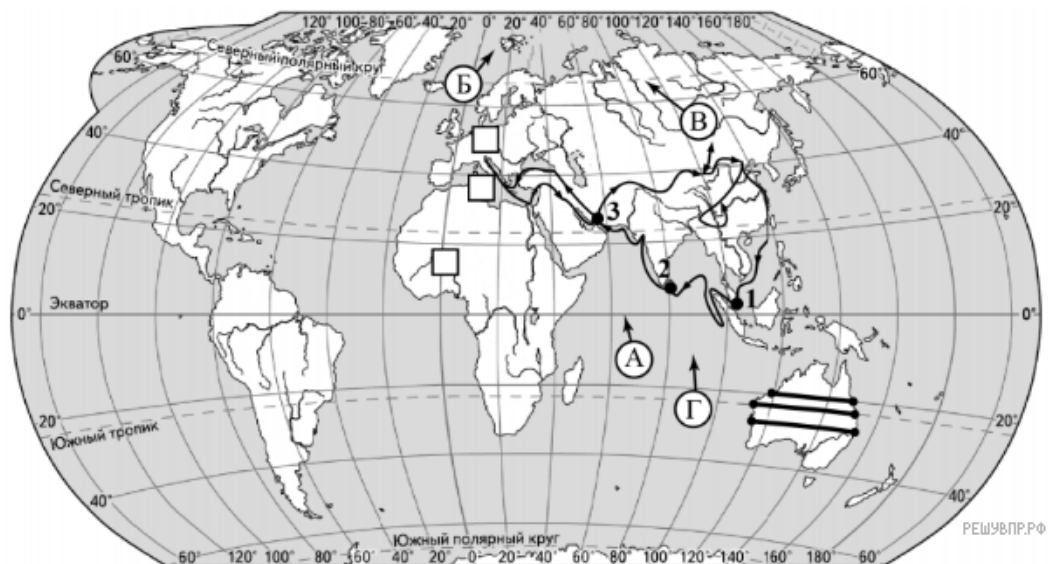
И. Ф. Крузенштерн



Джон Кабот

РЕШУ ВПР.РФ

Подпишите на карте название океана, в котором начинался маршрут этой экспедиции.



Карта составлена по состоянию на 01.01.2020

35. На карте буквами обозначены объекты, определяющие географическое положение материка, по которому проходил маршрут экспедиции. Запишите в таблицу названия этих объектов.

А	Б	В	Г
<input type="text"/>	<input type="text"/>	<input type="text"/>	<input type="text"/>

Для выполнения задание приводим текст задания 1.1:

На карте мира изображён маршрут экспедиции одного из путешественников, портреты которых представлены ниже. Рассмотрите карту и портреты путешественников и выполните задания.

Маршрут экспедиции кого из путешественников изображён на карте?



Христофор Колумб

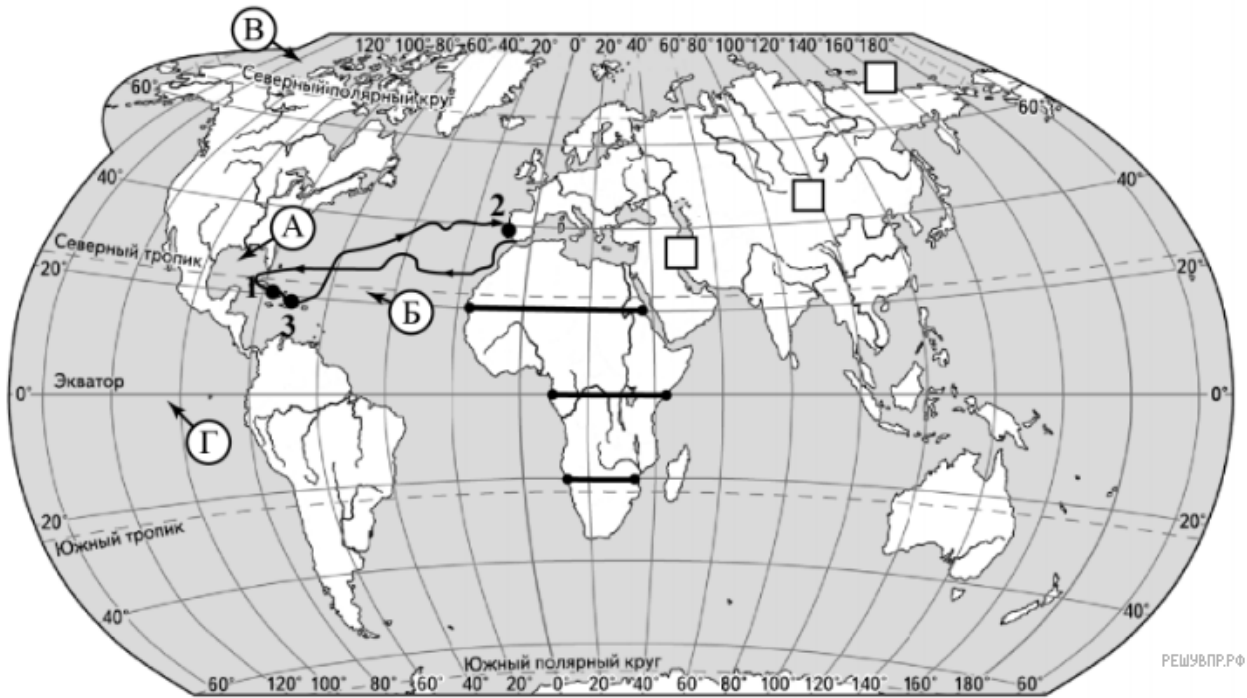


Марко Поло



Николай Пржевальский

Подпишите на карте название океана, в котором начинался маршрут этой экспедиции.



РЕШУВП.РФ

Карта составлена по состоянию на 01.01.2020

36. На карте буквами обозначены объекты, определяющие географическое положение материка, по которому проходил маршрут экспедиции. Запишите в таблицу названия этих объектов.

А	Б	В	Г

Для выполнения задание приводим текст задания 1.1:

На карте мира изображён маршрут экспедиции одного из путешественников, портреты которых представлены ниже. Рассмотрите карту и портреты путешественников и выполните задания. Маршрут экспедиции кого из путешественников изображён на карте?



Роберт Пири



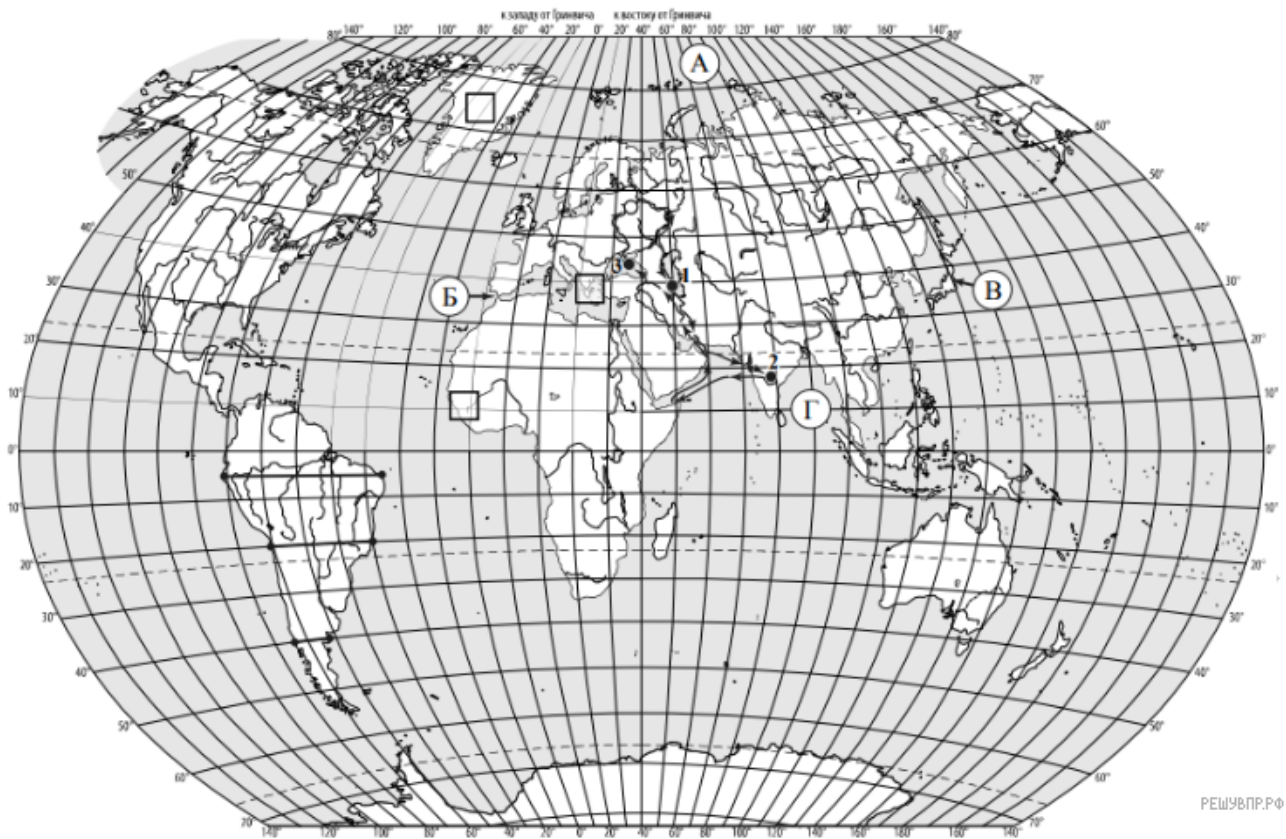
Христофор Колумб



Давид Ливингстон

РЕШУВП.РФ

Подпишите на карте название океана, в котором начинался маршрут этой экспедиции.



Карта составлена по состоянию на 01.01.2020

37. На карте буквами обозначены объекты, определяющие географическое положение указанного Вами материка. Запишите в таблицу названия этих объектов.

А	Б	В	Г
<input type="text"/>	<input type="text"/>	<input type="text"/>	<input type="text"/>

Для выполнения задание приводим текст задания 1.1:

На карте мира изображён маршрут экспедиции одного из путешественников, портреты которых представлены ниже. Рассмотрите карту и портреты путешественников и выполните задания. Маршрут экспедиции кого из путешественников изображён на карте?



Г.И. Шелихов

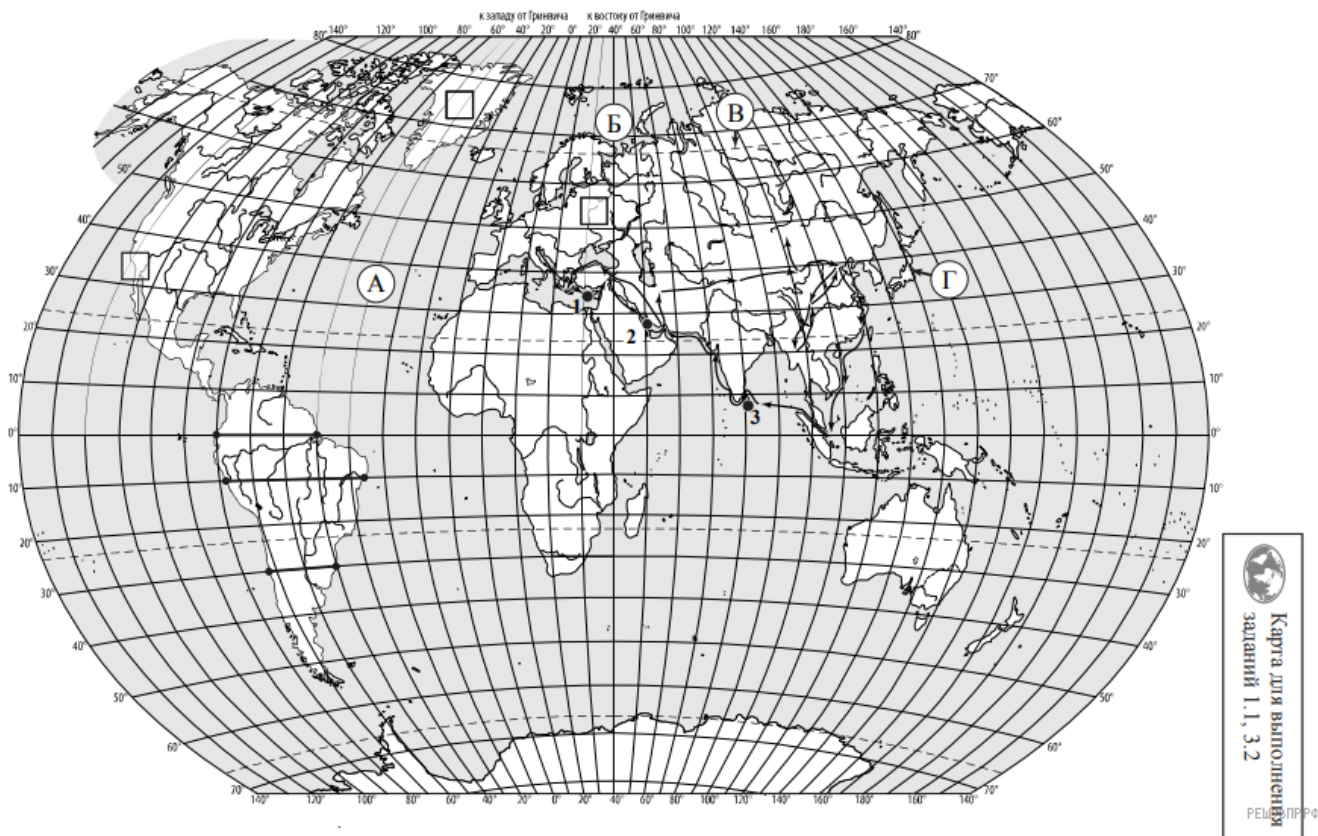


Александр Гумбольдт



Афанасий Никитин

Подпишите на карте название океана, в котором начинался маршрут этой экспедиции.



Карта составлена по состоянию на 01.01.2020

38. На карте буквами обозначены объекты, определяющие географическое положение указанного Вами материка. Запишите в таблицу названия этих объектов.

А	Б	В	Г
<input type="text"/>	<input type="text"/>	<input type="text"/>	<input type="text"/>


Для выполнения задание приводим текст задания 1.1:

На карте мира изображён маршрут экспедиции одного из путешественников, портреты которых представлены ниже. Рассмотрите карту и портреты путешественников и выполните задания.


Маршрут экспедиции кого из путешественников изображён на карте?



Фритъоф Нансен



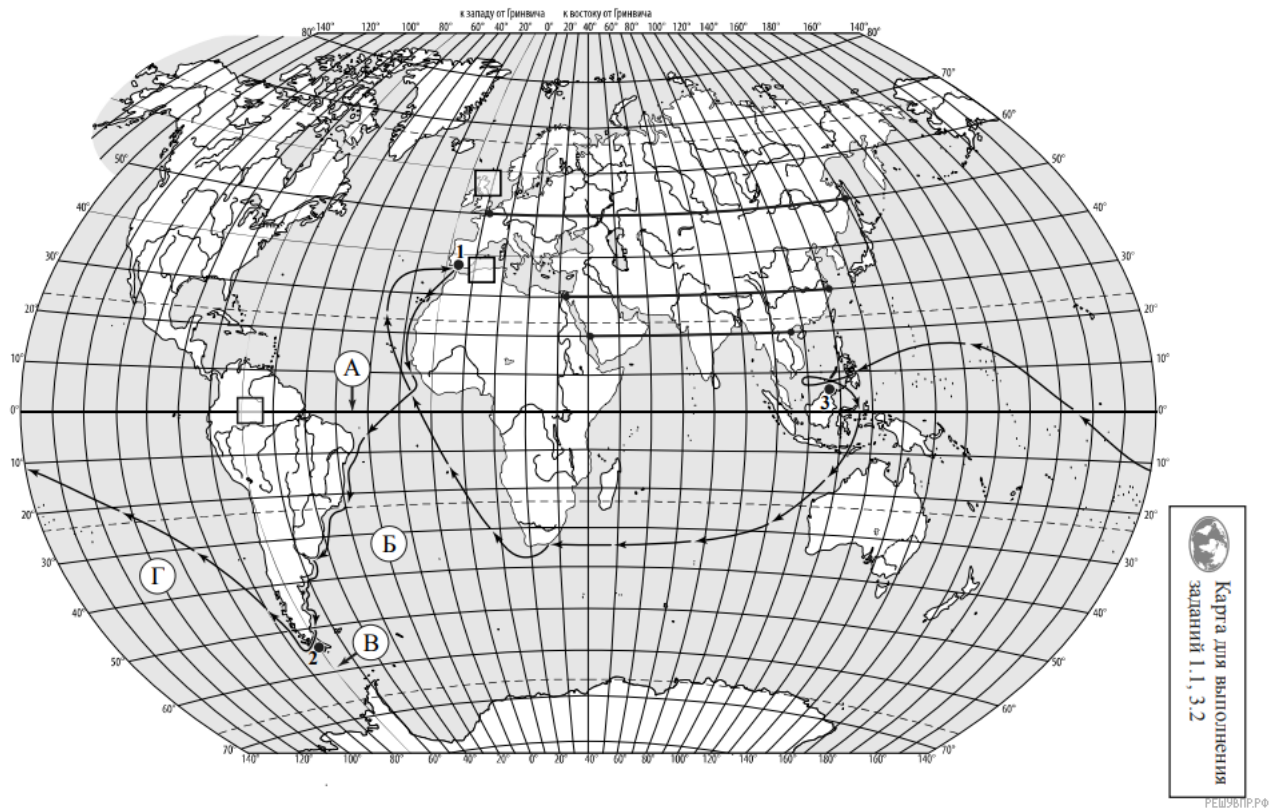
С.И. Дежнёв



Марко Поло

РЕШУ ВПР.РФ

Подпишите на карте название океана, в котором начинался маршрут этой экспедиции.



Карта составлена по состоянию на 01.01.2020

39. На карте буквами обозначены объекты, определяющие географическое положение указанного Вами материка. Запишите в таблицу названия этих объектов.

А	Б	В	Г
<input type="text"/>	<input type="text"/>	<input type="text"/>	<input type="text"/>

Для выполнения задание приводим текст задания 1.1:

На карте мира изображён маршрут экспедиции одного из путешественников, портреты которых представлены ниже. Рассмотрите карту и портреты путешественников и выполните задания. Маршрут экспедиции кого из путешественников изображён на карте?



Абель Тасман



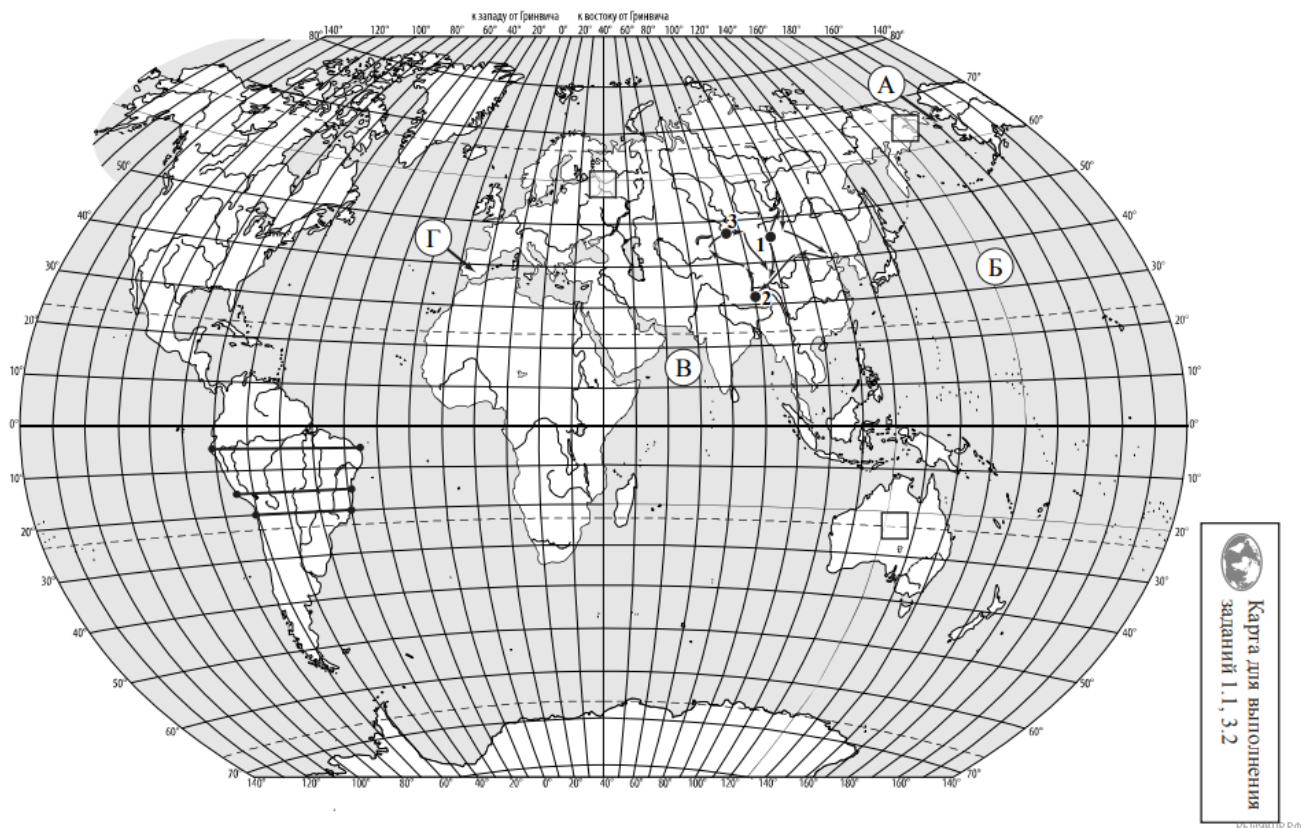
Фернан Магеллан



Христофор Колумб

РЕШУ ВПР.РФ

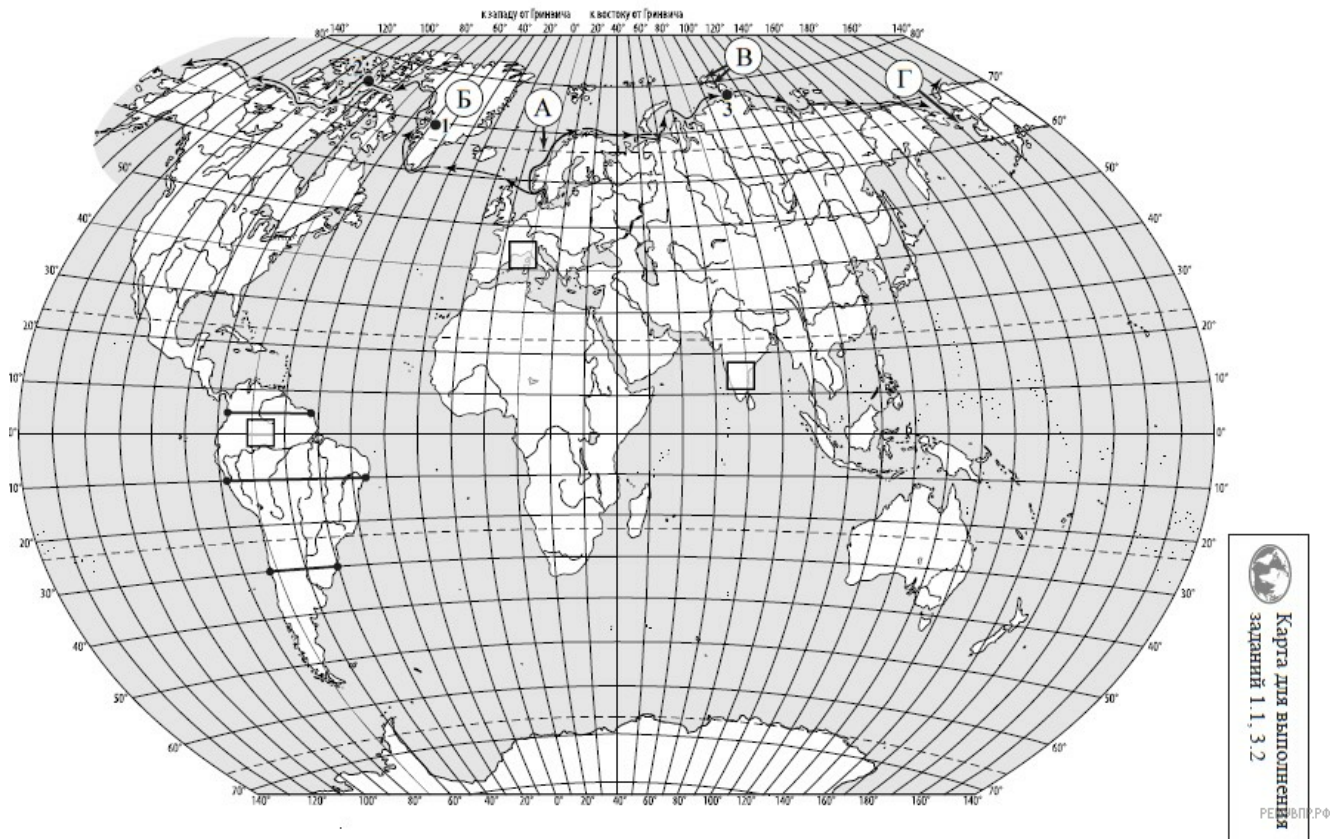
Подпишите на карте название материка, который эта экспедиция обогнула с юга, пройдя через узкий пролив.



Карта составлена по состоянию на 01.01.2020

40. На карте буквами обозначены объекты, определяющие географическое положение материка, по которому проходил маршрут экспедиции. Запишите в таблицу названия этих объектов.

А	Б	В	Г



Карта составлена по состоянию на 01.01.2021

41. На карте буквами обозначены объекты, определяющие географическое положение указанного Вами материка. Запишите в таблицу названия этих объектов.

А	Б	В	Г
<input type="text"/>	<input type="text"/>	<input type="text"/>	<input type="text"/>

Для выполнения задание приводим текст задания 1.1:

На карте мира изображён маршрут экспедиции одного из путешественников, портреты которых представлены ниже. Рассмотрите карту и портреты путешественников и выполните задания. Маршрут экспедиции кого из путешественников изображён на карте?



Руаль Амундсен



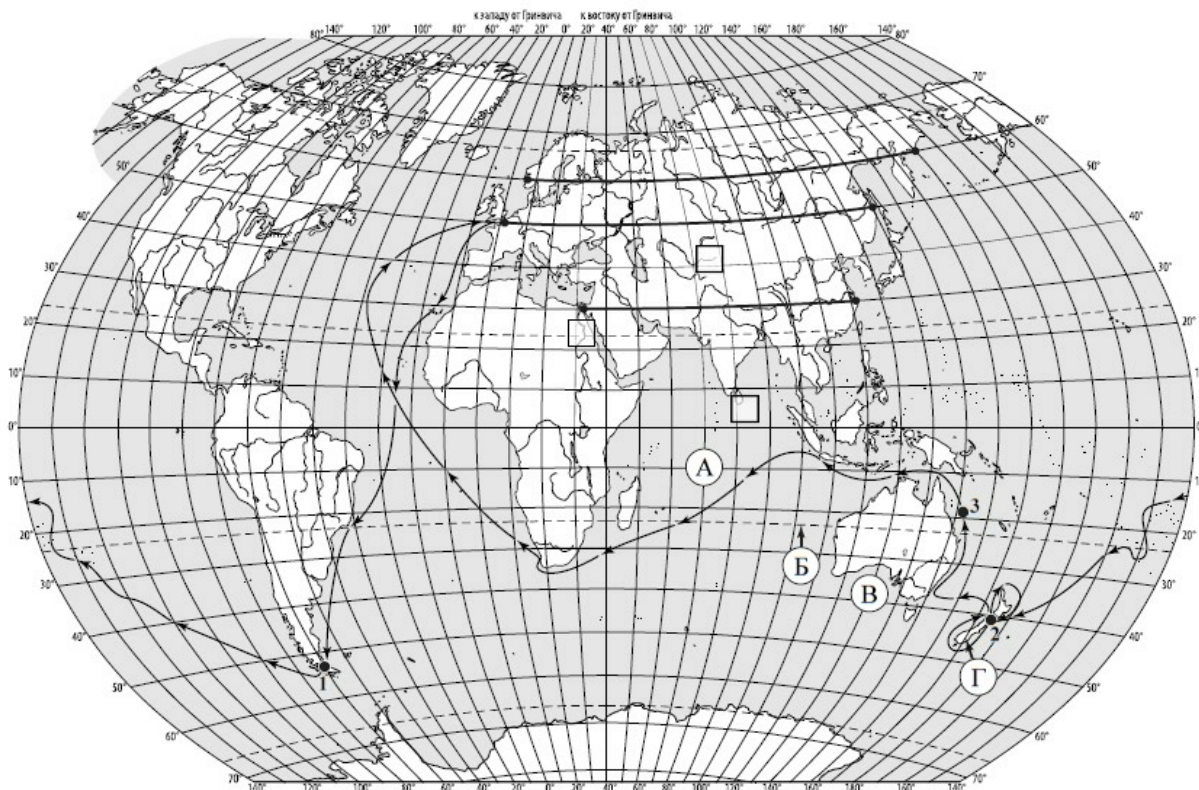
Александр Гумбольдт



Абель Тасман

РЕШУ ВПР.РФ

Подпишите на карте название океана, по которому проходил маршрут экспедиции.

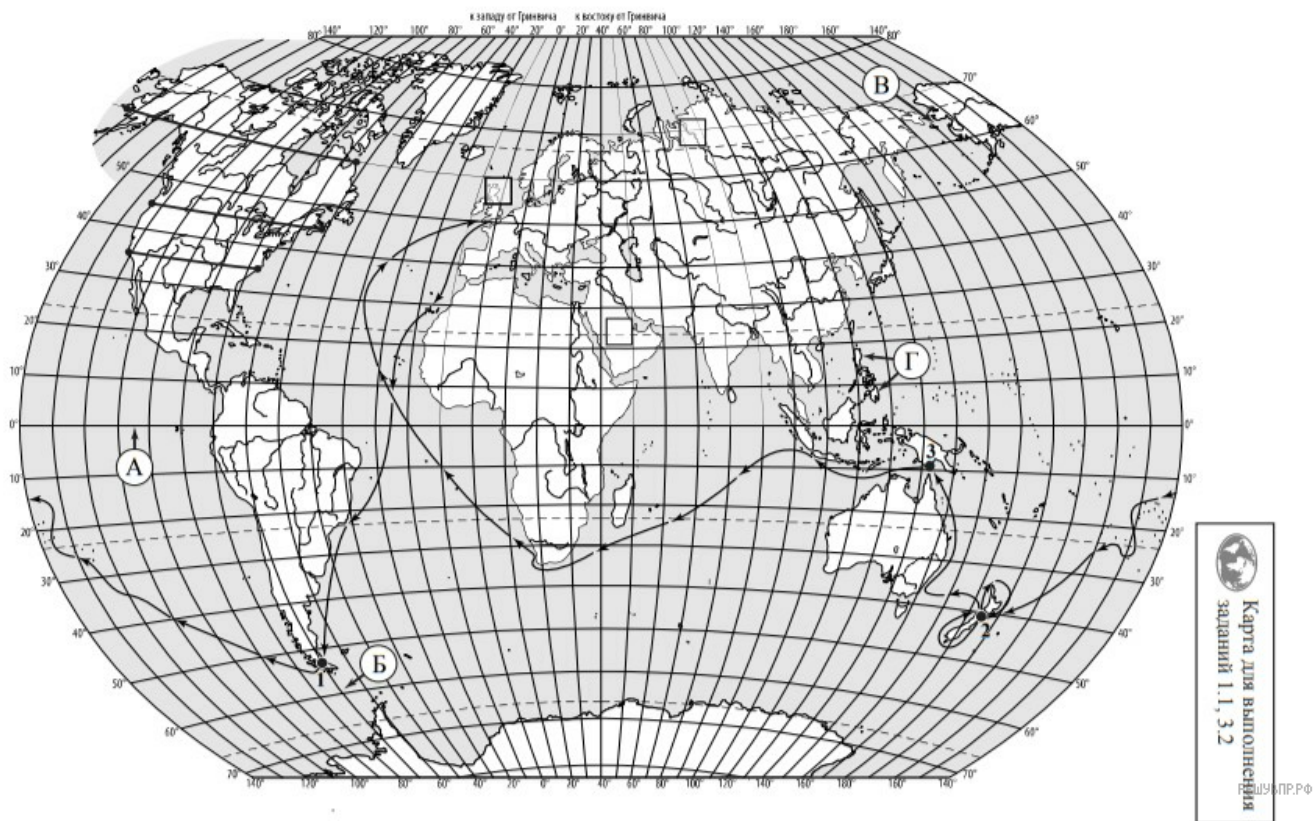


Карта для выполнения задания 1.1.3.2
РЕШУ ВПР

Карта составлена по состоянию на 01.01.2021

42. На карте буквами обозначены объекты, определяющие географическое положение материка, по которому проходил маршрут экспедиции. Запишите в таблицу названия этих объектов.

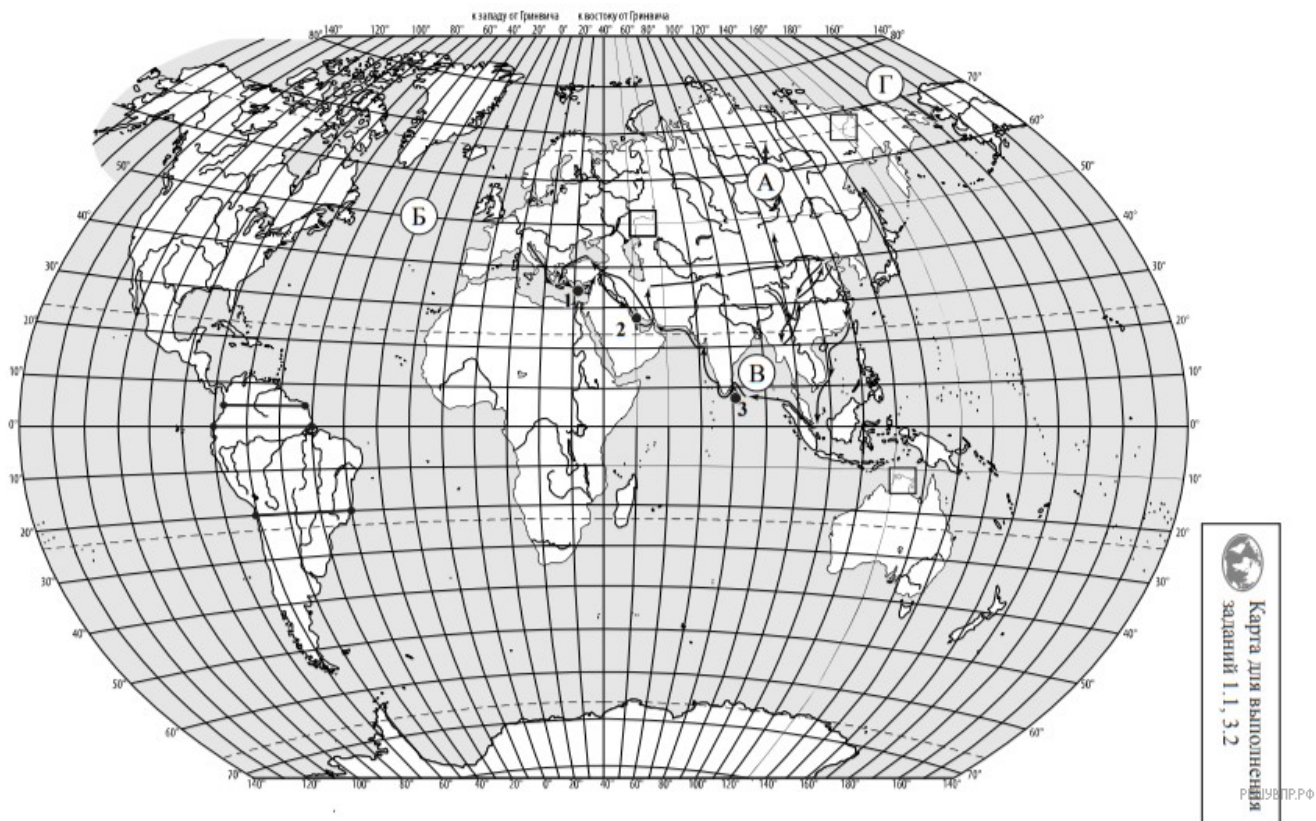
А	Б	В	Г



Карта составлена по состоянию на 01.01.2021

43. На карте буквами обозначены объекты, определяющие географическое положение материка, по которому проходил маршрут экспедиции. Запишите в таблицу названия этих объектов.

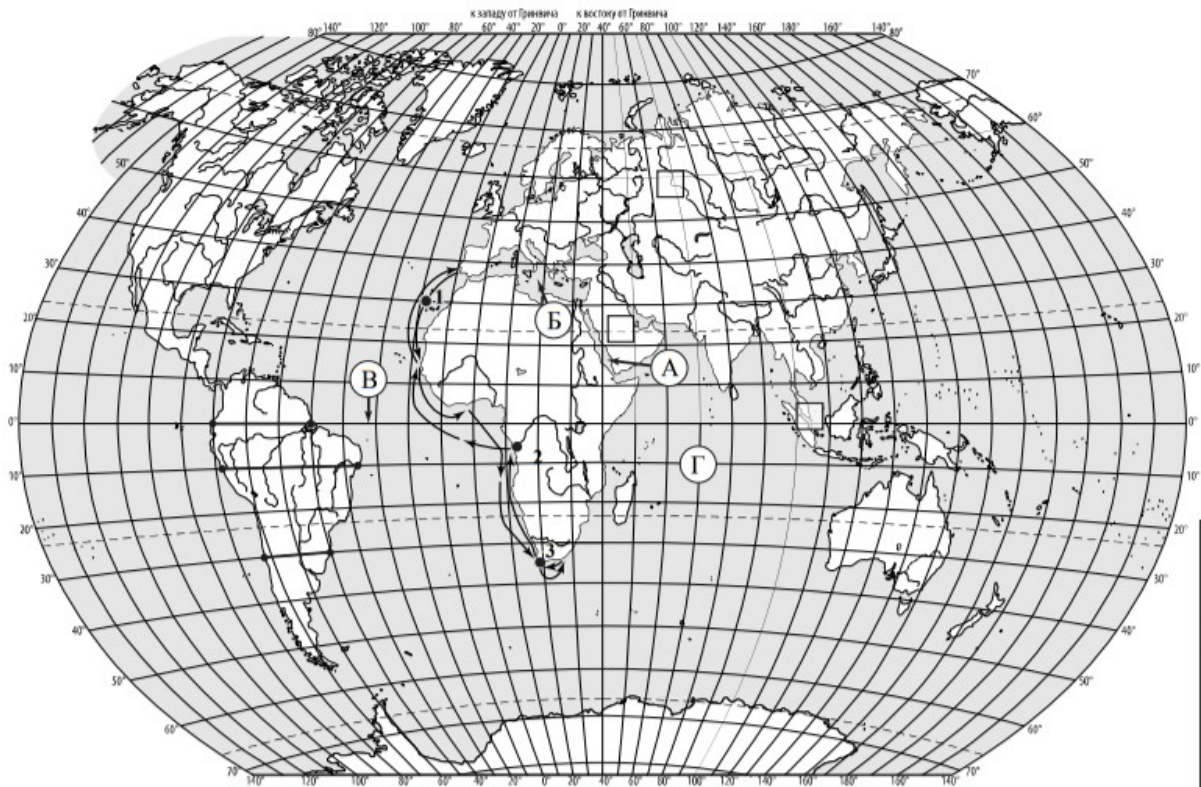
А	Б	В	Г



Карта составлена по состоянию на 01.01.2021

44. На карте буквами обозначены объекты, определяющие географическое положение материка, по которому проходил маршрут экспедиции. Запишите в таблицу названия этих объектов.

А	Б	В	Г
<input type="text"/>	<input type="text"/>	<input type="text"/>	<input type="text"/>



Карта составлена по состоянию на 01.01.2021

45. На карте буквами обозначены объекты, определяющие географическое положение материка, по которому проходил маршрут экспедиции. Запишите в таблицу названия этих объектов.

А	Б	В	Г