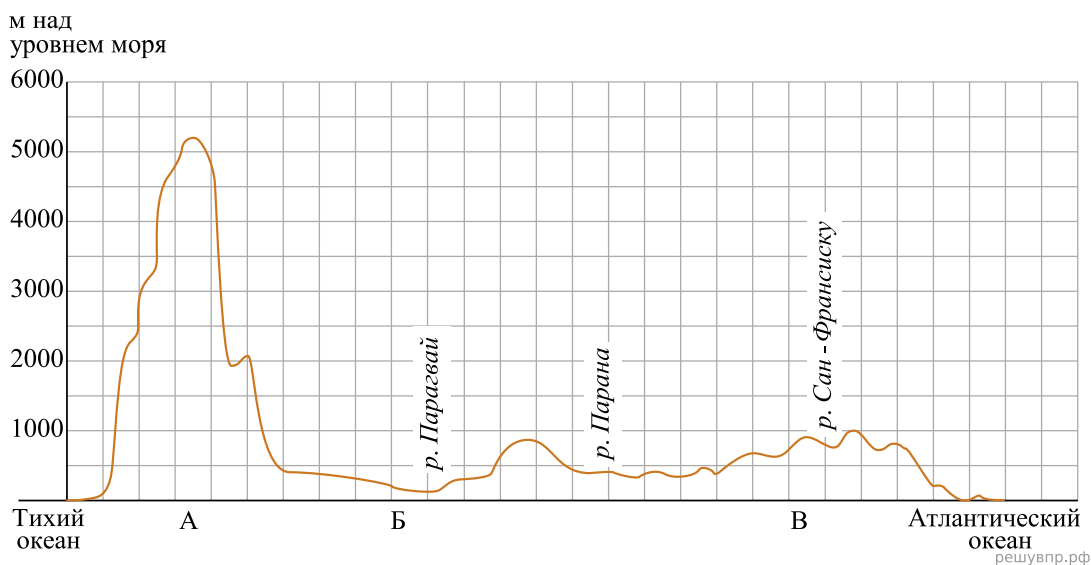


На уроке географии Сергей построил профиль рельефа Южной Америки, представленный на рисунке. Используя рисунок и карту мира выполните задания.



Карта составлена по состоянию на 01.01.2019

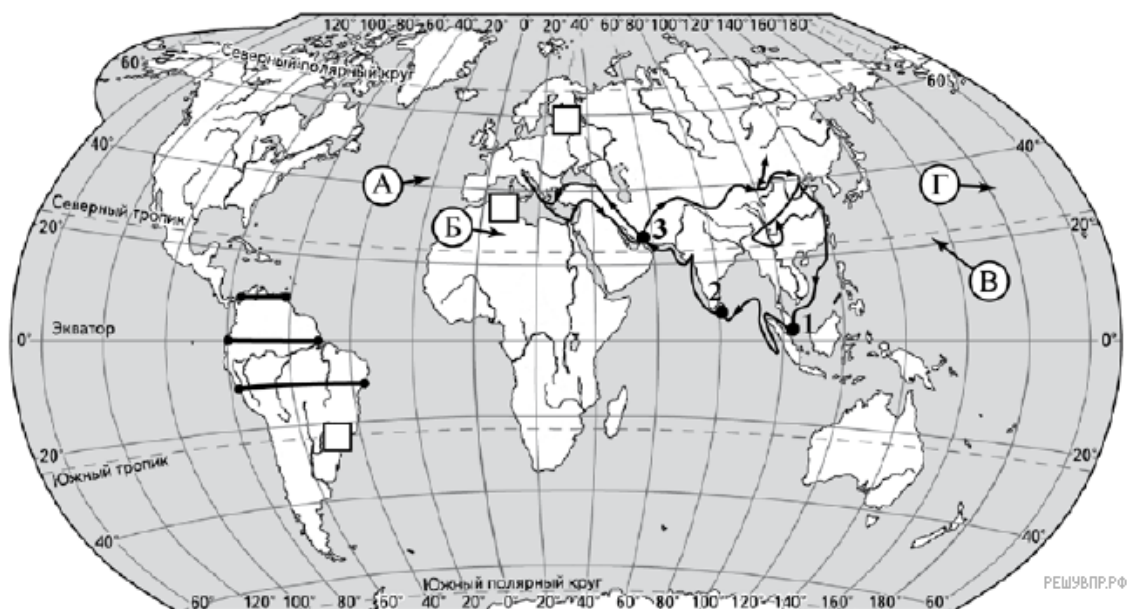
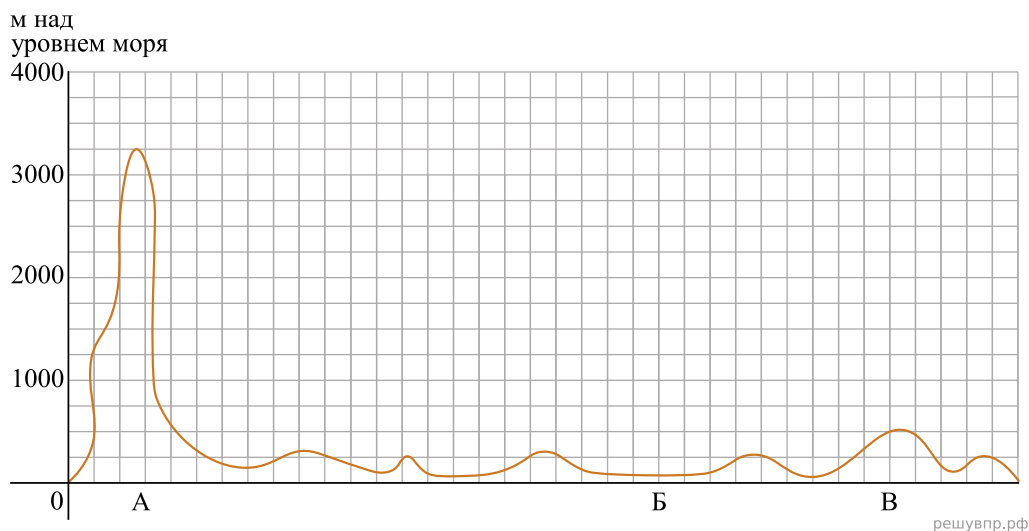
1. По какому из отрезков, проведённых на карте вдоль трёх параллелей, пересекающих материк Южная Америка, построен профиль рельефа, представленный на рисунке? Укажите в ответе значение параллели.

Определите по карте протяжённость материка Южная Америка в градусах по указанной Вами параллели.

Рассчитайте протяжённость материка Южная Америка по указанной Вами параллели в километрах с помощью приведённой ниже таблицы. (Для расчёта воспользуйтесь калькулятором.)

Широта	0°	10°	20°	30°	40°	50°	60°	70°	80°	90°
Длина дуги параллели в 1°, км	111,3	109,6	104,6	96,5	85,4	71,7	55,8	38,2	19,4	0

На уроке географии Владимир построил профиль рельефа Южной Америки, представленный на рисунке. Используя рисунок и карту мира, выполните задания.



Карта составлена по состоянию на 01.01.2019

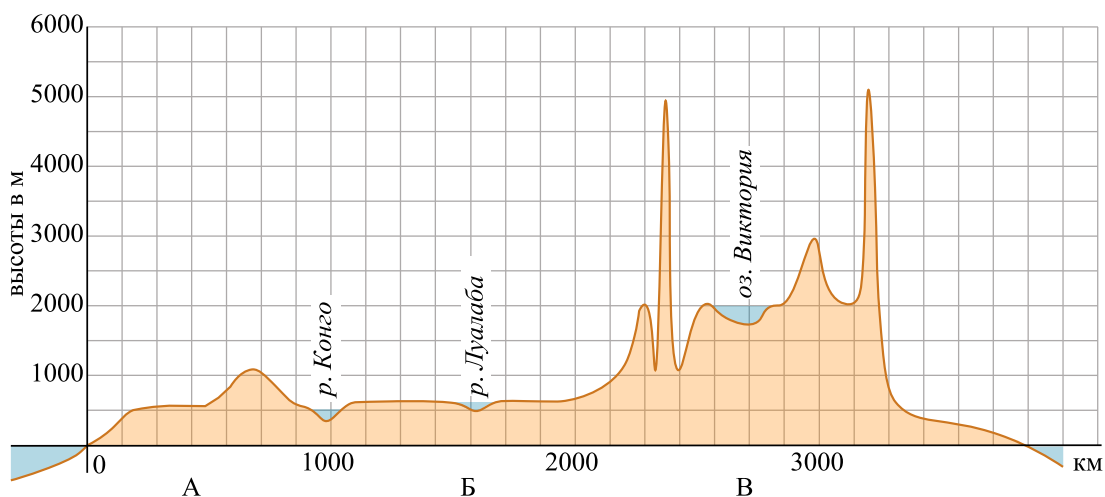
2. По какому из отрезков, проведённых на карте вдоль трёх параллелей, пересекающих материк Южная Америка, построен профиль рельефа? Укажите в ответе значение параллели.

Определите по карте протяжённость материка Южная Америка в градусах по указанной Вами параллели.

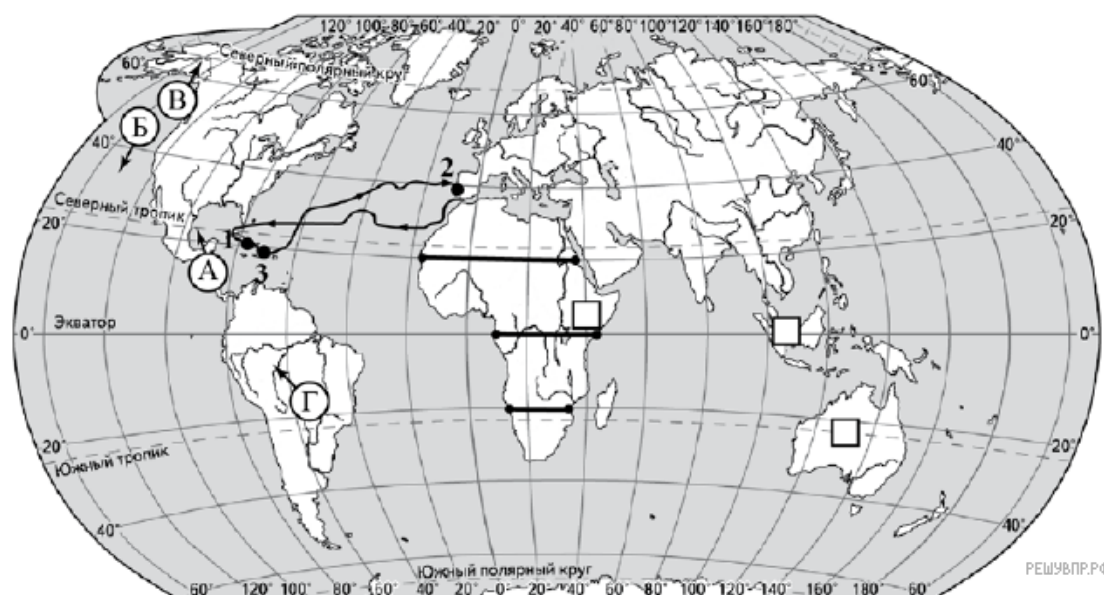
Рассчитайте протяжённость материка Южная Америка по указанной Вами параллели в километрах с помощью, приведённой ниже таблицы. (Для расчёта воспользуйтесь калькулятором.)

Широта	0°	10°	20°	30°	40°	50°	60°	70°	80°	90°
Длина дуги параллели в 1°, км	111,3	109,6	104,6	96,5	85,4	71,7	55,8	38,2	19,4	0

На уроке географии Владимир построил профиль рельефа Африки, представленный на рисунке. Используя рисунок и карту мира, выполните задания.



решувпр.рф



РЕШУВПР.РФ

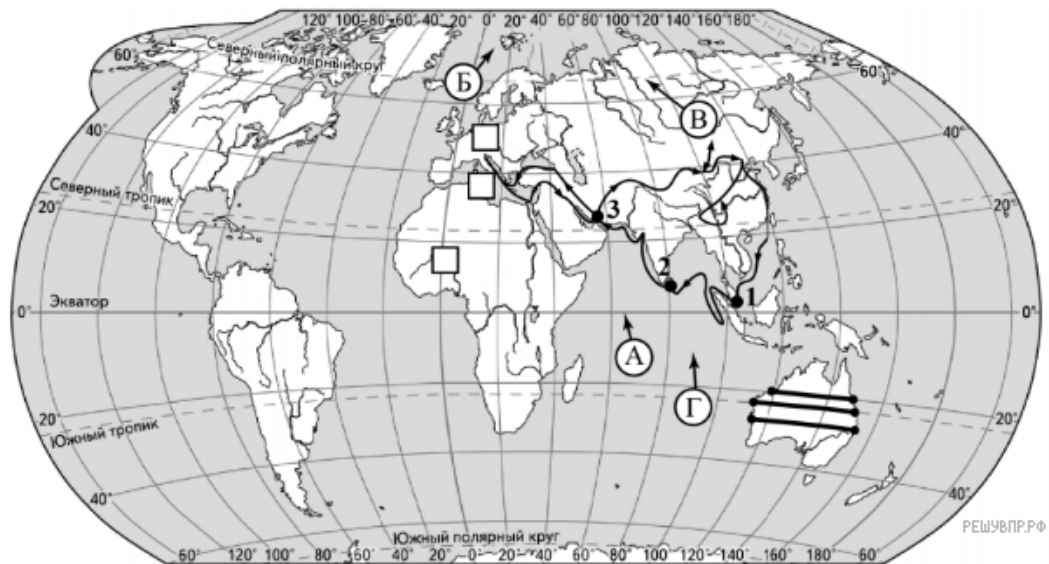
Карта составлена по состоянию на 01.01.2019

3. По какому из отрезков, проведённых на карте вдоль трёх параллелей, пересекающих материк Африки, построен профиль рельефа, представленный на рисунке? Укажите в ответе значение параллели.

Определите по карте протяжённость материка Африки в градусах по указанной Вами параллели.

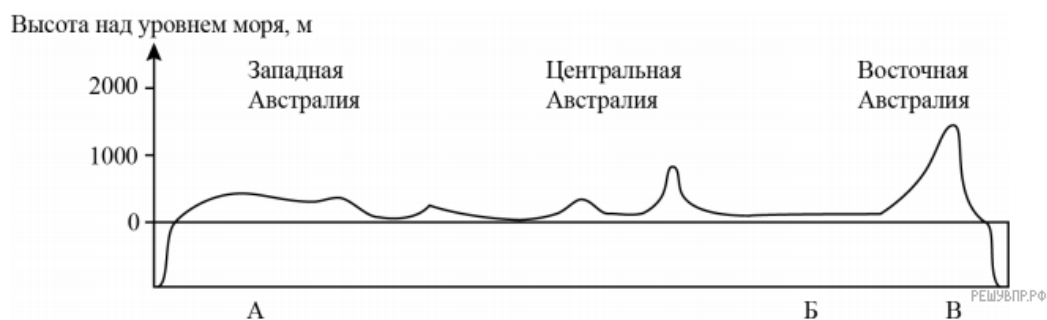
Рассчитайте протяжённость материка Африки по указанной Вами параллели в километрах с помощью, приведённой ниже таблицы. (Для расчёта воспользуйтесь калькулятором.)

Широта	0°	10°	20°	30°	40°	50°	60°	70°	80°	90°
Длина дуги параллели в 1°, км	111,3	109,6	104,6	96,5	85,4	71,7	55,8	38,2	19,4	0



Карта составлена по состоянию на 01.01.2020

4. На уроке географии Алексей построил профиль рельефа Австралии, представленный на рисунке. Используя рисунок и карту мира выполните задания.

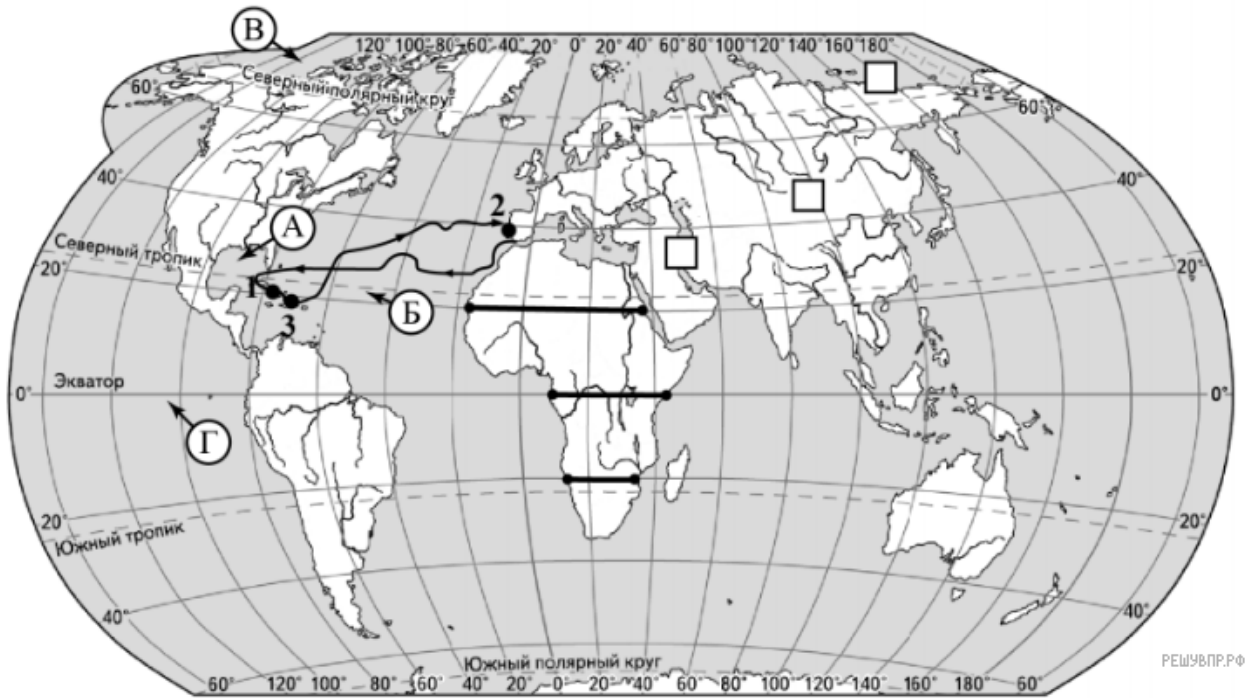


По какому из отрезков, проведённых на карте вдоль трёх параллелей, пересекающих материк Австралия, построен профиль рельефа, представленный на рисунке? Укажите в ответе значение параллели.

Определите по карте протяжённость материка Австралия **в градусах** по указанной Вами параллели.

Рассчитайте протяжённость материка Австралия по указанной Вами параллели **в километрах** с помощью, приведённой ниже таблицы. (Для расчёта воспользуйтесь калькулятором.)

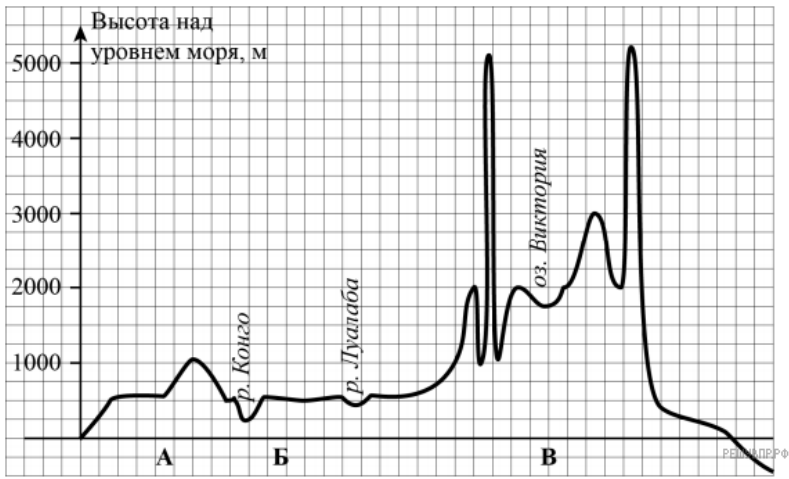
Широта	0°	10°	20°	30°	40°	50°	60°	70°	80°	90°
Длина дуги параллели в 1°, км	111,3	109,6	104,6	96,5	85,4	71,1	55,8	38,2	19,4	0



РЕШУ ВПР.РФ

Карта составлена по состоянию на 01.01.2020

5. На уроке географии Егор построил профиль рельефа Африки, представленный на рисунке. Используя рисунок и карту мира выполните задания.



РЕШУ ВПР.РФ

По какому из отрезков, проведённых на карте вдоль трёх параллелей, пересекающих материк Африка, построен профиль рельефа, представленный на рисунке? Укажите в ответе значение параллели.

Определите по карте протяжённость материка Африка в градусах по указанной Вами параллели.

Рассчитайте протяжённость материка Африка по указанной Вами параллели в километрах с помощью приведённой ниже таблицы. (Для расчёта воспользуйтесь калькулятором.)

Широта	0°	10°	20°	30°	40°	50°	60°	70°	80°	90°
Длина дуги параллели в 1°, км	111,3	109,6	104,6	96,5	85,4	71,1	55,8	38,2	19,4	0