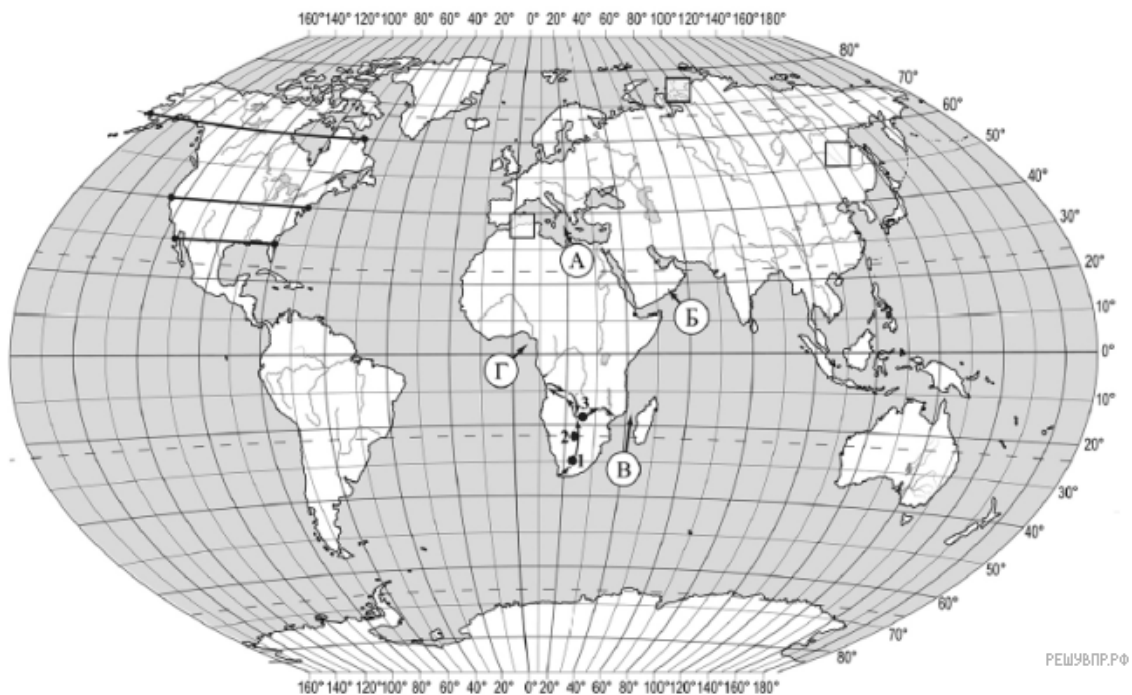


ВПР по географии 7 класс 2021 год. Вариант 19.

При выполнении заданий с кратким ответом впишите в поле для ответа цифру, которая соответствует номеру правильного ответа, или число, слово, последовательность букв (слов) или цифр. Ответ следует записывать без пробелов и каких-либо дополнительных символов. Дробную часть отделяйте от целой десятичной запятой. Единицы измерений писать не нужно.

Если вариант задан учителем, вы можете вписать или загрузить в систему ответы к заданиям с развернутым ответом. Учитель увидит результаты выполнения заданий с кратким ответом и сможет оценить загруженные ответы к заданиям с развернутым ответом. Выставленные учителем баллы отобразятся в вашей статистике.




РЕШУВПР.РФ

Карта составлена по состоянию на 01.01.2019

1. На карте мира изображён маршрут экспедиции одного из путешественников, портреты которых представлены ниже. Рассмотрите карту и портреты путешественников и выполните задания.

Маршрут экспедиции кого из путешественников изображён на карте?



Афанасий Никитин



Давид Ливингстон



Джеймс Кук

РЕШУВПР.РФ

Подпишите на карте название материка, по территории которого проходил маршрут экспедиции.

2. На карте буквами обозначены объекты, определяющие географическое положение указанного Вами материка. Запишите в таблицу названия этих объектов.

А	Б	В	Г
<input type="text"/>	<input type="text"/>	<input type="text"/>	<input type="text"/>

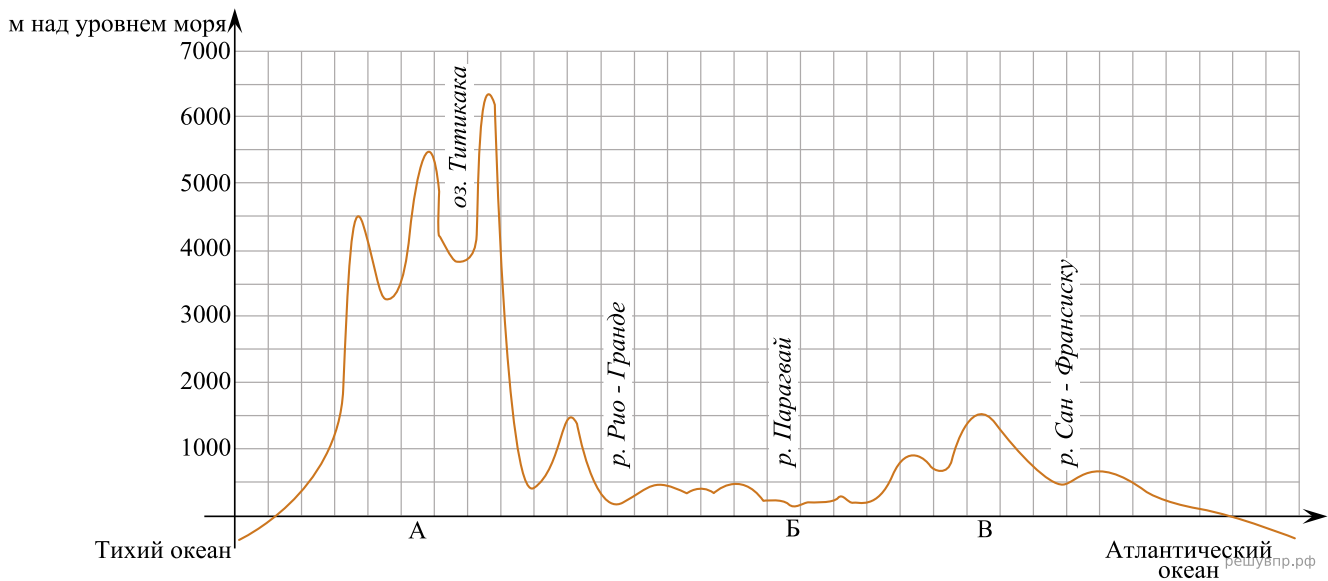
3. По линии маршрута экспедиции отмечены точки, расположенные на территории крупных географических объектов. Определите и запишите в ответе географические координаты точки 2.

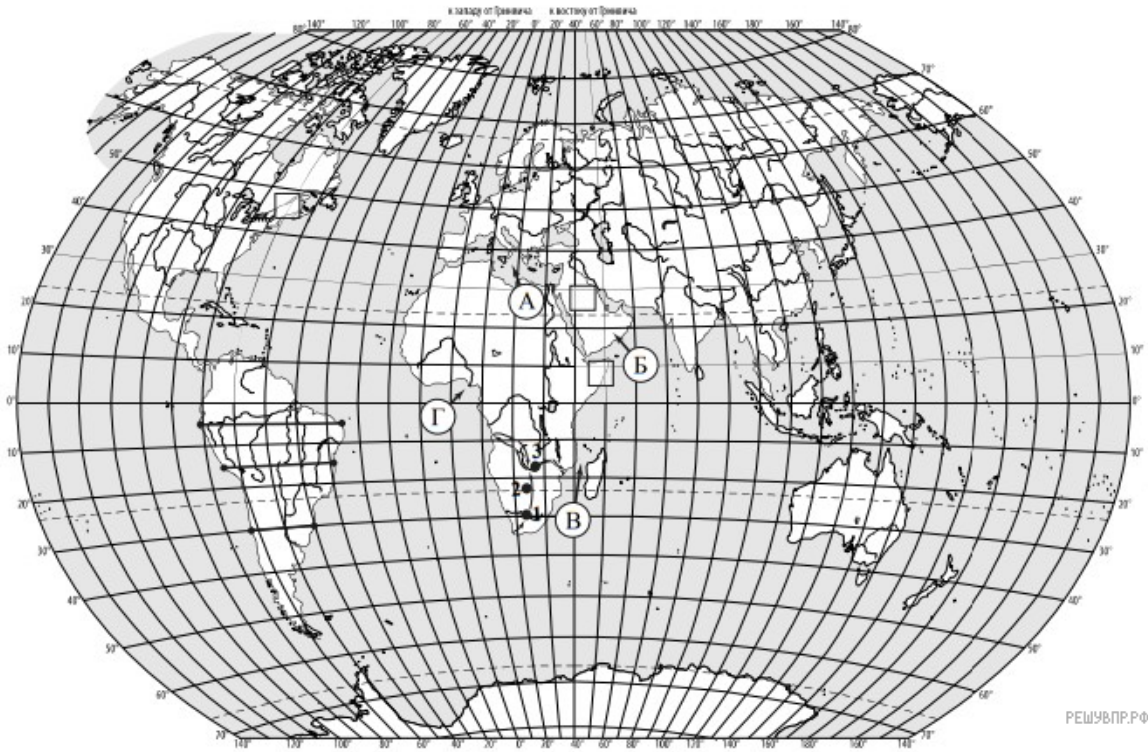
4. Прочитайте текст, составленный по запискам путешественников, исследователей и туристов, посещавших объект, на территории которого расположена точка 2.

Как же здесь сухо и жарко! Предполагают, что название этой пустыни произошло от ботсванского «карри-карри» — «мучимый жаждой». Пустыня занимает обширную впадину, окружённую невысокими плато и горами. Пески в виде ровно сложенных дюн занимают большую часть этой пустыни, но тем не менее повсеместно встречаются растения: травы, кустарники, низкорослые зонтичные акации. Удивительная река Окаванго протекает по пустыне и теряется в ней, не впадая ни в одно из морей. Здесь обитает множество разнообразных животных, характерных как для саванн, так и для пустынь: жирафы, зебры, львы, гепарды, змеи, ящерицы, а также забавные зверьки — сурикаты.

Запишите в ответе название этого географического объекта.

На уроке географии Ирина построила профиль рельефа Южной Америки, представленный на рисунке 1. Используя рисунок 1 и карту мира, выполните задания.





Карта составлена по состоянию на 01.01.2021

5. По какому из отрезков, проведённых на карте вдоль трёх параллелей, пересекающих материк Южная Америка, построен профиль рельефа, представленный на рисунке 1?

Укажите в ответе значение параллели. Определите по карте протяжённость материка Южная Америка в градусах по указанной Вами параллели.

Рассчитайте протяжённость материка Южная Америка по указанной Вами параллели в километрах с помощью приведённой ниже таблицы. (Для расчёта воспользуйтесь калькулятором.)


Широта	0°	5°	10°	15°	20°	25°	30°	35°	40°	45°
Длина дуги параллели в 1°, км	111,3	110,9	109,6	107,6	104,6	101,0	96,5	91,3	85,4	78,8

Широта	50°	55°	60°	65°	70°	75°	80°	85°	90°
Длина дуги параллели в 1°, км	71,7	64,0	55,8	47,2	38,2	28,9	19,4	19,4	0

6. Укажите географическое название крупной формы рельефа, которой соответствует участок профиля, обозначенный на рисунке 1 буквой А.

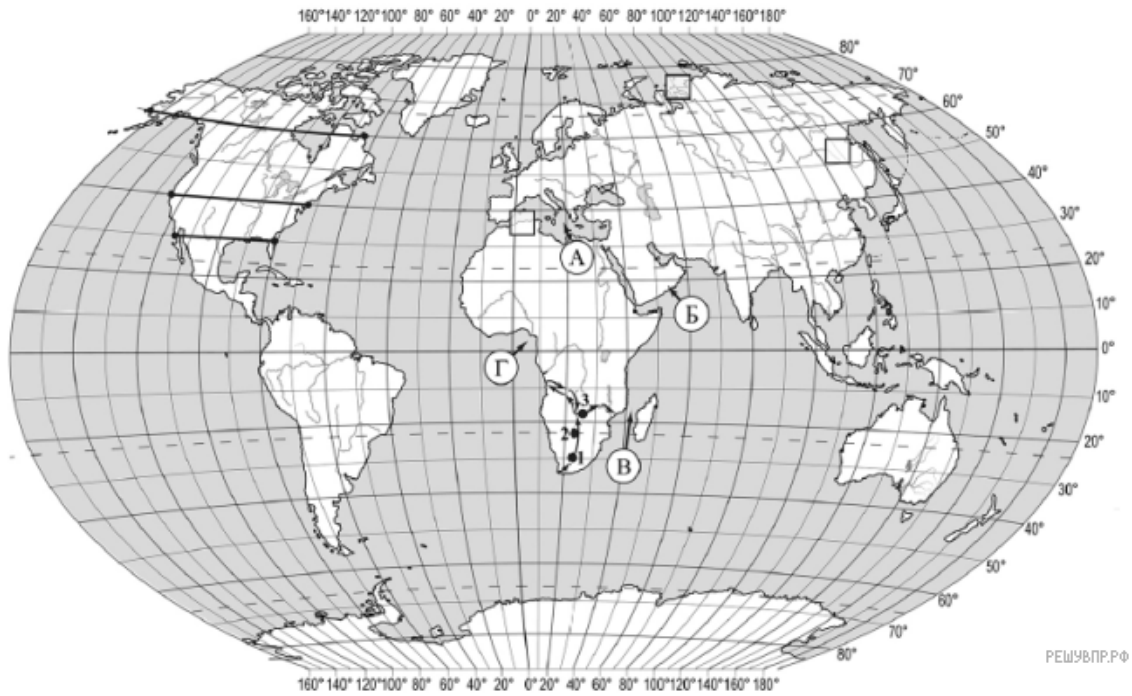
Определите абсолютную высоту территории, на которой расположена котловина озера Титикака.

7. На рисунке 2 представлены значки, которыми обозначаются месторождения полезных ископаемых на географических картах.



Внесите в таблицу значки, обозначающие месторождения полезных ископаемых, которые добывают на территории, обозначенной на рисунке 1 буквой А.

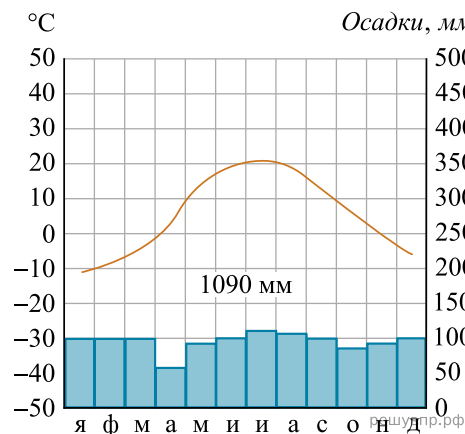
Медные руды	Золото	Серебряные руды	Оловянные руды



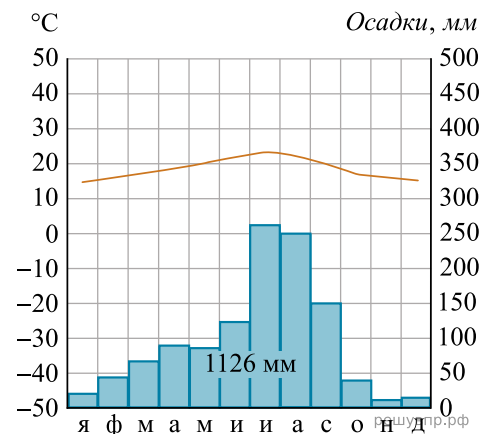
Карта составлена по состоянию на 01.01.2019

8. Рассмотрите рисунки с изображением климатограмм, построенных по данным метеонаблюдений в разных частях Земли, и выполните задания.

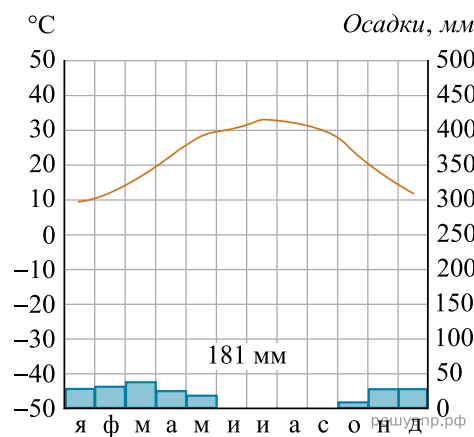
Определите, какому климатическому поясу соответствует каждая климатограмма. Подпишите название климатического пояса под соответствующей климатограммой.



1

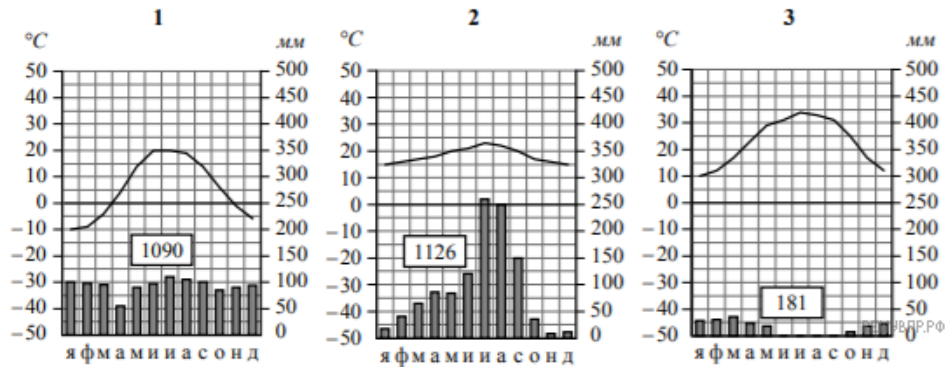


2



3

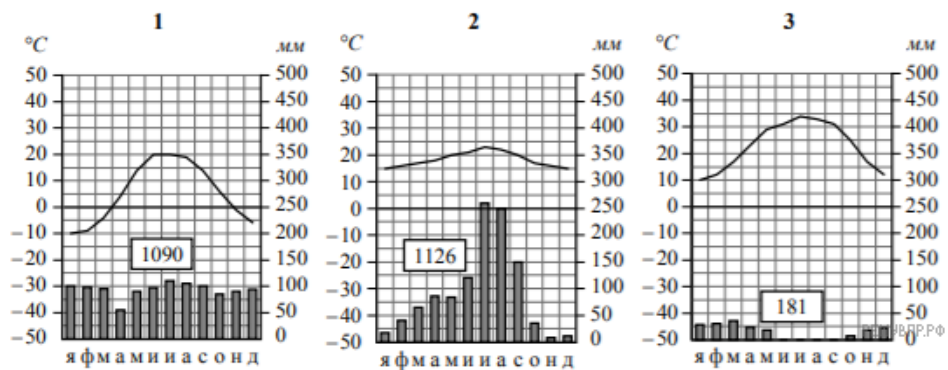
9. На карте мира, приведённой на странице 2, территории, для которых построены изображённые на рисунках климатограммы, обозначены пустыми квадратами. Впишите в каждый квадрат на карте номер соответствующей климатограммы.



10. Какой природной зоне мира соответствуют приведённые ниже характеристики? Укажите в ответе название этой природной зоны.

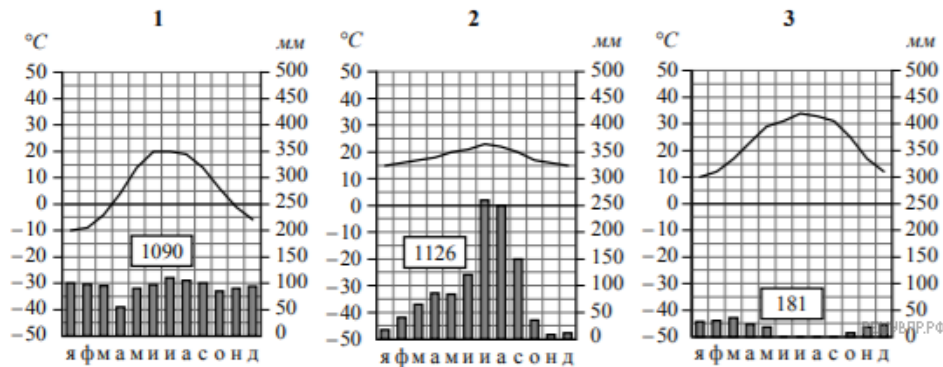
- 1) Формируется в условиях достаточно тёплого и влажного климата с продолжительным летом и умеренно холодной снежной зимой.
- 2) Является переходной зоной от тайги к зоне широколиственных лесов.
- 3) Произрастают как хвойные деревья: ель, сосна, лиственница, так и листопадные: дуб, клён, берёза, осина, липа; хорошо развит травяной покров.
- 4) Формируются дерново-подзолистые почвы.
- 5) Традиционные обитатели: заяц-русак, лисица, белка, куница, барсук, кабан, лось, волк, бурый медведь.

Выберите климатограмму, соответствующую климатическим особенностям указанной Вами природной зоны. Укажите в ответе её номер.



11. По выбранной Вами в задании 3.2 климатограмме определите климатические показатели для указанной природной зоны и заполните таблицу.

Средняя температура воздуха, °С		Годовая амплитуда температур, °С	Годовое количество осадков, мм	Месяц, на который приходится наибольшее количество осадков
в январе	в июле			



Для выполнения задание приводим текст задания 3.2:

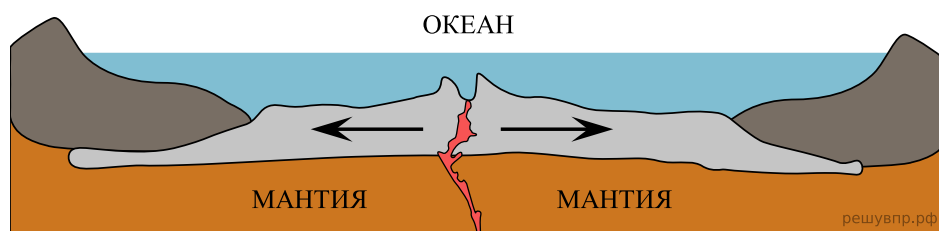
Какой природной зоне мира соответствуют приведённые ниже характеристики?

Укажите в ответе название этой природной зоны.

- 1) Формируется в условиях достаточно тёплого и влажного климата с продолжительным летом и умеренно холодной снежной зимой.
- 2) Является переходной зоной от тайги к зоне широколиственных лесов.
- 3) Произрастают как хвойные деревья: ель, сосна, лиственница, так и листопадные: дуб, клён, берёза, осина, липа; хорошо развит травяной покров.
- 4) Формируются дерново-подзолистые почвы.
- 5) Традиционные обитатели: заяц-русак, лисица, белка, куница, барсук, кабан, лось, волк, бурый медведь.

Выберите климатограмму, соответствующую климатическим особенностям указанной Вами природной зоны. Укажите в ответе её номер.

Рассмотрите схему природного процесса и выполните задания.



12. Какой природный процесс отображён на схеме?


Фархад и Киоко познакомились на международных соревнованиях по каратэ в Китае. Фархад живёт в столице Турции, а Киоко — в столице Японии. Подростки общаются через Интернет, и при общении им приходится учитывать разницу во времени между их городами.




Карта составлена по состоянию на 01.01.2021

17. На политической карте мира выделите штриховкой страны, в которых живут подростки.


18. Часы на рисунках отображают время в городах, где живут подростки. Подпишите названия городов под соответствующими часами.



Гринвич
12:00 (полдень)
решувпр.рф



18 мая
15:00
решувпр.рф



18 мая
21:00
решувпр.рф

19. Киоко отправила Фархаду электронное сообщение в 16:30 по местному времени.



Какое время будет отображаться в соответствующем окне на экране смартфона Фархада, когда он получит сообщение от Киоко?

Используя представленную ниже таблицу и политическую карту мира выполните задания.

Занятость населения по отраслям хозяйства, 2017 г.

№	Страна	Численность занятого населения, млн человек	Доля занятого населения, %		
			в сельском хозяйстве	в промышленности	в сфере услуг
1	Румыния	8,9	28	29	43
2	Япония	65,0	3	26	71
3	Алжир	11,8	11	31	58
4	Мозамбик	13,0	74	4	22

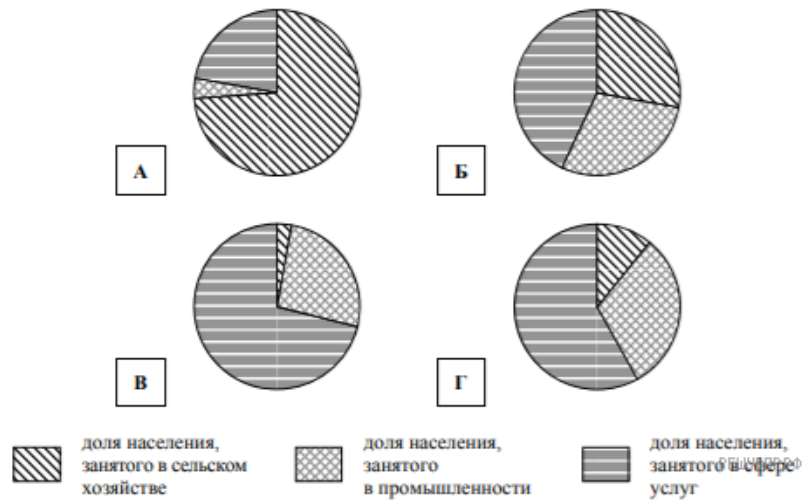


РЕШУ ВПР.РФ

Карта составлена по состоянию на 01.01.2017

20. Подпишите на политической карте мира название страны с наибольшей численностью занятого населения.

21. Определите, структуру занятости населения какой страны отражает каждая диаграмма. Запишите в ответе порядковые номера стран под соответствующими буквами.



Ответ:

А	Б	В	Г
<input style="width: 20px; height: 20px;" type="text"/>	<input style="width: 20px; height: 20px;" type="text"/>	<input style="width: 20px; height: 20px;" type="text"/>	<input style="width: 20px; height: 20px;" type="text"/>

Представьте, что Вы познакомились со своим сверстником, который живёт за границей, и он прислал Вам фотографии, сделанные в его стране.

Рассмотрите фотографии и ответьте на вопросы.



22. В какой стране живёт Ваш сверстник?

23. Рассмотрите представленные ниже рисунки. Выберите рисунок с контуром страны, в которой живёт Ваш сверстник. Запишите в ответе букву, которой обозначен этот рисунок.



24. Предположите, какие ответы на вопросы о своей стране даст Ваш сверстник в ходе интервью. Запишите их в таблицу.

Вопрос	Ответ
1. На каком материке находится твоя страна?	
2. Какие океаны омывают берега твоей страны?	
3. Какие полуострова занимает твоя страна?	
4. Какие горы есть в твоей стране?	
5. Какие полезные ископаемые добывают в твоей стране?	
6. Какую религию исповедует большинство жителей твоей страны?	
7. Какие культурно-исторические и природные достопримечательности привлекают туристов в твою страну?	

Для выполнения задания приводим текст задания 8.1:

Представьте, что Вам было поручено взять интервью у зарубежного сверстника, чтобы он познакомил Вас со своей страной. Для иллюстрации этого интервью Вы попросили его прислать несколько фотографий, сделанных в стране, в которой он живёт.

Рассмотрите фотографии и ответьте на вопросы.



В какой стране живёт Ваш сверстник?