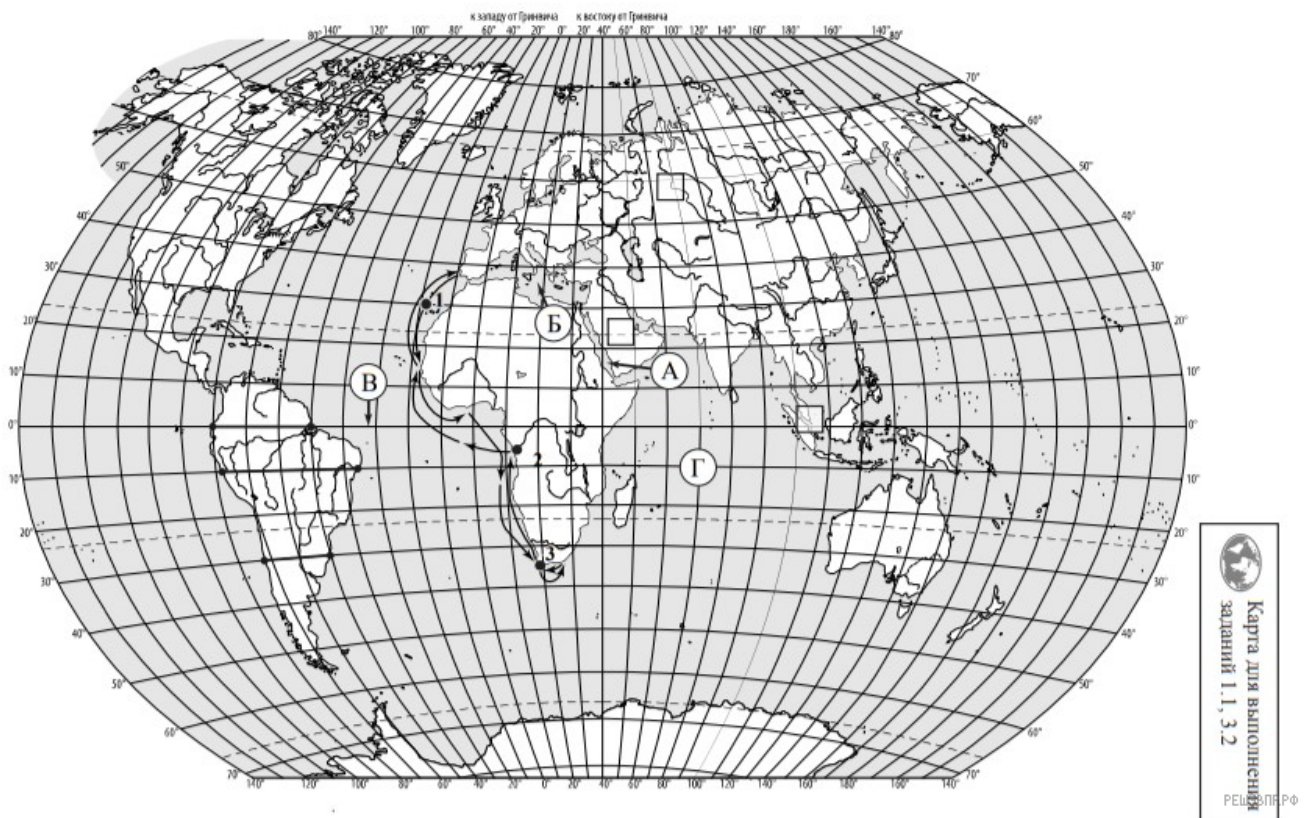


ВПР по географии 7 класс 2021 год. Вариант 17.

При выполнении заданий с кратким ответом впишите в поле для ответа цифру, которая соответствует номеру правильного ответа, или число, слово, последовательность букв (слов) или цифр. Ответ следует записывать без пробелов и каких-либо дополнительных символов. Дробную часть отделяйте от целой десятичной запятой. Единицы измерений писать не нужно.

Если вариант задан учителем, вы можете вписать или загрузить в систему ответы к заданиям с развернутым ответом. Учитель увидит результаты выполнения заданий с кратким ответом и сможет оценить загруженные ответы к заданиям с развернутым ответом. Выставленные учителем баллы отобразятся в вашей статистике.



Карта составлена по состоянию на 01.01.2021

1. На карте мира изображён маршрут экспедиции одного из путешественников, портреты которых представлены ниже. Рассмотрите карту и портреты путешественников и выполните задания.



И.Д. Папанин



Абель Тасман



Бартоломеу Диаш

РЕШУ ВПР.РФ

Маршрут экспедиции кого из путешественников изображён на карте?

2. На карте буквами обозначены объекты, определяющие географическое положение материка, по которому проходил маршрут экспедиции. Запишите в таблицу названия этих объектов.

А	Б	В	Г

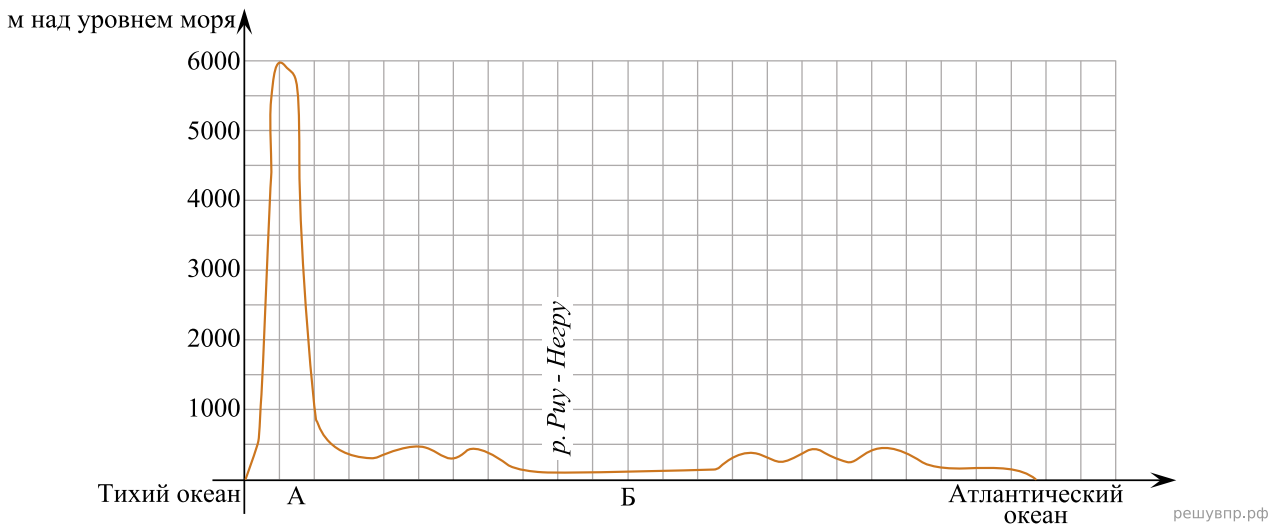
3. По линии маршрута экспедиции отмечены точки, расположенные на территории крупных географических объектов. Определите и запишите в ответе географические координаты точки 3.

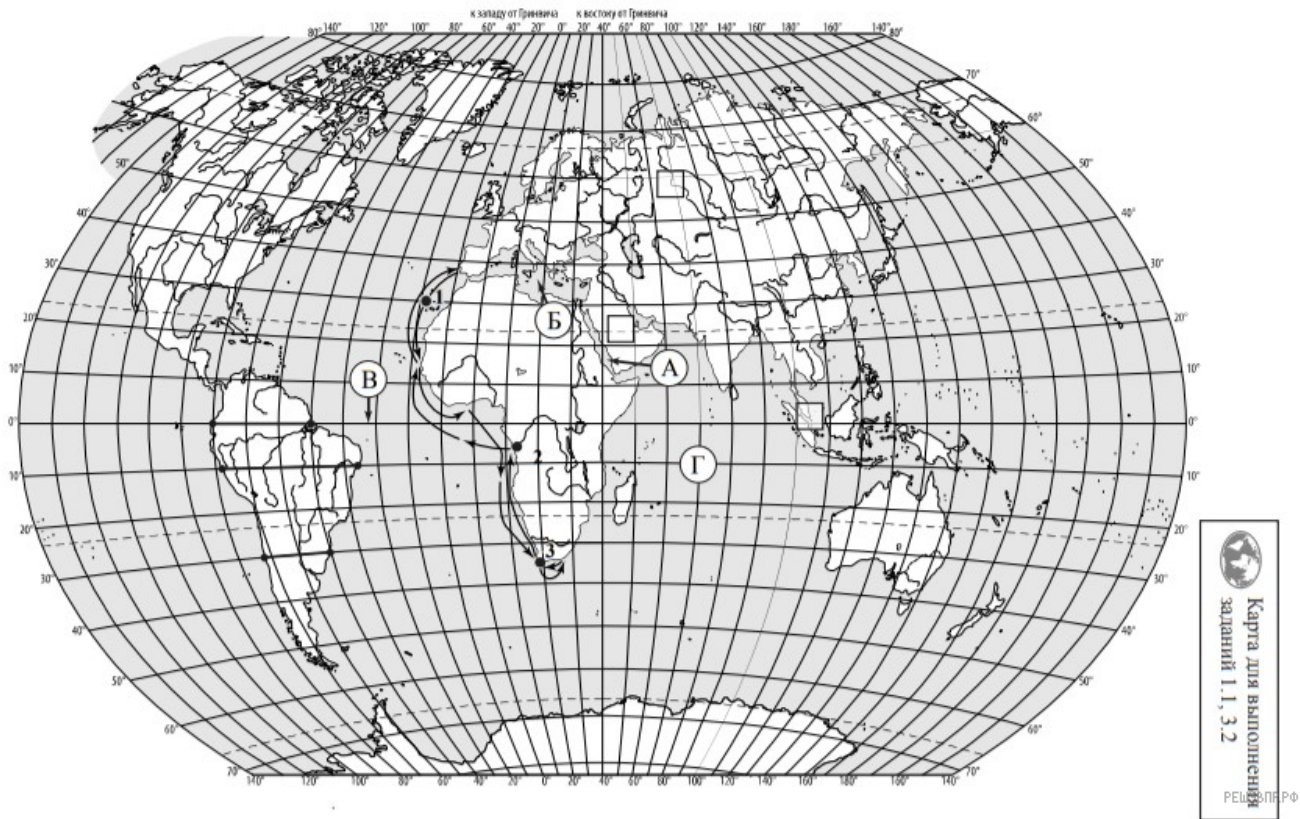
4. Прочитайте текст, составленный по запискам путешественников, исследователей и туристов, посещавших объект, на территории которого расположена точка 3.

Этот мыс называют местом встречи двух океанов. Если, стоя на высоком берегу, внимательно присмотреться, то кажется, что вода в океанах различается по цвету. Сильные ветры, штормы, туманы и даже айсберги, приплывающие от берегов Антарктиды, во все времена делали это место небезопасным для мореплавателей. Однако этот мыс привлекает множество туристов. Вы сможете не только отдохнуть и позагорать на живописных пляжах, где сезон купания длится с сентября по май, но и полюбоваться удивительными пейзажами. Здесь вместе с типичными для природы саванн страусами, гепардами и антилопами вы встретите очковых пингвинов, переселившихся сюда когда-то из Антарктиды и занесённых в Красную книгу.

Запишите в ответе название этого географического объекта.

На уроке географии Николай построил профиль рельефа Южной Америки, представленный на рисунке 1. Используя рисунок 1 и карту мира, выполните задания.





Карта составлена по состоянию на 01.01.2021

5. По какому из отрезков, проведённых на карте вдоль трёх параллелей, пересекающих материк Южная Америка, построен профиль рельефа, представленный на рисунке 1?

Укажите в ответе значение параллели. Определите по карте протяжённость материка Южная Америка в градусах по указанной Вами параллели.

Рассчитайте протяжённость материка Южная Америка по указанной Вами параллели в километрах с помощью приведённой ниже таблицы. (Для расчёта воспользуйтесь калькулятором.)

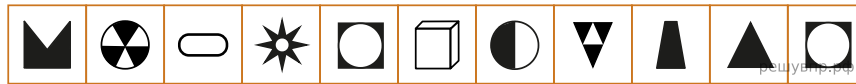
Широта	0°	5°	10°	15°	20°	25°	30°	35°	40°	45°
Длина дуги параллели в 1°, км	111,3	110,9	109,6	107,6	104,6	101,0	96,5	91,3	85,4	78,8

Широта	50°	55°	60°	65°	70°	75°	80°	85°	90°
Длина дуги параллели в 1°, км	71,7	64,0	55,8	47,2	38,2	28,9	19,4	19,4	0

6. Укажите географическое название крупной формы рельефа, которой соответствует участок профиля, обозначенный на рисунке 1 буквой Б.

Определите наибольшую абсолютную высоту территории, через которую проходит профиль на этом участке.

7. На рисунке 2 представлены значки, которыми обозначаются месторождения полезных ископаемых на географических картах.

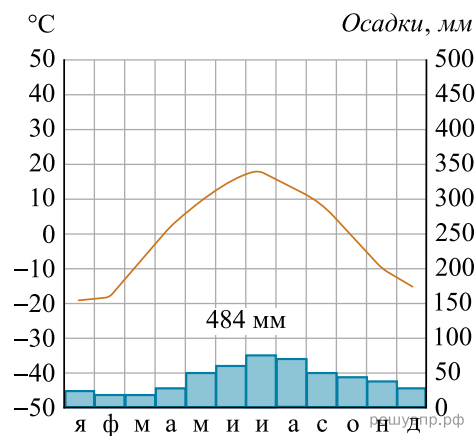


Внесите в таблицу значки, обозначающие месторождения полезных ископаемых, которые добывают на территории, обозначенной на рисунке 1 буквой Б.

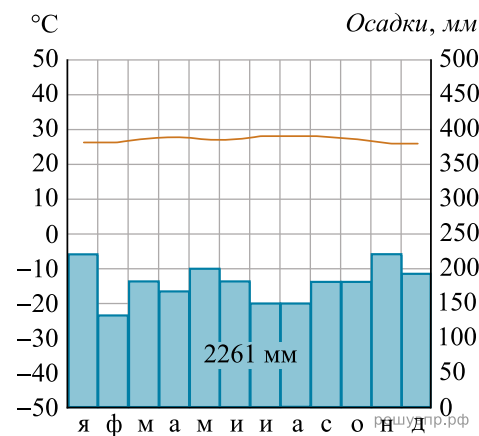
Золото	Оловянные руды	Алюминиевые руды / Бокситы	Нефть

8. Рассмотрите рисунки с изображением климатограмм, построенных по данным метеонаблюдений в разных частях Земли, и выполните задания.

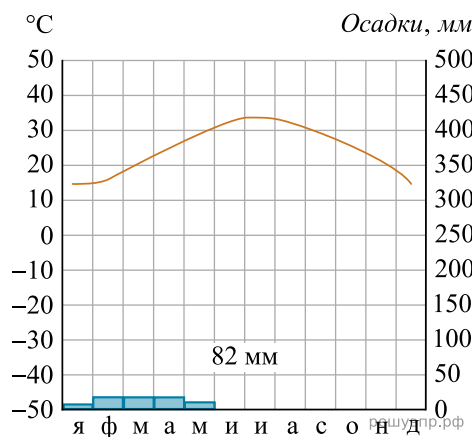
Определите, какому климатическому поясу соответствует каждая климатограмма. Подпишите название климатического пояса под соответствующей климатограммой.



1

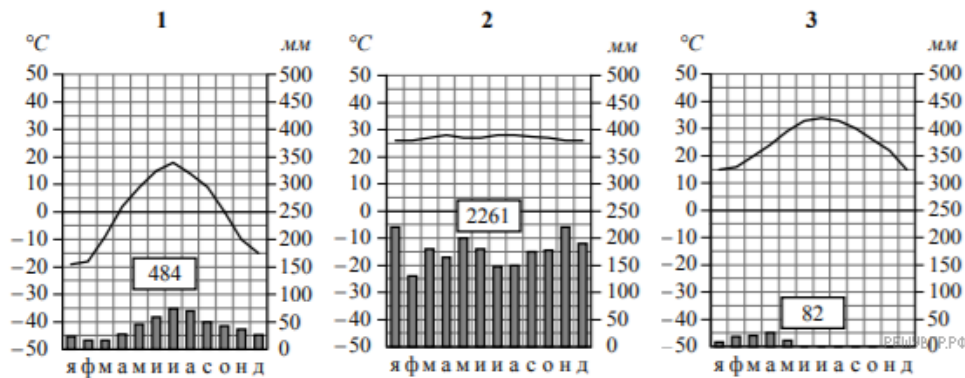


2



3

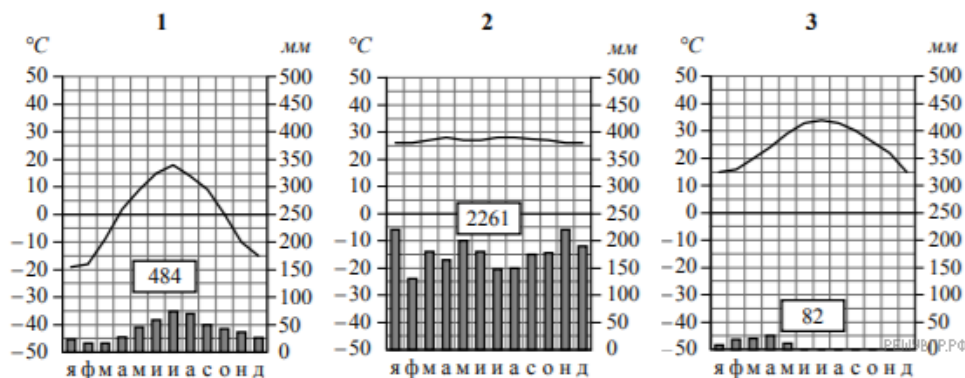
9. На карте мира, приведённой на странице 2, территории, для которых построены изображённые на рисунках климатограммы, обозначены пустыми квадратами. Впишите в каждый квадрат на карте номер соответствующей климатограммы.



10. Какой природной зоне мира соответствуют приведённые ниже характеристики? Укажите в ответе название этой природной зоны.

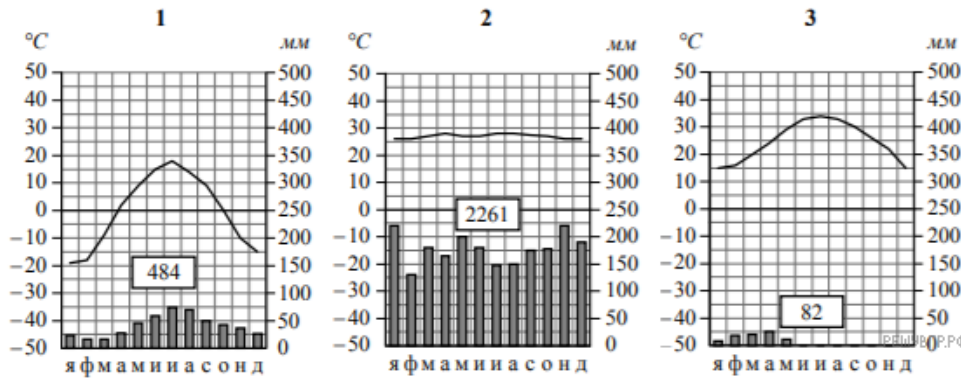
- 1) Одна из наиболее протяжённых по широте природных зон мира и самая большая по площади в России.
- 2) Для климата характерна продолжительная холодная зима с устойчивым снежным покровом.
- 3) Основные представители растительного мира — хвойные деревья: сосна, ель, пихта, лиственница.
- 4) Из-за недостатка света в лесу слабо развит подлесок, из кустарников здесь растёт можжевельник, жимолость, малина.
- 5) Обитают крупные млекопитающие: бурый медведь, волк, рысь, россомаха, а также пушные звери: соболь, горностай, белка, куница.

Выберите климатограмму, соответствующую климатическим особенностям указанной Вами природной зоны. Укажите в ответе её номер.



11. По выбранной Вами в задании 3.2 климатограмме определите климатические показатели для указанной природной зоны и заполните таблицу.

Средняя температура воздуха, °С		Годовая амплитуда температур, °С	Годовое количество осадков, мм	Месяц, на который приходится наибольшее количество осадков
в январе	в июле			



Для выполнения задание приводим текст задания 3.2:

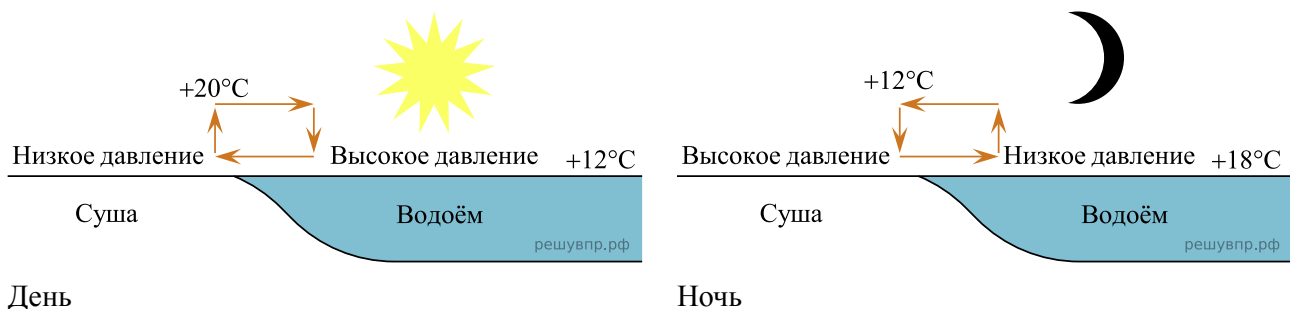
Какой природной зоне мира соответствуют приведённые ниже характеристики?

Укажите в ответе название этой природной зоны.

- 1) Одна из наиболее протяжённых по широте природных зон мира и самая большая по площади в России.
- 2) Для климата характерна продолжительная холодная зима с устойчивым снежным покровом.
- 3) Основные представители растительного мира — хвойные деревья: сосна, ель, пихта, лиственница.
- 4) Из-за недостатка света в лесу слабо развит подлесок, из кустарников здесь растёт можжевельник, жимолость, малина.
- 5) Обитают крупные млекопитающие: бурый медведь, волк, рысь, россомаха, а также пушные звери: соболь, горноста́й, белка, куница.

Выберите климатограмму, соответствующую климатическим особенностям указанной Вами природной зоны. Укажите в ответе её номер.

Рассмотрите схему природного процесса и выполните задания.



12. Какой природный процесс отображён на схеме?

13. Установите последовательность этапов отображённого на схеме процесса. Запишите в ответе порядковые номера этапов.

ЭТАПЫ:

- 1) Воздух из области повышенного давления перемещается в сторону области пониженного давления, то есть в сторону суши, и на берегу ощущается лёгкий прохладный ветерок от водоёма.
- 2) Днём поверхность берега водоёма нагревается быстрее, чем вода в водоёме, и воздух над сушей становится теплее, чем над водой.
- 3) Более тёплый и лёгкий воздух поднимается вверх, поэтому над берегом формируется область пониженного атмосферного давления.
- 4) Более прохладный и тяжёлый воздух скапливается над водой, образуя область повышенного атмосферного давления.
- 5) Вода в водоёме нагревается медленнее, чем поверхность берега, и воздух над водоёмом остаётся более прохладным, чем над его берегом.

14. Какова причина процесса, отображённого на схеме?

15. Установите соответствие между географическими особенностями и материками, для которых они характерны: для этого к каждой позиции первого столбца подберите соответствующую позицию из второго столбца.

ГЕОГРАФИЧЕСКИЕ ОСОБЕННОСТИ

МАТЕРИКИ

- А) В северной части материка много озёр и небольших рек.
- Б) Материк пересекается экватором и нулевым меридианом.
- В) Восточная часть материка — это современная рифтовая зона с глыбовыми горами и глубочайшими впадинами, многие из которых заняты озёрами.
- Г) Около 40% территории материка занимают саванны и редколесья.
- Д) Большая часть современного населения материка — потомки переселенцев из Европы и других частей света.
- Е) На западе материка протянулась одна из самых крупных и сейсмически активных горных систем мира.

- 1) Африка
- 2) Северная Америка

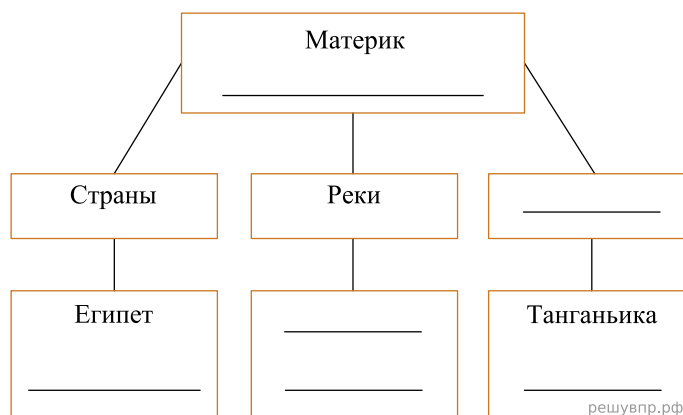
Запишите в таблицу выбранные цифры под соответствующими буквами.

Ответ:

А	Б	В	Г	Д	Е
<input type="text"/>	<input type="text"/>	<input type="text"/>	<input type="text"/>	<input type="text"/>	<input type="text"/>

16. В приведённом ниже списке перечислены крупные географические объекты. Выберите из списка названия географических объектов, расположенных на территории одного из указанных в задании 5.1 материков, и заполните схему. Впишите в схему название материка, типы и названия выбранных Вами географических объектов.

Ориноко, Замбези, Непал, Ньяса, Брахмапутра, Нил, Байкал, Большое Невольничье, Марокко, Колорадо, Мексика, Уругвай.

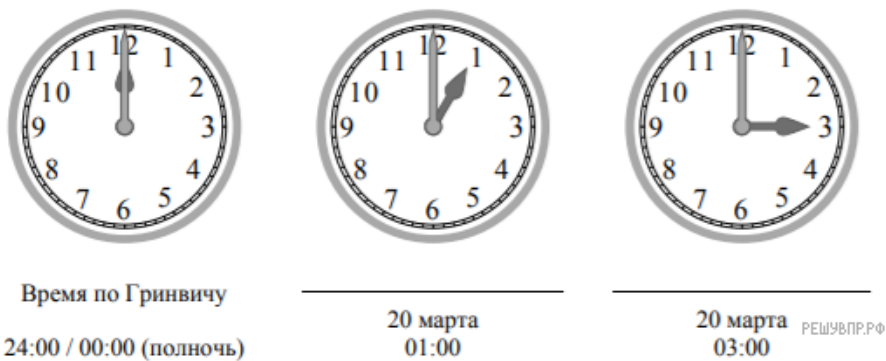




Карта составлена по состоянию на 01.01.2021

17. На политической карте мира выделите штриховкой страны, в которых живут подростки.

18. Часы на рисунках отображают время в городах, где живут подростки. Подпишите названия городов под соответствующими часами.



19. Карлос отправил Ибрагиму электронное сообщение в 11:30 по местному времени.



Какое время будет отображаться в соответствующем окне на экране смартфона Ибрагима, когда он получит сообщение от Карлоса?

Используя представленную ниже таблицу и политическую карту мира выполните задания.

Численность и состав населения, 2018 г.

№	Страна	Численность населения, млн человек	Возрастной состав, %		
			доля населения в возрасте до 15 лет	доля населения в возрасте от 15 до 65 лет	доля населения в возрасте старше 65 лет
1	Казахстан	19	26	66	8
2	Куба	11	16	69	15
3	Нигер	23	50	48	2
4	Япония	126	13	59	28

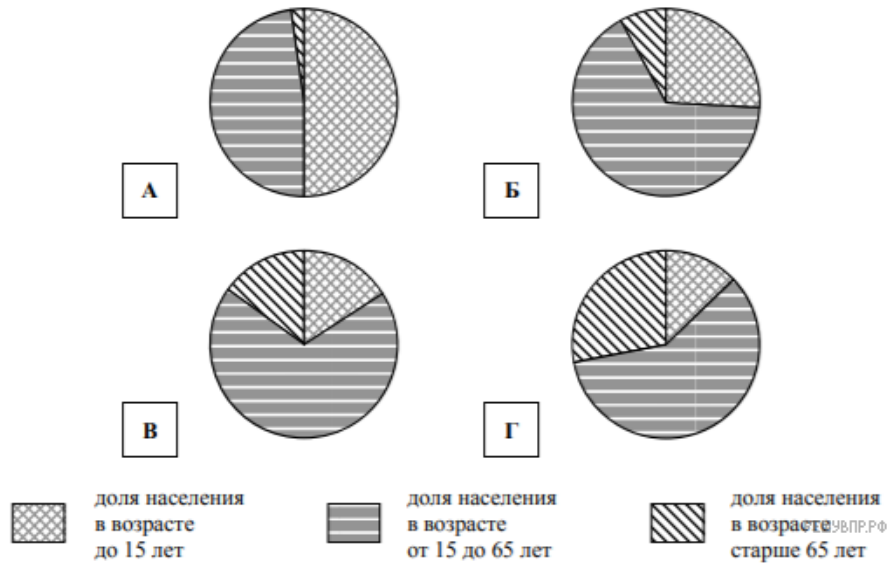


РЕШУВ.РФ

Карта составлена по состоянию на 01.01.2018

20. Подпишите на политической карте мира название страны с самой маленькой численностью населения.

21. Определите, возрастной состав населения какой страны отражает каждая диаграмма. Запишите в ответе порядковые номера стран под соответствующими буквами.



Ответ:

А	Б	В	Г
<input style="width: 20px; height: 20px;" type="text"/>	<input style="width: 20px; height: 20px;" type="text"/>	<input style="width: 20px; height: 20px;" type="text"/>	<input style="width: 20px; height: 20px;" type="text"/>

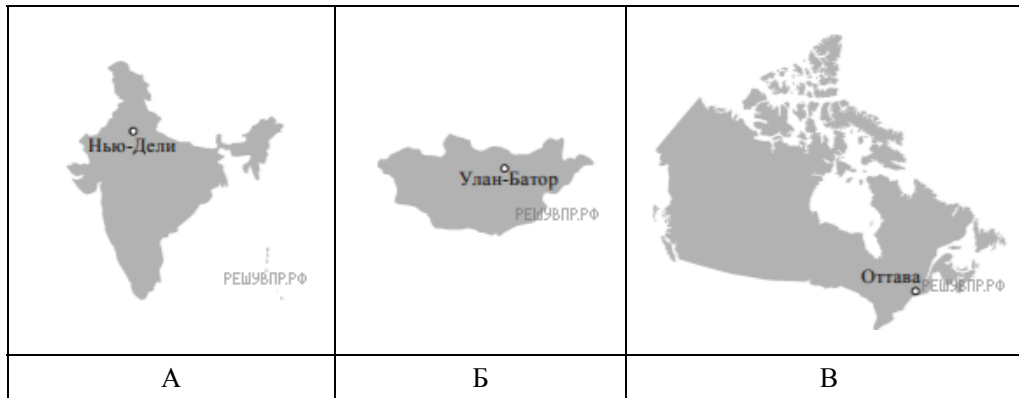
Представьте, что Вы познакомились со своим сверстником, который живёт за границей, и он прислал Вам фотографии, сделанные в его стране.

Рассмотрите фотографии и ответьте на вопросы.



22. В какой стране живёт Ваш сверстник?

23. Рассмотрите представленные ниже рисунки. Выберите рисунок с контуром страны, в которой живёт Ваш сверстник. Запишите в ответе букву, которой обозначен этот рисунок.



24. Предположите, какие ответы на вопросы о своей стране даст Ваш сверстник в ходе интервью. Запишите их в таблицу.

Вопрос	Ответ
1. В какой части света находится твоя страна?	
2. На каком полуострове расположена твоя страна?	
3. Какой океан омывает берега твоей страны?	
4. Какие крупные формы рельефа можно выделить в твоей стране?	
5. Какие реки протекают по территории твоей страны?	
6. Какую религию исповедует большинство жителей твоей страны?	
7. Какие достопримечательности можно посмотреть в твоей стране?	

Представьте, что Вам было поручено взять интервью у зарубежного сверстника, чтобы он познакомил Вас со своей страной. Для иллюстрации этого интервью Вы попросили его прислать несколько фотографий, сделанных в стране, в которой он живёт.

Рассмотрите фотографии и ответьте на вопросы.



В какой стране живёт Ваш сверстник?