

ВПР по географии 7 класс 2021 год. Вариант 11.

При выполнении заданий с кратким ответом впишите в поле для ответа цифру, которая соответствует номеру правильного ответа, или число, слово, последовательность букв (слов) или цифр. Ответ следует записывать без пробелов и каких-либо дополнительных символов. Дробную часть отделяйте от целой десятичной запятой. Единицы измерений писать не нужно.


Если вариант задан учителем, вы можете вписать или загрузить в систему ответы к заданиям с развернутым ответом. Учитель увидит результаты выполнения заданий с кратким ответом и сможет оценить загруженные ответы к заданиям с развернутым ответом. Выставленные учителем баллы отобразятся в вашей статистике.



Карта составлена по состоянию на 01.01.2019

1. На карте мира изображён маршрут экспедиции одного из путешественников, портреты которых представлены ниже. Рассмотрите карту и портреты путешественников и выполните задания.

Маршрут экспедиции кого из путешественников изображён на карте?



Марко Поло

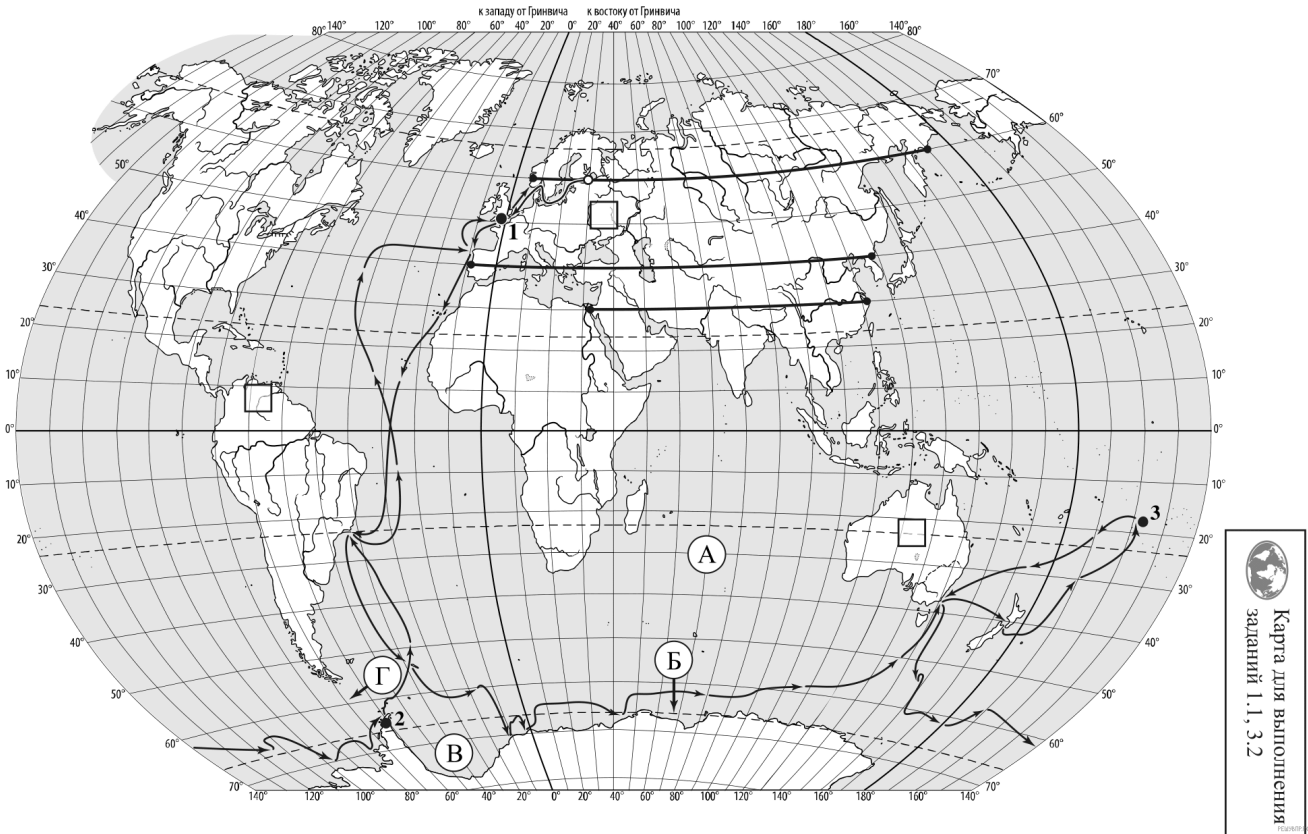


Н.М. Пржевальский



Ф.Ф. Беллинсгаузен

Подпишите на карте название материка, который был открыт в результате этой экспедиции.



Карта составлена по состоянию на 01.01.2021

2. На карте буквами обозначены объекты, определяющие географическое положение указанного Вами материка. Запишите в таблицу названия этих объектов.

А	Б	В	Г
<input type="text"/>	<input type="text"/>	<input type="text"/>	<input type="text"/>

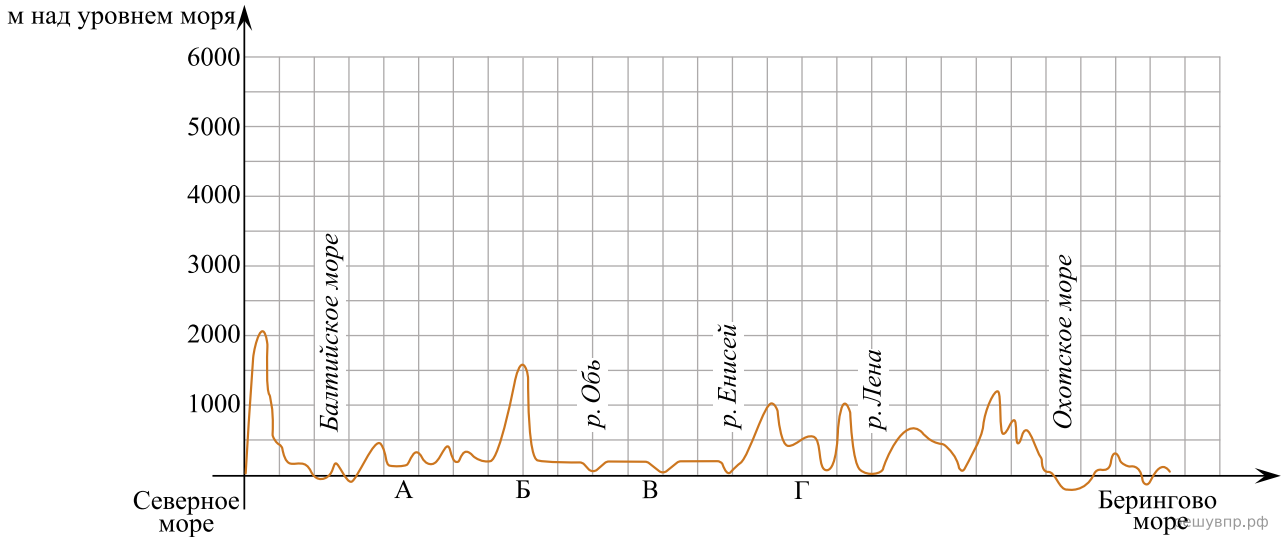
3. По линии маршрута экспедиции отмечены точки, расположенные на территории крупных географических объектов. Определите и запишите в ответе географические координаты точки 2.

4. Прочитайте текст, составленный по запискам путешественников, исследователей и туристов, посетивших объект, на территории которого расположена точка 2.

До 1961 года этот крупнейший полуостров на картах разных стран мира фигурировал под различными названиями: полуостров Палмера, Земля Грейама, Земля Сан-Мартина. Полуостров имеет гористый рельеф, который покрыт ледником, высота ледникового плато в центральной части полуострова местами достигает 2000 м. Вдоль побережья полуострова расположены шельфовые ледники. Самый холодный месяц на полуострове — июнь, со средними температурами $-15-20\text{ }^{\circ}\text{C}$; самый тёплый — январь, с температурой, близкой к $0\text{ }^{\circ}\text{C}$. В районе полуострова расположен ряд красивых бухт, небольших проливов и островов.

Запишите в ответе название этого географического объекта.

На уроке географии Виктор построил профиль рельефа Евразии, представленный на рисунке 1. Используя рисунок 1 и карту мира, выполните задания.



Карта составлена по состоянию на 01.01.2021

5. По какому из отрезков, проведённых на карте вдоль трёх параллелей, пересекающих материк Евразия, построен профиль рельефа, представленный на рисунке? Укажите в ответе значение параллели.

Определите по карте протяжённость материка Евразия в градусах по указанной Вами параллели.

Рассчитайте протяжённость материка Евразия по указанной Вами параллели в километрах с помощью приведённой ниже таблицы. Для расчёта воспользуйтесь калькулятором.

Широта	0°	10°	20°	30°	40°	50°	60°	70°	80°	90°
Длина дуги параллели в 1°, км	111,3	109,6	104,6	96,5	85,4	71,7	55,8	38,2	19,4	0

6. Укажите географическое название крупной формы рельефа, которой соответствует участок профиля, обозначенный на рисунке 1 буквой А.

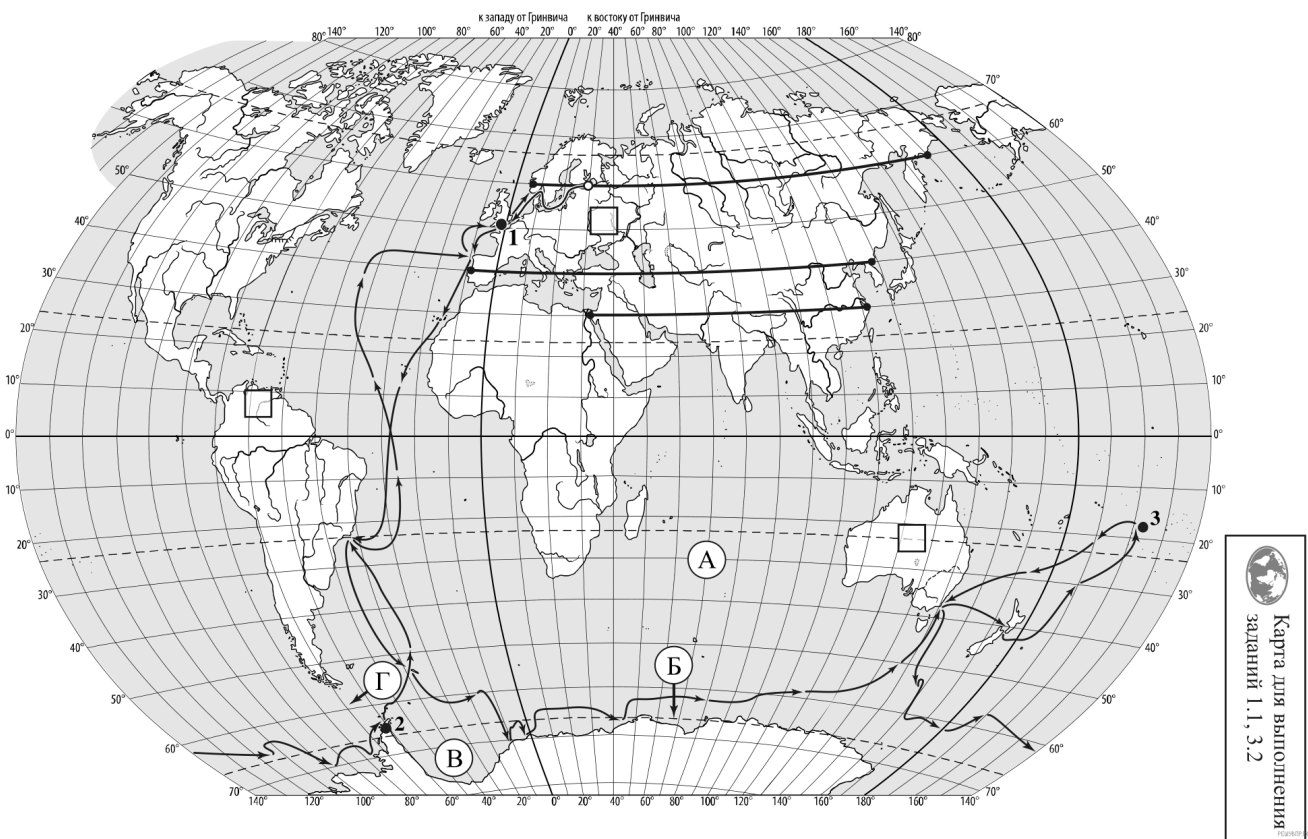
Какие абсолютные высоты преобладают на территории, через которую проходит профиль на этом участке?

7. На рисунке представлены значки, которыми обозначаются месторождения полезных ископаемых на географических картах.



Внесите в таблицу значки, обозначающие месторождения полезных ископаемых, которые добывают на территории, обозначенной на профиле буквой Б.

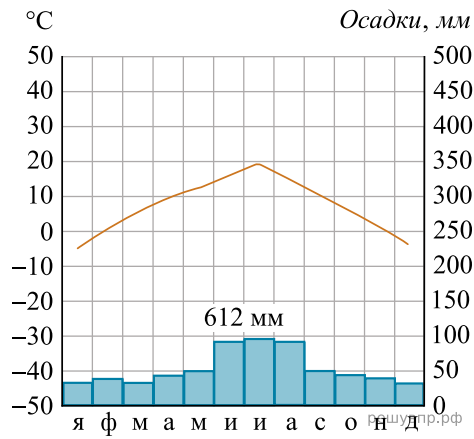
Нефть	Бурый уголь	Торф	Алюминиевые руды / Бокситы



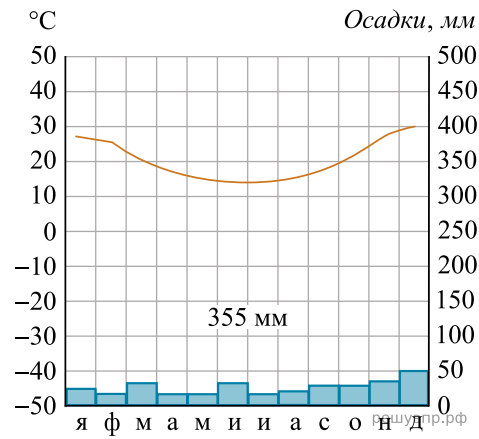
Карта составлена по состоянию на 01.01.2021

8. Рассмотрите рисунки с изображением климатограмм, построенных по данным метеонаблюдений в разных частях Земли, и выполните задания.

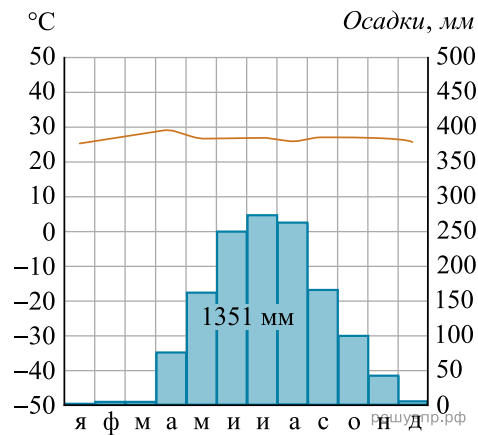
Определите, какому климатическому поясу соответствует каждая климатограмма. Подпишите название климатического пояса под соответствующей климатограммой.



1

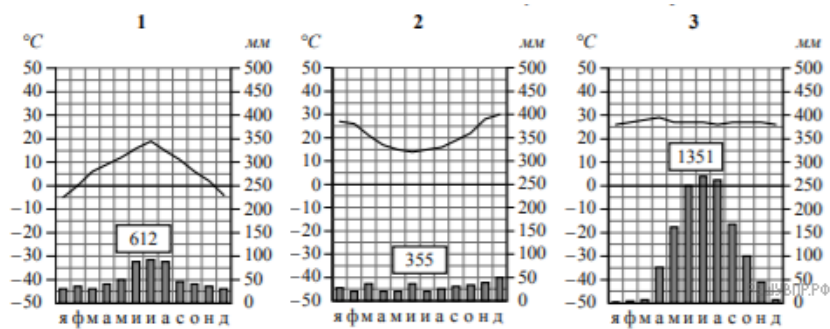


2



3

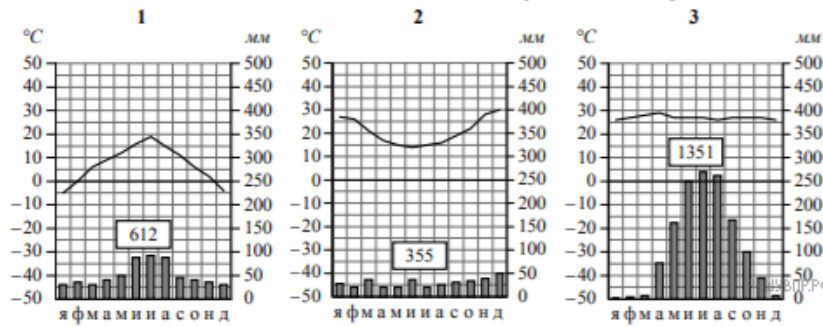
9. На карте мира, территории, для которых построены изображённые на рисунках климатограммы, обозначены пустыми квадратами. Впишите в каждый квадрат на карте номер соответствующей климатограммы.



10. Какой природной зоне мира соответствуют приведённые ниже характеристики? Укажите в ответе название этой природной зоны.

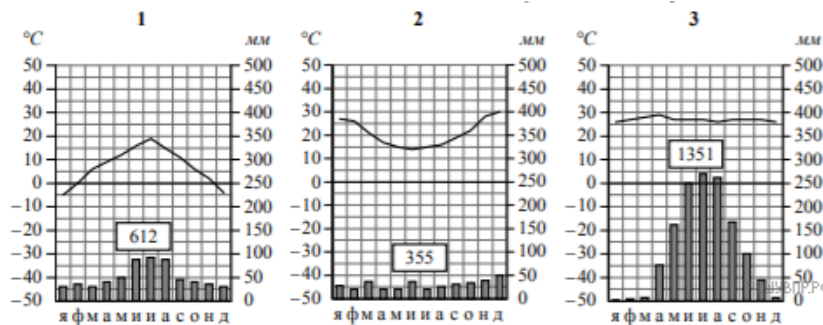
- 1) Занимает территории с засушливым климатом.
- 2) Распространены эоловые формы рельефа: дюны, барханы.
- 3) Преобладают каменистые или песчаные почвы.
- 4) Растительность не образует сплошного покрова, а на части территории почти отсутствует, видовой состав отличается на разных материках.
- 5) Много грызунов, членистоногих, пресмыкающихся.

Выберите климатограмму, соответствующую климатическим особенностям указанной Вами природной зоны. Укажите в ответе её номер.



11. По выбранной Вами в задании 3.2 климатограмме определите климатические показатели для указанной природной зоны и заполните таблицу.

Средняя температура воздуха, °С		Годовая амплитуда температур, °С	Годовое количество осадков, мм	Месяц, на который приходится наибольшее количество осадков
в январе	в июле			



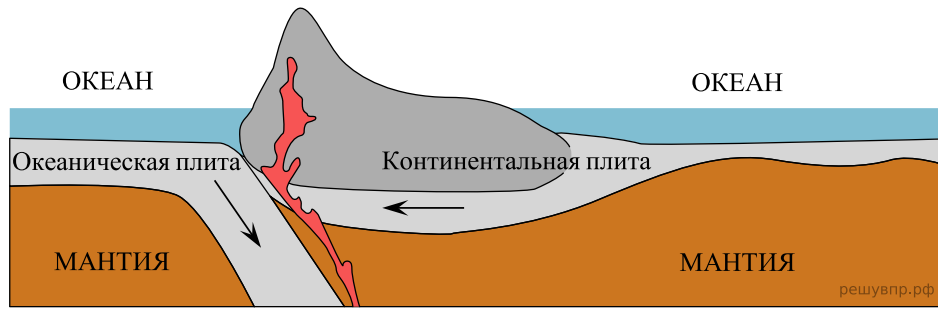
Для выполнения задание приводим текст задания 3.2:

Какой природной зоне мира соответствуют приведённые ниже характеристики? Укажите в ответе название этой природной зоны.

- 1) Занимает территории с засушливым климатом.
- 2) Распространены эоловые формы рельефа: дюны, барханы.
- 3) Преобладают каменистые или песчаные почвы.
- 4) Растительность не образует сплошного покрова, а на части территории почти отсутствует, видовой состав отличается на разных материках.
- 5) Много грызунов, членистоногих, пресмыкающихся.

Выберите климатограмму, соответствующую климатическим особенностям указанной Вами природной зоны. Укажите в ответе её номер.

Рассмотрите схему природного процесса и выполните задания.



12. Какой природный процесс отображён на схеме?

13. Установите последовательность этапов отображённого на схеме процесса. Запишите в ответе порядковые номера этапов.

ЭТАПЫ:

- 1) При столкновении более тонкая океаническая литосферная плита «подныривает» под более мощную континентальную плиту.
- 2) Вдоль линии соприкосновения плит на окраине материка образуются высокие горные хребты, а в океане — глубоководный жёлоб.
- 3) На окраине материка происходит поднятие континентальной плиты и смятие горных пород в складки.
- 4) Литосферные плиты перемещаются по верхней части мантии навстречу друг другу.
- 5) Происходят землетрясения и извержения вулканов.

14. Укажите географические названия форм рельефа суши и дна океана, образовавшихся на границе материка Южная Америка и Тихого океана в результате процесса, отображённого на схеме.

15. Установите соответствие между географическими особенностями и материками, для которых они характерны: для этого к каждой позиции первого столбца подберите соответствующую позицию из второго столбца.

ГЕОГРАФИЧЕСКИЕ ОСОБЕННОСТИ

МАТЕРИКИ

- | | |
|--|---|
| <p>А) Около половины площади материка занимают влажные экваториальные леса — сельва.</p> <p>Б) На материке находится самая высокая вершина Земли.</p> <p>В) На юго-западе материка глубоко в сушу вдаются моря, соединённые с океаном узким проливом.</p> <p>Г) Большую часть материка занимают низменности и плоскогорья, а на западе протягивается самая длинная горная цепь Земли.</p> <p>Д) Территория материка расположена во всех климатических поясах Земли.</p> <p>Е) На материке находится самое высокогорное озеро мира.</p> | <p>1) Южная Америка</p> <p>2) Евразия</p> |
|--|---|

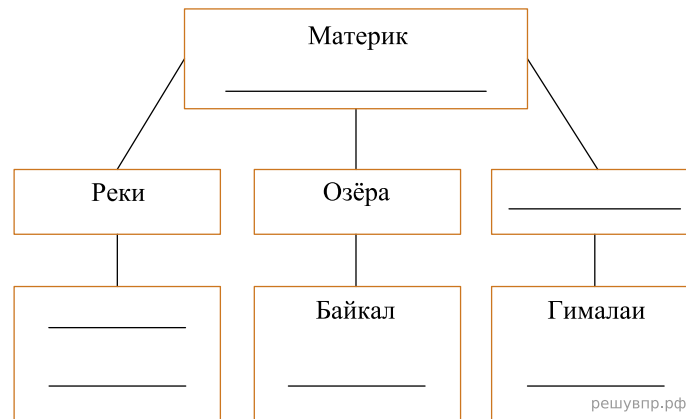
Запишите в таблицу выбранные цифры под соответствующими буквами.

Ответ:

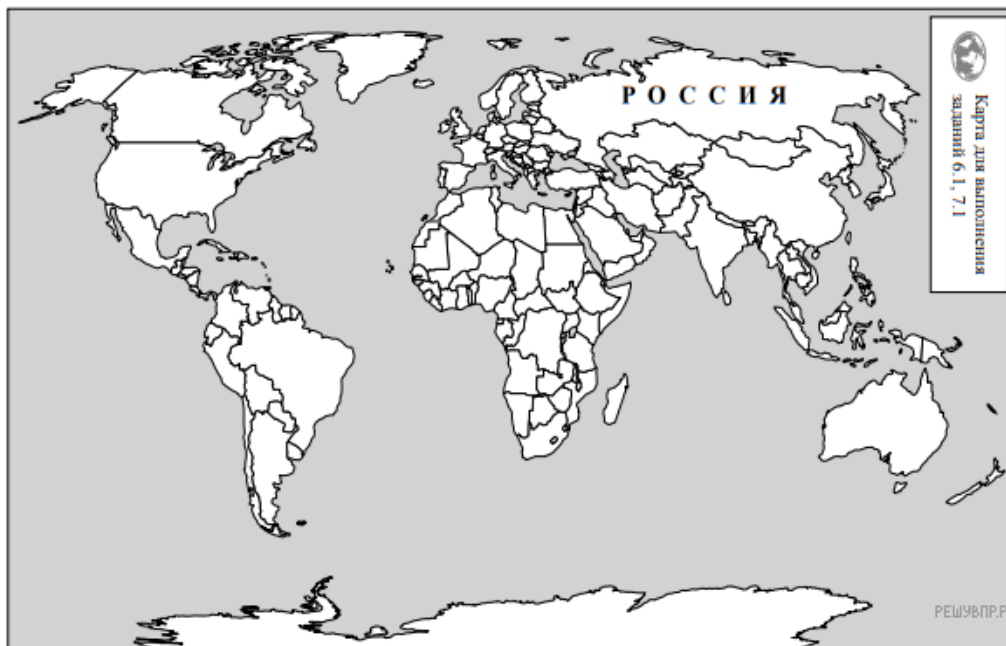
А	Б	В	Г	Д	Е
<input type="text"/>	<input type="text"/>	<input type="text"/>	<input type="text"/>	<input type="text"/>	<input type="text"/>

16. В приведённом ниже списке перечислены крупные географические объекты. Выберите из списка названия географических объектов, расположенных на территории одного из указанных в задании 5.1 материков, и заполните схему. Впишите в схему название материка, типы и названия выбранных Вами географических объектов.

Альпы, Верхнее, Анды, Дарлинг, Калахари, Замбези, Янцзы, Виктория, Карибское, Обь, Аппалачи, Ладожское.




Карлос и Глеб познакомились на отдыхе. Карлос живёт в столице Мексики, а Глеб — в столице Белоруссии. Подростки общаются через Интернет, и при общении им приходится учитывать разницу во времени между их городами.



Карта составлена по состоянию на 01.01.2019


17. На политической карте мира выделите штриховкой страны, в которых живут подростки.

Карлос и Глеб познакомились на отдыхе. Карлос живёт в столице Мексики, а Глеб — в столице Белоруссии. Подростки общаются через Интернет, и при общении им приходится учитывать разницу во времени между их городами.




Гринвич
00:00 (полночь)

решувпр.рф



7 марта
18:00

решувпр.рф

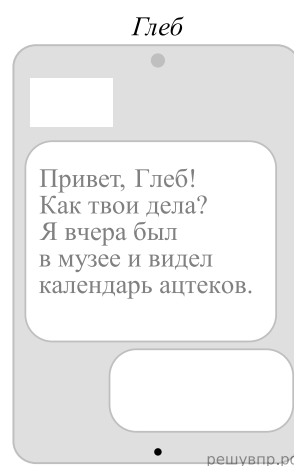
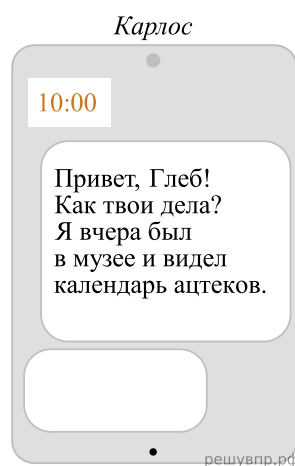


8 марта
03:00

решувпр.рф

18. Вследствие вращения Земли время различается в разных её частях, и в Белоруссии день наступает раньше, чем в Мексике. Часы на рисунках отображают время в городах, где живут подростки. Подпишите названия городов под соответствующими часами.

19. Карлос отправил Глебу электронное сообщение в 10:00 по местному времени.

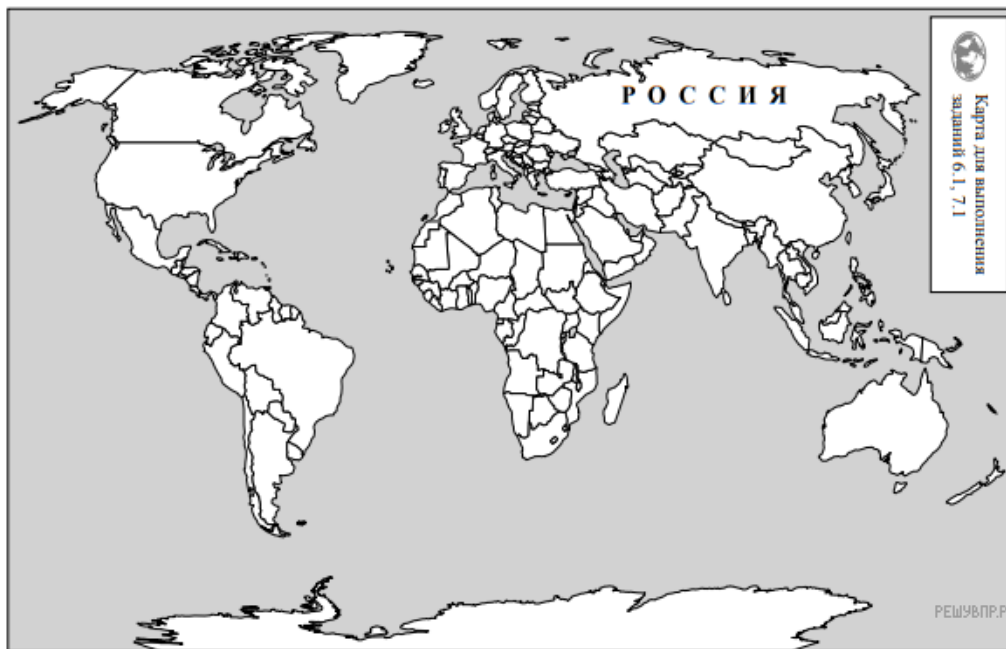


Какое время будет отображаться в соответствующем окне на экране смартфона, когда Глеб получит сообщение от Карлоса?

Используя представленную ниже таблицу и политическую карту мира выполните задания.

Численность и состав населения, 2017 г.

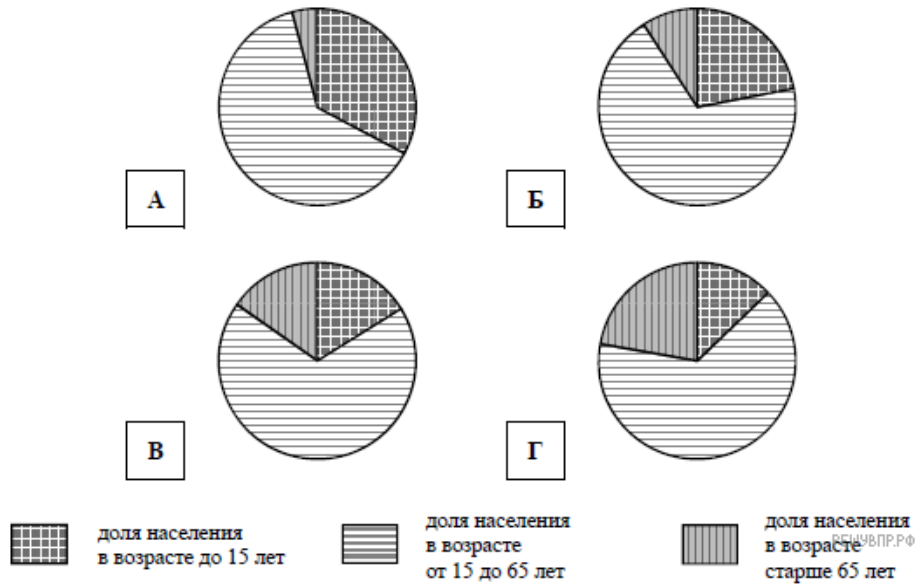
№	Страна	Численность населения, млн человек	Возрастной состав, %		
			доля населения в возрасте до 15 лет	доля населения в возрасте от 15 до 65 лет	доля населения в возрасте старше 65 лет
1	Бразилия	211	22	69	9
2	Куба	11	16	68	15
3	Египет	95	33	63	4
4	Германия	81	13	65	22



Карта составлена по состоянию на 01.01.2017

20. Подпишите на политической карте мира название страны, занимающей второе место в таблице по численности населения.

21. Определите, возрастной состав населения какой страны отражает каждая диаграмма. Запишите в ответе порядковые номера стран под соответствующими буквами.



Ответ:

А	Б	В	Г
<input type="text"/>	<input type="text"/>	<input type="text"/>	<input type="text"/>

Представьте, что Вы познакомились со своим сверстником, который живёт за границей, и он прислал Вам фотографии, сделанные в его стране.

Рассмотрите фотографии и ответьте на вопросы.



22. В какой стране живёт Ваш сверстник?

23. Рассмотрите представленные ниже рисунки. Выберите рисунок с контуром страны, в которой живёт Ваш сверстник. Запишите в ответе букву, которой обозначен этот рисунок.



24. Предположите, какие ответы на вопросы о своей стране даст Ваш сверстник в ходе интервью. Запишите их в таблицу.

Вопрос	Ответ
1. На каком материке находится твоя страна?	
2. Какие океаны омывают берега твоей страны?	
3. Какие полезные ископаемые добывают в твоей стране?	
4. Какие природные зоны занимают большую часть твоей страны?	
5. К какой расе относится коренное население твоей страны?	
6. Какие сельскохозяйственные культуры выращиваются в твоей стране?	
7. Какие достопримечательности можно посмотреть в твоей стране?	

Для выполнения задания приводим текст задания 8.1:

Представьте, что Вам было поручено взять интервью у зарубежного сверстника, чтобы он познакомил Вас со своей страной. Для иллюстрации этого интервью Вы попросили его прислать несколько фотографий, сделанных в стране, в которой он живёт.

Рассмотрите фотографии и ответьте на вопросы.



В какой стране живёт Ваш сверстник?