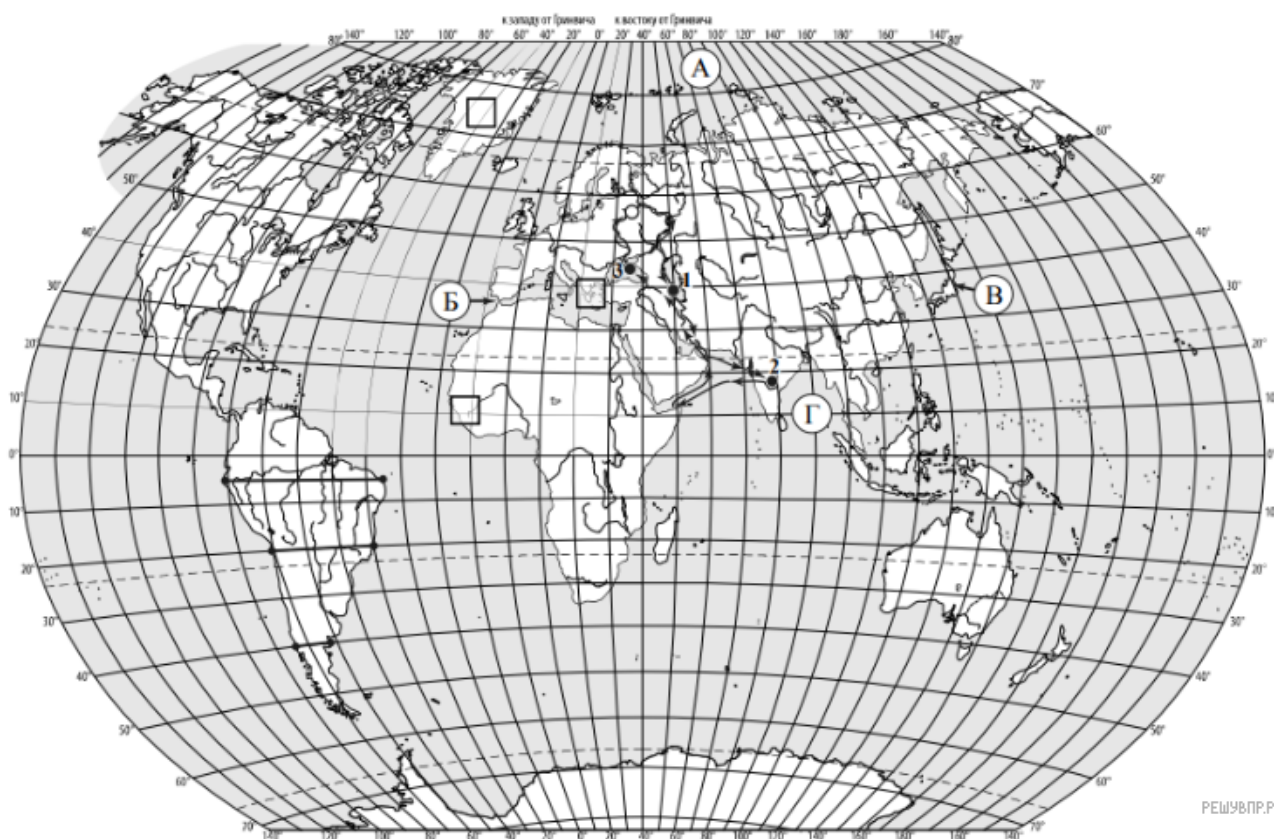


ВПР по географии 7 класс 2021 год. Вариант 8.

При выполнении заданий с кратким ответом впишите в поле для ответа цифру, которая соответствует номеру правильного ответа, или число, слово, последовательность букв (слов) или цифр. Ответ следует записывать без пробелов и каких-либо дополнительных символов. Дробную часть отделяйте от целой десятичной запятой. Единицы измерений писать не нужно.

Если вариант задан учителем, вы можете вписать или загрузить в систему ответы к заданиям с развернутым ответом. Учитель увидит результаты выполнения заданий с кратким ответом и сможет оценить загруженные ответы к заданиям с развернутым ответом. Выставленные учителем баллы отобразятся в вашей статистике.



Карта составлена по состоянию на 01.01.2020

1. На карте мира изображён маршрут экспедиции одного из путешественников, портреты которых представлены ниже. Рассмотрите карту и портреты путешественников и выполните задания.


Маршрут экспедиции кого из путешественников изображён на карте?



Г.И. Шелихов



Александр Гумбольдт



Афанасий Никитин

РЕШУ ВПР.РФ

Подпишите на карте название материка, по которому проходил маршрут этой экспедиции.

2. На карте буквами обозначены объекты, определяющие географическое положение указанного Вами материка. Запишите в таблицу названия этих объектов.

А	Б	В	Г
<input type="text"/>	<input type="text"/>	<input type="text"/>	<input type="text"/>

Для выполнения задания приводим текст задания 1.1:

На карте мира изображён маршрут экспедиции одного из путешественников, портреты которых представлены ниже. Рассмотрите карту и портреты путешественников и выполните задания.


Маршрут экспедиции кого из путешественников изображён на карте?



Г.И. Шелихов



Александр Гумбольдт



Афанасий Никитин

Подпишите на карте название океана, в котором начинался маршрут этой экспедиции.

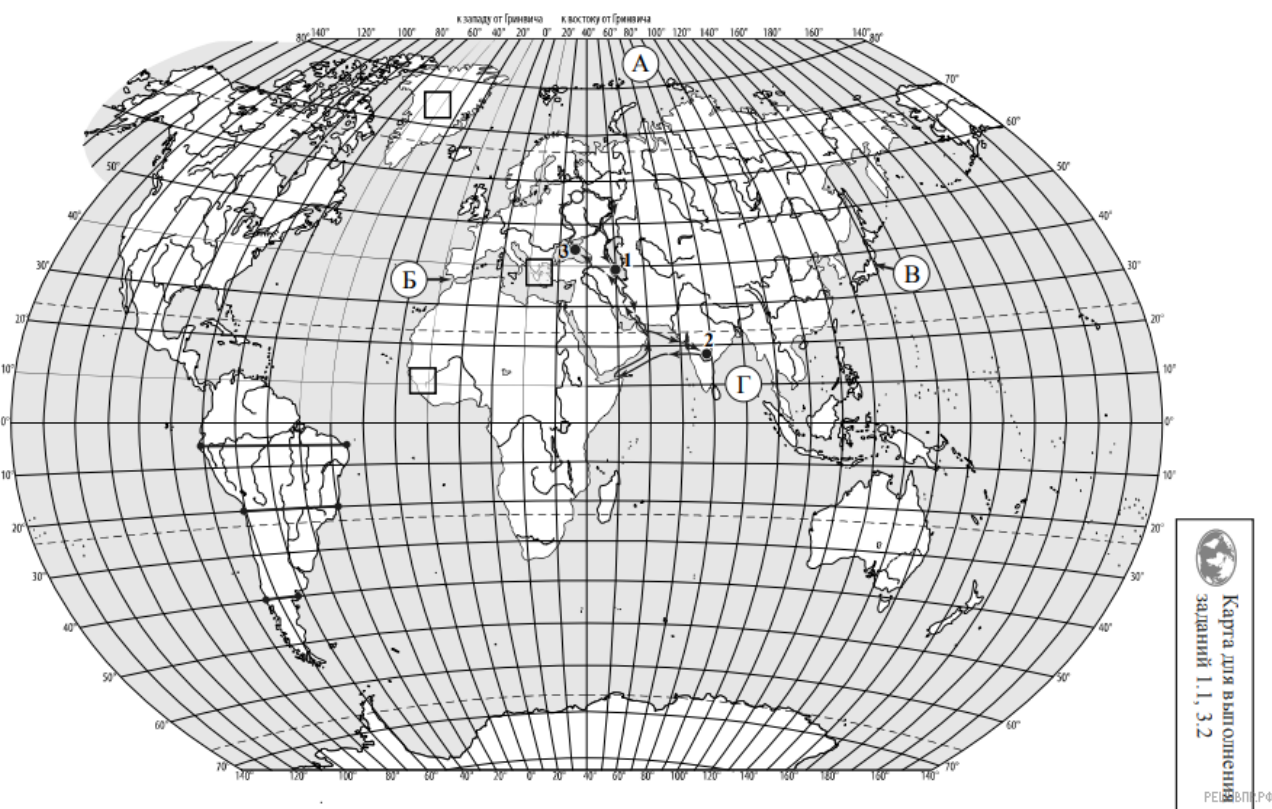
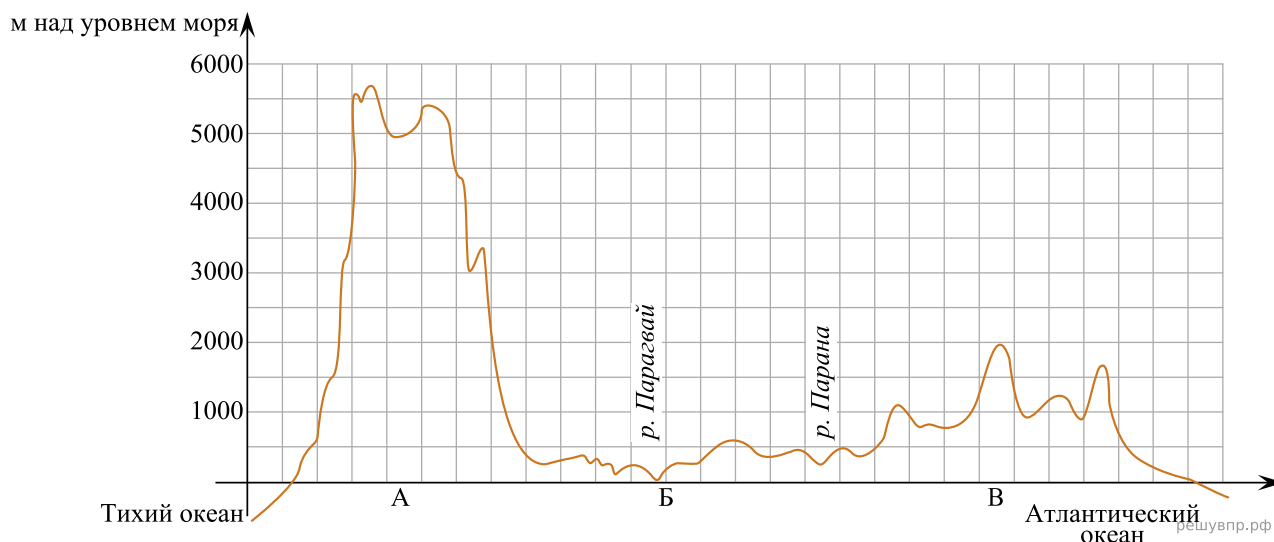
3. По линии маршрута экспедиции отмечены точки, расположенные на территории крупных географических объектов. Определите и запишите в ответе географические координаты **точки 1**.

4. Прочитайте текст, составленный по запискам путешественников, исследователей и туристов, посещавших объект, на территории которого расположена **точка 1**.

Этот крупнейший на Земле замкнутый водоём, не имеющий выхода в океан, называют «море-озеро». Вода в нём чуть солоновата. Уровень воды постоянно изменяется и в отдельные годы опускается на 20–25 м, в связи с чем площадь озера сильно сокращается. В него впадает более 100 рек, в том числе одна из главных рек России — Волга. При впадении она образует огромную дельту, где расположен крупный порт — Астрахань. Берега озера сильно различаются в разных его частях. На севере берега низкие, изрезанные протоками и мелкими островами, местами сильно заболочены; восточные берега сложены известковыми породами, здесь к озеру примыкают пустыни и полупустыни. В озере водится более 100 видов рыб, в том числе ценных осетровых пород, а на шельфе разрабатываются месторождения нефти и природного газа.

Запишите в ответе название этого географического объекта.

На уроке географии Владислав построил профиль рельефа Южной Америки, представленный на рисунке. Используя рисунок и карту мира, выполните задания.



Карта составлена по состоянию на 01.01.2020

5. По какому из отрезков, проведённых на карте вдоль трёх параллелей, пересекающих материк Южная Америка, построен профиль рельефа, представленный на рисунке? Укажите в ответе значение параллели.

Определите по карте протяжённость материка Южная Америка в градусах по указанной Вами параллели.

Рассчитайте протяжённость материка Южная Америка по указанной Вами параллели в километрах с помощью приведённой ниже таблицы. (Для расчёта воспользуйтесь калькулятором.)

Широта	0°	5°	10°	15°	20°	25°	30°	35°	40°
Длина дуги параллели в 1°, км	111,3	110,9	109,6	107,6	104,6	101,0	96,5	91,3	85,4