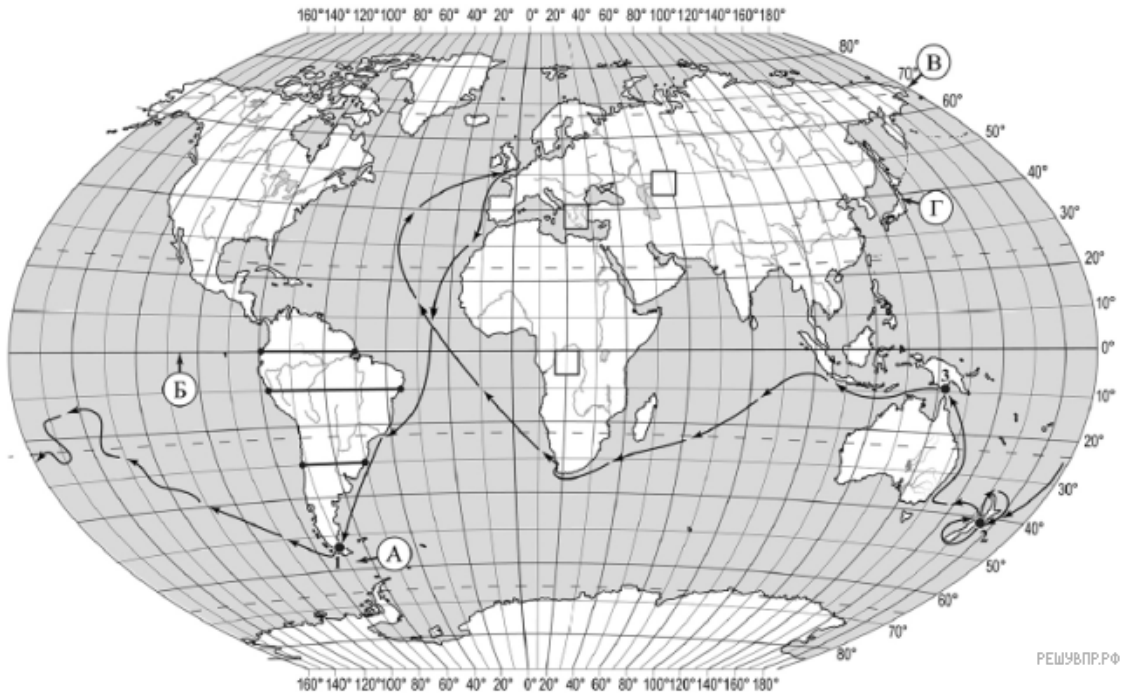


ВПр по географии 7 класс 2019 год. Вариант 4.

При выполнении заданий с кратким ответом впишите в поле для ответа цифру, которая соответствует номеру правильного ответа, или число, слово, последовательность букв (слов) или цифр. Ответ следует записывать без пробелов и каких-либо дополнительных символов. Дробную часть отделяйте от целой десятичной запятой. Единицы измерений писать не нужно.

Если вариант задан учителем, вы можете вписать или загрузить в систему ответы к заданиям с развернутым ответом. Учитель увидит результаты выполнения заданий с кратким ответом и сможет оценить загруженные ответы к заданиям с развернутым ответом. Выставленные учителем баллы отобразятся в вашей статистике.




Карта составлена по состоянию на 01.01.2019

1. На карте мира изображён маршрут экспедиции одного из путешественников, портреты которых представлены ниже. Рассмотрите карту и портреты путешественников и выполните задания.

Маршрут экспедиции кого из путешественников изображён на карте?



Джеймс Кук



Афанасий Никитин



Н.М. Пржевальский

Подпишите на карте название самого большого океана, по которому проходил маршрут этой экспедиции.

2. На карте буквами обозначены объекты, определяющие географическое положение указанного Вами океана. Запишите в таблицу названия этих объектов.

А	Б	В	Г
<input type="text"/>	<input type="text"/>	<input type="text"/>	<input type="text"/>

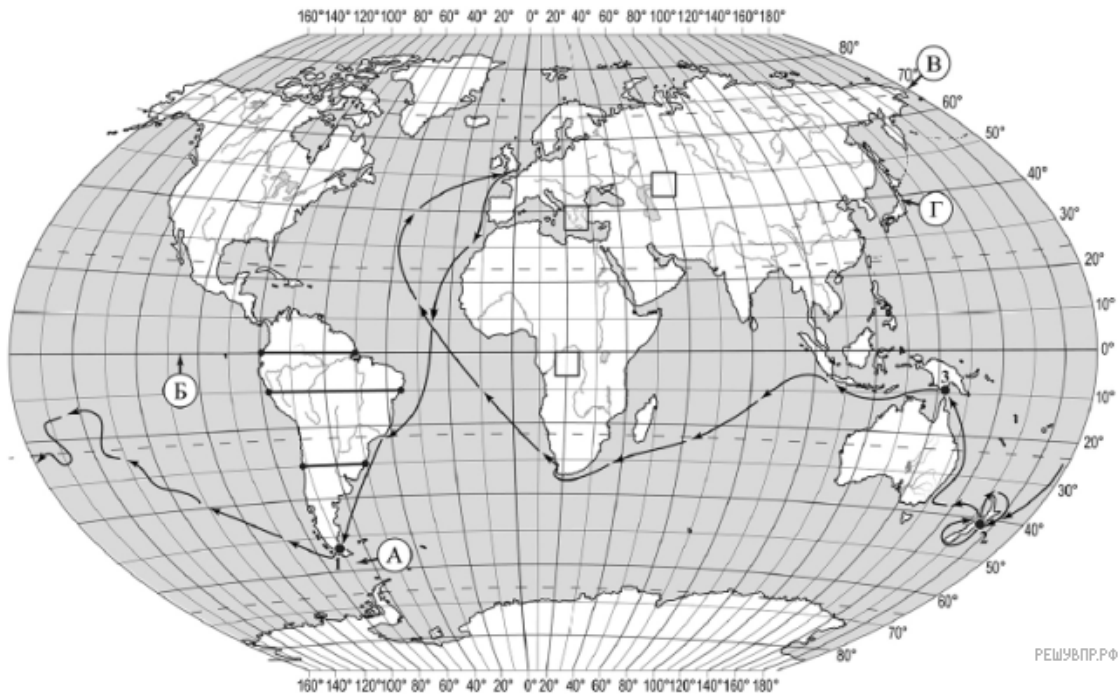
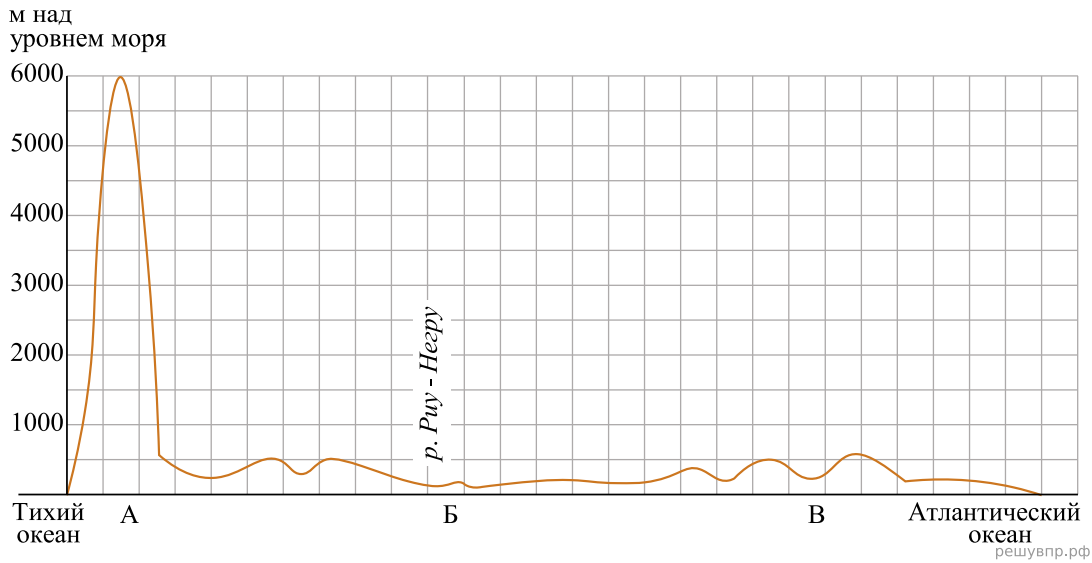
3. По линии маршрута экспедиции отмечены точки, расположенные на территории крупных географических объектов. Определите и запишите в ответе географические координаты точки 3.

4. Прочитайте текст, составленный по запискам путешественников, исследователей и туристов, посещавших объект, на территории которого расположена точка 3.

Это второй по величине остров после Гренландии. Он имеет сложный гористый рельеф, здесь есть действующие вулканы и горячие источники. Остров окружён удивительными по красоте коралловыми рифами. Для путешественников и туристов этот остров — настоящий уголок дикой природы. Эдемский сад — так называют участок в западной части острова, где на площади в 300 тысяч гектаров произрастает около 11 тысяч видов растений, обитает множество уникальных видов бабочек, о которых наука до сих пор ничего не знала. Учёные нашли там «райскую птицу», которая считалась вымершей, и редчайшее млекопитающее — древесного кенгуру. Остров удивляет не только своей первозданной природой, но и сохранившейся древней культурой. Коренные жители острова — папуасы, образованное ими государство занимает половину территории острова.

Запишите в ответе название этого географического объекта.

На уроке географии Кристина построила профиль рельефа Южной Америки, представленный на рисунке. Используя рисунок и карту мира выполните задания.



Карта составлена по состоянию на 01.01.2019

5. По какому из отрезков, проведённых на карте вдоль трёх параллелей, пересекающих материк Южная Америка, построен профиль рельефа, представленный на рисунке? Укажите в ответе значение параллели.

Определите по карте протяжённость материка Южная Америка в градусах по указанной Вами параллели.


Рассчитайте протяжённость материка Северная Америка по указанной Вами параллели в километрах с помощью приведённой ниже таблицы. Для расчёта воспользуйтесь калькулятором.

Широта	0°	10°	20°	30°	40°	50°	60°	70°	80°	90°
Длина дуги параллели в 1°, км	111,3	109,6	104,6	96,5	85,4	71,7	55,8	38,2	19,4	0

6. Укажите географическое название крупной формы рельефа, которой соответствует участок профиля, обозначенный на рисунке буквой Б.

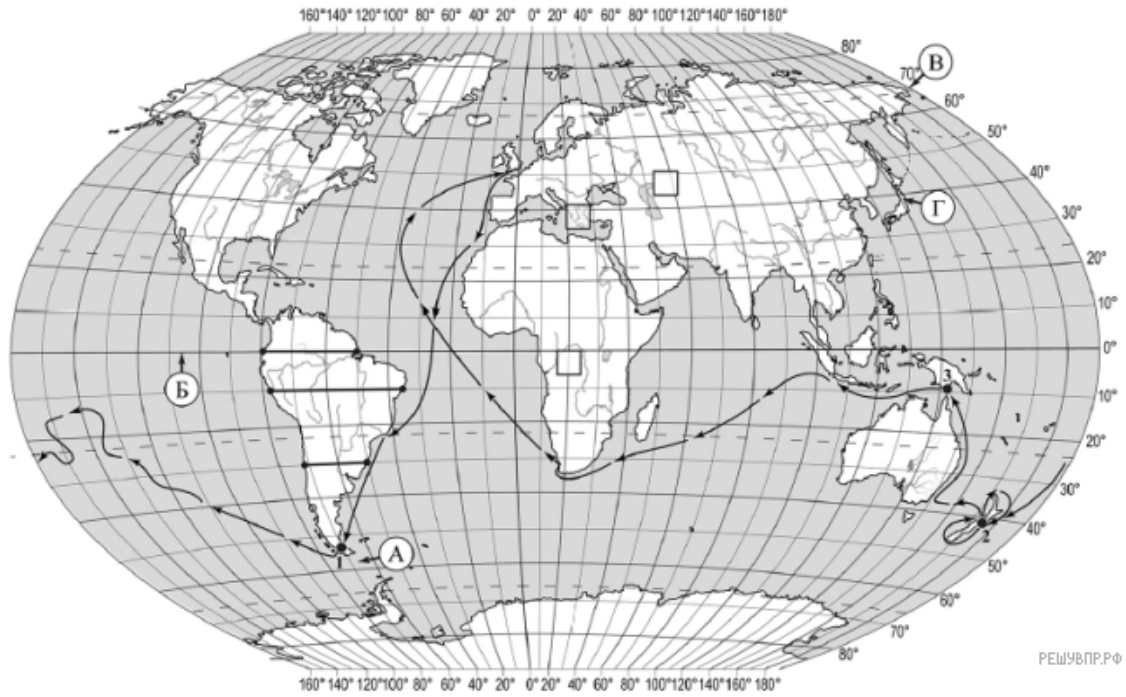
Определите наибольшую абсолютную высоту территории, через которую проходит профиль на этом участке.

7. На рисунке представлены значки, которыми обозначаются месторождения полезных ископаемых на географических картах.



Внесите в таблицу значки, обозначающие месторождения полезных ископаемых, которые добывают на территории, обозначенной на профиле буквой Б.

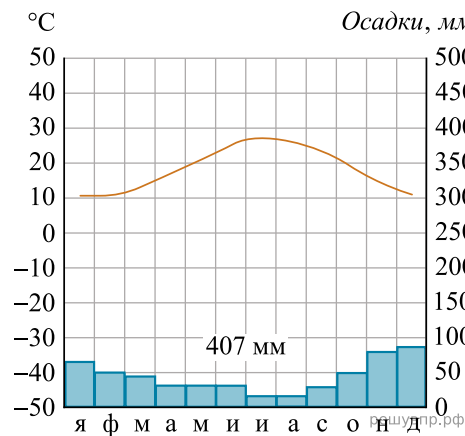
Марганцевые руды	Нефть	Бокситы	Оловянные руды



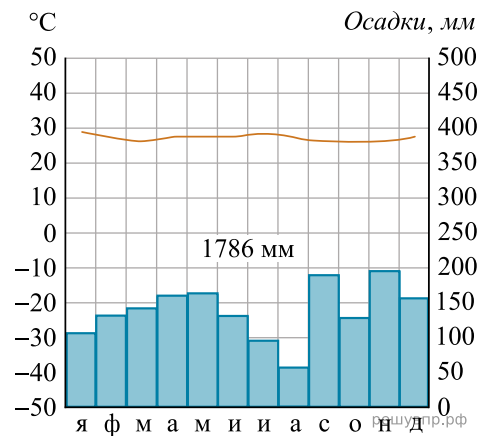
Карта составлена по состоянию на 01.01.2019

8. Рассмотрите рисунки с изображением климатограмм, построенных по данным метеонаблюдений в разных частях Земли, и выполните задания.

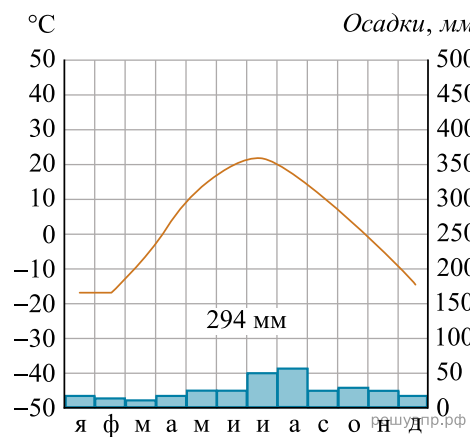
Определите, какому климатическому поясу соответствует каждая климатограмма. Подпишите название климатического пояса под соответствующей климатограммой.



1

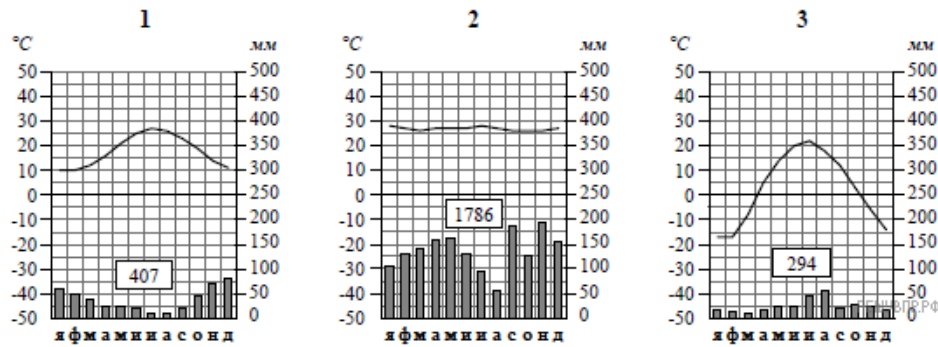


2



3

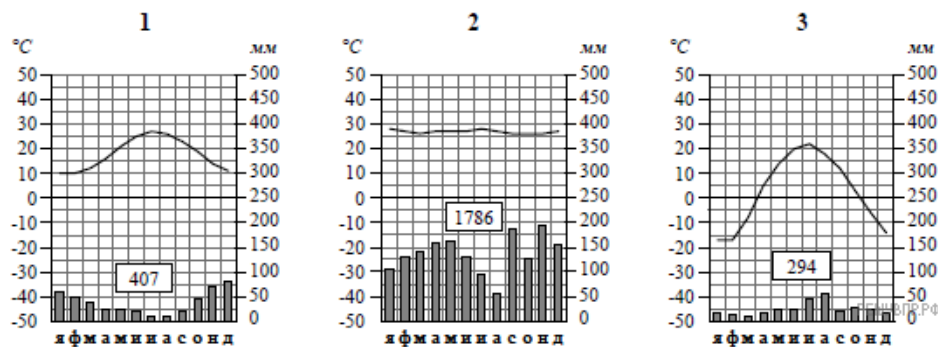
9. На карте мира, территории, для которых построены изображённые на рисунках климатограммы, обозначены пустыми квадратами. Впишите в каждый квадрат на карте номер соответствующей климатограммы.



10. Какой природной зоне мира соответствуют приведённые ниже характеристики? Укажите в ответе название этой природной зоны.

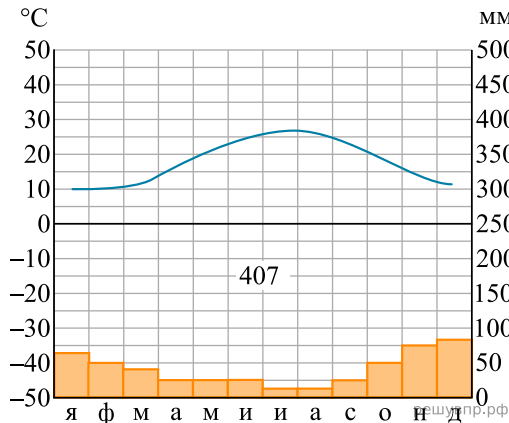
- 1) Распространены чернозёмные почвы, богатые перегноем и очень плодородные.
- 2) Занимает внутренние районы материков.
- 3) Растительный мир отличается богатым разнотравьем, среди которого преобладают злаки — ковыль, типчак, тонконог.
- 4) Среди животных преобладают грызуны: суслик, тушканчик, хомяк; много птиц и пресмыкающихся.
- 5) Тёплое засушливое лето с сухими горячими ветрами — суховеями.

Выберите климатограмму, соответствующую климатическим особенностям указанной Вами природной зоны. Укажите в ответе её номер.

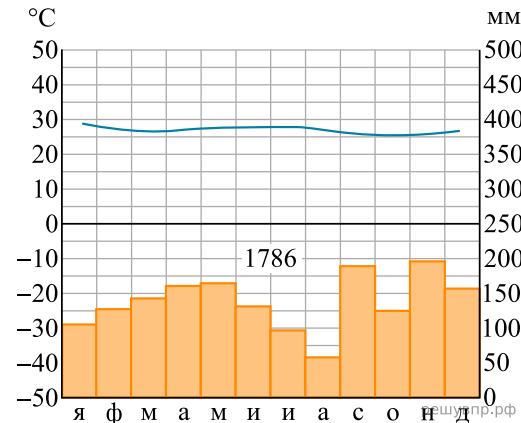


11. По выбранной Вами в задании 3.2 климатограмме определите климатические показатели для указанной природной зоны и заполните таблицу.

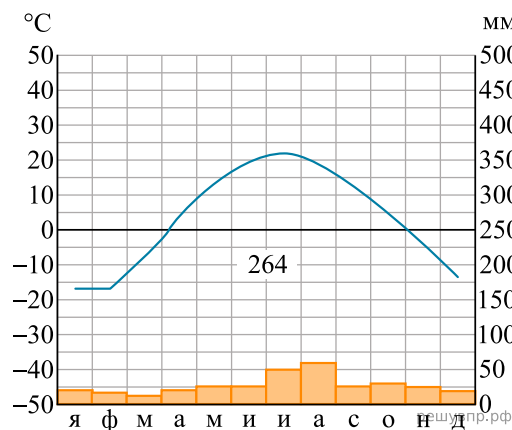
Средняя температура воздуха, °С		Годовая амплитуда температур, °С	Годовое количество осадков, мм	Месяц, на который приходится наибольшее количество осадков
в январе	в июле			



1



2



3

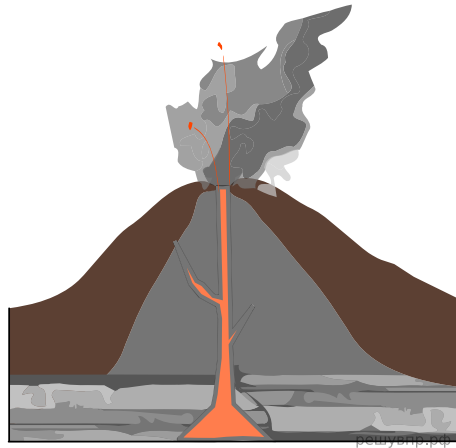
Для выполнения задания приводим текст задания 3.2:

Какой природной зоне мира соответствуют приведённые ниже характеристики? Укажите в ответе название этой природной зоны.

- 1) Распространены чернозёмные почвы, богатые перегноем и очень плодородные.
- 2) Занимает внутренние районы материков.
- 3) Растительный мир отличается богатым разнотравьем, среди которого преобладают злаки — ковыль, типчак, тонконог.
- 4) Среди животных преобладают грызуны: суслик, тушканчик, хомяк; много птиц и пресмыкающихся.
- 5) Тёплое засушливое лето с сухими горячими ветрами — суховеями.

Выберите климатограмму, соответствующую климатическим особенностям указанной Вами природной зоны. Укажите в ответе её номер.

Рассмотрите схему природного процесса и выполните задания.



12. Какой природный процесс отобразён на схеме?

13. Установите последовательность этапов отображённого на схеме процесса. Запишите в ответе порядковые номера этапов.

ЭТАПЫ:

- 1) Лава на земной поверхности охлаждается и затвердевает, образуя вулканическую породу.
- 2) В верхней мантии образуется очаг магмы.
- 3) При накоплении застывшей лавы формируется конусовидная гора с кратером на вершине, через который происходят последующие излияния лавы.
- 4) Магма поднимается по трещинам в земной коре и изливается на земную поверхность в виде лавы.
- 5) Раскалённая магма выделяет газы и пары воды, которые, создавая огромное давление, обеспечивают продвижение магмы к земной поверхности.

14. Приведите не менее двух примеров географических объектов, на территории которых происходит указанный Вами природный процесс.

15. Установите соответствие между географическими особенностями и материками, для которых они характерны: для этого к каждой позиции первого столбца подберите соответствующую позицию из второго столбца.

ГЕОГРАФИЧЕСКИЕ ОСОБЕННОСТИ

- А) На западе материка протянулась одна из самых крупных горных систем мира, возникшая на стыке океанической и континентальной литосферных плит.
- Б) Восточная часть материка — это современная рифтовая зона с глыбовыми горами и глубочайшими впадинами, многие из которых заняты озёрами.
- В) По территории материка протекает одна из самых длинных рек мира.
- Г) Большая часть современного населения материка — потомки переселенцев из Европы и других частей света.
- Д) На материке расположена самая крупная пустыня мира.
- Е) К северу от материка расположен один из крупнейших в мире архипелагов.

МАТЕРИКИ

- 1) Северная Америка
- 2) Африка

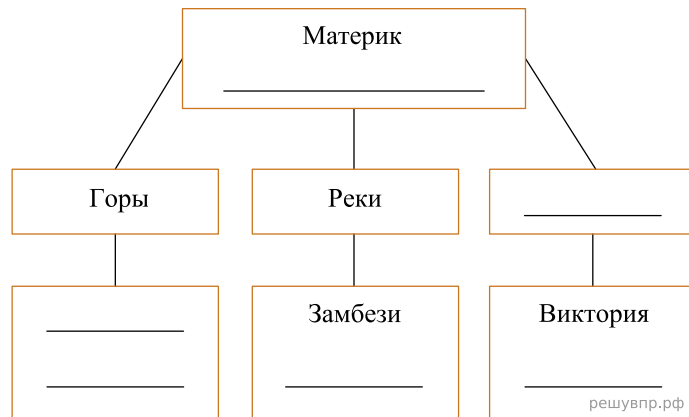
Запишите в таблицу выбранные цифры под соответствующими буквами.

Ответ:

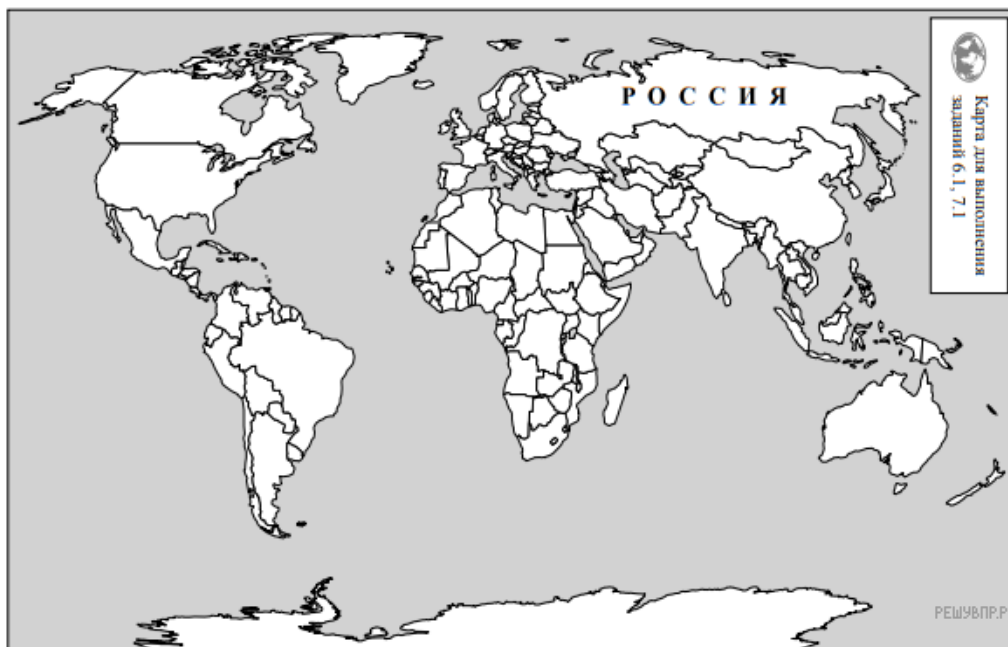
А	Б	В	Г	Д	Е
<input type="text"/>	<input type="text"/>	<input type="text"/>	<input type="text"/>	<input type="text"/>	<input type="text"/>

16. В приведённом ниже списке перечислены крупные географические объекты. Выберите из представленного ниже списка названия географических объектов, расположенных на территории одного из материков: Северная Америка, Африка, и заполните схему. Впишите в схему название материка, типы и названия выбранных Вами географических объектов.

Кордильеры, Купер-Крик, Драконовы, Байкал, Гималаи, Эйр-Норт, Колорадо, Конго, Большое Медвежье, Брахмапутра, Атлас, Танганьика.




Диего и Ахмет познакомились на чемпионате мира по шахматам среди школьников. Диего живёт в столице Аргентины, а Ахмет — в столице Турции. Подростки общаются через Интернет, и при общении им приходится учитывать разницу во времени между их городами.




Карта составлена по состоянию на 01.01.2019

17. На политической карте мира выделите штриховкой страны, в которых живут подростки.


Диего и Ахмет познакомились на чемпионате мира по шахматам среди школьников. Диего живёт в столице Аргентины, а Ахмет — в столице Турции. Подростки общаются через Интернет, и при общении им приходится учитывать разницу во времени между их городами.



Гринвич
00:00 (полночь)
решувпр.рф



2 августа
03:00
решувпр.рф



1 августа
21:00
решувпр.рф

18. Вследствие вращения Земли время различается в разных её частях, и в Турции день наступает раньше, чем в Аргентине. Часы на рисунках отображают время в городах, где живут подростки. Подпишите названия городов под соответствующими часами.

Диего и Ахмет познакомились на чемпионате мира по шахматам среди школьников. Диего живёт в столице Аргентины, а Ахмет — в столице Турции. Подростки общаются через Интернет, и при общении им приходится учитывать разницу во времени между их городами.



Карта составлена по состоянию на 01.01.2019

19. Диего отправил Ахмету электронное сообщение в 09:00 по местному времени.

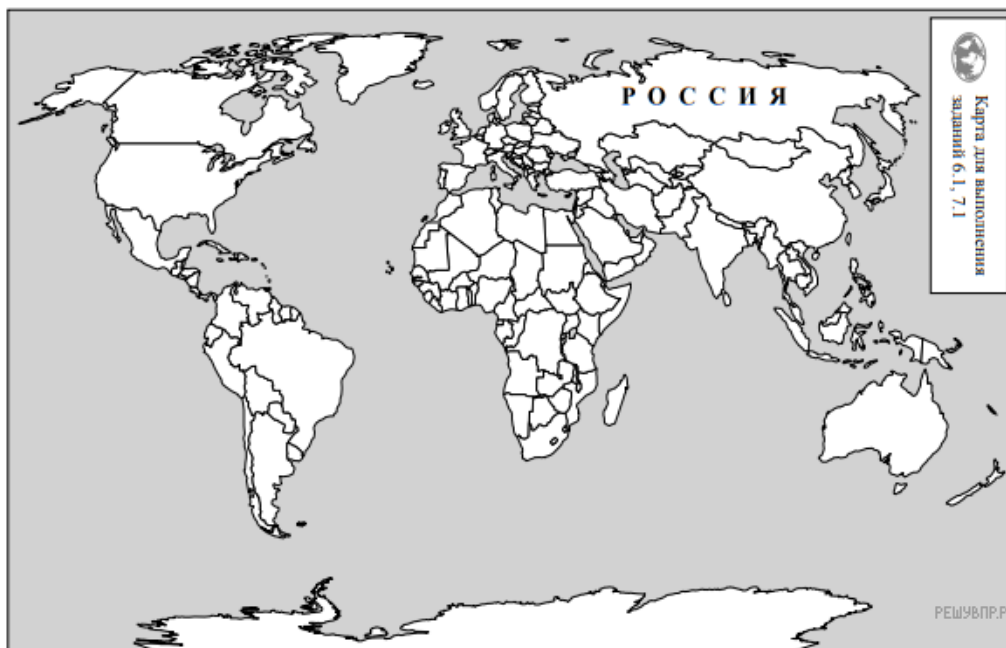


Какое время будет отображаться в соответствующем окне на экране смартфона, когда Ахмет получит сообщение от Диего?

Используя представленную ниже таблицу и политическую карту мира выполните задания.

Численность и состав населения, 2017 г.

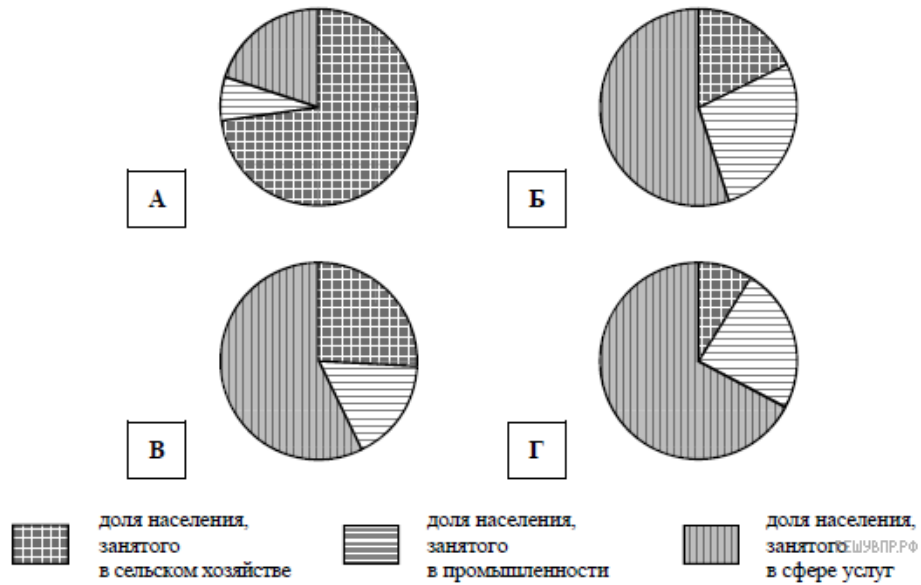
№	Страна	Численность занятого населения, млн человек	Доля занятого населения, %		
			в сельском хозяйстве	в промышленности	в сфере услуг
1	Португалия	5,2	9	24	67
2	Эфиопия	52,8	73	7	20
3	Турция	31,3	18	27	55
4	Перу	17,0	26	17	57



Карта составлена по состоянию на 01.01.2017

20. Подпишите на политической карте мира название страны с самой большой численностью занятого населения.

21. Определите, структуру занятости населения какой страны отражает каждая диаграмма. Запишите в ответе порядковые номера стран под соответствующими буквами.



Ответ:

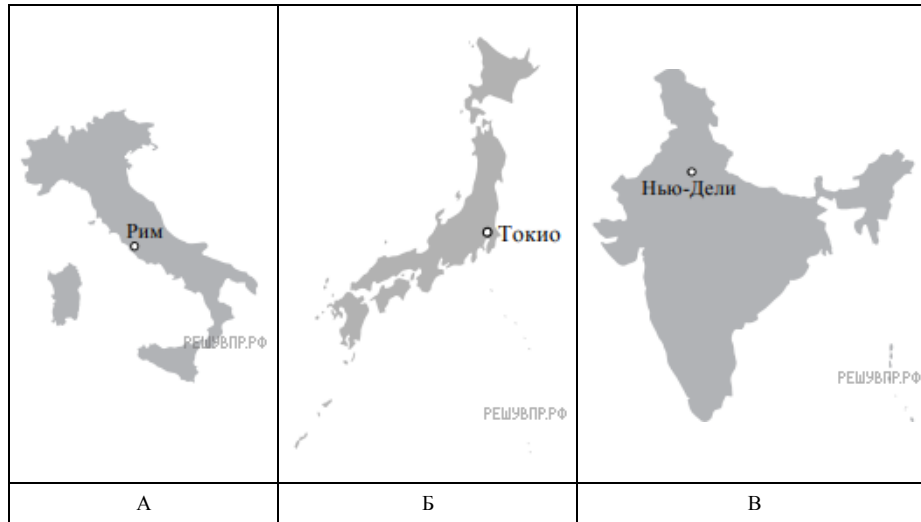
А	Б	В	Г

22. Представьте, что Вам было поручено взять интервью у зарубежного сверстника, чтобы он познакомил Вас со своей страной. Для иллюстрации этого интервью Вы попросили его прислать несколько фотографий, сделанных в стране, в которой он живёт. Рассмотрите фотографии и ответьте на вопросы.



В какой стране живёт Ваш сверстник?
 Как называется столица этой страны?

23. Рассмотрите представленные ниже рисунки. Выберите рисунок с контуром страны, в которой живёт Ваш сверстник. Запишите в ответе букву, которой обозначен этот рисунок.



24. Предположите, какие ответы на вопросы о своей стране даст Ваш сверстник в ходе интервью. Запишите их в таблицу.

Вопрос	Ответ
1. В какой части света находится твоя страна?	
2. Какой океан омывает берега твоей страны?	
3. На каких островах расположена твоя страна?	
4. Какие крупные города, кроме столицы, есть в твоей стране?	
5. Родиной каких видов спорта является твоя страна?	
6. Какие виды промышленной продукции производятся в твоей стране?	
7. Какие достопримечательности можно посмотреть в твоей стране?	

Для выполнения задания приводим текст задания 8.1:

Представьте, что Вам было поручено взять интервью у зарубежного сверстника, чтобы он познакомил Вас со своей страной. Для иллюстрации этого интервью Вы попросили его прислать несколько фотографий, сделанных в стране, в которой он живёт. Рассмотрите фотографии и ответьте на вопросы.



*В какой стране живёт Ваш сверстник?
Как называется столица этой страны?*