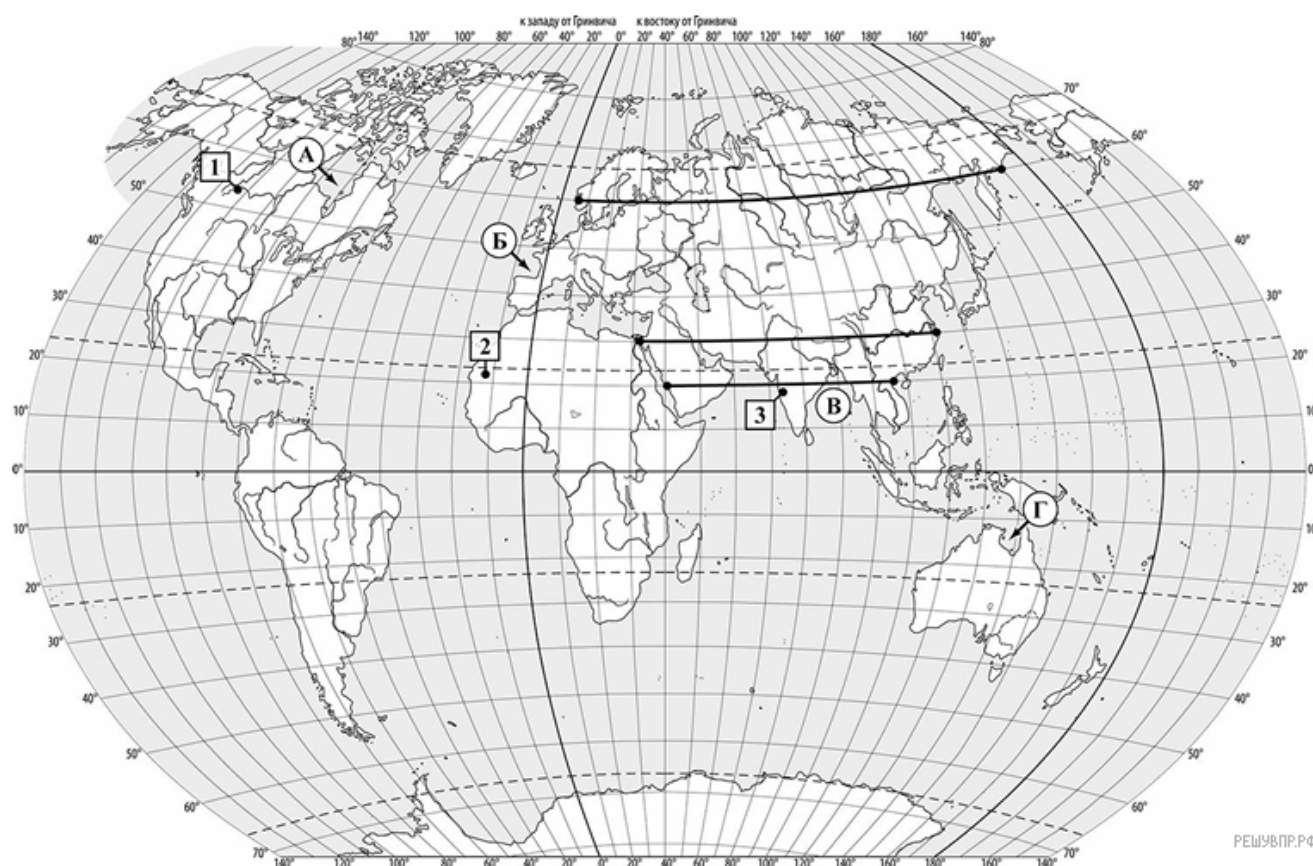


## ВПР по географии 7 класс 2025 год. Вариант 8

При выполнении заданий с кратким ответом впишите в поле для ответа цифру, которая соответствует номеру правильного ответа, или число, слово, последовательность букв (слов) или цифр. Ответ следует записывать без пробелов и каких-либо дополнительных символов. Дробную часть отделяйте от целой десятичной запятой. Единицы измерений писать не нужно.

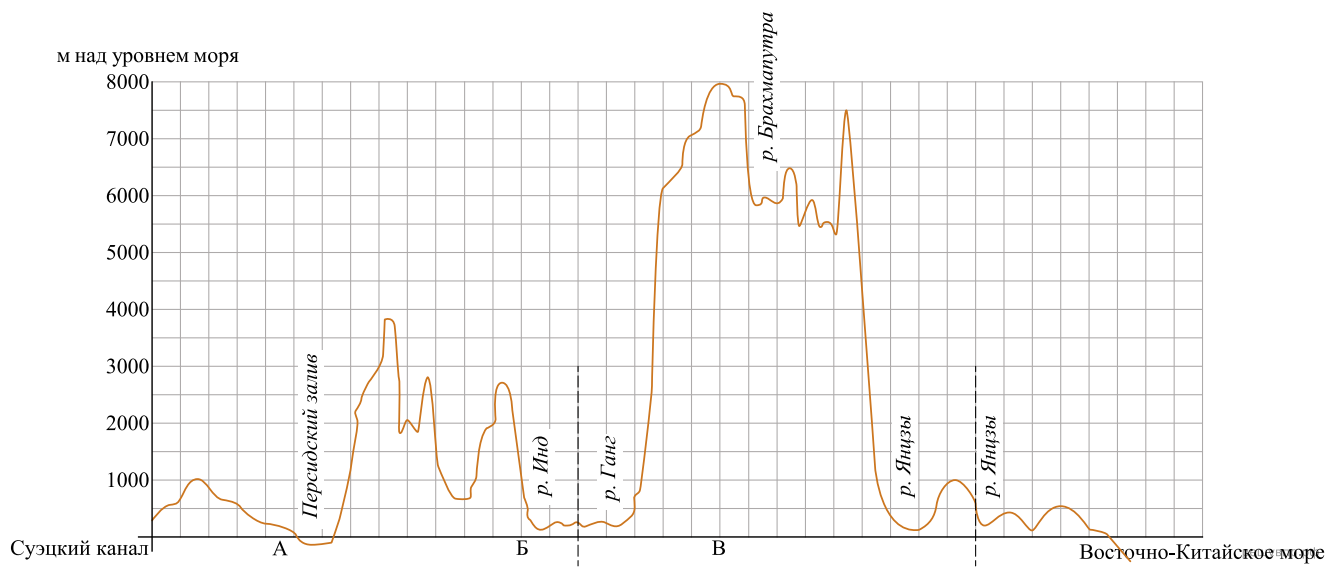
Если вариант задан учителем, вы можете вписать или загрузить в систему ответы к заданиям с развернутым ответом. Учитель увидит результаты выполнения заданий с кратким ответом и сможет оценить загруженные ответы к заданиям с развернутым ответом. Выставленные учителем баллы отобразятся в вашей статистике.



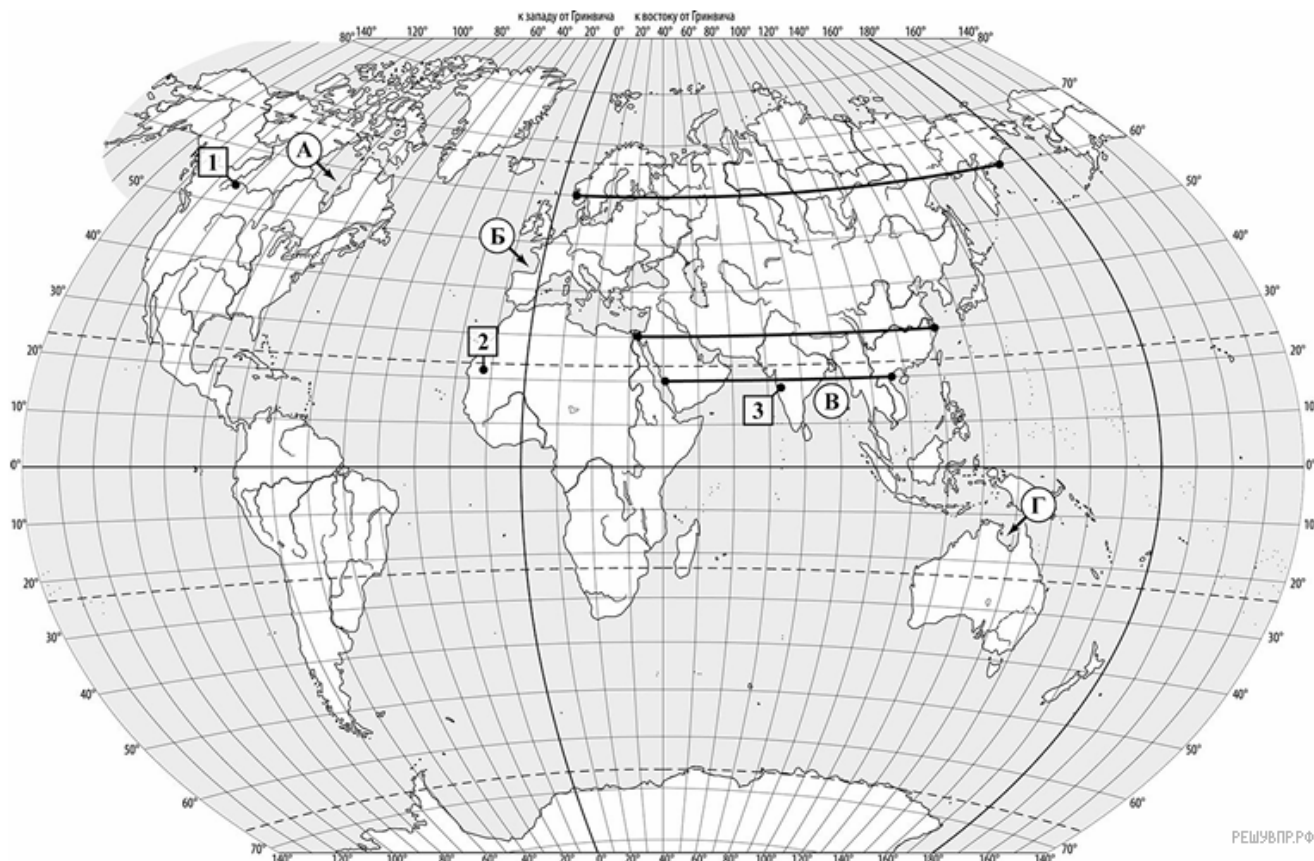
1. На карте буквами обозначены крупные заливы Мирового океана. Определите, какой буквой на карте обозначен Гудзонов залив.

2. Аравийский полуостров относится к числу крупнейших полуостровов Земли. Отметьте его знаком «V» на карте.

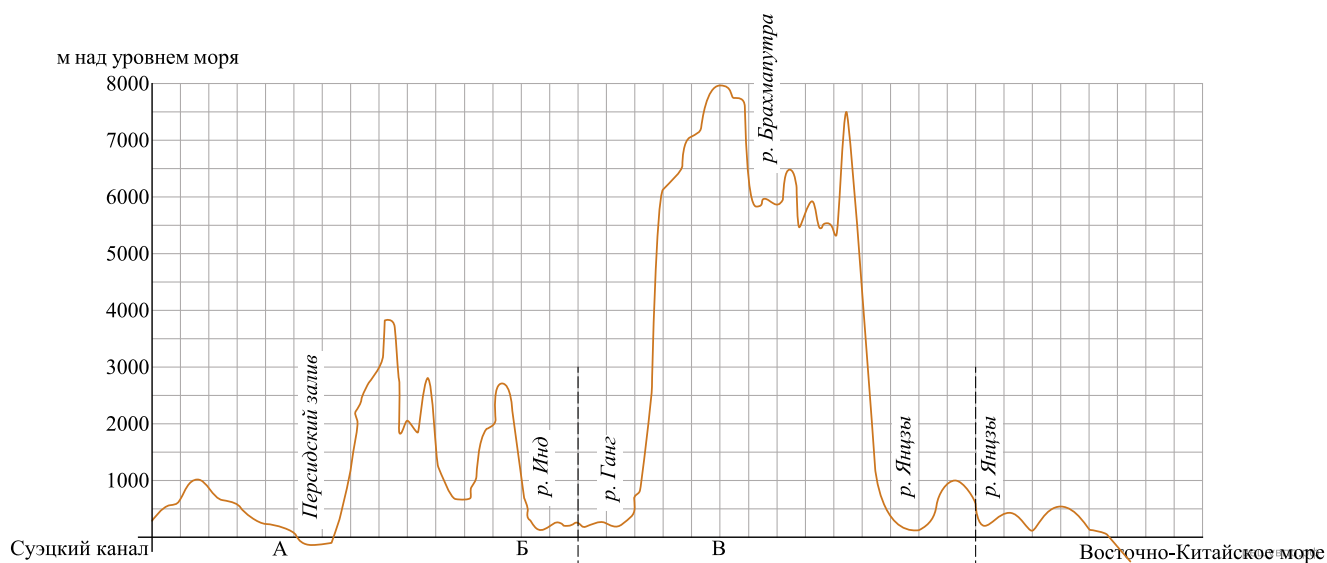
3. На уроке географии Лариса построила профиль рельефа Евразии, представленный на рисунке. По какому из отрезков, проведённых на карте вдоль трёх параллелей, пересекающих материк Евразия, построен профиль рельефа, представленный на рисунке? Укажите в ответе эту параллель.



На уроке географии Лариса построила профиль рельефа Евразии, представленный на рисунке. Используя рисунок и карту мира, выполните задания.



РЕШУ ВПР.РФ



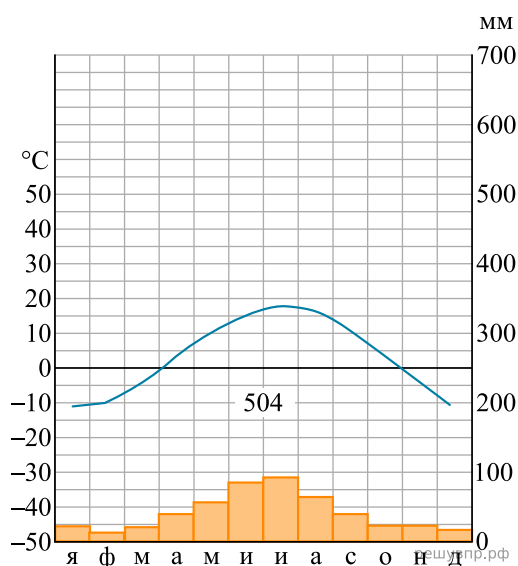
4. Какой крупной форме рельефа соответствует участок профиля, обозначенный на рисунке буквой В?

- 1) нагорье Тибет
- 2) Алтайские горы
- 3) Великая Китайская равнина
- 4) Среднесибирское плоскогорье

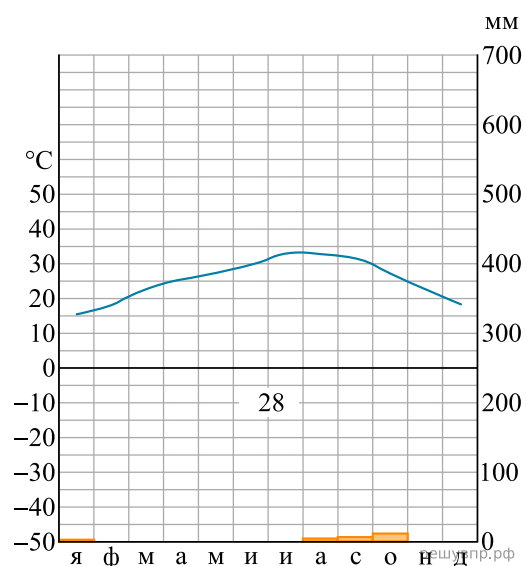
5. Определите абсолютную высоту (в метрах) наиболее высокой точки на линии профиля в пределах участка, обозначенного на рисунке буквой В.



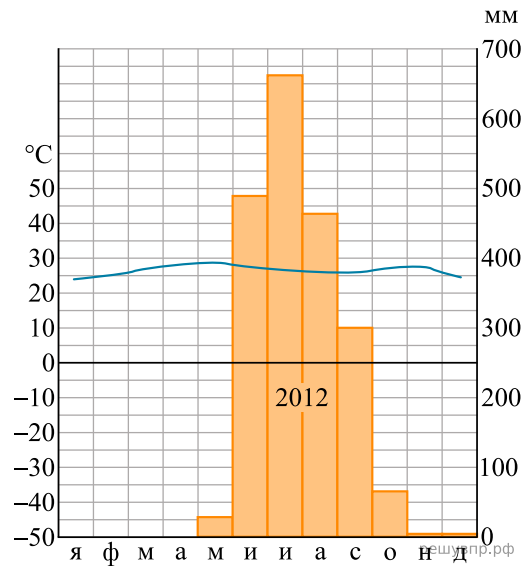
6. На карте мира пункты, для которых построены изображённые на рисунках климатограммы, обозначены цифрами, соответствующими номерам климатограмм. Определите, какому климатическому поясу соответствует каждая климатограмма. Подпишите названия климатических поясов под соответствующими климатограммами.



1



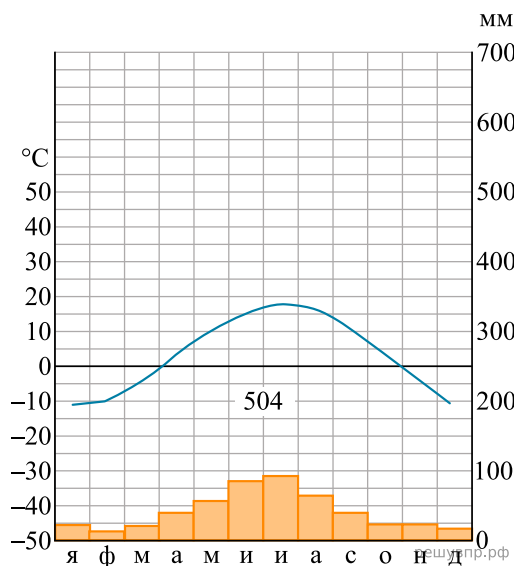
2



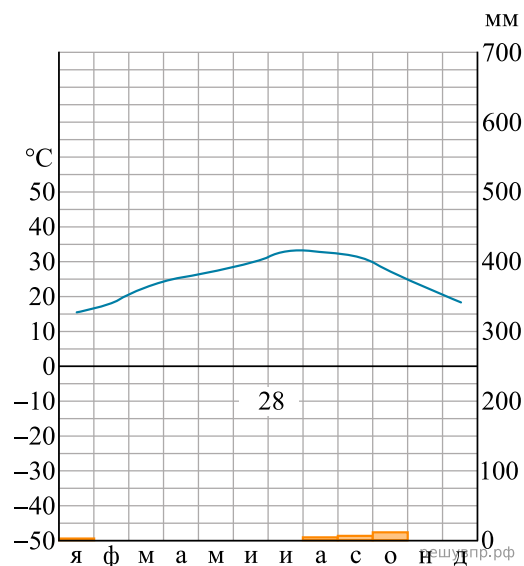
3

7. Выберите любую из приведённых выше климатограмм. Укажите в названии таблицы номер этой климатограммы и заполните таблицу климатических показателей, используя данные соответствующей климатограммы.

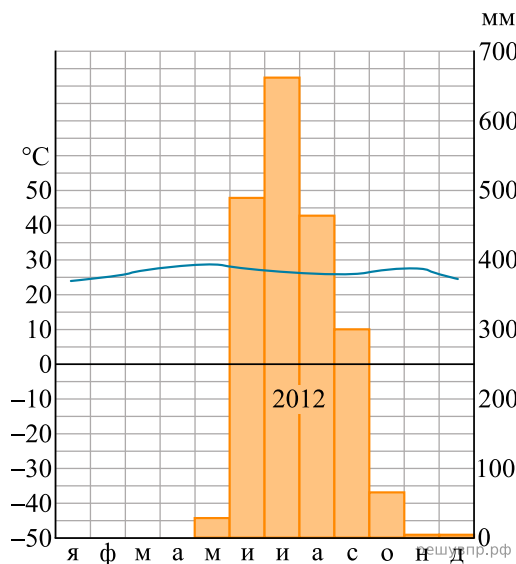
Климатические показатели пункта ____				
Средняя температура воздуха в январе, °С	Средняя температура воздуха в июле, °С	Годовая амплитуда температур, °С	Годовое количество осадков, мм	Месяц, на который приходится наибольшее количество осадков



1



2

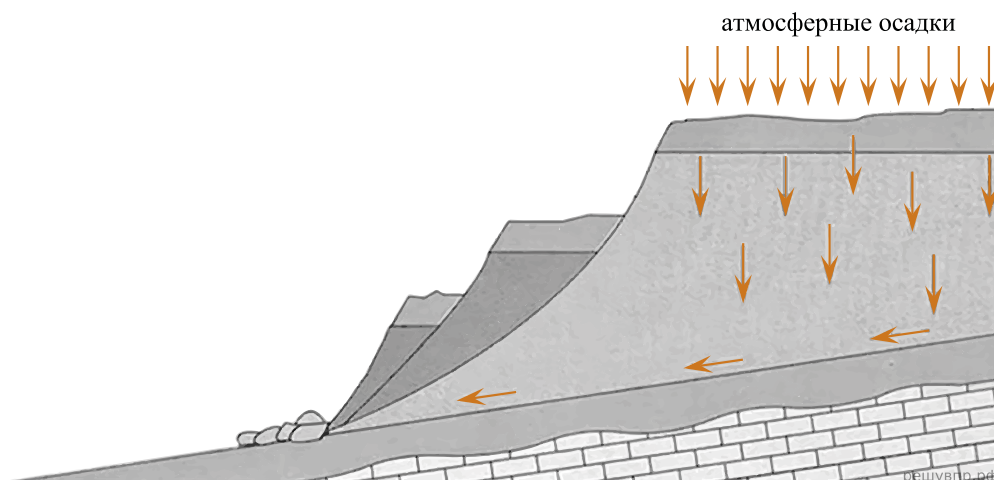


3

8. Определите, какой природной зоне мира соответствуют приведённые ниже характеристики. Укажите в ответе название этой природной зоны.

- 1) Эта зона широко распространена по обе стороны от экватора.
- 2) Она располагается в пределах субэкваториального и тропического климатических поясов.
- 3) Растительность преимущественно травянистая, представлена злаками и многолетними травами, которые выгорают к концу сухого сезона.
- 4) Наиболее типичны красные ферраллитные и красно-бурые почвы, отличающиеся высоким плодородием.
- 5) Для животного мира типичны крупные копытные, слоны, а также хищники — львы, леопарды, гепарды.

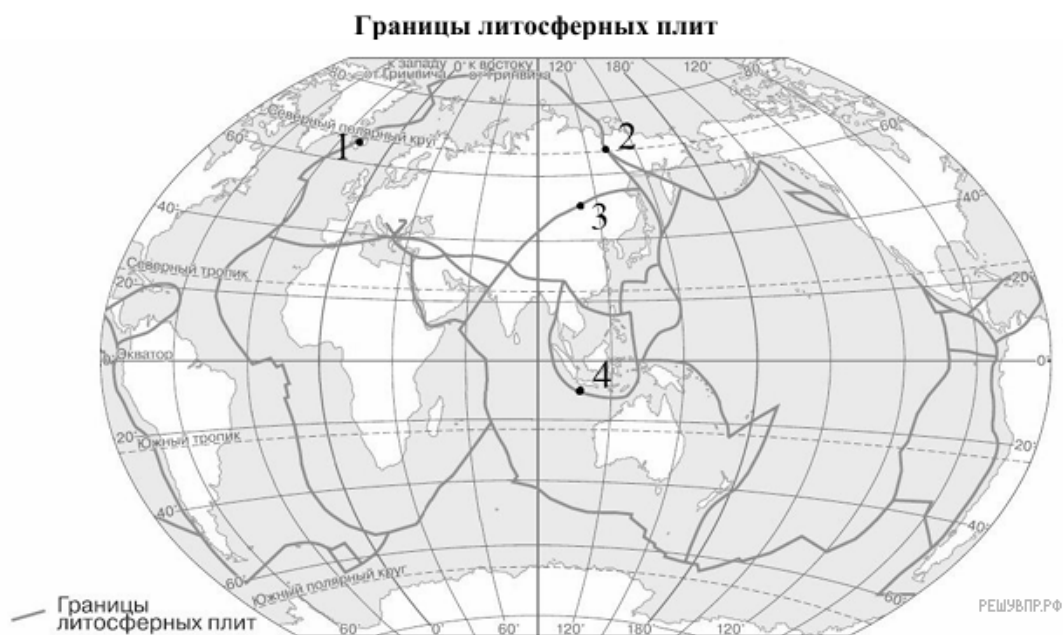
9. Определите, развитие какого природного процесса отображено на схеме.



10. Зональность — одна из важнейших закономерностей, свойственных географической оболочке. Какое из перечисленных географических явлений является примером её проявления?

- 1) смена сезонов года в Санкт-Петербурге
- 2) изменение преобладающих типов почв в направлении от экватора к полюсам
- 3) морские приливы и отливы
- 4) смена направления муссонов

11. Определите, в какой из обозначенных на карте цифрами точек происходит процесс столкновения литосферных плит с земной корой материкового типа.

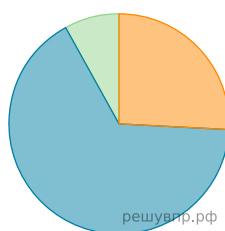


**Территория, численность и возрастной состав населения некоторых стран, 2023 г.**

№	Страна	Площадь территории, км <sup>2</sup>	Численность населения, млн человек	Доля населения, %		
				в возрасте до 14 лет	в возрасте от 15 до 64 лет	в возрасте 65 лет и старше
1	Финляндия	338 145	6	15	61	24
2	Намибия	824 292	3	36	60	4
3	Саудовская Аравия	2 149 690	37	23	73	4
4	Венгрия	93 030	10	14	66	20

12. Расположите страны в порядке увеличения численности населения, начиная со страны с самой маленькой численностью. Запишите в ответе последовательность порядковых номеров этих стран.

13. Возрастной состав населения какой страны отражает представленная на рисунке диаграмма? Запишите в ответе название страны.



- Доля населения в возрасте до 15
- Доля населения в возрасте от 15 до 65
- Доля населения в возрасте от 65 и старше

14. Определите, в какой из представленных в таблице стран средняя плотность населения наибольшая. Запишите в ответе название страны.

15. Определите страну по её краткому описанию.

Это островное государство располагается в Южном полушарии. Рельеф гористый, часто бывают землетрясения, имеются действующие вулканы. Территория страны лежит в субтропическом и умеренном климатических поясах. Имеются месторождения железных руд и природного газа. Официальный язык — английский. В стране развиты машиностроение, химическая промышленность, а также молочное животноводство и овцеводство, которое исторически играет важную роль в экономике. Страна знаменита своими красивейшими природными ландшафтами.

**«Золотое кольцо» Исландии**

«Золотое кольцо» — популярный туристический маршрут в Исландии. Он начинается в Рейкьявике — столице страны, проходит по её центральной части, где находится большая часть достопримечательностей, и возвращается обратно в Рейкьявик. На маршруте три главные остановки. Первая остановка — парк Тингведлир, окружённый активной вулканической зоной, в которой выделяется вулкан Хейнгидль. Вторая — водопад Гюдльфосс, который считается исландцами самым красивым водопадом страны. Ледяная вода реки Хвитау обрывается в узкий каньон с высоты 32 метров. Третья остановка — долина гейзеров Хейкадалур. Здесь находится знаменитый Большой Гейзер.

16. В тексте говорится, что туристический маршрут проходит через долину гейзеров. Объясните, что такое гейзер.

17. Объясните, почему на территории Исландии имеются действующие вулканы.