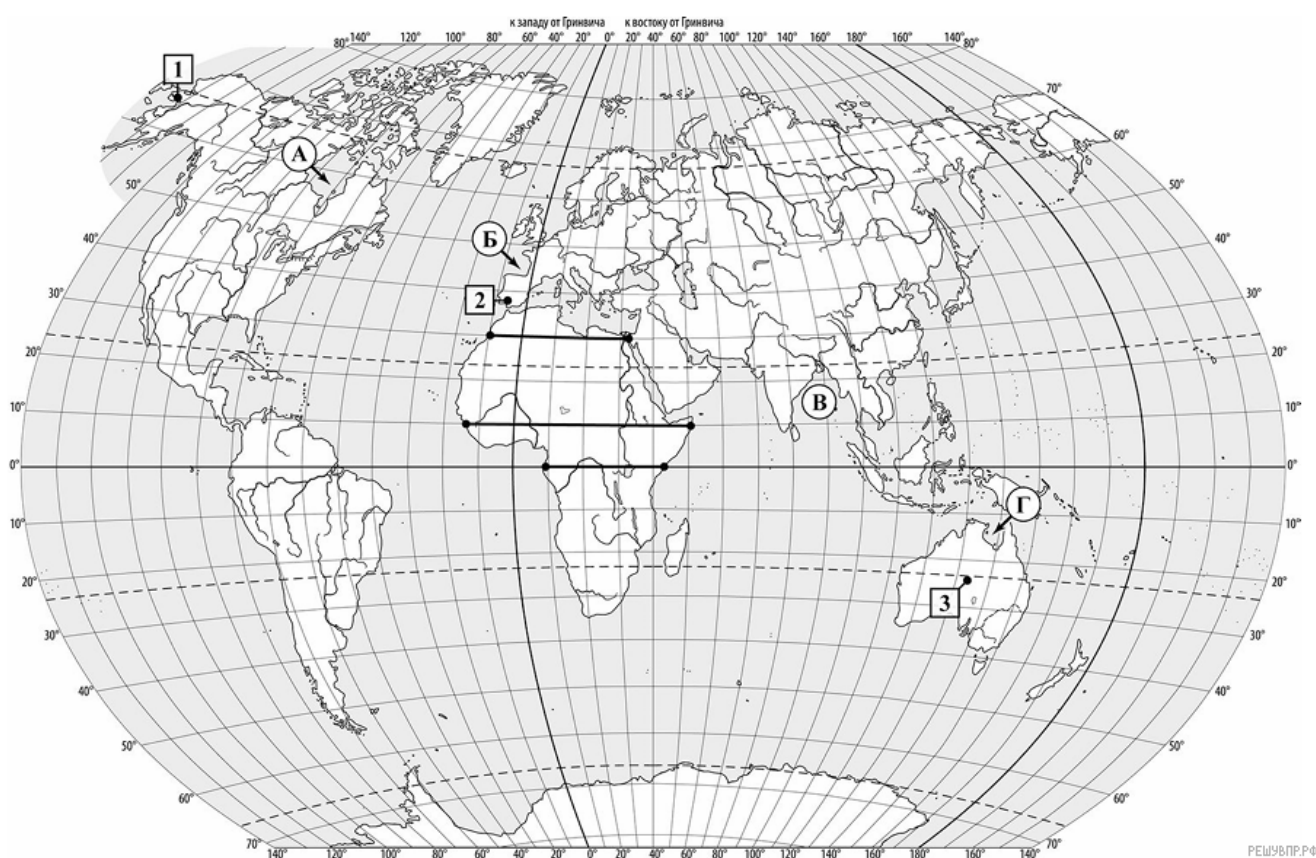


ВПР по географии 7 класс 2025 год. Вариант 7

При выполнении заданий с кратким ответом впишите в поле для ответа цифру, которая соответствует номеру правильного ответа, или число, слово, последовательность букв (слов) или цифр. Ответ следует записывать без пробелов и каких-либо дополнительных символов. Дробную часть отделяйте от целой десятичной запятой. Единицы измерений писать не нужно.

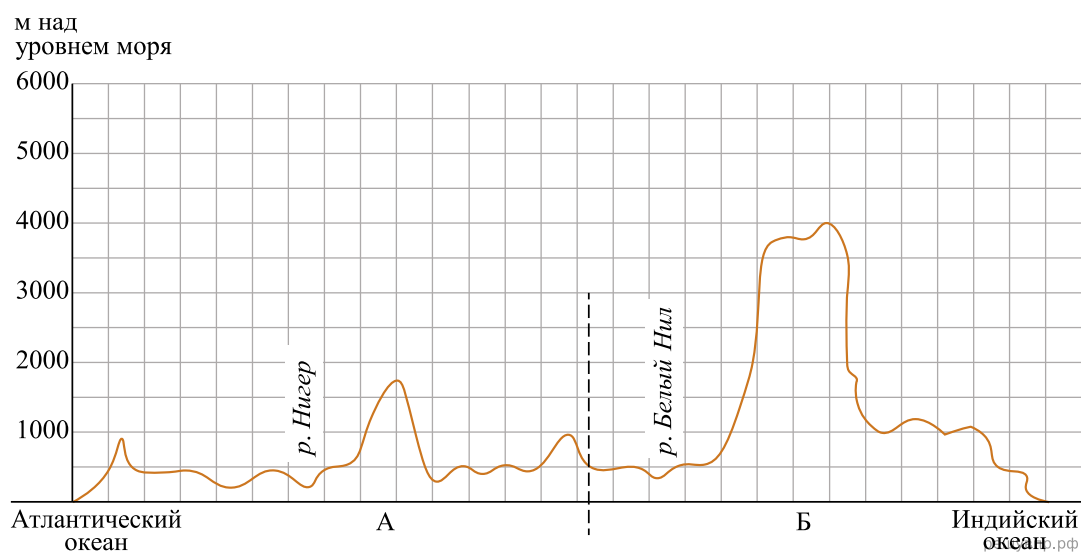
Если вариант задан учителем, вы можете вписать или загрузить в систему ответы к заданиям с развернутым ответом. Учитель увидит результаты выполнения заданий с кратким ответом и сможет оценить загруженные ответы к заданиям с развернутым ответом. Выставленные учителем баллы отобразятся в вашей статистике.

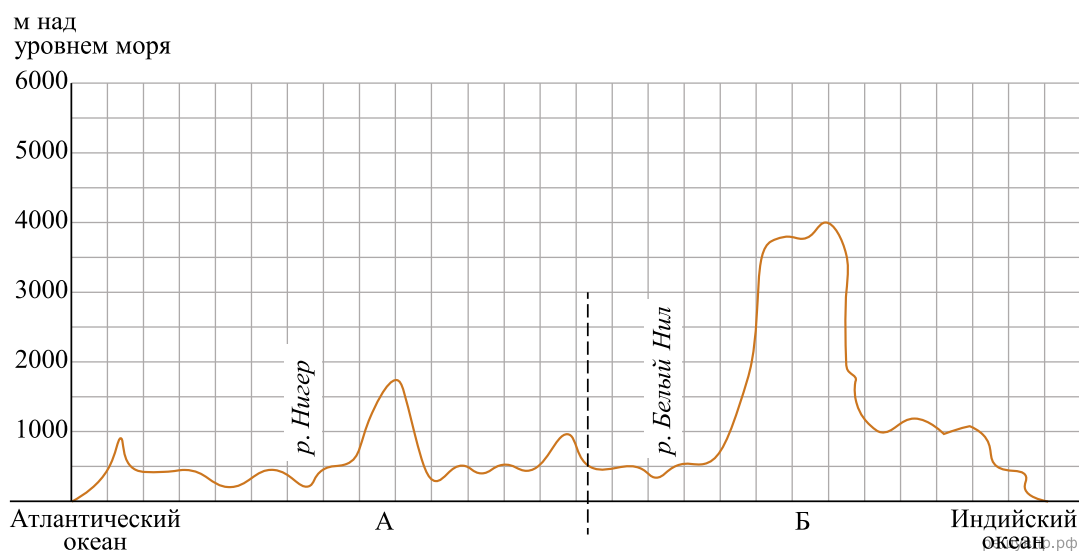
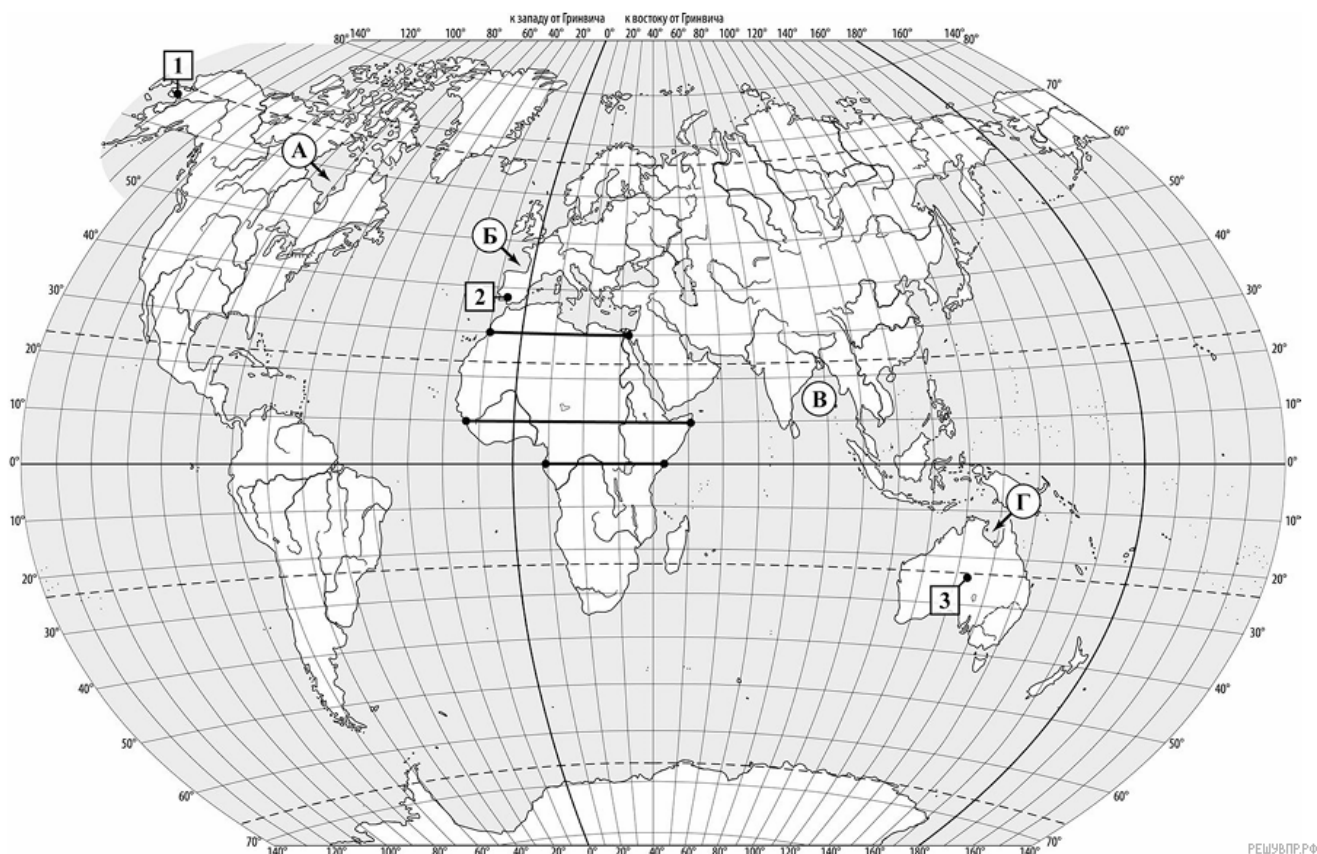


1. На карте буквами обозначены крупные заливы Мирового океана. Определите, какой буквой на карте обозначен Бенгальский залив.

2. Скандинавский полуостров относится к числу крупнейших полуостровов Земли. Отметьте его знаком «V» на карте.

3. На уроке географии Яна построила профиль рельефа Африки, представленный на рисунке. По какому из отрезков, проведённых на карте вдоль трёх параллелей, пересекающих материк Африка, построен профиль рельефа, представленный на рисунке? Укажите в ответе эту параллель.

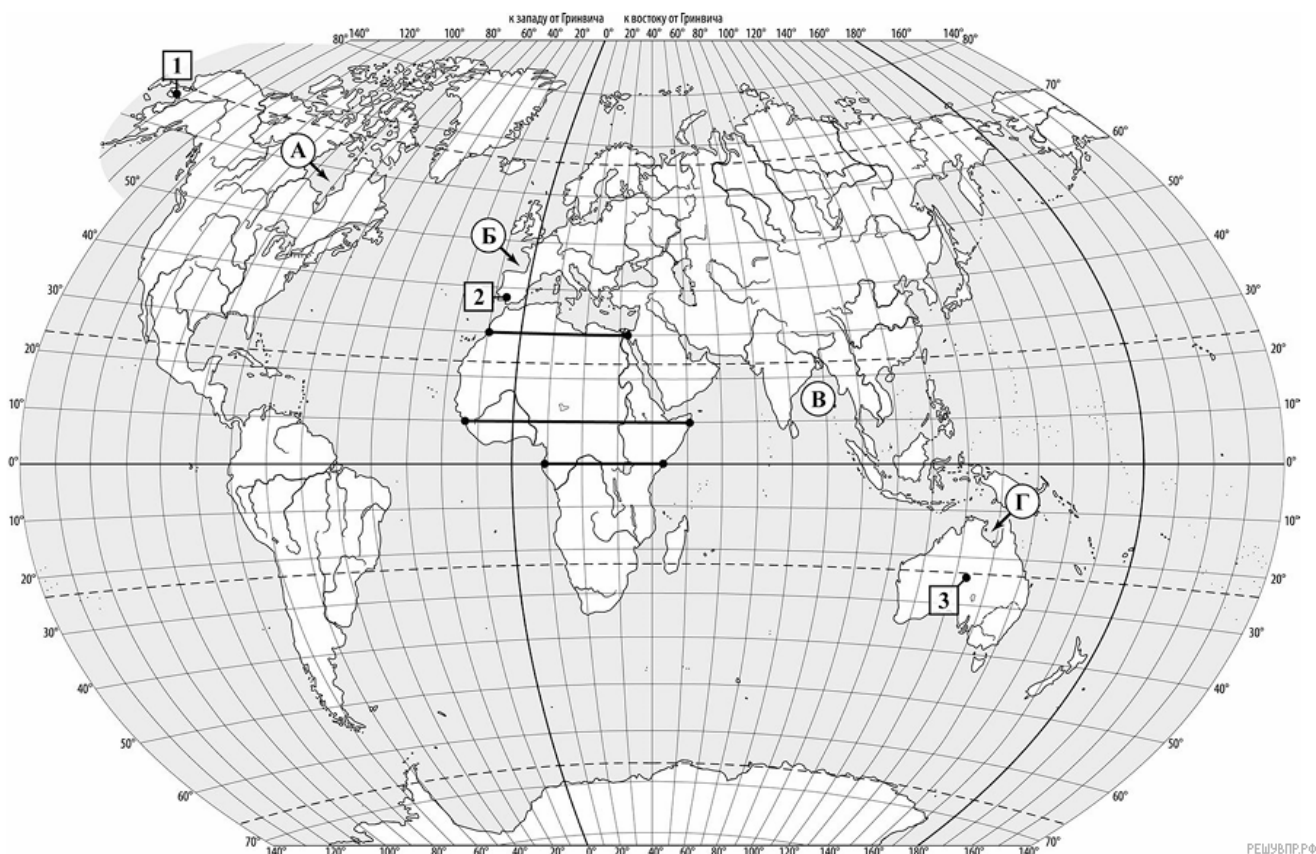




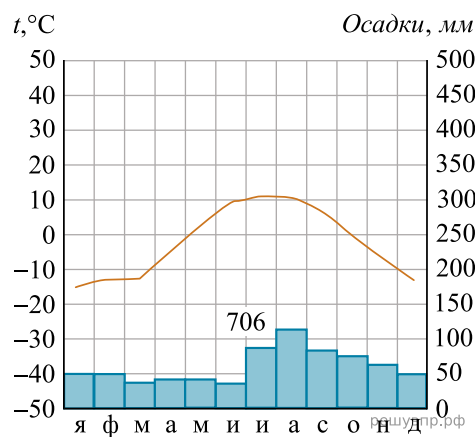
4. Какой крупной форме рельефа соответствует участок профиля, обозначенный на рисунке буквой Б?

- 1) Эфиопское нагорье
- 2) Капские горы
- 3) впадина Конго
- 4) горы Атлас

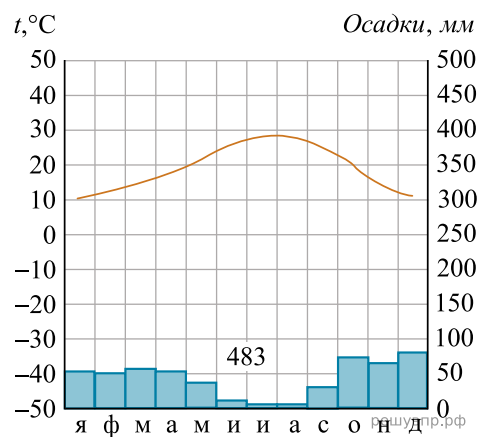
5. Определите абсолютную высоту (в метрах) наиболее высокой точки на линии профиля в пределах участка, обозначенного на рисунке буквой Б.



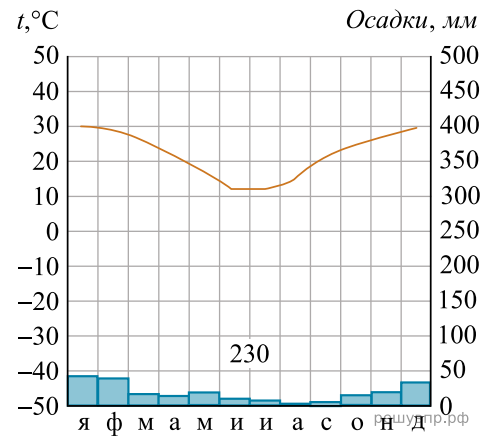
6. На карте мира пункты, для которых построены изображённые на рисунках климатограммы, обозначены цифрами, соответствующими номерам климатограмм. Определите, какому климатическому поясу соответствует каждая климатограмма. Подпишите названия климатических поясов под соответствующими климатограммами.



1



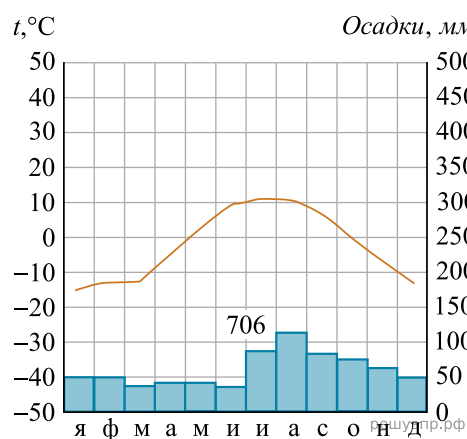
2



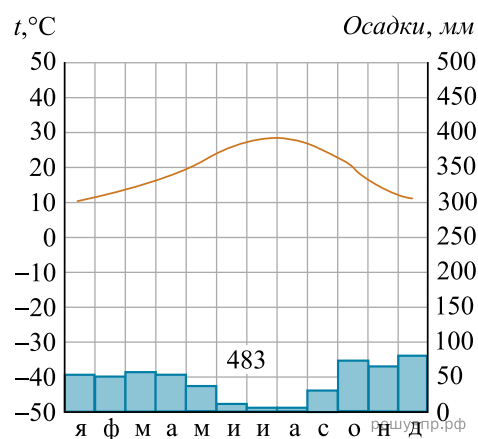
3

7. Выберите любую из приведённых выше климатограмм. Укажите в названии таблицы номер этой климатограммы и заполните таблицу климатических показателей, используя данные соответствующей климатограммы.

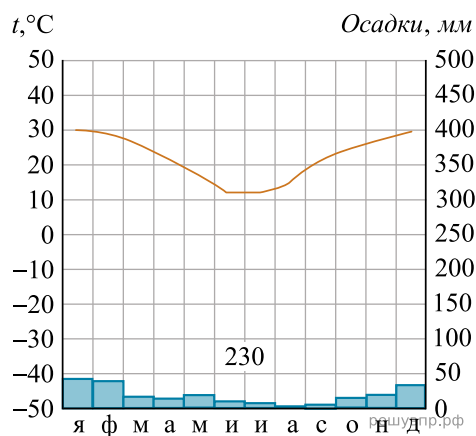
Климатические показатели пункта ____				
Средняя температура воздуха, °С		Годовая амплитуда температур, °С	Годовое количество осадков, мм	Месяц, на который приходится наибольшее количество осадков
в январе	в июле			



1



2

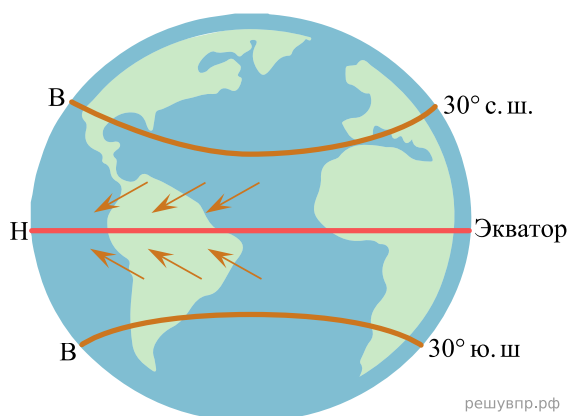


3

8. Определите, какой природной зоне мира соответствуют приведённые ниже характеристики. Укажите в ответе название этой природной зоны.

- 1) Эта зона занимает всю территорию Антарктиды.
- 2) Характерен морозный и сухой климат в течение всего года.
- 3) Вблизи побережья скудная растительность представлена мхами, лишайниками и несколькими видами цветковых; на остальной территории — полностью отсутствует.
- 4) Почвы недоразвиты, бедны гумусом и формируются только вдоль побережья.
- 5) Типичные представители животного мира — пингвины и другие водоплавающие птицы; млекопитающие и летающие насекомые отсутствуют.

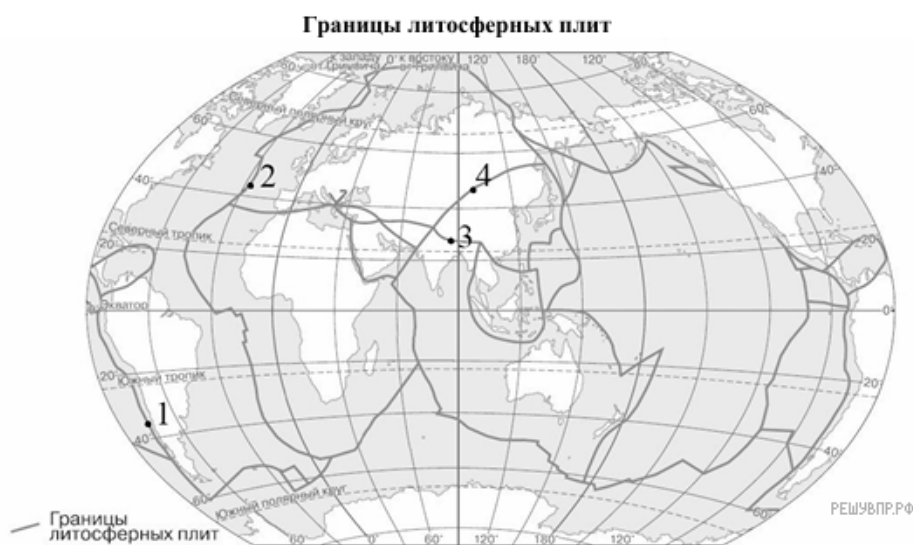
9. Определите, развитие какого природного процесса отображено на схеме.



10. Ритмичность — одна из важнейших закономерностей, свойственных географической оболочке. Какое из перечисленных географических явлений является примером её проявления?

- 1) смена направления муссонов
- 2) смена природных зон в Южной Америке в направлении с севера на юг
- 3) изменение ландшафтов в горах с высотой
- 4) изменение среднегодовой температуры поверхностных вод в Тихом океане в направлении от экватора к полюсам

11. Определите, в какой из обозначенных на карте цифрами точек происходит процесс раздвижения литосферных плит с земной корой океанического типа.

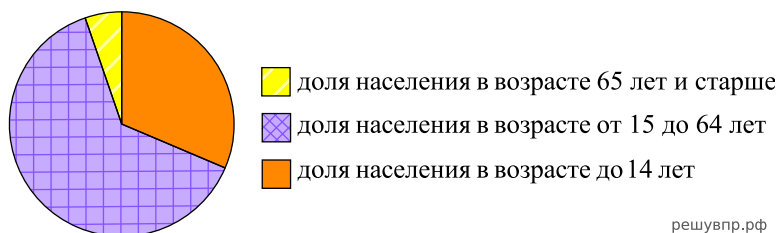


Территория, численность и возрастной состав населения некоторых стран, 2023 г.

№	Страна	Площадь территории, км ²	Численность населения, млн человек	Доля населения, %		
				в возрасте до 14 лет	в возрасте от 15 до 64 лет	в возрасте 65 лет и старше
1	Узбекистан	447 400	35	29	64	7
2	Бельгия	30 528	12	17	63	20
3	Великобритания	244 820	68	17	64	19
4	Колумбия	1 138 910	52	22	67	11

12. Расположите страны в порядке увеличения численности населения, начиная со страны с самой маленькой численностью. Запишите в ответе последовательность порядковых номеров этих стран.

13. Возрастной состав населения какой страны отражает представленная на рисунке диаграмма? Запишите в ответе название страны.



14. Определите, в какой из представленных в таблице стран средняя плотность населения наименьшая. Запишите в ответе название страны.

15. Определите страну по её краткому описанию.

Эта страна имеет выход к одному из морей Атлантического океана. На её территории расположена крайняя северная точка материка, на котором она находится. Природа страны разнообразна: на севере рельеф гористый, здесь можно увидеть вечнозелёные средиземноморские леса; на юге преобладают пустынные ландшафты. Название столицы совпадает с названием страны. Большую роль в экономике играет сельское хозяйство. Страна является крупным производителем оливок и цитрусовых. Развит международный туризм.

Стихийное бедствие в Индийском океане

Подводное землетрясение в Индийском океане, произошедшее у берегов Индонезии в воскресенье 26 декабря 2004 года, входит в тройку самых сильных землетрясений за всю историю наблюдения. Магнитуда землетрясения составила, по разным оценкам, от 9,1 до 9,3. Оно подняло волну высотой более 15 метров, которая обрушилась на побережья Индонезии, Шри-Ланки, Индии и Таиланда. Последствия ощущались даже в Порт-Элизабет, в ЮАР, в 6900 км от эпицентра. Землетрясение привело к огромным разрушениям во многих странах Южной и Юго-Восточной Азии.

16. Как называется мощная волна, вызванная подводным землетрясением?

17. Объясните, почему в Индонезии и около её берегов часто происходят землетрясения.