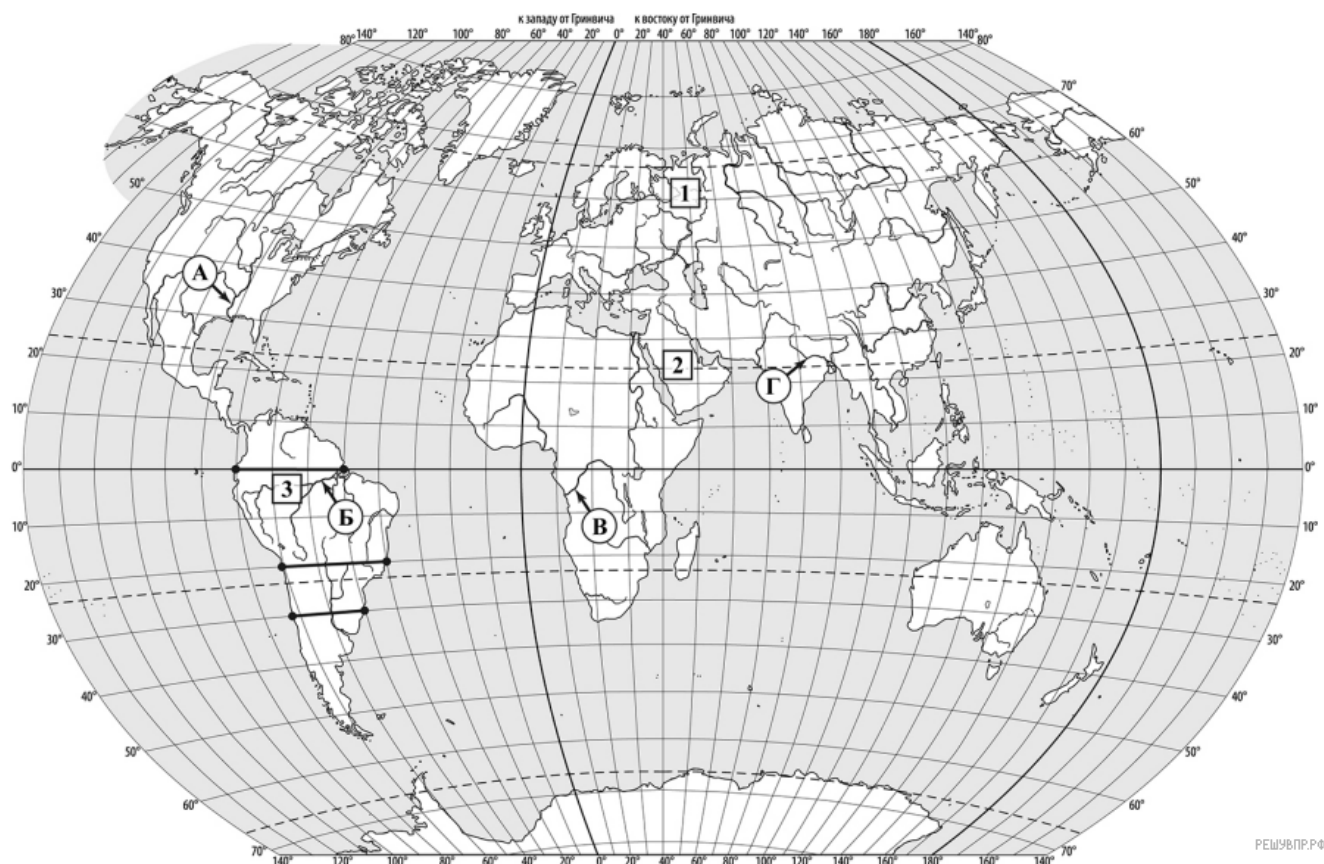


## Демонстрационная версия ВПР по географии 7 класс 2026

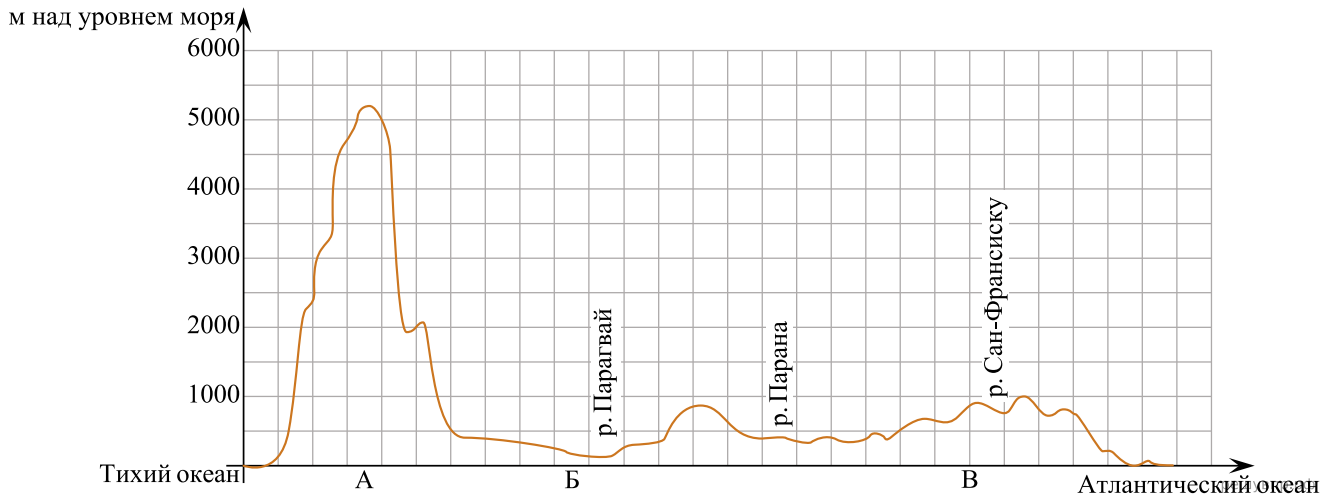
При выполнении заданий с кратким ответом впишите в поле для ответа цифру, которая соответствует номеру правильного ответа, или число, слово, последовательность букв (слов) или цифр. Ответ следует записывать без пробелов и каких-либо дополнительных символов. Дробную часть отделяйте от целой десятичной запятой. Единицы измерений писать не нужно.

Если вариант задан учителем, вы можете вписать или загрузить в систему ответы к заданиям с развернутым ответом. Учитель увидит результаты выполнения заданий с кратким ответом и сможет оценить загруженные ответы к заданиям с развернутым ответом. Выставленные учителем баллы отобразятся в вашей статистике.

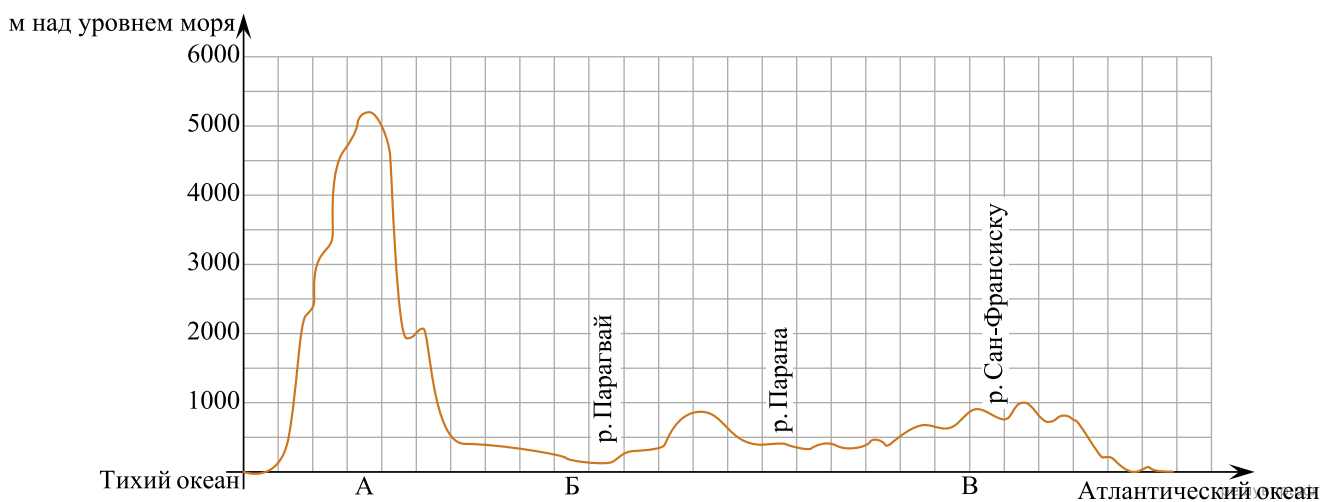


1. Реки играют важную роль во многих природных процессах на всех материках Земли. Определите, какой буквой на карте обозначена река Миссисипи.
2. Остров Калимантан относится к числу крупнейших островов Земли. Отметьте его знаком «V» на карте.

3. На уроке географии Сергей построил профиль рельефа Южной Америки, представленный на рисунке. По какому из отрезков, проведённых на карте вдоль трёх параллелей, пересекающих материк Южная Америка, построен профиль рельефа, представленный на рисунке? Укажите в ответе эту параллель.

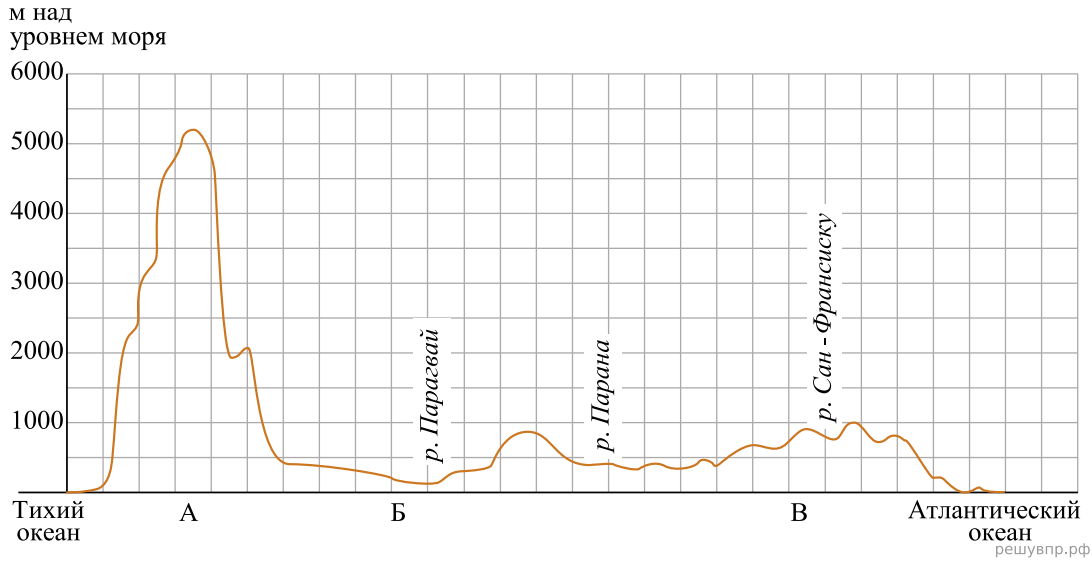


4. Какой крупной форме рельефа соответствует участок профиля, обозначенный на рисунке буквой В?

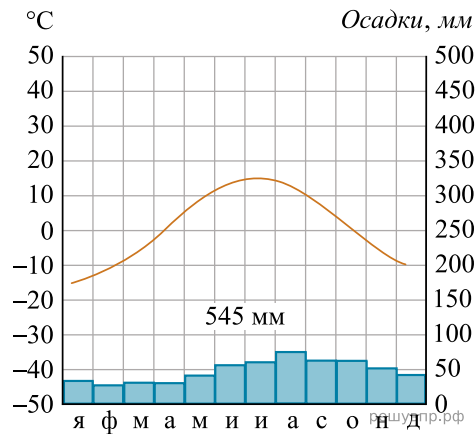


- 1) Амазонская низменность
- 2) горы Анды
- 3) Бразильское плоскогорье
- 4) Ла-Платская низменность

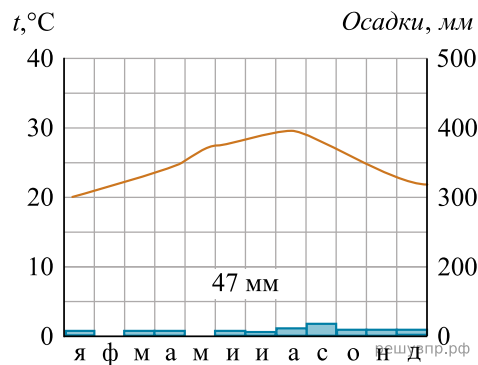
5. Определите абсолютную высоту (в метрах) наиболее высокой точки на линии профиля в пределах участка, обозначенного на рисунке буквой В.



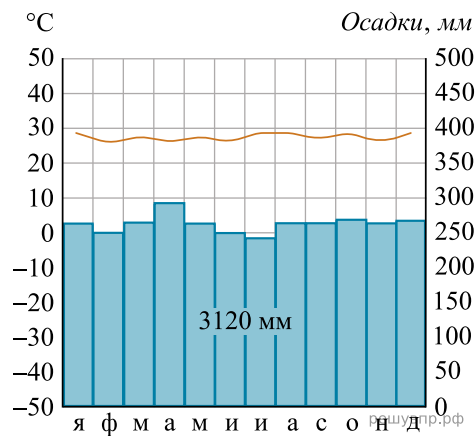
6. На карте мира пункты, для которых построены изображённые на рисунках климатограммы, обозначены цифрами, соответствующими номерам климатограмм. Определите, какому климатическому поясу соответствует каждая климатограмма. Подпишите названия климатических поясов под соответствующими климатограммами.



1



2



3

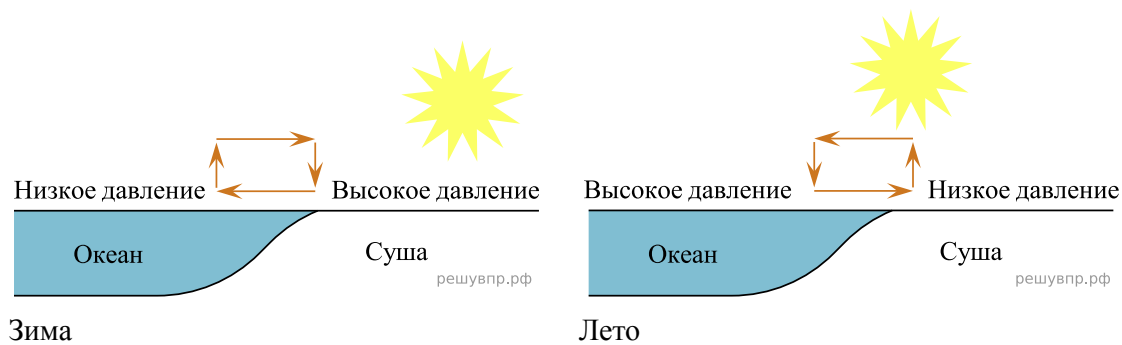
7. Выберите любую из приведённых выше климатограмм. Укажите в названии таблицы номер этой климатограммы и заполните таблицу климатических показателей, используя данные соответствующей климатограммы.

Климатические показатели пункта ____				
Средняя температура воздуха в январе, °С	Средняя температура воздуха в июле, °С	Годовая амплитуда температур, °С	Годовое количество осадков, мм	Месяц, на который приходится наибольшее количество осадков

8. Определите, какой природной зоне мира соответствуют приведённые ниже характеристики? Укажите в ответе название этой природной зоны.

- 1) Эта зона занимает большие территории в Северном полушарии (в Северной Америке и Евразии).
- 2) Чётко выражены сезоны года.
- 3) В растительном покрове преобладают хвойные деревья.
- 4) Формируются подзолистые почвы.
- 5) Типичные представители животного мира: бурый медведь, лисица, волк, белка.

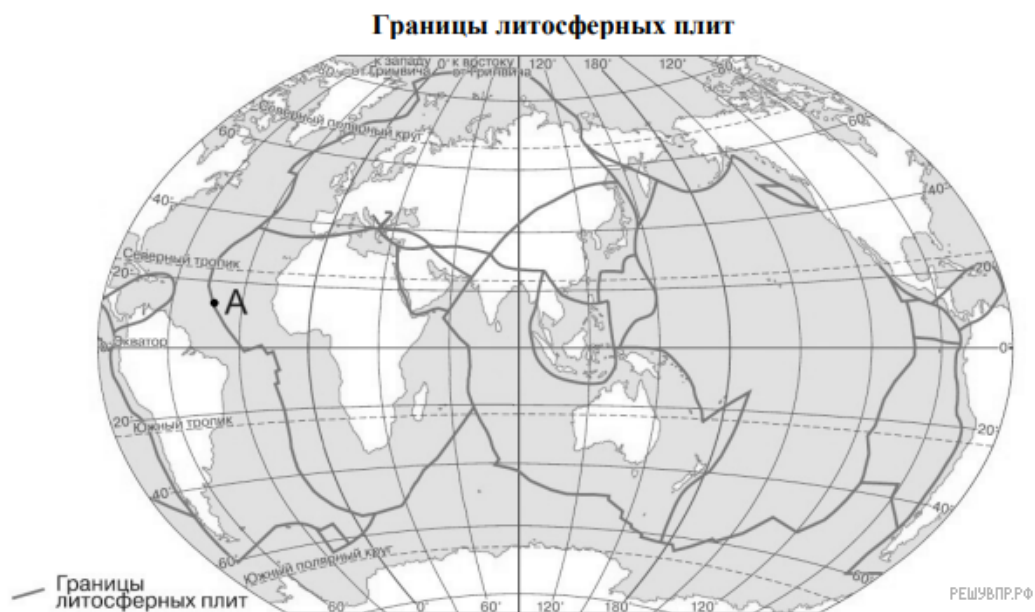
9. Определите, развитие какого природного процесса отображено на схеме.



10. Ритмичность — одна из важнейших закономерностей, свойственных географической оболочке. Какое из перечисленных географических явлений является примером её проявления?

- 1) смена направления бризов в течение суток
- 2) смена природных зон в Евразии при движении с севера на юг
- 3) изменение атмосферного давления с высотой
- 4) изменение средней годовой температуры воздуха от экватора к полюсам

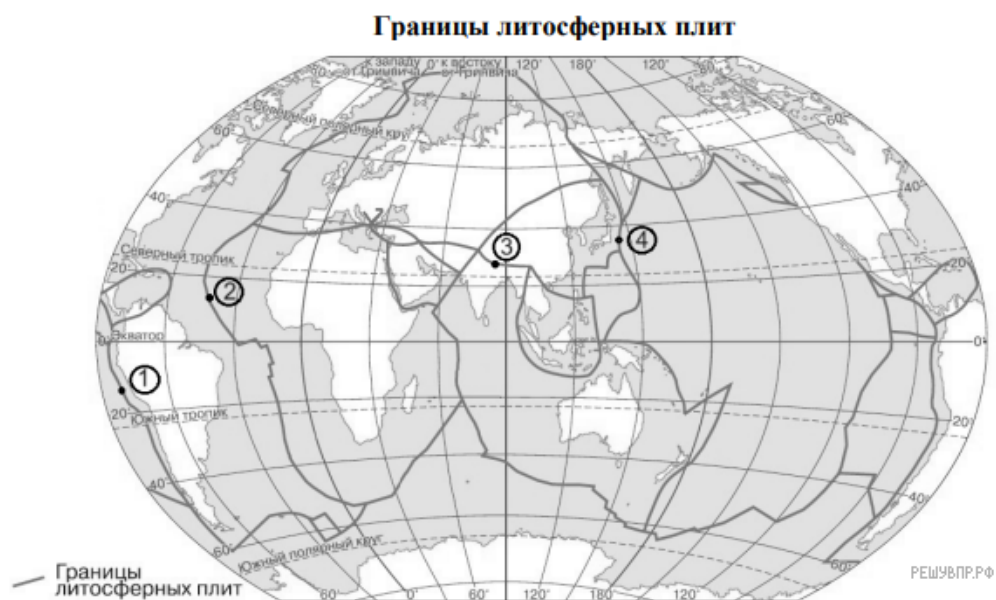
11. Определите, какой процесс происходит на границе литосферных плит в точке, обозначенной на карте буквой А.



- 1) раздвижение земной коры океанического типа
- 2) раздвижение земной коры материкового типа
- 3) погружение плиты с земной корой океанического типа под плиту с корой материкового типа
- 4) столкновение плит с земной корой материкового типа

**ИЛИ**

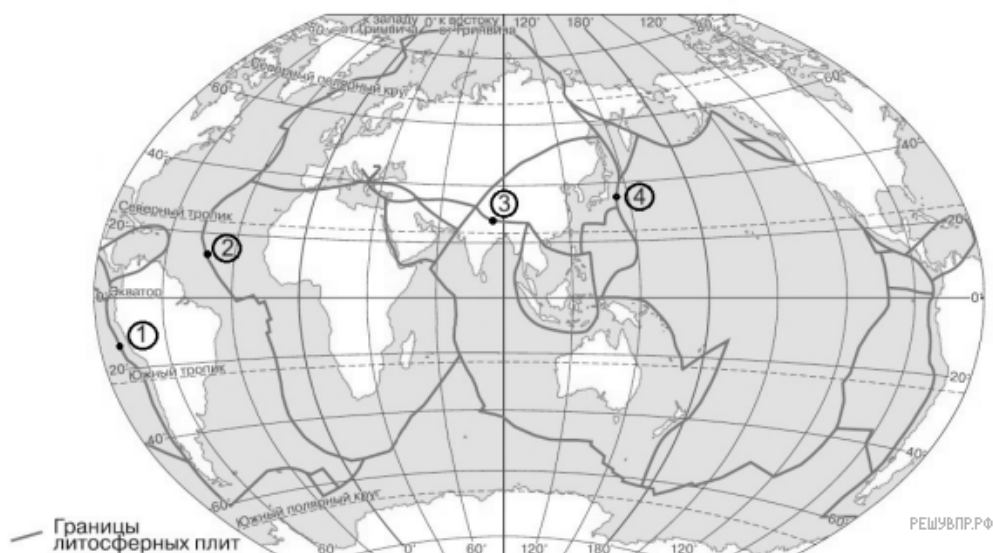
Определите, в какой из обозначенных на карте цифрами точек происходит процесс раздвижения земной коры океанического типа.



**ИЛИ**

Определите, в какой из обозначенных на карте цифрами точек на границе литосферных плит происходит процесс образования подводных гор.

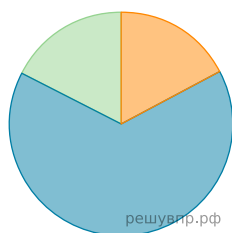
### Границы литосферных плит



Территория, численность и возрастной состав населения некоторых стран, 2017 г.					
Площадь территории, км <sup>2</sup>	Численность населения, млн человек	Доля населения в возрасте до 15 лет, %	Доля населения в возрасте от 15 до 65 лет, %	Доля населения в возрасте 65 лет и старше, %	Страна
8 358 140	211	22	69	9	1. Бразилия
229 946	66	17	65	18	2. Великобритания
1 266 700	22	49	48	3	3. Нигер
364 485	126	13	59	28	4. Япония

12. Расположите страны в порядке увеличения численности населения, начиная со страны с самой маленькой численностью. Запишите в ответе последовательность порядковых номеров этих стран.

13. Возрастной состав населения какой страны отражает представленная на рисунке диаграмма? Запишите в ответе название страны.



- Доля населения в возрасте до 15
- Доля населения в возрасте от 15 до 65
- Доля населения в возрасте от 65 и старше

14. Определите, в какой из представленных в таблице стран средняя плотность населения наибольшая. Запишите в ответе название страны.

15. Определите страну по её краткому описанию.

Особенностью географического положения этой страны является выход к морям Тихого океана. По численности населения и размерам территории она входит в пятёрку крупнейших стран мира. Её территория расположена в трёх климатических поясах, для восточной части характерен муссонный климат. Коренное население относится к монголоидной расе. В городах проживает около 60% населения. Страна занимает лидирующие позиции в мире по производству многих видов промышленной и сельскохозяйственной продукции.

16. Как называются ветры, дующие днём с океана?

### Пустыня Намиб

Намиб — прибрежная пустыня в юго-западной части Африки. Пустыня простирается на 1900 км вдоль побережья Атлантического океана. От океана она уходит в глубь материка на расстояние от 50 до 160 км. Это одна из самых засушливых территорий в мире. Среднегодовое количество атмосферных осадков на побережье не превышает 15 мм, но при движении в глубь материка постепенно увеличивается, достигая уровня 52 мм. У побережья практически нет разницы между дневными и ночными или зимними и летними температурами, температура воздуха редко опускается ниже  $+10^{\circ}\text{C}$  или поднимается выше  $16^{\circ}\text{C}$ . Во внутренних областях пустыни летняя температура достигает  $+31^{\circ}\text{C}$ .

Основным источником влаги для большинства растений и животных является роса, выпадающая из насыщенного водяным паром воздуха, который приносят ветры, дующие днём с океана.

17. Обычно количество атмосферных осадков при удалении от побережья уменьшается. Объясните, почему на территории пустыни Намиб количество атмосферных осадков увеличивается.