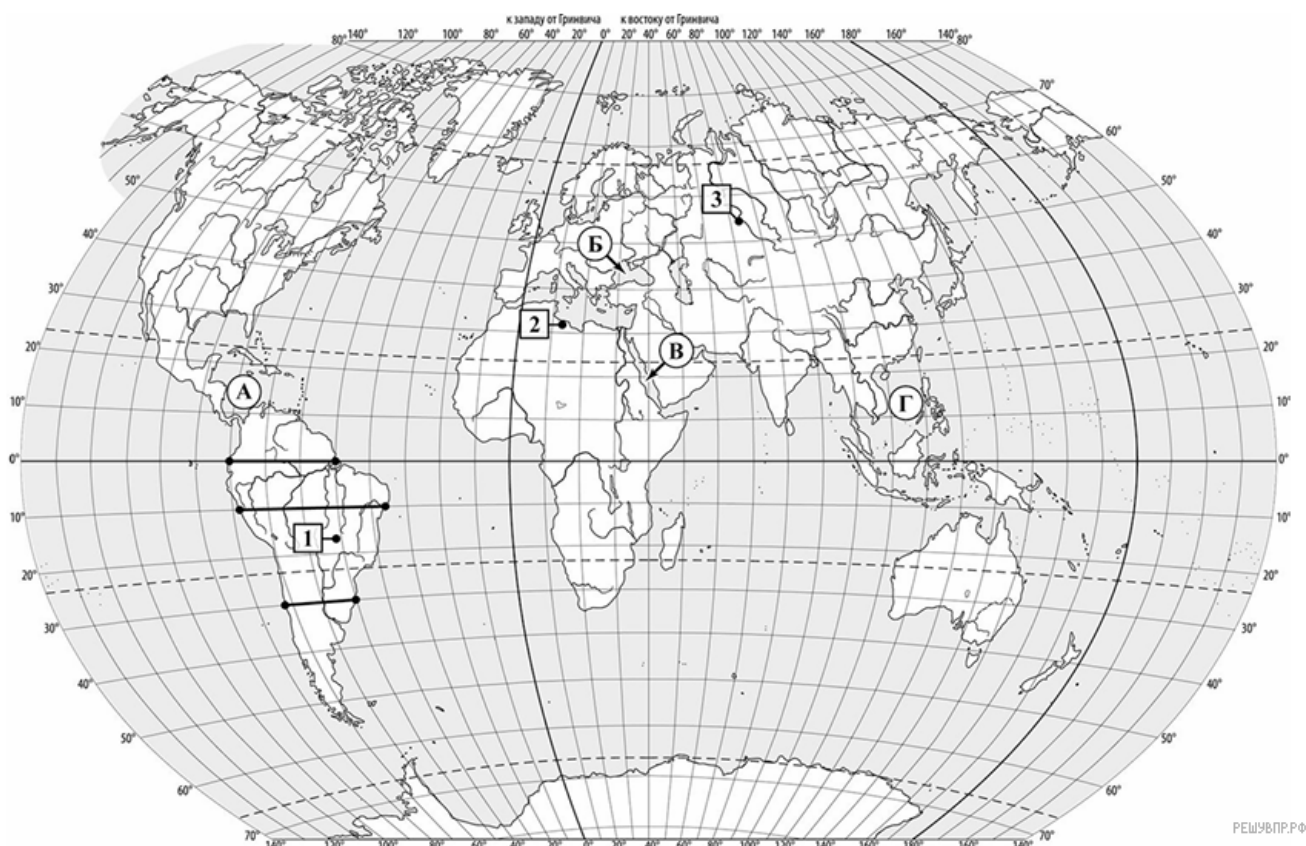


ВПР по географии 7 класс 2025 год. Вариант 2.

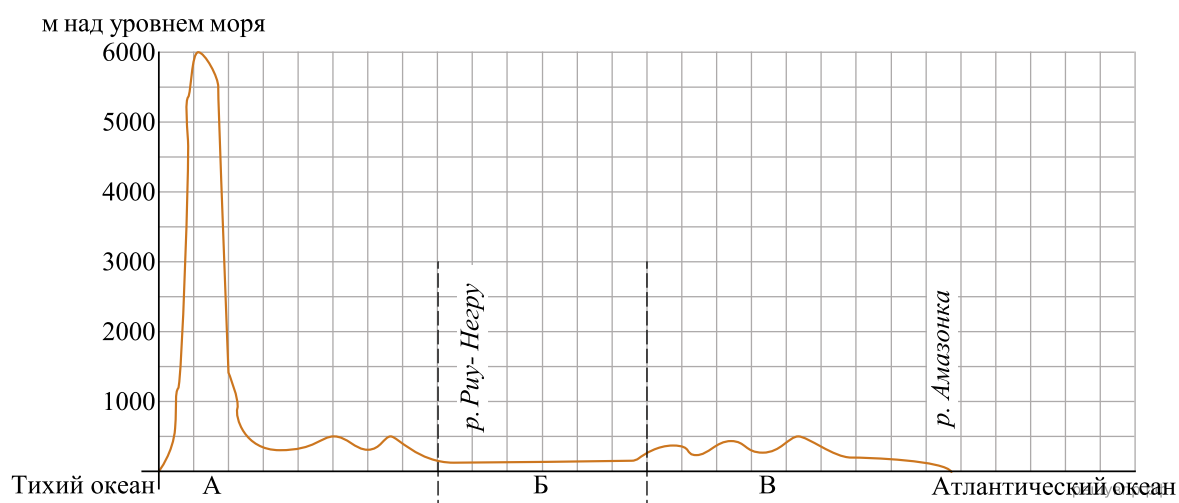
При выполнении заданий с кратким ответом впишите в поле для ответа цифру, которая соответствует номеру правильного ответа, или число, слово, последовательность букв (слов) или цифр. Ответ следует записывать без пробелов и каких-либо дополнительных символов. Дробную часть отделяйте от целой десятичной запятой. Единицы измерений писать не нужно.

Если вариант задан учителем, вы можете вписать или загрузить в систему ответы к заданиям с развернутым ответом. Учитель увидит результаты выполнения заданий с кратким ответом и сможет оценить загруженные ответы к заданиям с развернутым ответом. Выставленные учителем баллы отобразятся в вашей статистике.

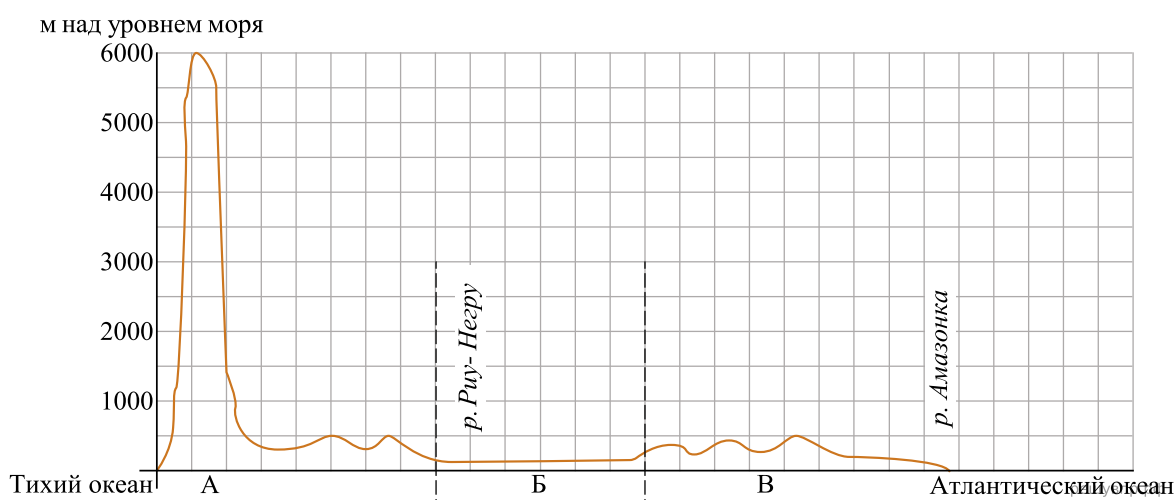
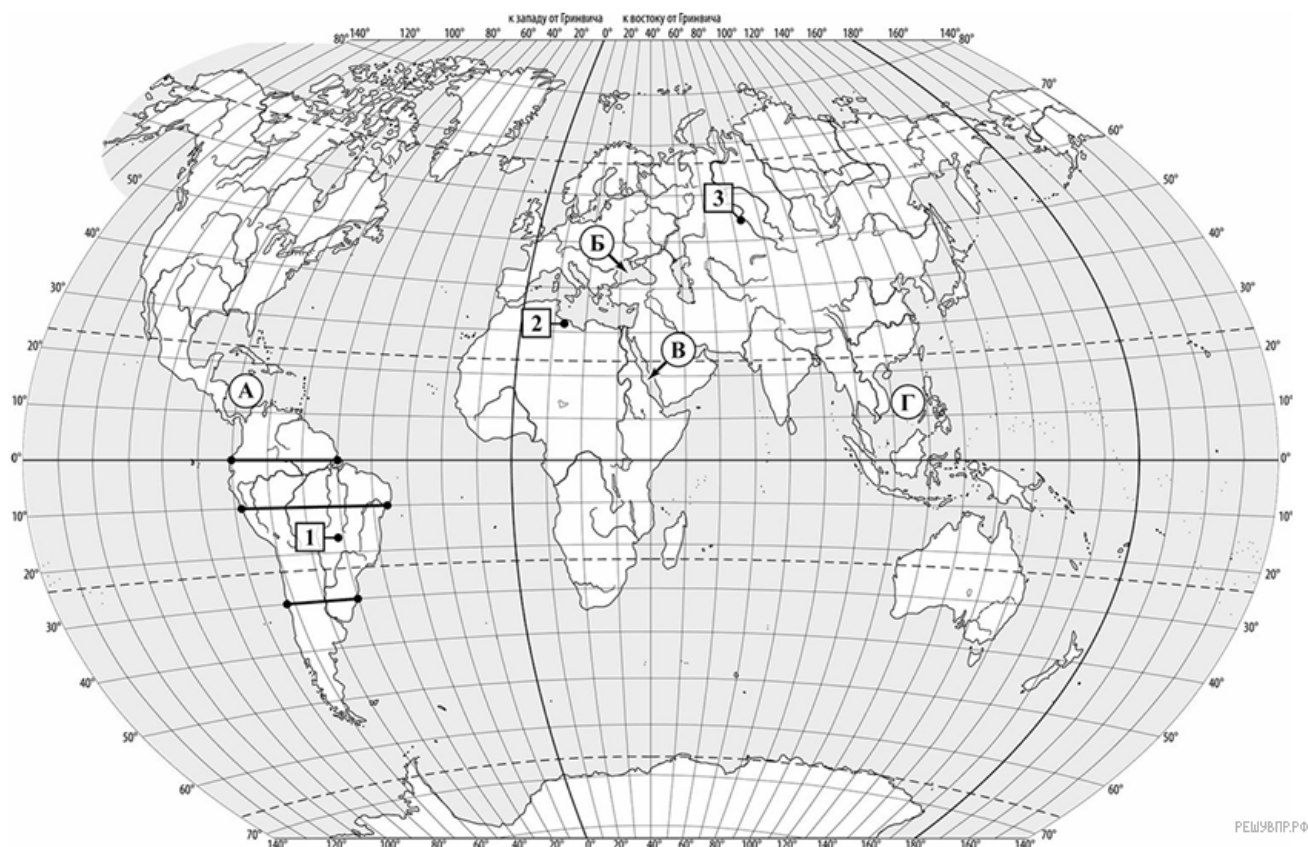


1. На карте мира буквами обозначены моря. Определите, какой буквой на карте обозначено Красное море.
2. Озеро Виктория относится к числу крупнейших озёр Земли. Отметьте его знаком «V» на карте.

3. На уроке географии Кристина построила профиль рельефа Южной Америки, представленный на рисунке. По какому из отрезков, проведённых на карте вдоль трёх параллелей, пересекающих материк Южная Америка, построен профиль рельефа, представленный на рисунке? Укажите в ответе эту параллель.



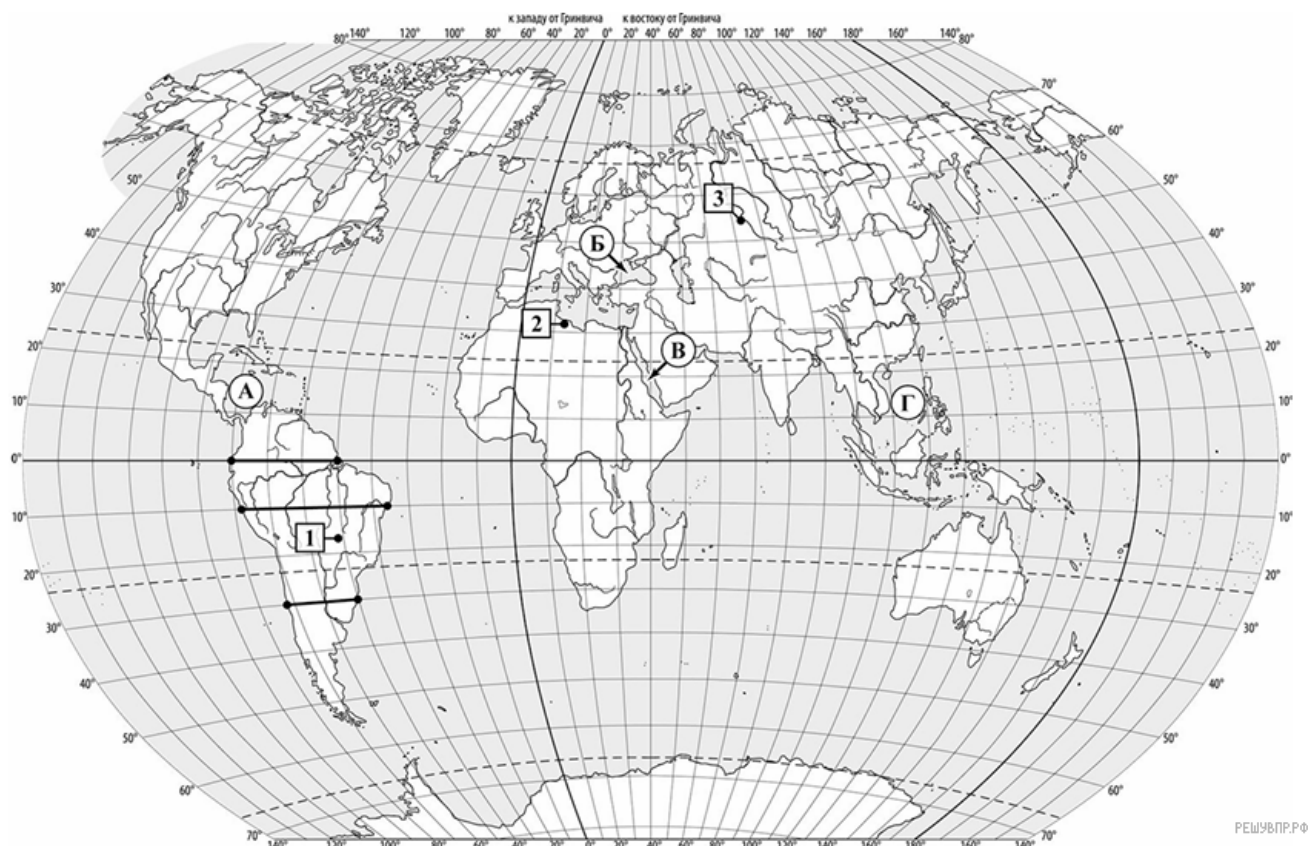
На уроке географии Кристина построила профиль рельефа Южной Америки, представленный на рисунке. Используя рисунок и карту мира, выполните задания.



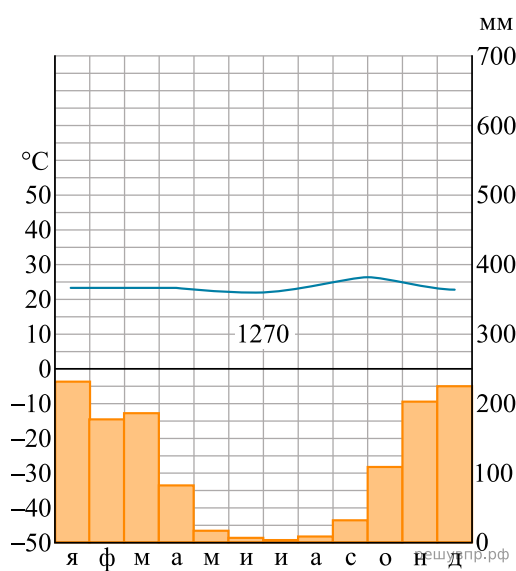
4. Какой крупной форме рельефа соответствует участок профиля, обозначенный на рисунке буквой Б?

- 1) Бразильское плоскогорье
- 2) Амазонская низменность
- 3) Ла-Платская низменность
- 4) Гвианское плоскогорье

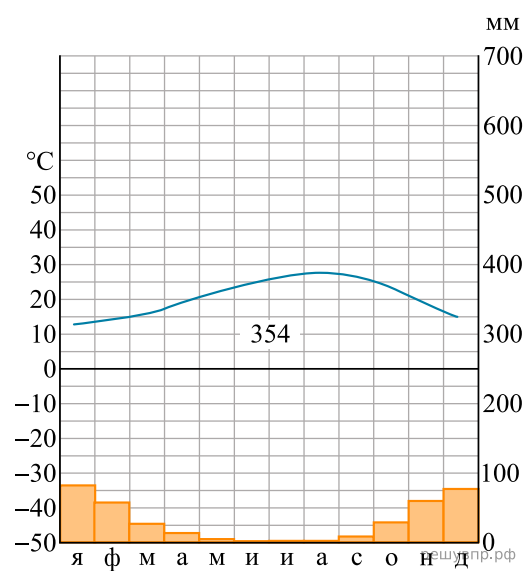
5. Определите абсолютную высоту (в метрах) наиболее высокой точки на линии профиля в пределах участка, обозначенного на рисунке буквой Б.



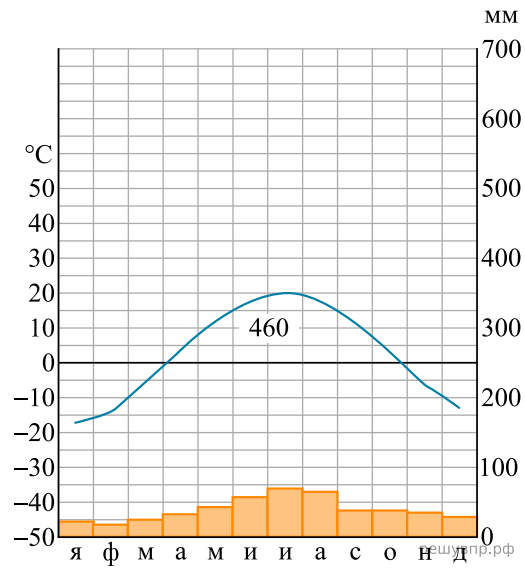
6. На карте мира пункты, для которых построены изображённые на рисунках климатограммы, обозначены цифрами, соответствующими номерам климатограмм. Определите, какому климатическому поясу соответствует каждая климатограмма. Подпишите названия климатических поясов под соответствующими климатограммами.



1



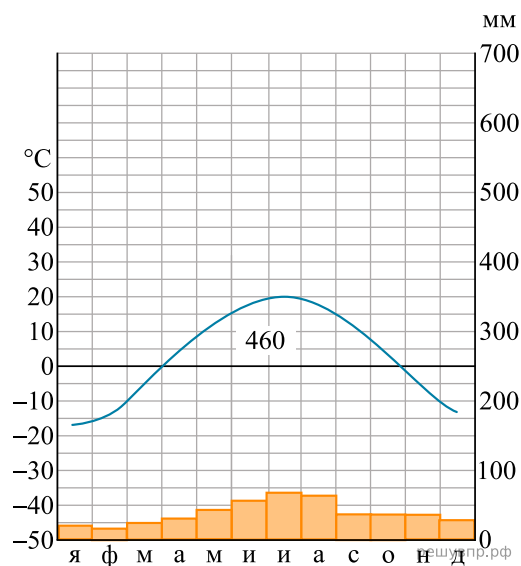
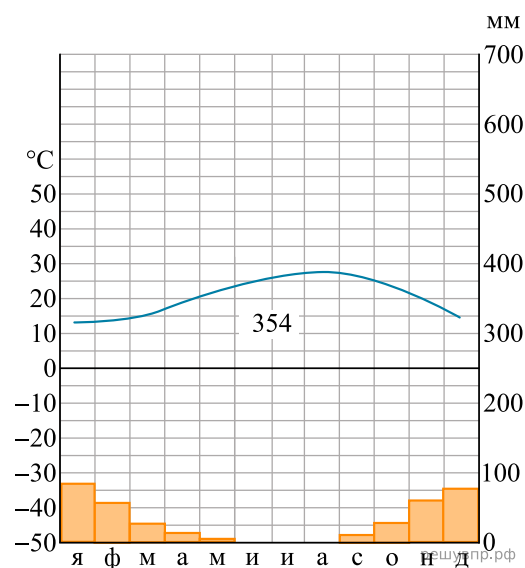
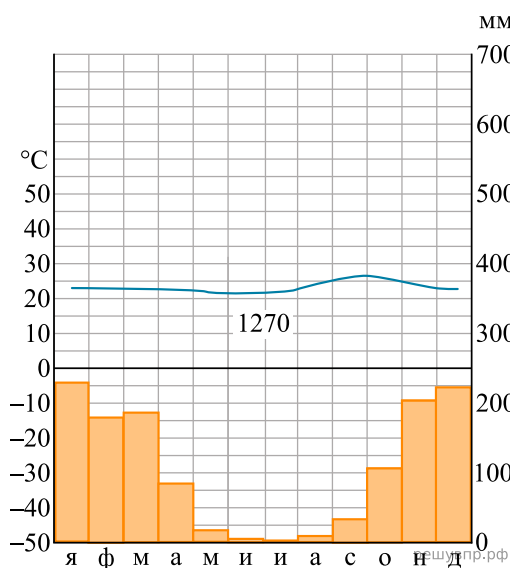
2



3

7. Выберите любую из приведённых выше климатограмм. Укажите в названии таблицы номер этой климатограммы и заполните таблицу климатических показателей, используя данные соответствующей климатограммы.

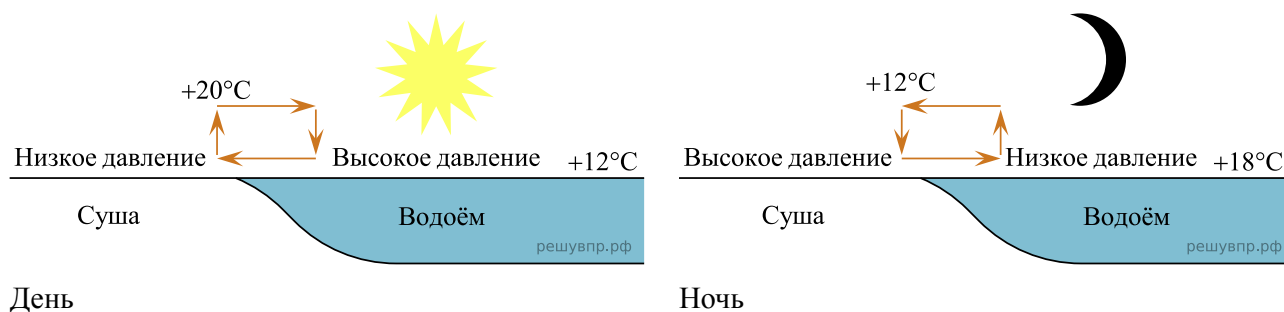
Климатические показатели пункта ____				
Средняя температура воздуха в январе, °С	Средняя температура воздуха в июле, °С	Годовая амплитуда температур, °С	Годовое количество осадков, мм	Месяц, на который приходится наибольшее количество осадков



8. Определите, какой природной зоне мира соответствуют приведённые ниже характеристики. Укажите в ответе название этой природной зоны.

- 1) Эта зона занимает большие территории в Северной Америке и Евразии.
- 2) Она формируется в условиях субарктического климатического пояса.
- 3) В растительном покрове отсутствуют деревья, за исключением карликовых видов, распространены мхи и лишайники, травы, кустарники и кустарнички.
- 4) Для почв характерен глеевый горизонт, образующийся в условиях переувлажнения.
- 5) Животные имеют густой мех, большинство птиц прилетают только на летний сезон.

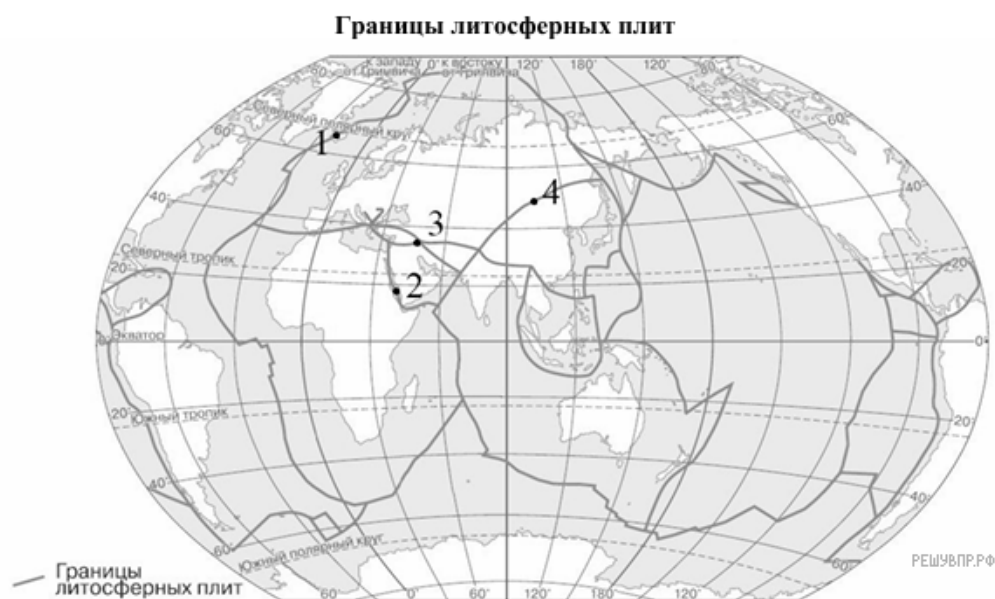
9. Определите, развитие какого природного процесса отображено на схеме.



10. Ритмичность — одна из важнейших закономерностей, свойственных географической оболочке. Какое из перечисленных географических явлений является примером её проявления?

- 1) изменение атмосферного давления с высотой
- 2) смена природных ландшафтов в горах с высотой
- 3) морские приливы и отливы
- 4) изменение среднегодовой температуры воздуха в направлении от полюсов к экватору

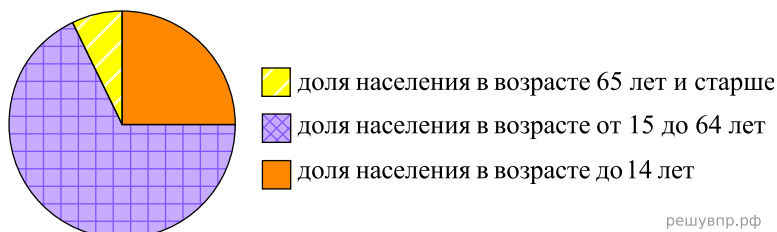
11. Определите, в какой из обозначенных на карте цифрами точек происходит процесс столкновения литосферных плит с земной корой материкового типа.



Территория, численность и возрастной состав населения некоторых стран, 2023 г.					
Страна	Площадь территории, км ²	Численность населения, млн человек	Доля населения в возрасте до 14 лет, %	Доля населения в возрасте от 15 до 64 лет, %	Доля населения в возрасте 65 лет и старше, %
Таджикистан	143 100	10	36	60	4
Колумбия	1 138 910	52	22	67	11
Индонезия	1 904 569	281	25	68	7
Великобритания	244 820	68	17	64	19

12. Расположите страны в порядке увеличения численности населения, начиная со страны с самой маленькой численностью. Запишите в ответе последовательность порядковых номеров этих стран.

13. Возрастной состав населения какой страны отражает представленная на рисунке диаграмма? Запишите в ответе название страны.



14. Определите, в какой из представленных в таблице стран средняя плотность населения наибольшая. Запишите в ответе название страны.

15. Определите страну по её краткому описанию.

Эта страна располагается на одном из архипелагов в Тихом океане. Архипелаг был открыт Ф. Магелланом в 1521 г. Вдоль её западного побережья протянулась одна из глубочайших океанических впадин. В стране часто бывают землетрясения; имеются действующие вулканы. Почти вся территория страны лежит в субэкваториальном климатическом поясе. Численность населения превышает 100 млн человек. Большая часть верующих — католики. Один из двух официальных языков страны — английский.

Долина гейзеров на Камчатке

Долина гейзеров находится на полуострове Камчатка в пределах Кроноцкого заповедника. Этот уникальный памятник природы расположен между вулканами Кихпиныч и Узон, в труднодоступном каньоне реки Гейзерная. Большинство гейзеров протянулось по левому берегу реки. На территории Долины гейзеров обнаружено свыше 20 крупных и средних гейзеров и свыше 20 мелких. Наиболее известны гейзеры Великан, Щель, Тройной, Малахитовый грот, Жемчужный, Сахарный, Конус, Фонтан и др. Природная достопримечательность появилась благодаря развитой вулканической активности на Камчатке. Во всём мире пять таких долин, одну из которых можно увидеть в России.

16. Какие природные объекты называют гейзерами?

17. Объясните, почему полуостров Камчатка является зоной активного вулканизма.