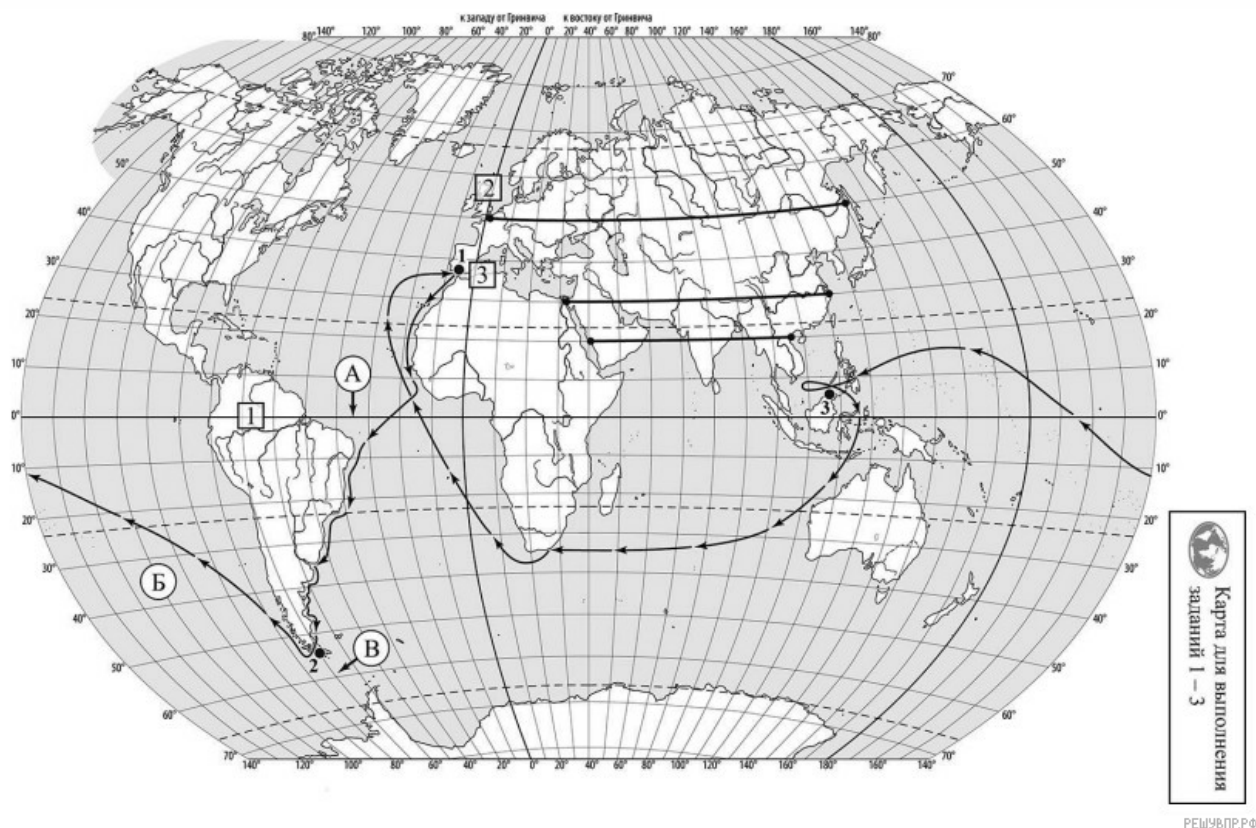


**ВПР по географии 7 класс 2024 год. Вариант 2.**

При выполнении заданий с кратким ответом впишите в поле для ответа цифру, которая соответствует номеру правильного ответа, или число, слово, последовательность букв (слов) или цифр. Ответ следует записывать без пробелов и каких-либо дополнительных символов. Дробную часть отделяйте от целой десятичной запятой. Единицы измерений писать не нужно.

Если вариант задан учителем, вы можете вписать или загрузить в систему ответы к заданиям с развернутым ответом. Учитель увидит результаты выполнения заданий с кратким ответом и сможет оценить загруженные ответы к заданиям с развернутым ответом. Выставленные учителем баллы отобразятся в вашей статистике.



Карта составлена по состоянию на 01.01.2023

1. На карте мира, изображён маршрут экспедиции одного из путешественников, портреты которых представлены ниже. Рассмотрите карту и портреты путешественников и выполните задания.  
Маршрут экспедиции кого из путешественников изображён на карте?



Абель Тасман



Фернан Магеллан



Христофор Колумб

РЕШУ ВПР.РФ

Подпишите на карте название материка, который эта экспедиция обогнула с юга, пройдя через узкий пролив между южной оконечностью материка и островами.

2. На карте буквами обозначены объекты, определяющие географическое положение материка, который эта экспедиция обогнула с юга, пройдя через узкий пролив между южной оконечностью материка и островами. Выберите из приведённого списка и запишите в таблицу названия этих объектов.

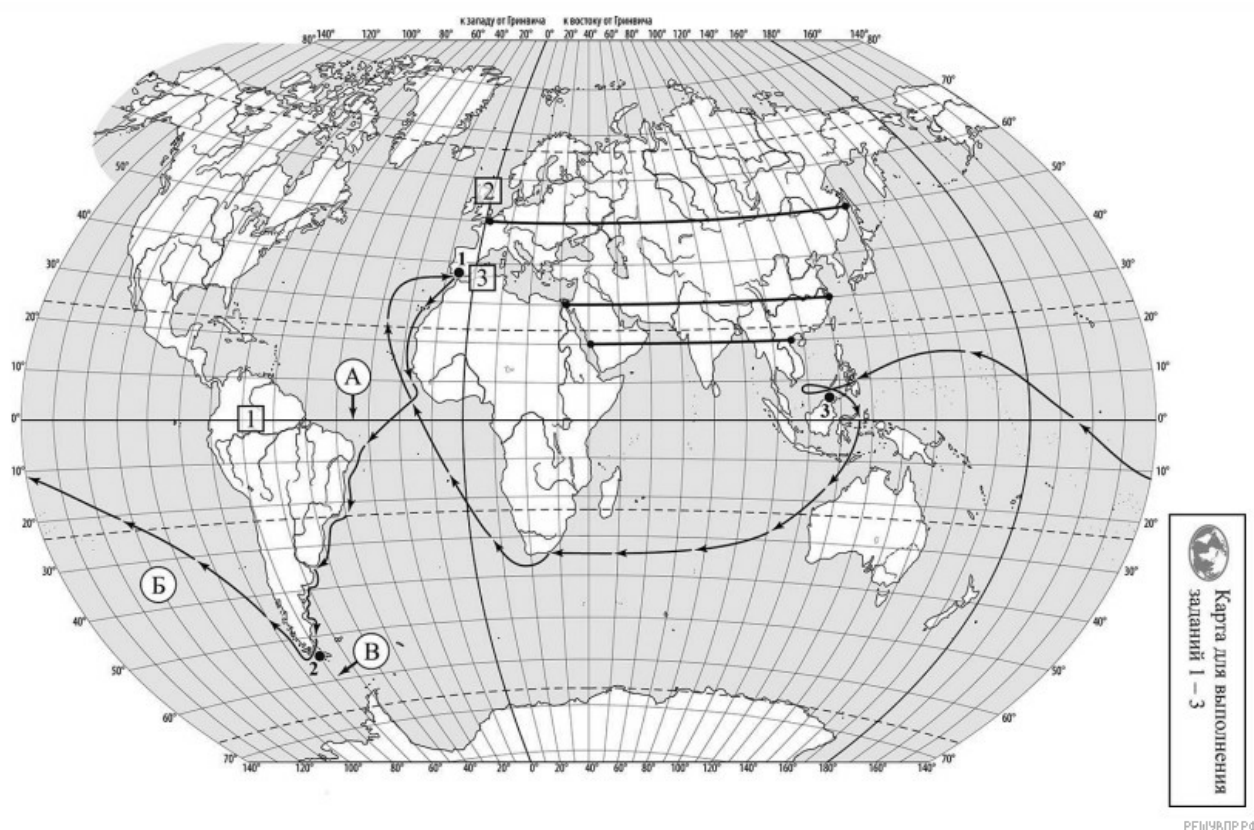
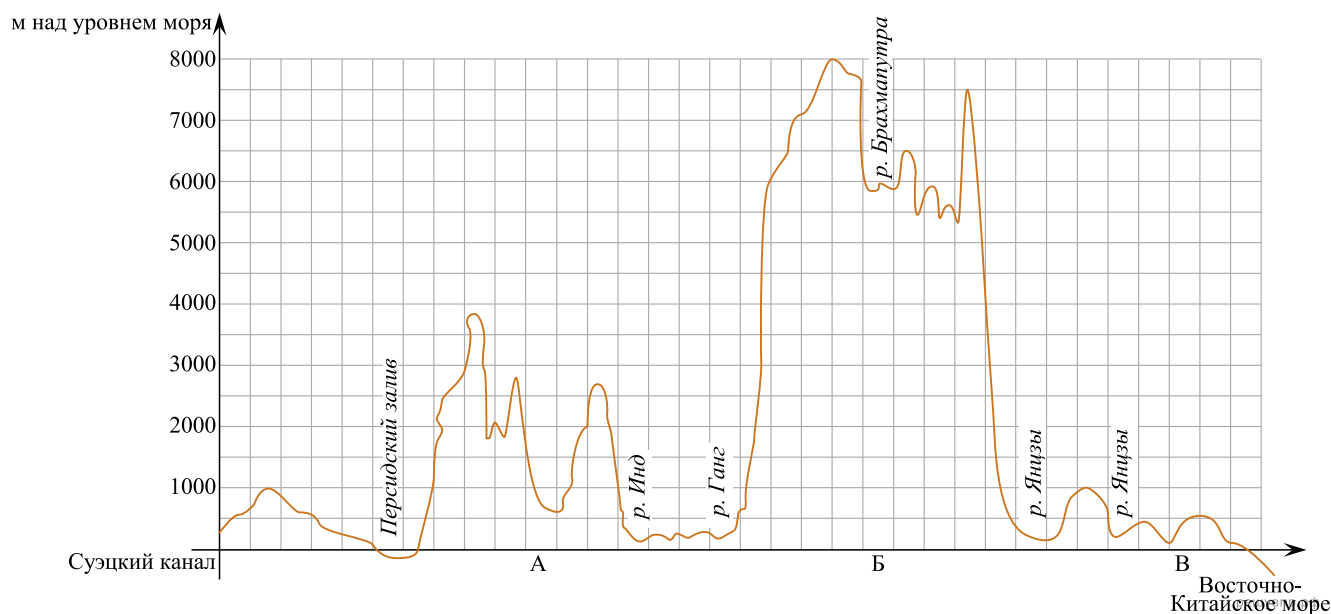
Тихий океан, Мозамбикский пролив, экватор,  
Северный тропик, пролив Дрейка, Индийский океан.

А	Б	В
<input type="text"/>	<input type="text"/>	<input type="text"/>

3. По линии маршрута экспедиции отмечены точки, расположенные на территории крупных географических объектов. Определите и запишите в ответе географические координаты точки 2.

На территории какого географического объекта расположена точка 2? Запишите в ответе его название.

На уроке географии Лариса построила профиль рельефа Евразии, представленный на рисунке. Используя рисунок и карту мира, выполните задания.



Карта составлена по состоянию на 01.01.2023

4. По какому из отрезков, проведённых на карте вдоль трёх параллелей, пересекающих материк Евразия, построен профиль рельефа, представленный на рисунке? Укажите в ответе значение параллели.

Определите по карте протяжённость материка Евразия в градусах по указанной Вами параллели.

Рассчитайте протяжённость материка Евразия по указанной Вами параллели в километрах с помощью приведённой ниже таблицы. (Для расчёта воспользуйтесь калькулятором.)

Широта	0°	5°	10°	15°	20°	25°	30°	35°	40°	45°
Длина дуги параллели в 1°, км	111,3	110,9	109,6	107,6	104,6	101,0	96,5	91,3	85,4	78,8

5. Какой крупной форме рельефа соответствует участок профиля, обозначенный на рисунке буквой Б?

- 1) горы Памир
- 2) Алтайские горы
- 3) горы Гималаи
- 4) горы Альпы

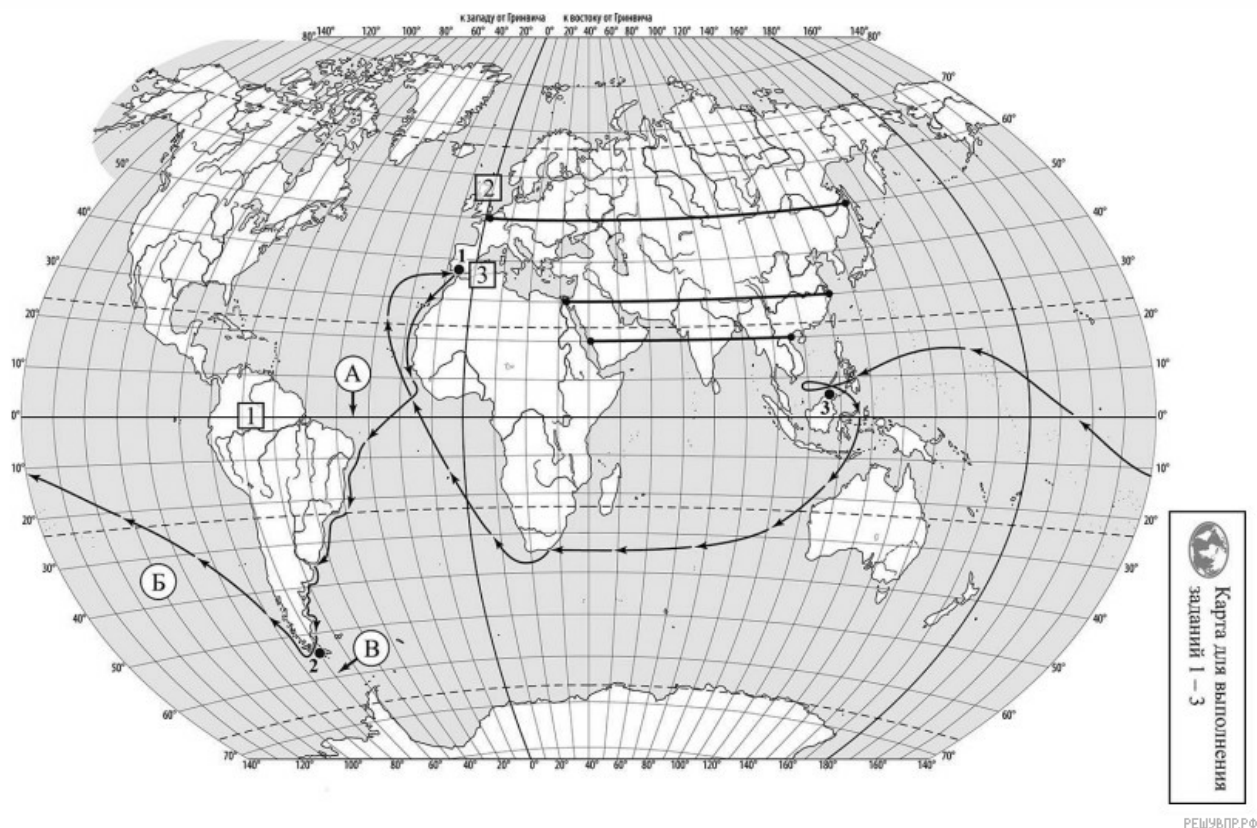
Определите наибольшую абсолютную высоту территории, через которую проходит профиль на этом участке.

6. На рисунке представлены значки, которыми обозначаются месторождения полезных ископаемых на географических картах.



Внесите в таблицу значки, обозначающие месторождения полезных ископаемых, которые добывают на территории, обозначенной на профиле буквой Б.

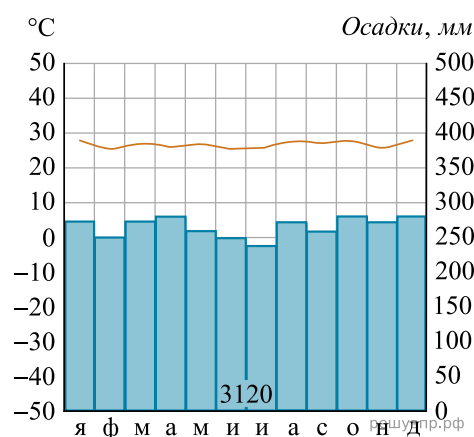
Медные руды	Золото	Хромовые руды	Каменная соль



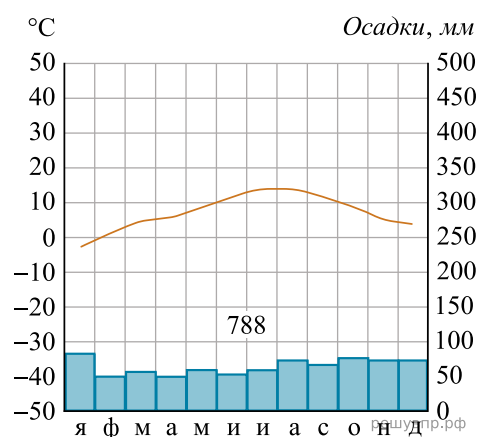
Карта составлена по состоянию на 01.01.2023

7. Рассмотрите рисунки с изображением климатограмм, построенных по данным метеонаблюдений в разных частях Земли, и выполните задания.

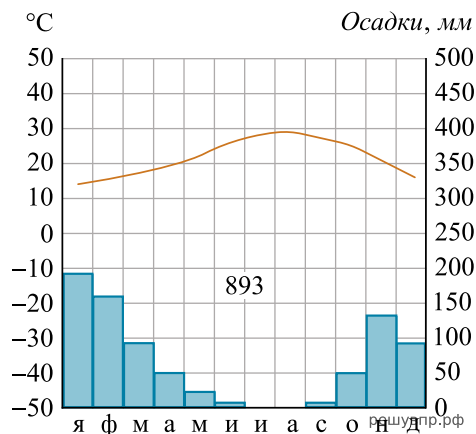
На карте мира территории, для которых построены изображённые на рисунках климатограммы, показаны квадратами с соответствующими номерами климатограмм. Определите, какому климатическому поясу соответствует каждая климатограмма. Подпишите названия климатических поясов под соответствующими климатограммами.



1



2



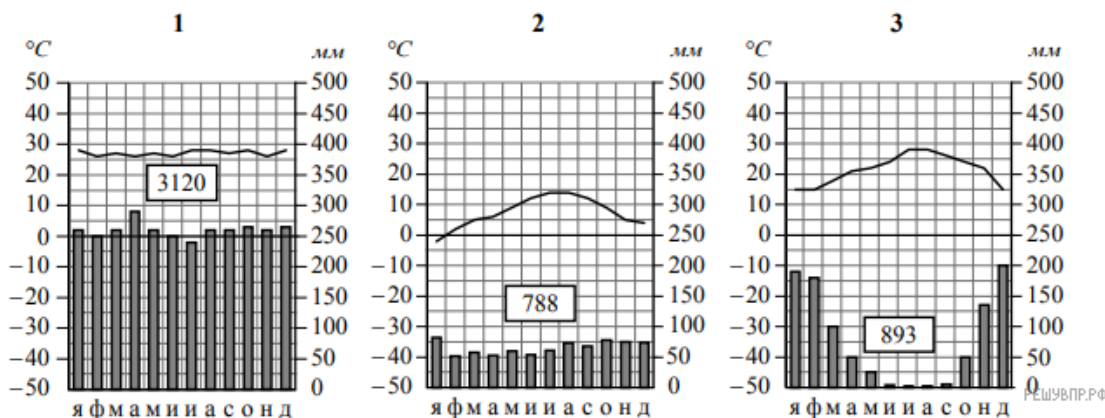
3




8. Какой природной зоне мира соответствуют приведённые ниже характеристики? Укажите в ответе название этой природной зоны.

- 1) Занимает прибрежные территории вдоль морей и океанов на всех материках, кроме Антарктиды.
- 2) Наиболее типичны пробковый и каменный дуб, кипарис, туя, лавр.
- 3) На плодородных коричневых почвах выращивают субтропические культуры: оливы, цитрусовые, виноград.
- 4) Среди представителей животного мира много пресмыкающихся, насекомых и птиц.
- 5) Из-за высокой хозяйственной освоенности естественная растительность и дикие животные сохранились только в предгорьях и на охраняемых территориях.

Выберите климатограмму, соответствующую климатическим особенностям указанной Вами природной зоны. Запишите в ответе её номер.



9. По выбранной климатограмме заполните таблицу климатических показателей для указанной Вами природной зоны.

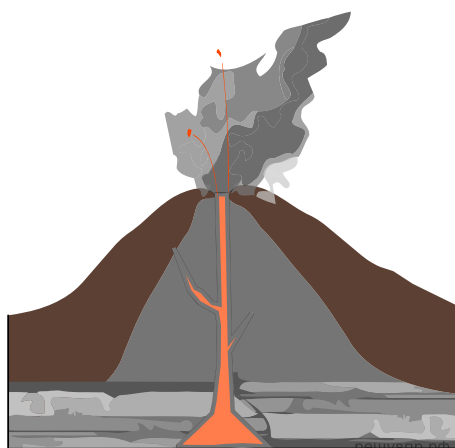
Средняя температура воздуха, °С		Годовая амплитуда температур, °С	Годовое количество осадков, мм	Месяц, на который приходится наибольшее количество осадков
в январе	в июле			

Какой природной зоне мира соответствуют приведённые ниже характеристики? Укажите в ответе название этой природной зоны.

- 1) Занимает прибрежные территории вдоль морей и океанов на всех материках, кроме Антарктиды.
- 2) Наиболее типичны пробковый и каменный дуб, кипарис, туя, лавр.
- 3) На плодородных коричневых почвах выращивают субтропические культуры: оливы, цитрусовые, виноград.
- 4) Среди представителей животного мира много пресмыкающихся, насекомых и птиц.
- 5) Из-за высокой хозяйственной освоенности естественная растительность и дикие животные сохранились только в предгорьях и на охраняемых территориях.

Выберите климатограмму, соответствующую климатическим особенностям указанной Вами природной зоны. Укажите в ответе её номер.

Рассмотрите схему природного процесса и выполните задания.



10. Какой природный процесс отображён на схеме?

11. Установите последовательность этапов отображённого на схеме процесса. Запишите в ответе порядковые номера этапов.

ЭТАПЫ:

- 1) Лава на земной поверхности охлаждается и затвердевает, образуя вулканическую породу.
- 2) В верхней мантии образуется очаг магмы.
- 3) При накоплении застывшей лавы формируется конусовидная гора с кратером на вершине, через который происходят последующие излияния лавы.
- 4) Магма поднимается по трещинам в земной коре и изливается на земную поверхность в виде лавы.
- 5) Раскалённая магма выделяет газы и пары воды, которые, создавая огромное давление, обеспечивают продвижение магмы к земной поверхности.

12. Установите соответствие между материками и их географическими особенностями.

Материки:

- А) Африка
- Б) Южная Америка

Географические особенности:

- 1) Западную часть материка занимает самая длинная горная цепь в мире.
- 2) По территории материка протекает самая полноводная река мира.
- 3) Экватор пересекает материк в центральной части.
- 4) Около 40% территории материка занимают саванны и редколесья.
- 5) В горах материка расположены самые высокогорные в мире города, селения и обрабатываемые поля.
- 6) На востоке материка в разломах земной коры образовались глубокие озёра.

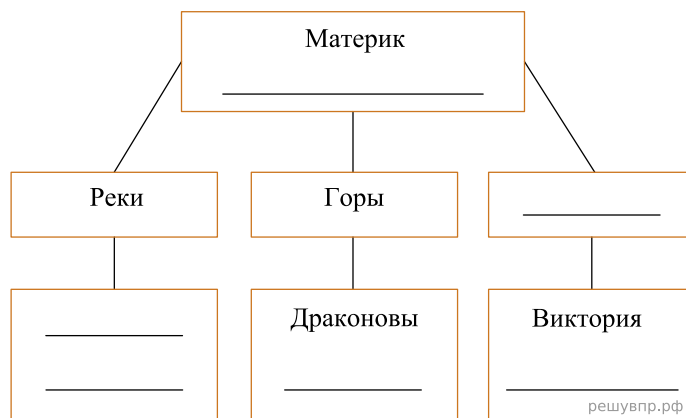
Запишите в таблицу выбранные цифры под буквами, которыми обозначены материки.

Ответ:

А	Б
<input type="text"/>	<input type="text"/>

13. В приведённом ниже списке перечислены крупные географические объекты. Выберите из представленного ниже списка названия географических объектов, расположенных на территории одного из этих материков, и заполните схему. Впишите в схему название материка, типы и названия выбранных Вами географических объектов.

*Ливия, Муррей, Гудзонов, Ньяса, Конго, Верхнее, Капские, Титикака, Нигер, Байкал, Маракайбо, Ан-палачи.*



решувпр.рф


Александр и Тимур познакомились на чемпионате мира по хоккею в Словакии. Александр живёт в столице Белоруссии, а Тимур — в столице Казахстана. Подростки общаются через Интернет, и при общении им приходится учитывать разницу во времени между их городами.



Карта составлена по состоянию на 01.01.2020


**14.** На политической карте мира выделите штриховкой страны, в которых живут подростки.

**15.** Часы на рисунках отображают время в городах, где живут подростки. Подпишите названия городов под соответствующими часами.




Гринвич  
12:00 (полдень)

решувпр.рф



21 марта  
15:00

решувпр.рф



21 марта  
18:00

решувпр.рф

16. Тимур отправил Александру электронное сообщение в 19:30 по местному времени.



Какое время будет отображаться в соответствующем окне на экране смартфона Александра, когда он получит сообщение от Тимура?

Используя представленную ниже таблицу и политическую карту мира выполните задания.

**Занятость населения по отраслям хозяйства, 2017 г.**

№	Страна	Численность занятого населения, млн человек	Доля занятого населения, %		
			в сельском хозяйстве	в промышленности	в сфере услуг
1	Румыния	8,9	28	29	43
2	Япония	65,0	3	26	71
3	Алжир	11,8	11	31	58
4	Мозамбик	13,0	74	4	22

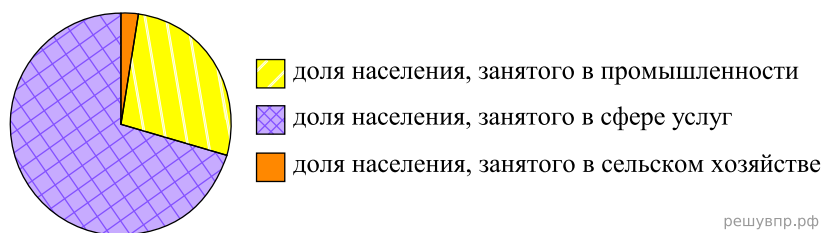


РЕШУВПР.РФ

Карта составлена по состоянию на 01.01.2017

**17.** Расположите страны в порядке уменьшения численности занятого населения, начиная со страны с самым высоким показателем. Запишите в ответе последовательность порядковых номеров этих стран.

**18.** Структуру занятости населения какой страны, из приведённых в таблице, отражает представленная на рисунке диаграмма? Запишите в ответе название страны.



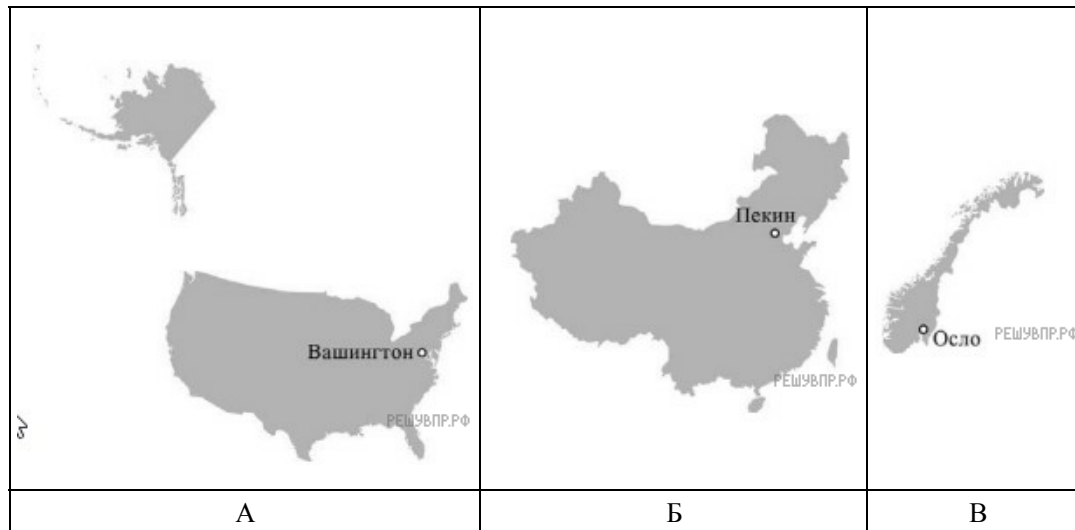
**19.** Представьте, что Вы познакомились со своим сверстником, который живёт за границей, и он прислал Вам фотографии, сделанные в его стране.

В какой стране живёт Ваш сверстник?



**20.** Рассмотрите представленные ниже рисунки. Выберите рисунок с контуром страны, в которой живёт Ваш сверстник. Запишите в ответе букву, которой обозначен этот рисунок.

Моря какого океана омывают берега этой страны?



Карты составлены по состоянию на 01.01.2023