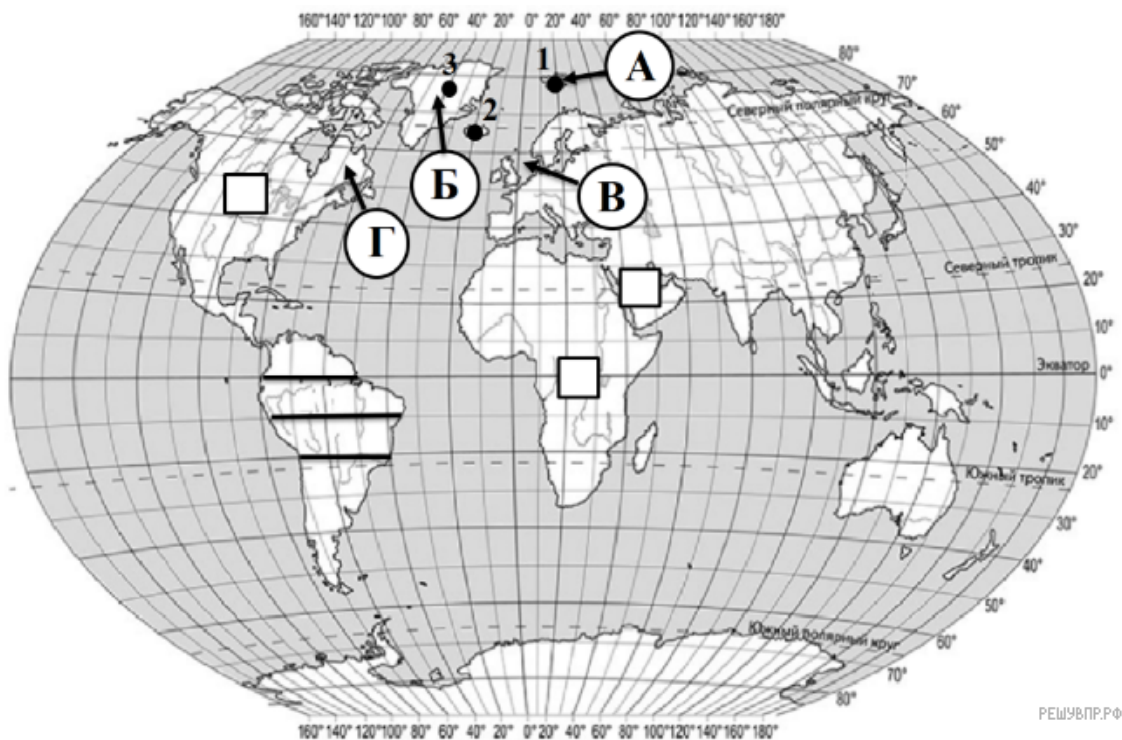


**ВПР по географии 7 класс 2019 год. Вариант 18.**

При выполнении заданий с кратким ответом впишите в поле для ответа цифру, которая соответствует номеру правильного ответа, или число, слово, последовательность букв (слов) или цифр. Ответ следует записывать без пробелов и каких-либо дополнительных символов. Дробную часть отделяйте от целой десятичной запятой. Единицы измерений писать не нужно.

Если вариант задан учителем, вы можете вписать или загрузить в систему ответы к заданиям с развернутым ответом. Учитель увидит результаты выполнения заданий с кратким ответом и сможет оценить загруженные ответы к заданиям с развернутым ответом. Выставленные учителем баллы отобразятся в вашей статистике.




РЕШУ ВПР.РФ

Карта составлена по состоянию на 01.01.2019

1. На карте мира, изображён маршрут экспедиции одного из путешественников, портреты которых представлены ниже. Рассмотрите карту и портреты путешественников и выполните задания.

Маршрут экспедиций кого из путешественников изображён на карте?



Фриттьоф Нансен



Генри Гудзон



Руаль Амундсен



Подпишите на карте современное название материка, у берегов которого погиб этот мореплаватель.

2. На карте буквами обозначены крупные объекты, через которые проходило плавание, изображенное на рисунке. Запишите в таблицу названия этих объектов.

А	Б	В	Г
<input type="text"/>	<input type="text"/>	<input type="text"/>	<input type="text"/>

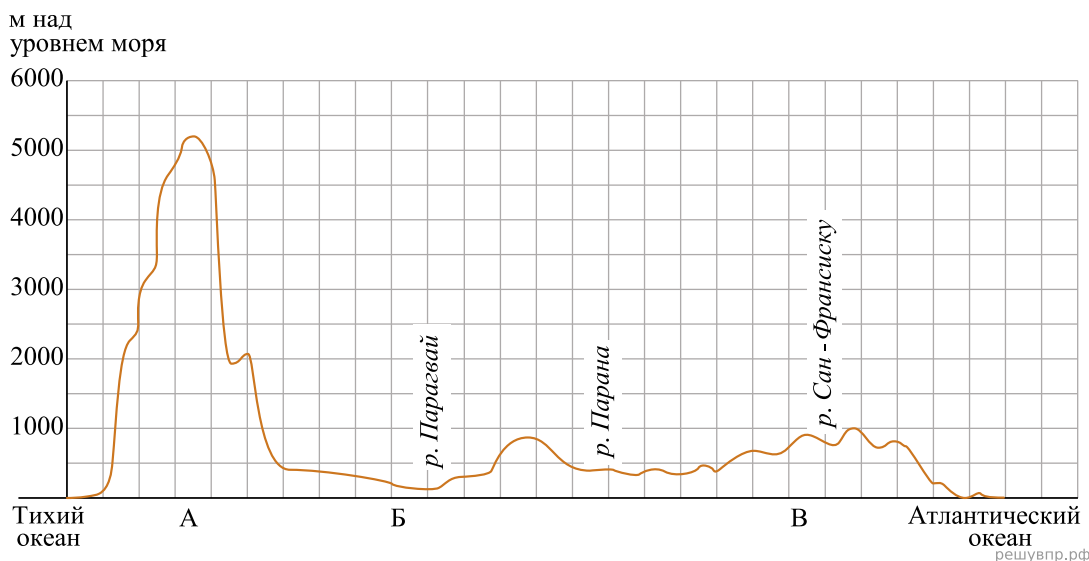


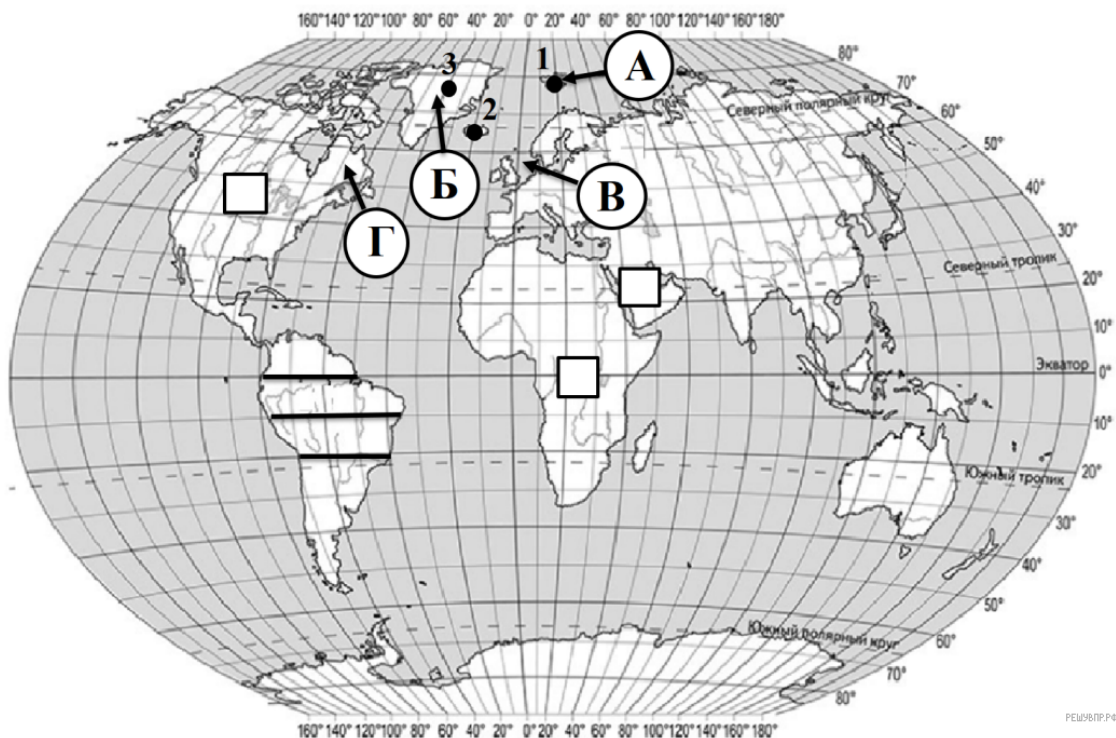
3. По линии маршрута экспедиции отмечены точки, расположенные на территории крупных географических объектов. Определите и запишите в ответе географические координаты точки 1.

4. Прочитайте текст, составленный по запискам путешественников, исследователей и туристов, посещавших объект, на территории которого расположена точка 1. Запишите в ответе название этого географического объекта.

Этот архипелаг на старых картах именовался Грумант. Свое современное название он получил в 1596 году благодаря голландскому полярному мореплавателю. Сегодня — это самая северная территории Норвегии. Но помимо нее хозяйственную и научную деятельность здесь ведет и Россия. Поселок Баренцбург — это российский населенный пункт. Он состоит из трех крупных, семи мелких островов и множества маленьких островов-шхер. Общая площадь архипелага составляет 621 км<sup>2</sup>. Рельеф преобладает горный, обширные территории покрыты льдом из-за сурового климата.

На уроке географии Дмитрий построил профиль рельефа Южной Америки, представленный на рисунке. Используя рисунок и карту мира выполните задания.





5. По какому из отрезков, проведённых на карте вдоль трёх параллелей, пересекающих материк Южная Америка, построен профиль рельефа, представленный на рисунке? Укажите в ответе значение параллели.

Определите по карте протяжённость материка Южная Америка в градусах по указанной Вами параллели.

Рассчитайте протяжённость материка Южная Америка по указанной Вами параллели в километрах с помощью приведённой ниже таблицы. (Для расчёта воспользуйтесь калькулятором.)

Широта	0°	10°	20°	30°	40°	50°	60°	70°	80°	90°
Длина дуги параллели в 1°, км	111,3	109,6	104,6	96,5	85,4	71,7	55,8	38,2	19,4	0

6. Укажите географическое название крупной формы рельефа, которой соответствует участок профиля, обозначенный на верхнем рисунке буквой А.

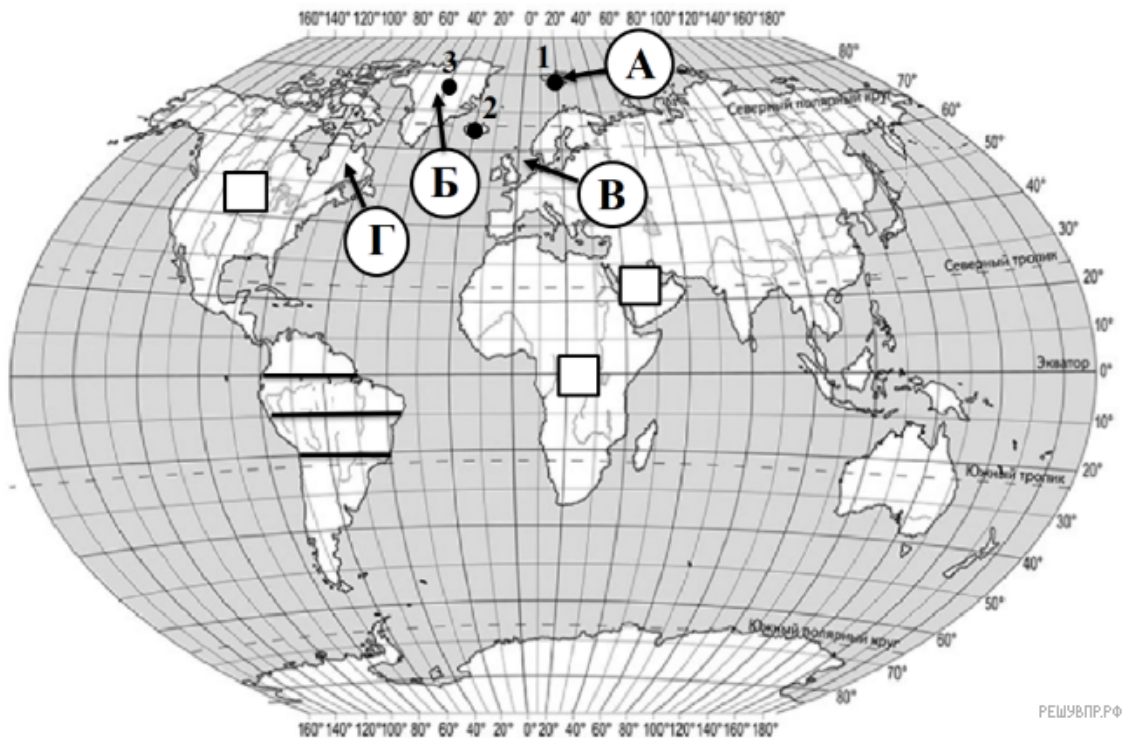
Определите наибольшую абсолютную высоту территории, через которую проходит профиль на этом участке.

7. На рисунке представлены значки, которыми обозначаются месторождения полезных ископаемых на географических картах.



Внесите в таблицу значки, обозначающие месторождения полезных ископаемых, которые добывают на территории, через которую построен профиль.

Железные руды	Алмазы	Марганцевые руды	Медные руды

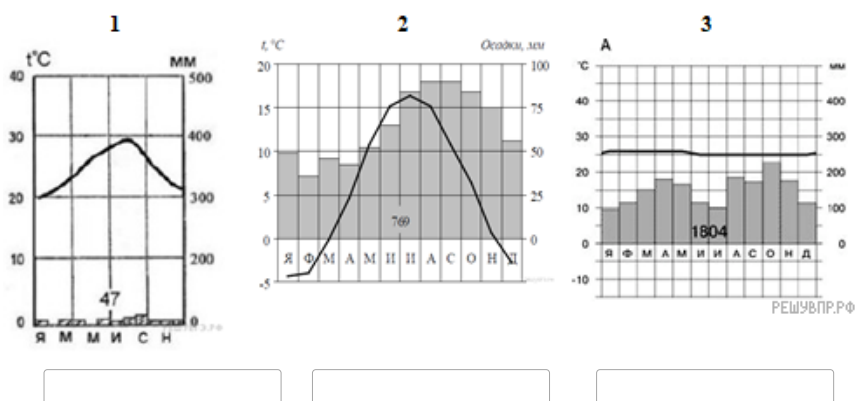


РЕШУ ВПР.РФ

Карта составлена по состоянию на 01.01.2019

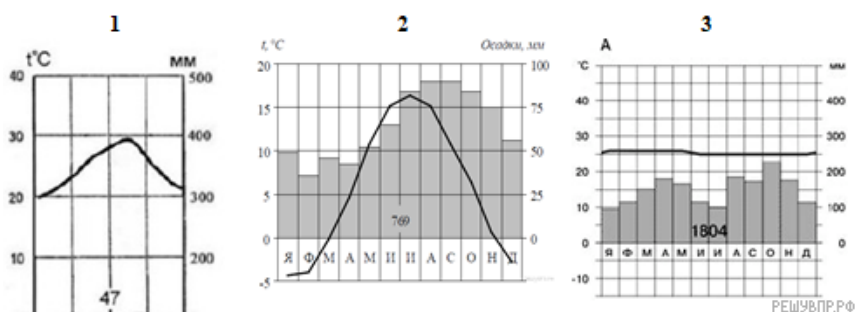
8. Рассмотрите рисунки с изображением климатограмм, построенных по данным метеонаблюдений в разных частях Земли, и выполните задания.

Определите, какому климатическому поясу соответствует каждая климатограмма. Подпишите название климатического пояса под соответствующей климатограммой.



РЕШУ ВПР.РФ

9. На карте мира территории, для которых построены изображённые на рисунках климатограммы, обозначены пустыми квадратами. Впишите в каждый квадрат на карте мира номер соответствующей климатограммы.

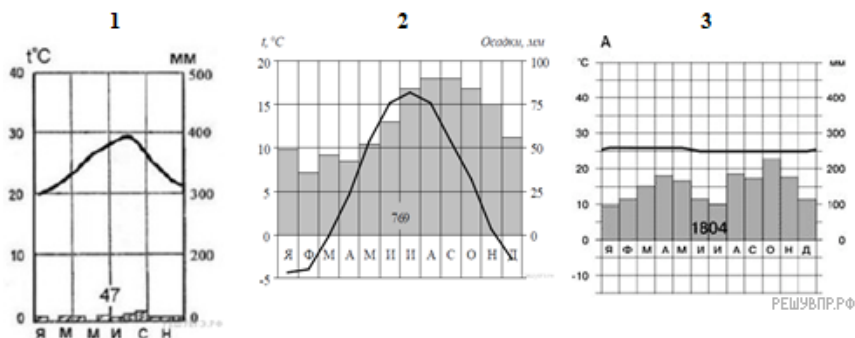


РЕШУ ВПР.РФ

10. Какой природной зоне мира соответствуют приведённые ниже характеристики? Укажите в ответе название этой природной зоны.

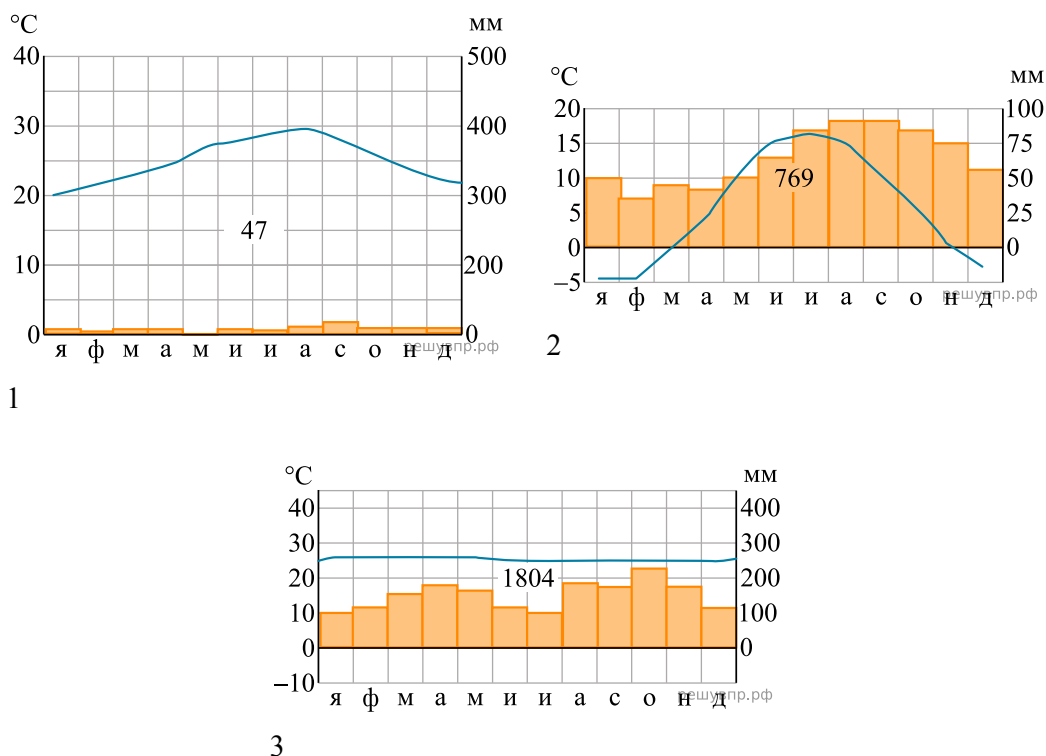
- 1) Занимает обширные территории Африки и Австралии, а также других материков.
- 2) Всегда очень жарко и сухо.
- 3) Растительность бедная, листья видоизменены или отсутствуют, корни очень длинные.
- 4) Бывают песчаные, каменистые или глинистые.
- 5) Типичные представители животного мира: змеи, ящерицы, пауки и др.

Выберите климатограмму, соответствующую климатическим особенностям указанной Вами природной зоны. Укажите в ответе её номер.



11. По выбранной Вами в задании 3.2. климатограмме определите климатические показатели для указанной природной зоны и заполните таблицу.

Средняя температура воздуха, °С		Годовая амплитуда температур, °С	Среднегодовое количество осадков, мм	Месяц, на который приходится наибольшее количество осадков
в январе	в июле			



Для выполнения задания приводим текст задания 3.2:

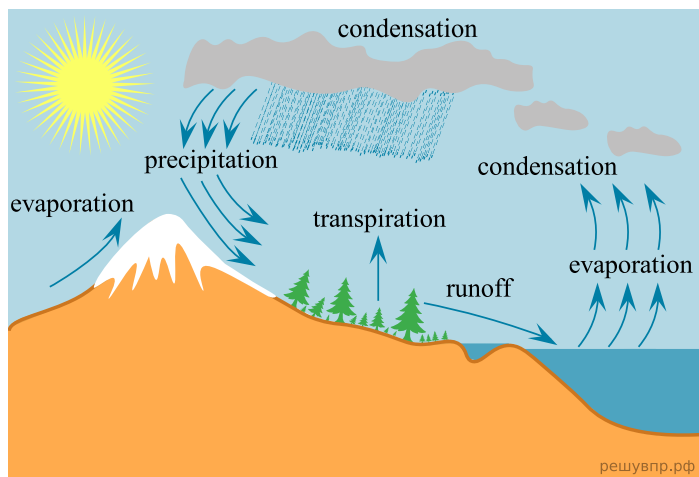
Какой природной зоне мира соответствуют приведённые ниже характеристики? Укажите в ответе название этой природной зоны.

- 1) Занимает обширные территории Африки и Австралии, а также других материков.

- 2) Всегда очень жарко и сухо.
- 3) Растительность бедная, листья видоизменены или отсутствуют, корни очень длинные.
- 4) Бывают песчаные, каменистые или глинистые.
- 5) Типичные представители животного мира: змеи, ящерицы, пауки и др.

Выберите климатограмму, соответствующую климатическим особенностям указанной Вами природной зоны. Укажите в ответе её номер.

Рассмотрите схему природного процесса и выполните задания.



12. Какой природный процесс отображён на схеме?

13. Установите последовательность процессов, изображенных на схеме. Запишите в ответе порядковые номера этапов.

ЭТАПЫ:

- 1) Выпадение осадков.
- 2) Испарение водяного пара с водных поверхностей и поверхности растительности.
- 3) Нагревание Солнечными лучами водной поверхности.
- 4) Образование облаков и их перемещение на сушу.
- 5) Охлаждение и конденсация водяного пара.

14. Чем завершается данный процесс?

15. Установите соответствие между географическими особенностями и материками, для которых они характерны: для этого к каждой позиции первого столбца подберите соответствующую позицию из второго столбца.

#### ГЕОГРАФИЧЕСКИЕ ОСОБЕННОСТИ

- А) На этом материке расположен самый высокий водопад.
- Б) На материке находится самая большая низменность.
- В) Здесь протекает самая полноводная река мира.
- Г) На материке находится крупнейшее высокогорное озеро мира.
- Д) Материк омывают воды трех океанов.
- Е) На территории материка очень много пресноводных озер.

#### МАТЕРИКИ

- 1) Северная Америка
- 2) Южная Америка

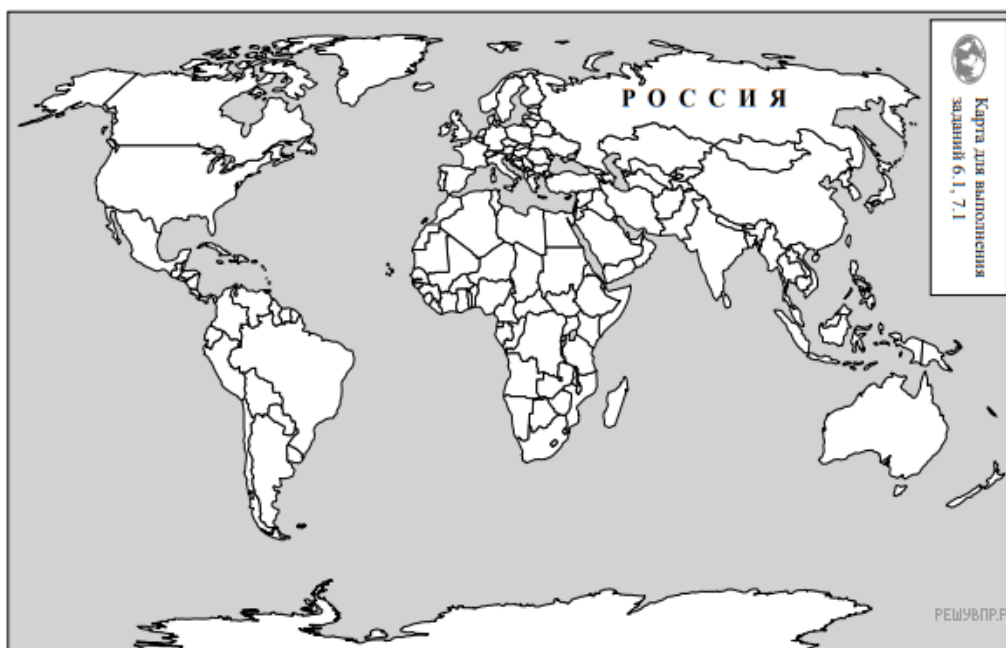
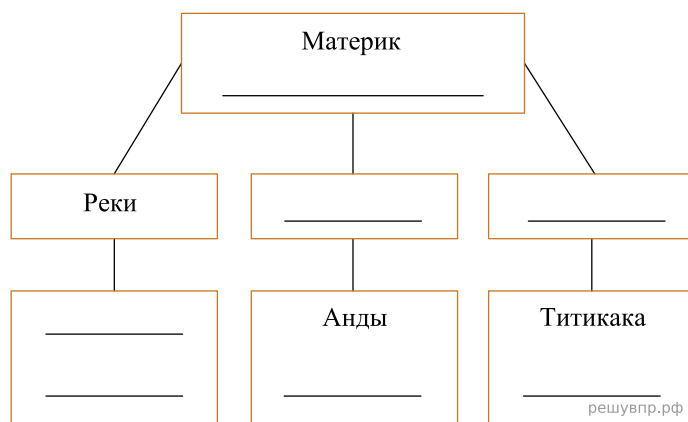
Запишите в таблицу выбранные цифры под соответствующими буквами.

Ответ:

А	Б	В	Г	Д	Е
<input type="text"/>	<input type="text"/>	<input type="text"/>	<input type="text"/>	<input type="text"/>	<input type="text"/>

**16.** В приведённом ниже списке перечислены крупные географические объекты. Выберите из представленного ниже списка названия географических объектов, расположенных на территории одного из этих материков, и заполните схему. Впишите в схему название материка, типы и названия выбранных Вами географических объектов.

*Конго, Ориноко, Дарлинг, Эри, Маракайбо, Парагвай, Миссури, Аконкагуа, Муррей, Денали, Юкон, Дарлинг, Кордильеры, Альпы.*




Карта составлена по состоянию на 01.01.2019

**17.** Мишель и Николас познакомились на чемпионате мира по футболу. Мишель живёт в столице Франции, а Николас — в столице Аргентины. Подростки общаются через Интернет, и при общении им приходится учитывать разницу во времени между их городами.


На политической карте мира выделите штриховкой страны, в которых живут подростки.

Мишель и Николас познакомились на чемпионате мира по футболу. Мишель живёт в столице Франции, а Николас — в столице Аргентины. Подростки общаются через Интернет, и при общении им приходится учитывать разницу во времени между их городами.




Гринвич  
20 марта  
12:00 (полдень)

решувпр.рф



20 марта  
13:00

решувпр.рф

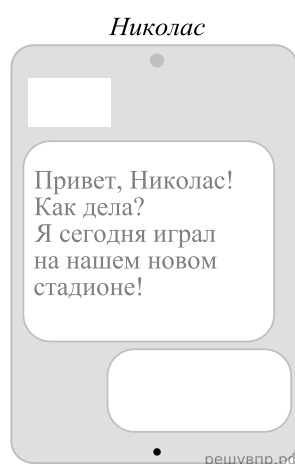
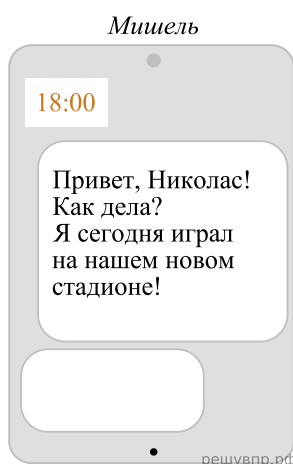


20 марта  
09:00

решувпр.рф

**18.** Вследствие вращения Земли время различается в разных её частях, и во Франции день наступает раньше, чем в Аргентине. Часы на рисунках отображают время в городах, где живут подростки. Подпишите названия городов под соответствующими часами.

**19.** Мишель отправил Николасу электронное сообщение в 18:00 по местному времени.

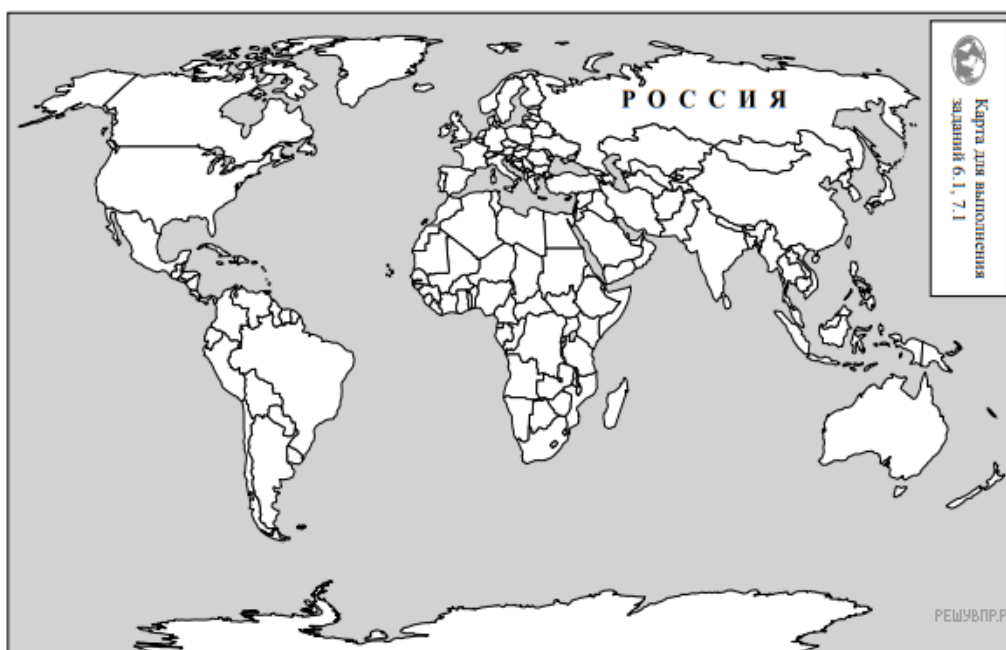


Какое время будет отображаться в соответствующем окне на экране смартфона Николаса, когда он получит сообщение от Мишеля?

Используя представленную ниже таблицу и политическую карту мира выполните задания.

**Численность и состав населения, 2017 г.**

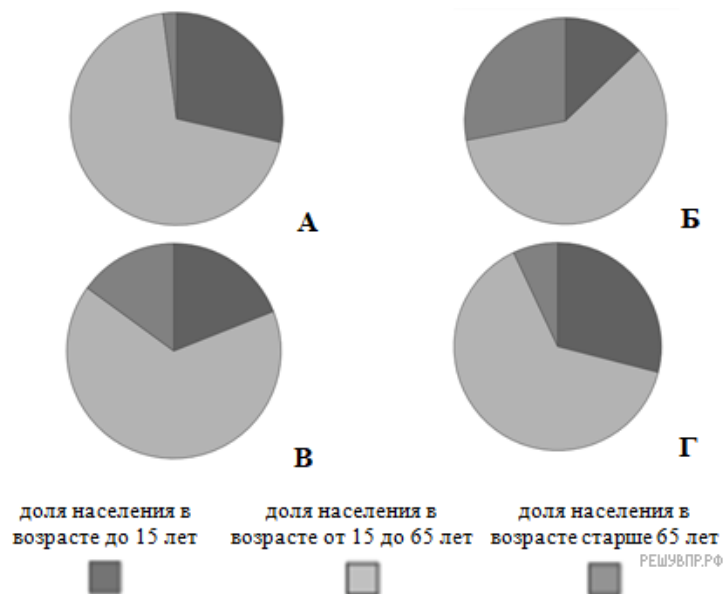
№	Страна	Численность населения, млн человек	Состав населения, %		
			Доля населения в возрасте до 15 лет	Доля населения в возрасте от 15 до 65 лет	Доля населения в возрасте старше 65 лет
1	Иран	81	25	71	4
2	Перу	32	27	66	7
3	США	325	19	66	15
4	Япония	126	13	59	28



Карта составлена по состоянию на 01.01.2017

**20.** Подпишите на политической карте мира название страны с самой большой численностью населения.

**21.** Определите, возрастной состав населения какой страны отражает каждая диаграмма. Запишите в ответе порядковые номера стран под соответствующими буквами.



Ответ:

А	Б	В	Г
<input type="text"/>	<input type="text"/>	<input type="text"/>	<input type="text"/>

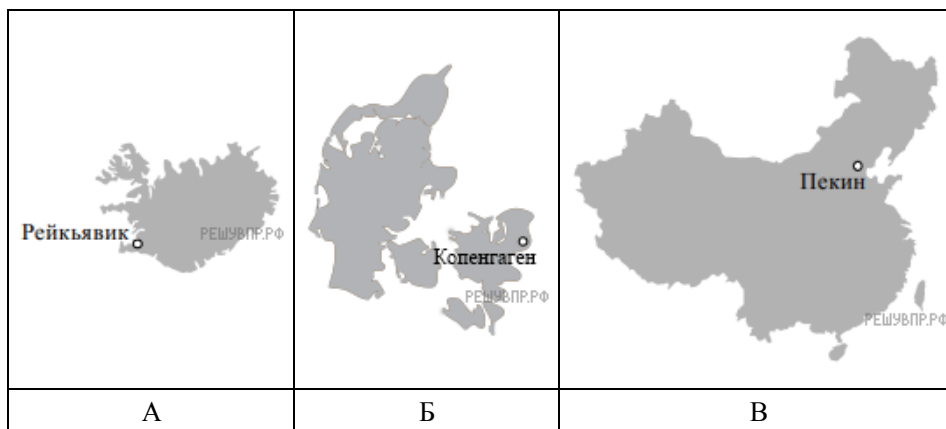
**22.** Представьте, что Вам было поручено взять интервью у зарубежного сверстника, чтобы он познакомил Вас со своей страной. Для иллюстрации этого интервью Вы попросили его прислать несколько фотографий, сделанных стране, в которой он живёт.

Рассмотрите фотографии и ответьте на вопросы.



В какой стране живёт Ваш сверстник?  
Как называется столица этой страны?

23. Рассмотрите представленные ниже рисунки. Выберите рисунок с контуром страны, в которой живёт Ваш сверстник. Запишите в ответе букву, которой обозначен этот рисунок.




24. Предположите, какие ответы на вопросы о своей стране даст Ваш сверстник в ходе интервью. Запишите их в таблицу.

Вопрос	Ответ
1. В какой части света находится твоя страна?	
2. Какое(-ие) море(-я) омывает(-ют) берега твоей страны?	
3. Какие горы есть в твоей стране?	
4. Какие крупные города, кроме столицы, есть в твоей стране?	
5. В какой сфере хозяйства занято большинство жителей страны?	
6. Какие сельскохозяйственные культуры выращивают в твоей стране?	
7. Какие достопримечательности можно посмотреть в твоей стране?	

Для выполнения задания приводим текст задания 8.1:

*Представьте, что Вам было поручено взять интервью у зарубежного сверстника, чтобы он познакомил Вас со своей страной. Для иллюстрации этого интервью Вы попросили его прислать несколько фотографий, сделанных стране, в которой он живёт.*

*Рассмотрите фотографии и ответьте на вопросы.*



*В какой стране живёт Ваш сверстник?*

*Как называется столица этой страны?*