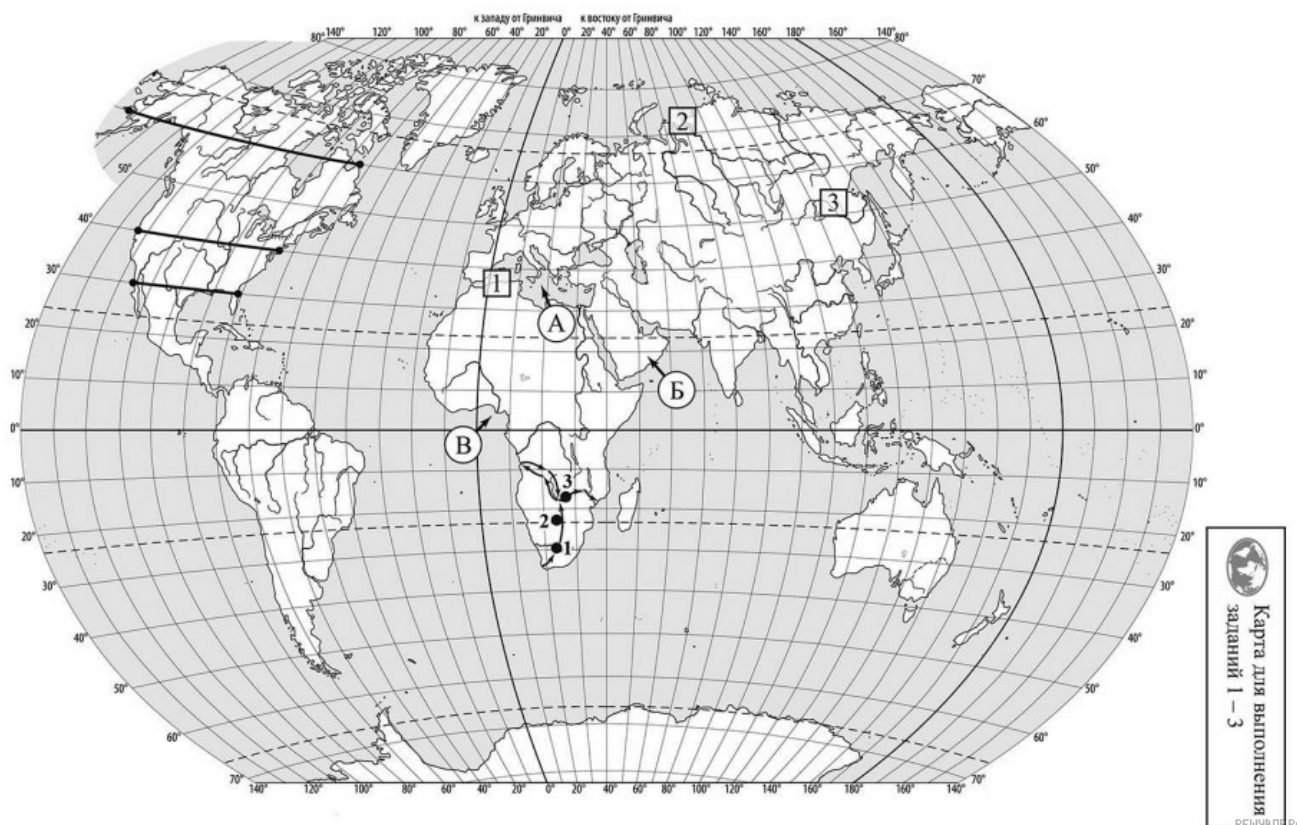


ВПР по географии 7 класс 2023 год. Вариант 5.

При выполнении заданий с кратким ответом впишите в поле для ответа цифру, которая соответствует номеру правильного ответа, или число, слово, последовательность букв (слов) или цифр. Ответ следует записывать без пробелов и каких-либо дополнительных символов. Дробную часть отделяйте от целой десятичной запятой. Единицы измерений писать не нужно.

Если вариант задан учителем, вы можете вписать или загрузить в систему ответы к заданиям с развернутым ответом. Учитель увидит результаты выполнения заданий с кратким ответом и сможет оценить загруженные ответы к заданиям с развернутым ответом. Выставленные учителем баллы отобразятся в вашей статистике.




1. На карте мира, изображён маршрут экспедиции одного из путешественников, портреты которых представлены ниже. Рассмотрите карту и портреты путешественников и выполните задания. Маршрут экспедиции кого из путешественников изображён на карте?



Афанасий Никитин



Давид Ливингстон



Джеймс Кук

РЕШУ ВПР.РФ

Подпишите на карте название материка, по которому проходили маршруты экспедиций.

2. На карте буквами обозначены объекты, определяющие географическое положение материка, по которому проходили маршруты экспедиций. Выберите из приведённого списка и запишите в таблицу названия этих объектов.

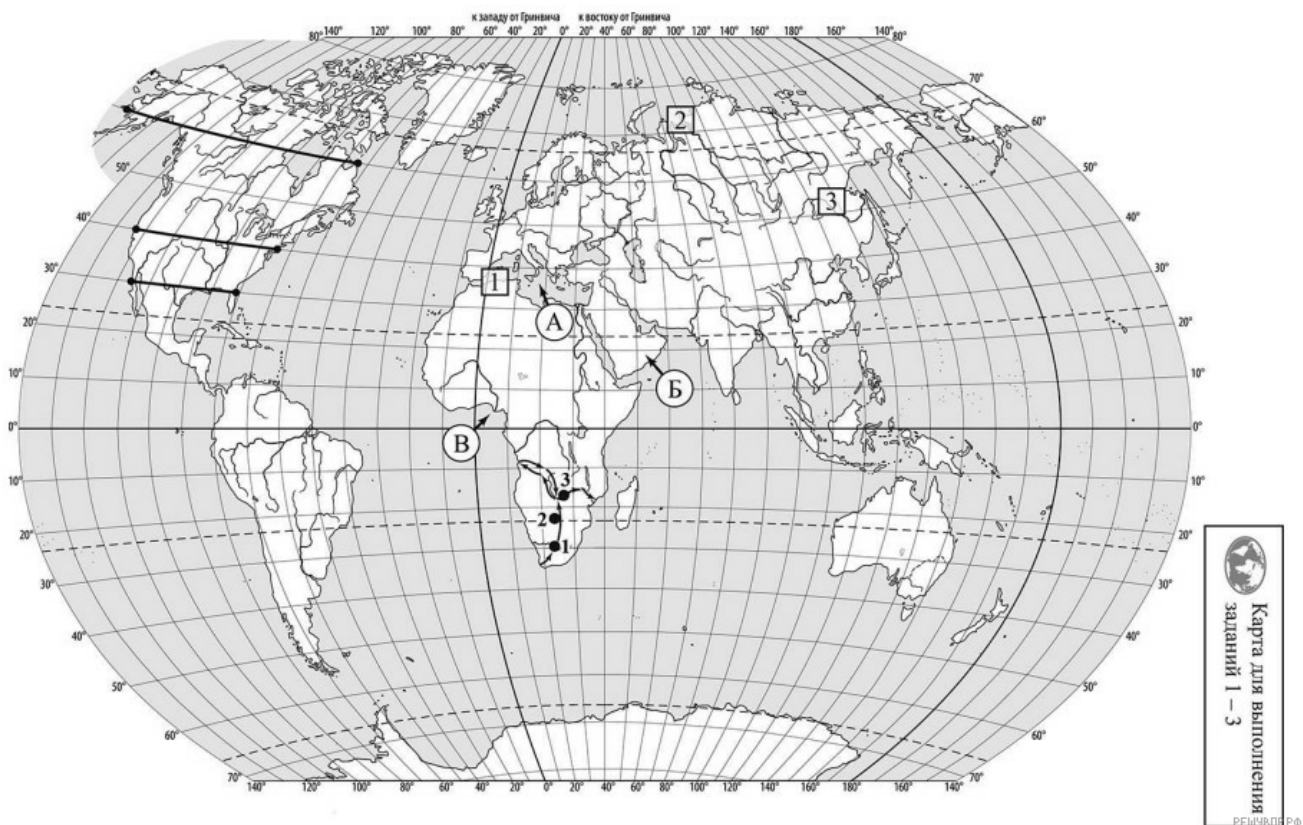
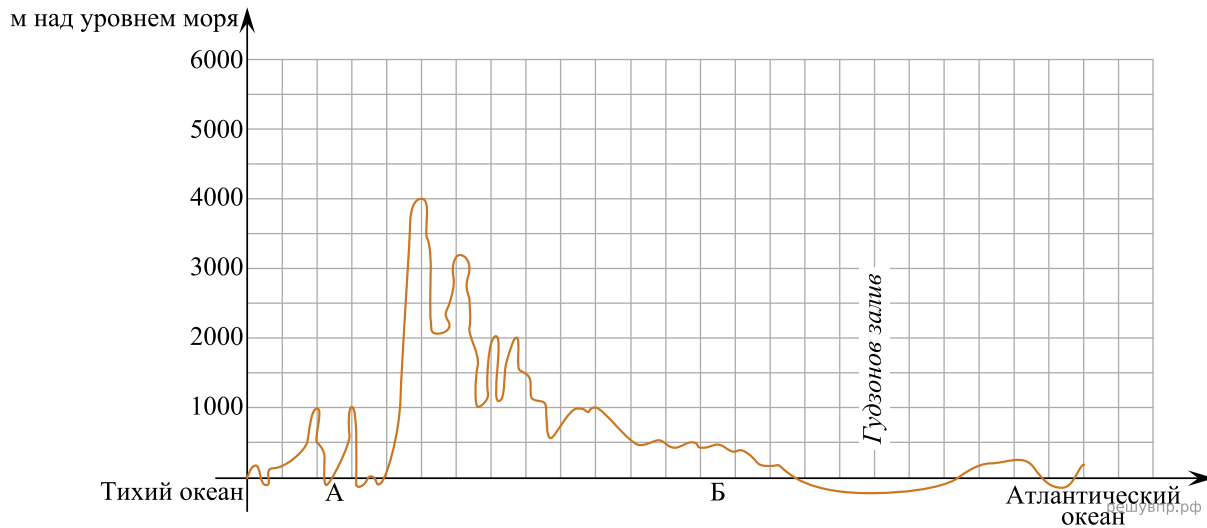
Полуостров Индостан, Средиземное море, Красное море, остров Мадагаскар, Аравийский полуостров, Гвинейский залив.

А	Б	В

3. По линиям маршрутов экспедиций отмечены точки, расположенные на территории крупных географических объектов. Определите и запишите в ответе географические координаты точки 2.

На территории какого географического объекта расположена точка 2? Запишите в ответе его название.

На уроке географии Ксения построила профиль рельефа Северной Америки, представленный на рисунке. Используя рисунок и карту мира, выполните задания.



4. По какому из отрезков, проведённых на карте вдоль трёх параллелей, пересекающих материк Северная Америка, построен профиль рельефа, представленный на рисунке 1? Укажите в ответе значение параллели.

Определите по карте протяжённость материка Северная Америка в градусах по указанной Вами параллели.

Рассчитайте протяжённость материка Северная Америка по указанной Вами параллели в километрах с помощью приведённой ниже таблицы. (Для расчёта воспользуйтесь калькулятором.)