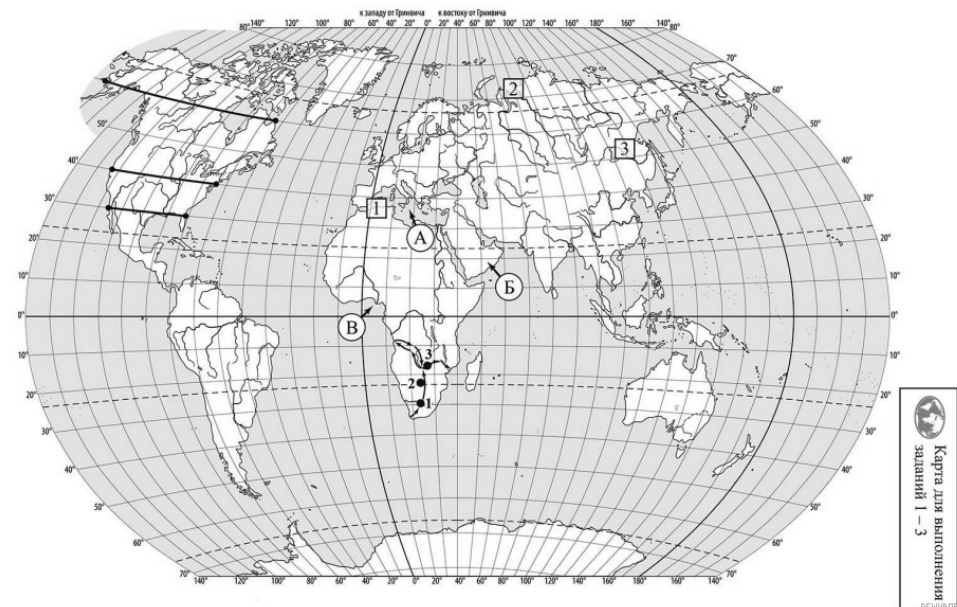


**ВПР по географии 7 класс 2023 год. Вариант 5.**


При выполнении заданий с кратким ответом впишите в поле для ответа цифру, которая соответствует номеру правильного ответа, или число, слово, последовательность букв (слов) или цифр. Ответ следует записывать без пробелов и каких-либо дополнительных символов. Дробную часть отделяйте от целой десятичной запятой. Единицы измерений писать не нужно.

Если вариант задан учителем, вы можете вписать или загрузить в систему ответы к заданиям с развернутым ответом. Учитель увидит результаты выполнения заданий с кратким ответом и сможет оценить загруженные ответы к заданиям с развернутым ответом. Выставленные учителем баллы отобразятся в вашей статистике.



1. На карте мира, изображён маршрут экспедиции одного из путешественников, портреты которых представлены ниже. Рассмотрите карту и портреты путешественников и выполните задания.

Маршрут экспедиции кого из путешественников изображён на карте?



*Афанасий Никитин*



*Давид Ливингстон*



*Джеймс Кук*

РЕШУ ВПР.РФ

Подпишите на карте название материка, по которому проходили маршруты экспедиций.

2. На карте буквами обозначены объекты, определяющие географическое положение материка, по которому проходили маршруты экспедиций. Выберите из приведённого списка и запишите в таблицу названия этих объектов.

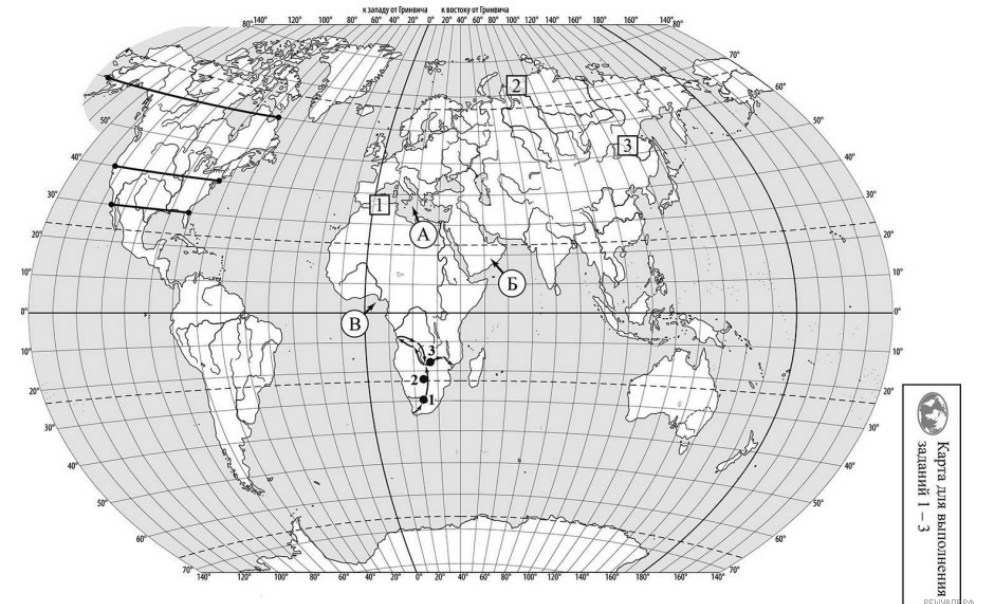
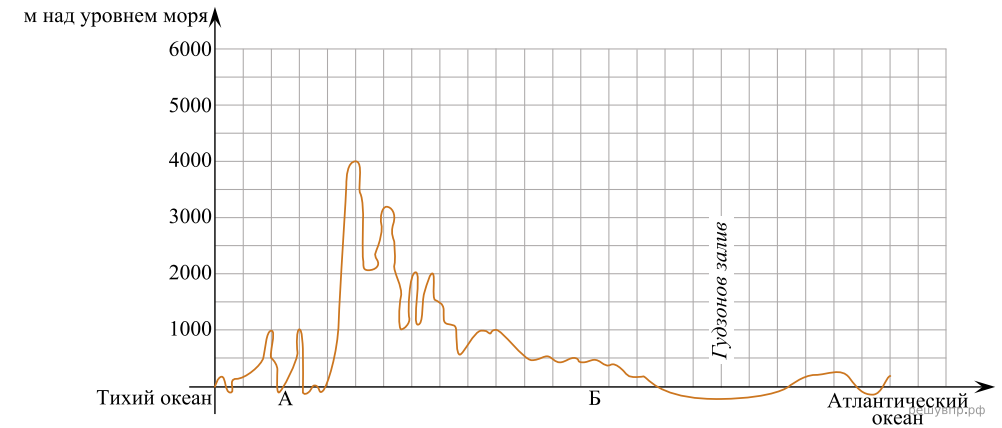
*Полуостров Индостан, Средиземное море, Красное море, остров Мадагаскар, Аравийский полуостров, Гвинейский залив.*

А	Б	В

3. По линиям маршрутов экспедиций отмечены точки, расположенные на территории крупных географических объектов. Определите и запишите в ответе географические координаты точки 2.

На территории какого географического объекта расположена точка 2? Запишите в ответе его название.

На уроке географии Ксения построила профиль рельефа Северной Америки, представленный на рисунке. Используя рисунок и карту мира, выполните задания.



4. По какому из отрезков, проведённых на карте вдоль трёх параллелей, пересекающих материк Северная Америка, построен профиль рельефа, представленный на рисунке 1? Укажите в отв

ете значение параллели.

Определите по карте протяжённость материка Северная Америка в градусах по указанной Вами параллели.

Рассчитайте протяжённость материка Северная Америка по указанной Вами параллели в километрах с помощью приведённой ниже таблицы. (Для расчёта воспользуйтесь калькулятором.)

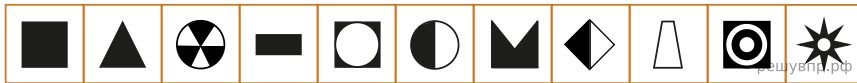
Широта	0°	5°	10°	15°	20°	25°	30°	35°	40°	45°
Длина дуги параллели в 1°, км	111,3	110,9	109,6	107,6	104,6	101,0	96,5	91,3	85,4	78,8

5. Какой крупной форме рельефа соответствует участок профиля, обозначенный на рисунке буквой А?

- 1) Великие равнины
- 2) горы Кордильеры
- 3) горы Аппалачи
- 4) Миссисипская низменность

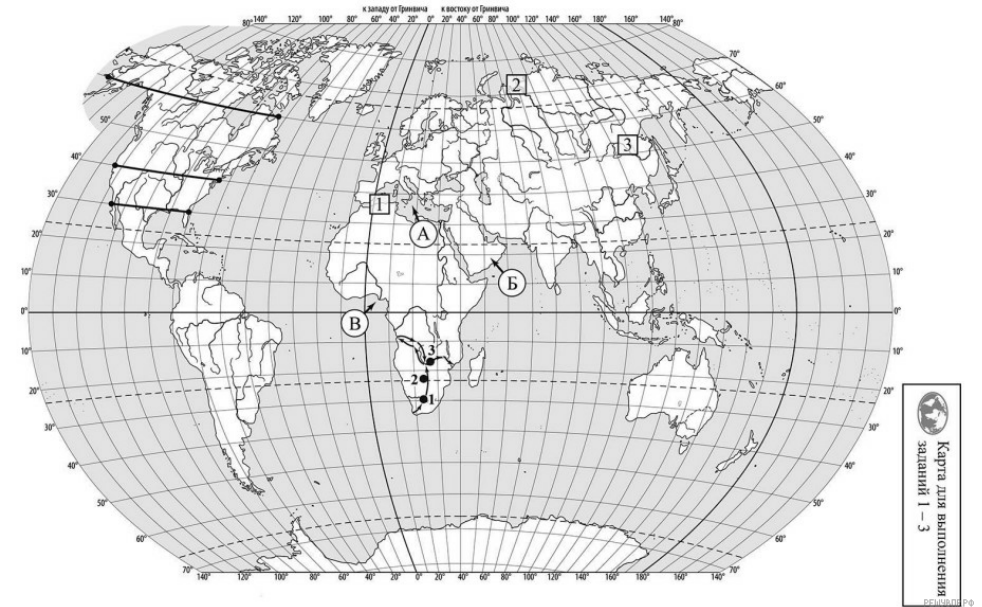
Определите наибольшую абсолютную высоту территории, через которую проходит профиль на этом участке.

6. На рисунке представлены значки, которыми обозначаются месторождения полезных ископаемых на географических картах.



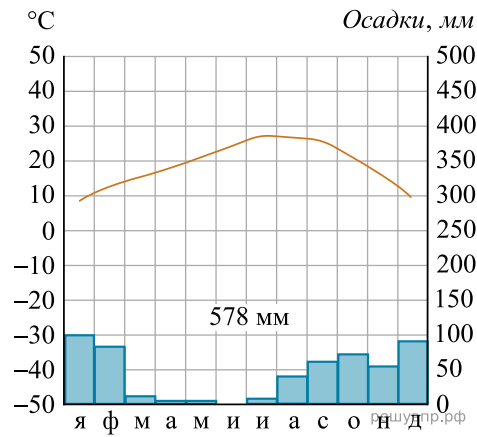
Внесите в таблицу значки, обозначающие месторождения полезных ископаемых, которые добывают на территории, обозначенной на профиле буквой А.

Медные руды	Золото	Урановые руды	Полиметаллические руды

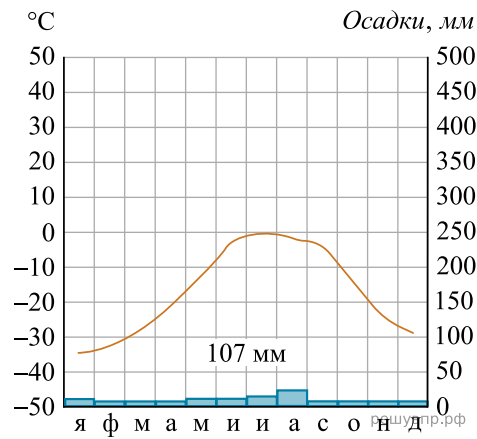


7. Рассмотрите рисунки с изображением климатограмм, построенных по данным метеонаблюдений в разных частях Земли, и выполните задания.

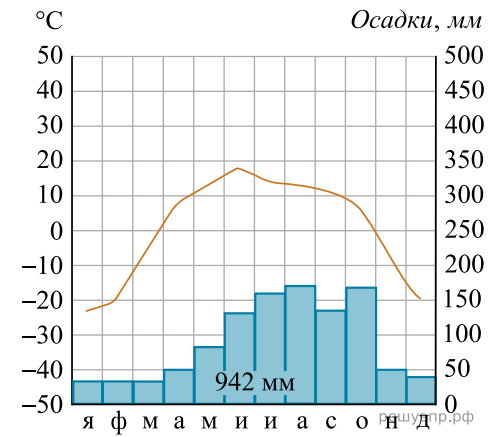
На карте мира территории, для которых построены изображённые на рисунках климатограммы, показаны квадратами с соответствующими номерами климатограмм. Определите, какому климатическому поясу соответствует каждая климатограмма. Подпишите названия климатических поясов под соответствующими климатограммами.



1



2

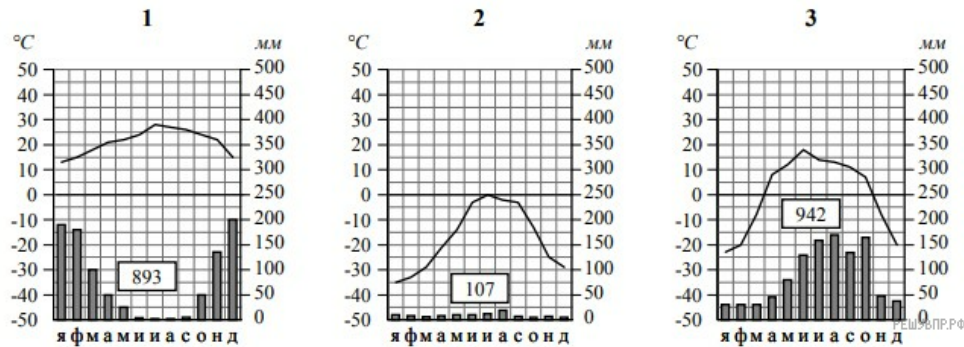


3

8. Какой природной зоне мира соответствуют приведённые ниже характеристики? Укажите в ответе название этой природной зоны.

- 1) Распространена в полярных широтах выше 75° с. ш.
- 2) Почвы практически не развиты.
- 3) Обитают морские животные: белые медведи, моржи, тюлени, киты, нерпы.
- 4) Лето короткое и холодное.
- 5) Ледяной покров на большей территории не оттаивает даже в летний период.

Выберите климатограмму, соответствующую климатическим особенностям указанной Вами природной зоны. Запишите в ответе её номер.



9. По выбранной климатограмме заполните таблицу климатических показателей для указанной Вами природной зоны.

Средняя температура воздуха, °C		Годовая амплитуда температур, °C	Годовое количество осадков, мм	Месяц, на который приходится наибольшее количество осадков
в январе	в июле			

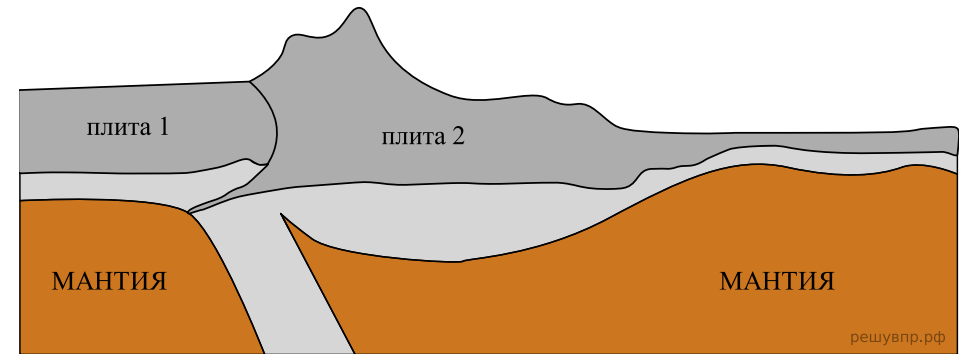
Для выполнения задание приводим текст задания 3.2:

Какой природной зоне мира соответствуют приведённые ниже характеристики? Укажите в ответе название этой природной зоны.

- 1) Распространена в полярных широтах выше 75° с. ш.
- 2) Почвы практически не развиты.
- 3) Обитают морские животные: белые медведи, моржи, тюлени, киты, нерпы.
- 4) Лето короткое и холодное.
- 5) Ледяной покров на большей территории не оттаивает даже в летний период.

Выберите климатограмму, соответствующую климатическим особенностям указанной Вами природной зоны. Укажите в ответе её номер.

Рассмотрите схему природного процесса и выполните задания.



10. Какой природный процесс отображён на схеме?

11. Установите последовательность этапов указанного Вами природного процесса. Запишите в ответе порядковые номера этапов.

ЭТАПЫ:

- 1) Литосферные плиты перемещаются по верхней части мантии навстречу друг другу.
- 2) Вдоль поясов сжатия происходит медленный подъём земной коры и смятие горных пород в складки.
- 3) Образуются пояса складчатых гор.
- 4) Происходит столкновение одинаковых по мощности плит.
- 5) В результате столкновения плиты надвигаются друг на друга, образуя пояса сжатия.

12. Установите соответствие между материками и их географическими особенностями.

Материки:

- А) Северная Америка
- Б) Африка

Географические особенности:

- 1) На западе материка протянулась одна из самых крупных горных систем мира, возникшая на стыке океанической и континентальной литосферных плит.
- 2) Восточная часть материка — это современная рифтовая зона с глыбовыми горами и глубочайшими впадинами, многие из которых заняты озёрами.
- 3) По территории материка протекает одна из самых длинных рек мира.
- 4) Большая часть современного населения материка — потомки переселенцев из Европы и других частей света.
- 5) На материке расположена самая крупная пустыня мира.
- 6) К северу от материка расположен один из крупнейших в мире архипелагов.

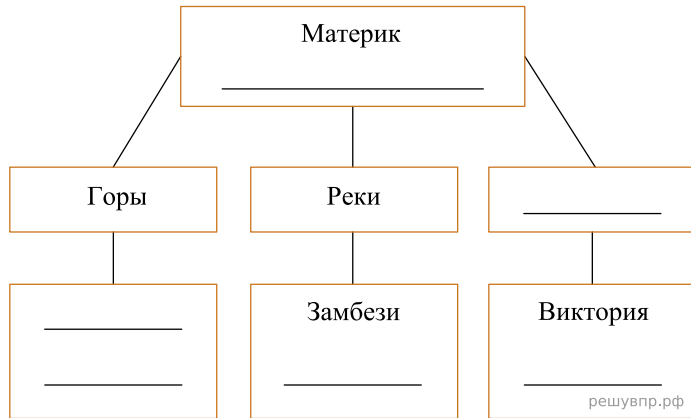
Запишите в таблицу выбранные цифры под буквами, которыми обозначены материки.

Ответ:

А	Б
<input type="text"/>	<input type="text"/>

13. В приведённом ниже списке перечислены крупные географические объекты. Выберите из представленного ниже списка названия географических объектов, расположенных на территории одного из материков: Северная Америка, Африка, и заполните схему. Впишите в схему название материка, типы и названия выбранных Вами географических объектов.

*Кордильеры, Купер-Крик, Драконовы, Байкал, Гималаи, Эйр-Норт, Колорадо, Конго, Большое Медвежье, Брахмапутра, Атлас, Танганьика.*




Карлос и Глеб познакомились на отдыхе. Карлос живёт в столице Мексики, а Глеб — в столице Белоруссии. Подростки общаются через Интернет, и при общении им приходится учитывать разницу во времени между их городами.




Карта составлена по состоянию на 01.01.2019

14. На политической карте мира выделите штриховкой страны, в которых живут подростки.


Карлос и Глеб познакомились на отдыхе. Карлос живёт в столице Мексики, а Глеб — в столице Белоруссии. Подростки общаются через Интернет, и при общении им приходится учитывать разницу во времени между их городами.



Гринвич  
00:00 (полночь)  
решувпр.рф



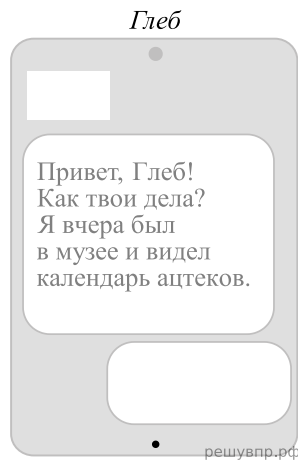
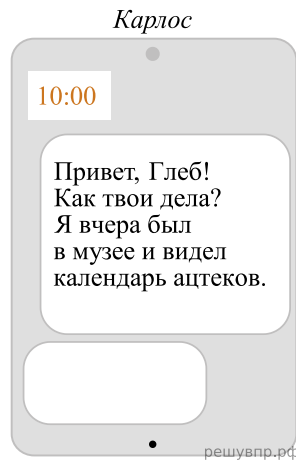
7 марта  
18:00  
решувпр.рф



8 марта  
03:00  
решувпр.рф

15. Вследствие вращения Земли время различается в разных её частях, и в Белоруссии день наступает раньше, чем в Мексике. Часы на рисунках отображают время в городах, где живут подростки. Подпишите названия городов под соответствующими часами.

16. Карлос отправил Глебу электронное сообщение в 10:00 по местному времени.



Какое время будет отображаться в соответствующем окне на экране смартфона, когда Глеб получит сообщение от Карлоса?

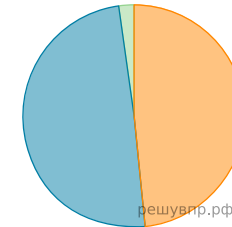
Используя представленную ниже таблицу, выполните задания.

Численность и возрастной состав населения, 2018 г.

№	Страна	Численность населения, млн человек	Доля населения, %		
			в возрасте до 15 лет	в возрасте от 15 до 65 лет	в возрасте старше 65 лет
1	Ирландия	5	21	66	13
2	Болгария	7	14	67	19
3	Нигер	23	50	48	2
4	Перу	33	28	66	6

17. Расположите страны в порядке уменьшения численности населения, начиная со страны с самой большой численностью. Запишите в ответе последовательность порядковых номеров этих стран.

18. Возрастной состав населения какой страны, из приведённых в таблице, отражает представленная на рисунке диаграмма? Запишите в ответе название страны.



- Доля населения в возрасте до 15
- Доля населения в возрасте от 15 до 65
- Доля населения в возрасте от 65 и старше

Представьте, что Вы познакомились со своим сверстником, который живёт за границей, и он прислал Вам фотографии, сделанные в его стране.

Рассмотрите фотографии и ответьте на вопросы.



19. В какой стране живёт Ваш сверстник?

20. Рассмотрите представленные ниже рисунки. Выберите рисунок с контуром страны, в которой живёт Ваш сверстник. Запишите в ответе букву, которой обозначен этот рисунок.

В какой части света находится эта страна?



А



Б



В

РЕШУ ВПР.РФ

Карты составлены по состоянию на 01.01.2022