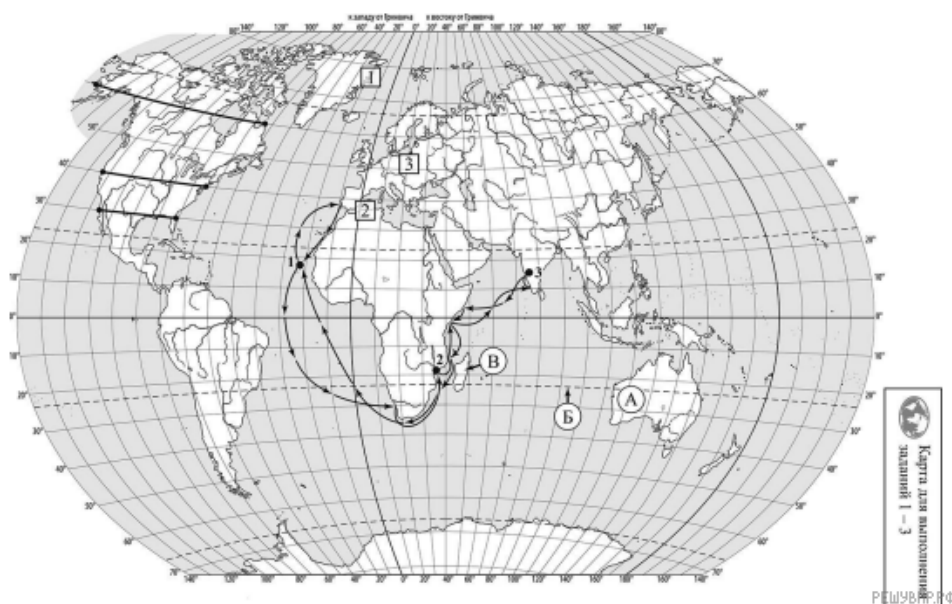


ВПР по географии 7 класс 2023 год. Вариант 2.

При выполнении заданий с кратким ответом впишите в поле для ответа цифру, которая соответствует номеру правильного ответа, или число, слово, последовательность букв (слов) или цифр. Ответ следует записывать без пробелов и каких-либо дополнительных символов. Дробную часть отделяйте от целой десятичной запятой. Единицы измерений писать не нужно.

Если вариант задан учителем, вы можете вписать или загрузить в систему ответы к заданиям с развернутым ответом. Учитель увидит результаты выполнения заданий с кратким ответом и сможет оценить загруженные ответы к заданиям с развернутым ответом. Выставленные учителем баллы отобразятся в вашей статистике.



Карта составлена по состоянию на 01.01.2023

1. На карте мира изображён маршрут экспедиции одного из путешественников, портреты которых представлены ниже. Рассмотрите карту и портреты путешественников и выполните задания.

Маршрут экспедиции кого из путешественников изображён на карте?



Джон Кабот



Александр Маккензи



Васко да Гама

Подпишите на карте название океана, которого удалось достичь этой экспедиции.

2. На карте буквами обозначены объекты, определяющие географическое положение океана, которого удалось достичь этой экспедиции. Выберите из приведённого списка и запишите в таблицу названия этих объектов.

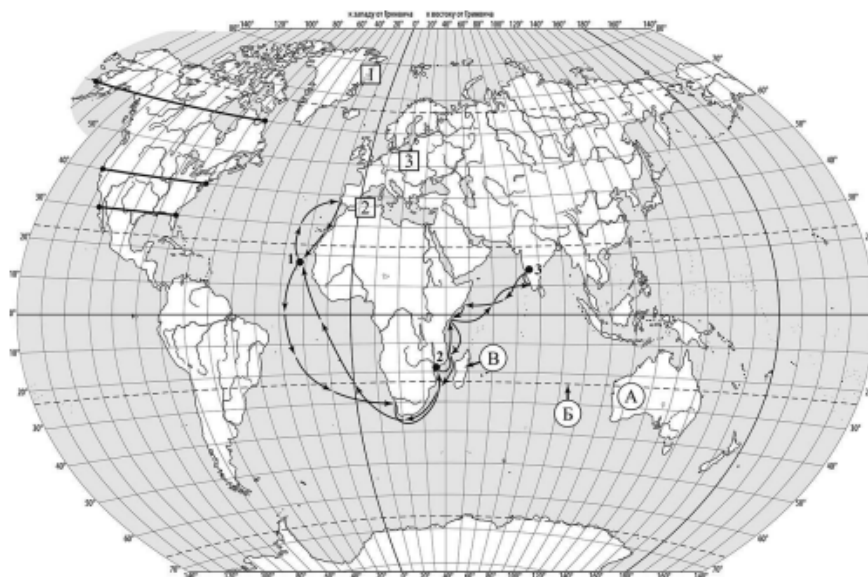
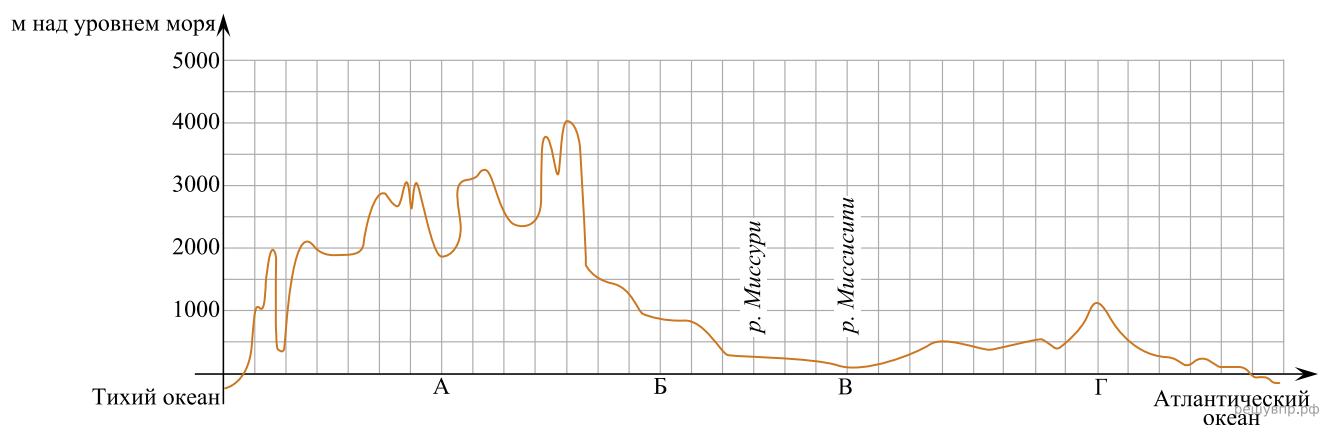
Остров Новая Гвинея, Южный тропик, Южный полярный круг, остров Мадагаскар, острова Зелёного мыса, Австралия.

А	Б	В

3. По линии маршрута экспедиции отмечены точки, расположенные на территории крупных географических объектов. Определите и запишите в ответе географические координаты точки 3.

На территории какого географического объекта расположена точка 3? Запишите в ответе его название.

На уроке географии Инна построила профиль рельефа Северной Америки, представленный на рисунке. Используя рисунок и карту мира, выполните задания.



Карта для выполнения задания 1 – 3
РЕШУ ВПР.РФ

Карта составлена по состоянию на 01.01.2023

4. По какому из отрезков, проведённых на карте вдоль трёх параллелей, пересекающих материк Северная Америка, построен профиль рельефа, представленный на рисунке 1? Укажите в ответе название параллели.

Определите по карте протяжённость материка Северная Америка в градусах по указанной Вами параллели.

Широта	0°	5°	10°	15°	20°	25°	30°	35°	40°
Длина дуги параллели в 1°, км	111,3	110,9	109,6	107,6	104,6	101,0	96,5	91,3	85,4


Широта	45°	50°	55°	60°	65°	70°	75°	80°	85°	90°
Длина дуги параллели в 1°, км	78,8	71,7	64,0	55,8	47,2	38,2	28,9	19,4	19,4	0

5. Какой крупной форме рельефа соответствует участок профиля, обозначенный на рисунке 1 буквой Б?

- 1) горы Кордильеры
- 2) Великие равнины
- 3) Центральные равнины
- 4) Примексиканская низменность

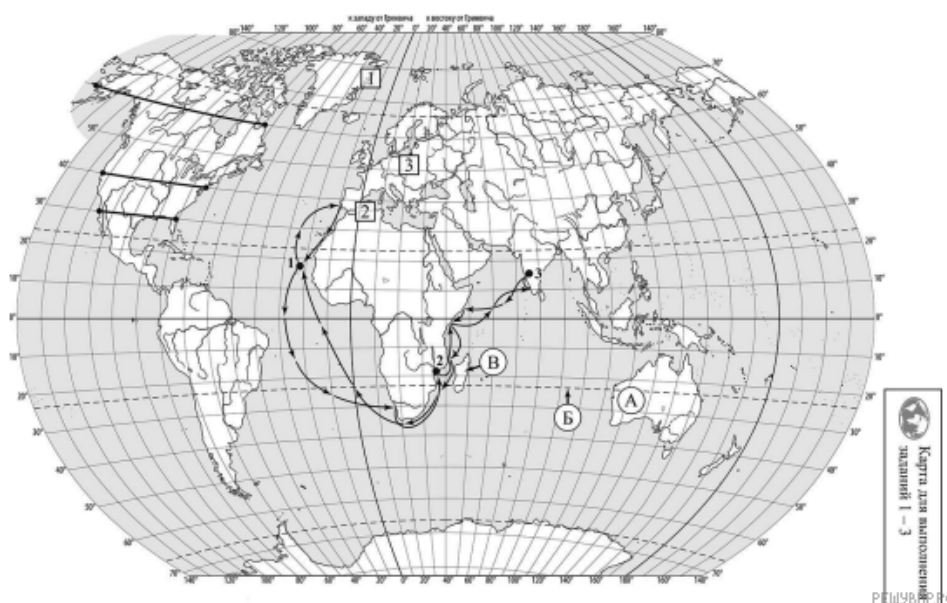
Какие абсолютные высоты характерны для территории, через которую проходит профиль на этом участке?

6. На рисунке 2 представлены значки, которыми обозначаются месторождения полезных ископаемых на географических картах.



Внесите в таблицу значки, обозначающие месторождения полезных ископаемых, которые добывают на территории, обозначенной на профиле буквой Б.

Каменный уголь	Бурый уголь	Нефть	Калийные соли

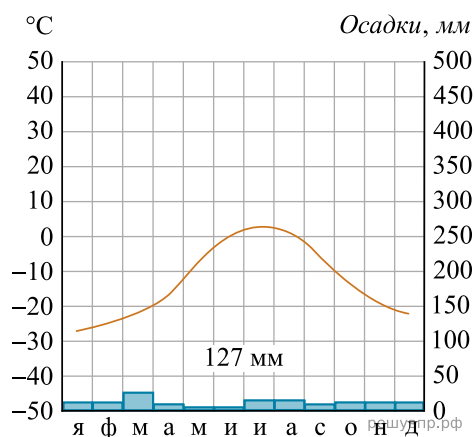


Карта составлена по состоянию на 01.01.2023

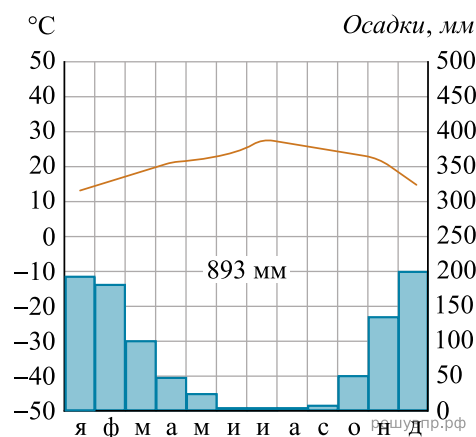
7. Рассмотрите рисунки с изображением климатограмм, построенных по данным метеонаблюдений в разных частях Земли, и выполните задания.

На карте мира территории, для которых построены изображённые на рисунках климатограммы, показаны квадратами с соответствующими номерами климатограмм. Определите, какому климатическому поясу соответствует каждая климатограмма.

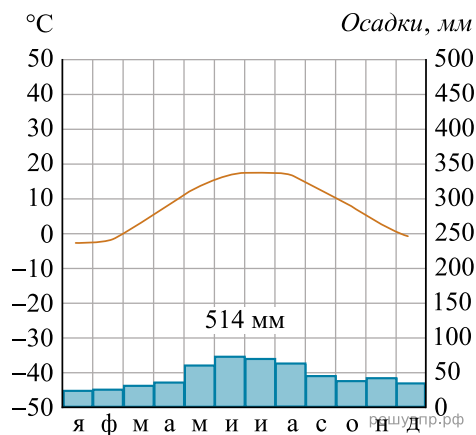
Подпишите названия климатических поясов под соответствующими климатограммами.



1



2

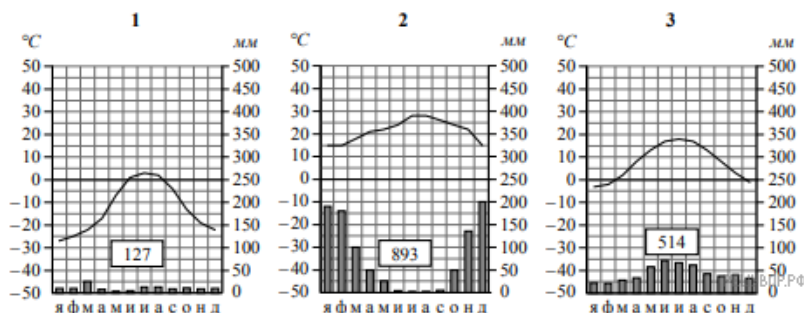


3

8. Какой природной зоне мира соответствуют приведённые ниже характеристики? Укажите в ответе название этой природной зоны.

- 1) Занимает территорию на островах Арктического бассейна, а также узкую полосу вдоль побережья Северного Ледовитого океана.
- 2) Не менее 10 месяцев в году всю территорию покрывают плотные слои снега и льда.
- 3) Лето короткое и холодное, зимой дуют сильные ураганные ветры, часты бураны.
- 4) Растительный покров есть лишь на 5% территории природной зоны.
- 5) Животные имеют толстый слой жира и густую шерсть для защиты от холода.

Выберите климатограмму, соответствующую климатическим особенностям указанной Вами природной зоны. Запишите в ответе её номер.



9. По выбранной климатограмме заполните таблицу климатических показателей для указанной Вами природной зоны.

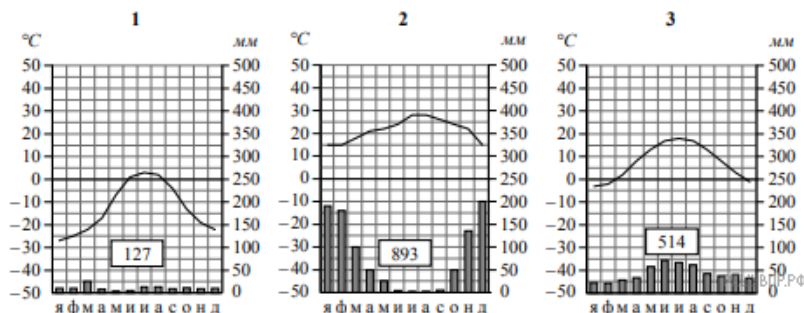
Средняя температура воздуха, °С		Годовая амплитуда температур, °С	Годовое количество осадков, мм	Месяц, на который приходится наибольшее количество осадков
в январе	в июле			

Для выполнения задание приводим текст задания 3.2:

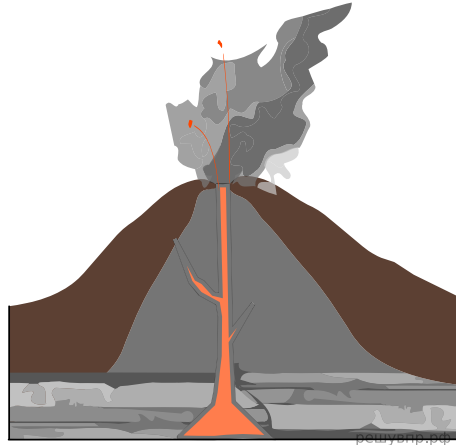
Какой природной зоне мира соответствуют приведённые ниже характеристики? Укажите в ответе название этой природной зоны.

- 1) Занимает территорию на островах Арктического бассейна, а также узкую полосу вдоль побережья Северного Ледовитого океана.
- 2) Не менее 10 месяцев в году всю территорию покрывают плотные слои снега и льда.
- 3) Лето короткое и холодное, зимой дуют сильные ураганные ветры, часты бураны.
- 4) Растительный покров есть лишь на 5% территории природной зоны.
- 5) Животные имеют толстый слой жира и густую шерсть для защиты от холода.


Выберите климатограмму, соответствующую климатическим особенностям указанной Вами природной зоны. Запишите в ответе её номер.



Рассмотрите схему природного процесса и выполните задания.



10. Какой природный процесс отображён на схеме?



11. Установите последовательность этапов указанного Вами природного процесса. Запишите в ответе порядковые номера этапов.

ЭТАПЫ:

- 1) Лава на земной поверхности охлаждается и затвердевает, образуя вулканическую породу.
- 2) В верхней мантии образуется очаг магмы.
- 3) При накоплении застывшей лавы формируется конусовидная гора с кратером на вершине, через который происходят последующие излияния лавы.
- 4) Поднявшись по трещинам в земной коре, магма изливается на земную поверхность в виде лавы.
- 5) Раскалённая магма выделяет газы и пары воды, которые, создавая огромное давление, обеспечивают продвижение магмы от очага к земной поверхности.

12. Установите соответствие между материками и их географическими особенностями.

Материки:

- А) Африка
- Б) Северная Америка

Географические особенности:

- 1) В северной части материка много озёр и небольших рек.
- 2) Материк пересекается экватором и нулевым меридианом.
- 3) Восточная часть материка — это современная рифтовая зона с глыбовыми горами и глубочайшими впадинами, многие из которых заняты озёрами.
- 4) Около 40% территории материка занимают саванны и редколесья.
- 5) Большая часть современного населения материка — потомки переселенцев из Европы и других частей света.
- 6) На западе материка протянулась одна из самых крупных и сейсмически активных горных систем мира.

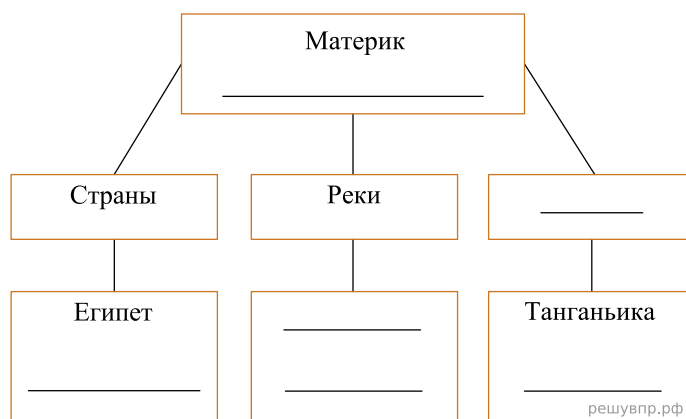
Запишите в таблицу выбранные цифры под буквами, которыми обозначены материки.

Ответ:

А	Б
<input type="text"/>	<input type="text"/>

13. Заполните блок-схему: для этого по указанным на схеме названиям географических объектов определите и запишите название одного из двух материков, указанных в задании 5.1, а затем выберите из списка названия других географических объектов, расположенных на территории этого материка, запишите их в соответствующие ячейки на схеме и заполните оставшиеся пустые ячейки.

Ориноко, Замбези, Непал, Ньяса, Брахмапутра, Нил, Байкал, Большое Невольничье, Марокко, Колорадо, Мексика, Уругвай.



Фархад и Киоко познакомились на международных соревнованиях по каратэ в Китае. Фархад живёт в столице Турции, а Киоко — в столице Японии. Подростки общаются через Интернет, и при общении им приходится учитывать разницу во времени между их городами




Приведена карта, используемая в учебниках и атласах по географии на начало 2022/2023 учебного года.



Карта составлена по состоянию на 01.01.2023


14. На политической карте мира выделите штриховкой страны, в которых живут подростки.

15. Вследствие вращения Земли время различается в разных её частях, и в Турции день наступает позже, чем в Японии. Часы на рисунках отображают время в городах, где живут подростки. Подпишите названия городов под соответствующими часами.




Гринвич
12:00 (полдень)

решувпр.рф



18 мая
15:00

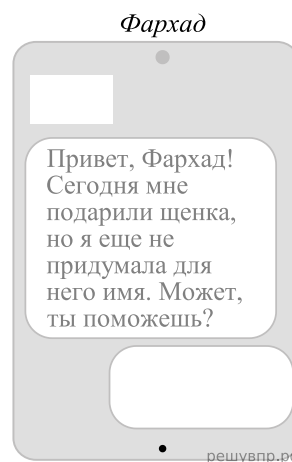
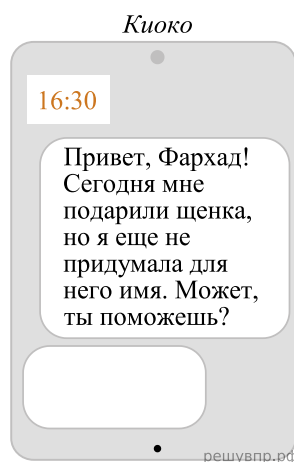
решувпр.рф



18 мая
21:00

решувпр.рф

16. Киоко отправила Фархаду электронное сообщение в 16:30 по местному времени.



Какое время будет отображаться в соответствующем окне на экране смартфона Фархада, когда он получит сообщение от Киоко?

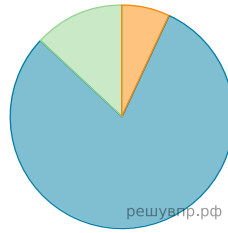
Используя представленную ниже таблицу выполните задания.

Численность и состав населения, 2017 г.

№	Страна	Численность занятого населения, млн человек	Доля занятого населения, %		
			в сельском хозяйстве	в промышленности	в сфере услуг
1	Румыния	8,9	28	29	43
2	Греция	4,8	13	15	72
3	Япония	65,0	3	26	71
4	Судан	11,9	80	7	13

17. Расположите страны в порядке уменьшения численности занятого населения, начиная со страны с самым высоким показателем. Запишите в ответе последовательность порядковых номеров этих стран.

18. Структуру занятости населения какой страны, из приведённых в таблице, отражает представленная на рисунке диаграмма? Запишите в ответе название страны.



- Доля населения, занятого в промышленности
- Доля населения, занятого в сельском хозяйстве
- Доля населения, занятого в сфере услуг

Представьте, что Вы познакомились со своим сверстником, который живёт за границей, и он прислал Вам фотографии, сделанные в его стране.

Рассмотрите фотографии и ответьте на вопросы.

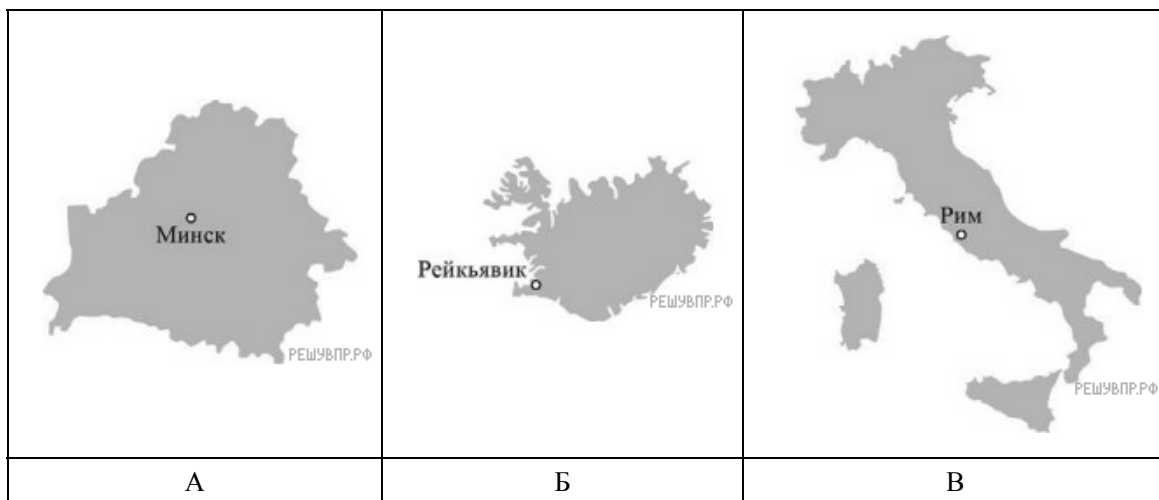


19. В какой стране живёт Ваш сверстник?

20. Рассмотрите представленные ниже рисунки. Выберите рисунок с контуром страны, в которой живёт Ваш сверстник. Запишите в ответе букву, которой обозначен этот рисунок.

В какой части света находится эта страна?

Какие два океана омывают берега этой страны?



Карты составлены по состоянию на 01.01.2022