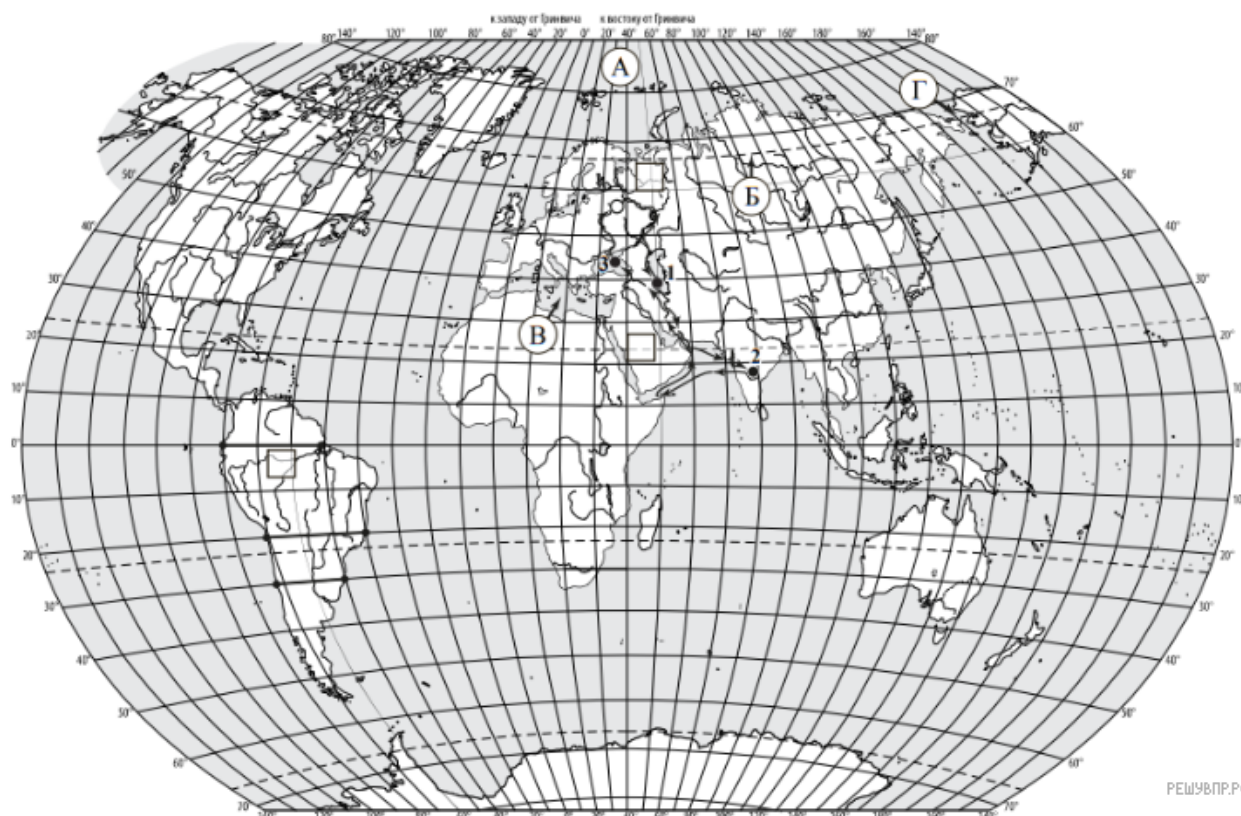


Демонстрационная версия ВПР по географии 7 класс 2022–2024.

При выполнении заданий с кратким ответом впишите в поле для ответа цифру, которая соответствует номеру правильного ответа, или число, слово, последовательность букв (слов) или цифр. Ответ следует записывать без пробелов и каких-либо дополнительных символов. Дробную часть отделяйте от целой десятичной запятой. Единицы измерений писать не нужно.

Если вариант задан учителем, вы можете вписать или загрузить в систему ответы к заданиям с развернутым ответом. Учитель увидит результаты выполнения заданий с кратким ответом и сможет оценить загруженные ответы к заданиям с развернутым ответом. Выставленные учителем баллы отобразятся в вашей статистике.




Карта составлена по состоянию на 01.01.2021

1. На карте мира изображён маршрут экспедиции одного из путешественников, портреты которых представлены ниже. Рассмотрите карту и портреты путешественников и выполните задания.

Маршрут экспедиции кого из путешественников изображён на карте?



Давид Ливингстон



Афанасий Никитин



Н.М. Пржевальский

РЕШУВПР.РФ

Подпишите на карте название материка, по которому проходил маршрут экспедиции.



Карта составлена по состоянию на 01.01.2019

2. На карте буквами обозначены объекты, определяющие географическое положение материка, по которому проходил маршрут экспедиции. Выберите из приведённого списка и запишите в таблицу названия этих объектов.

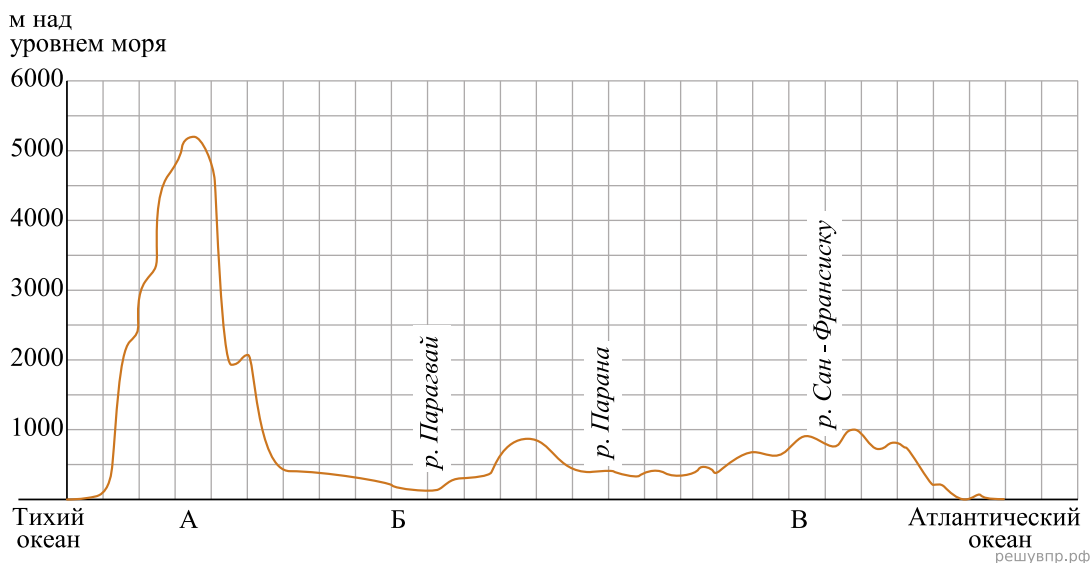
Тихий океан, Средиземное море, Северный полярный круг, Северный тропик, Чёрное море, Северный Ледовитый океан.

А	Б	В

3. По линии маршрута экспедиции отмечены точки, расположенные на территории крупных географических объектов. Определите и запишите в ответе географические координаты точки 2.

На территории какого географического объекта расположена точка 2? Запишите в ответе его название.

На уроке географии Сергей построил профиль рельефа Южной Америки, представленный на рисунке. Используя рисунок и карту мира выполните задания.



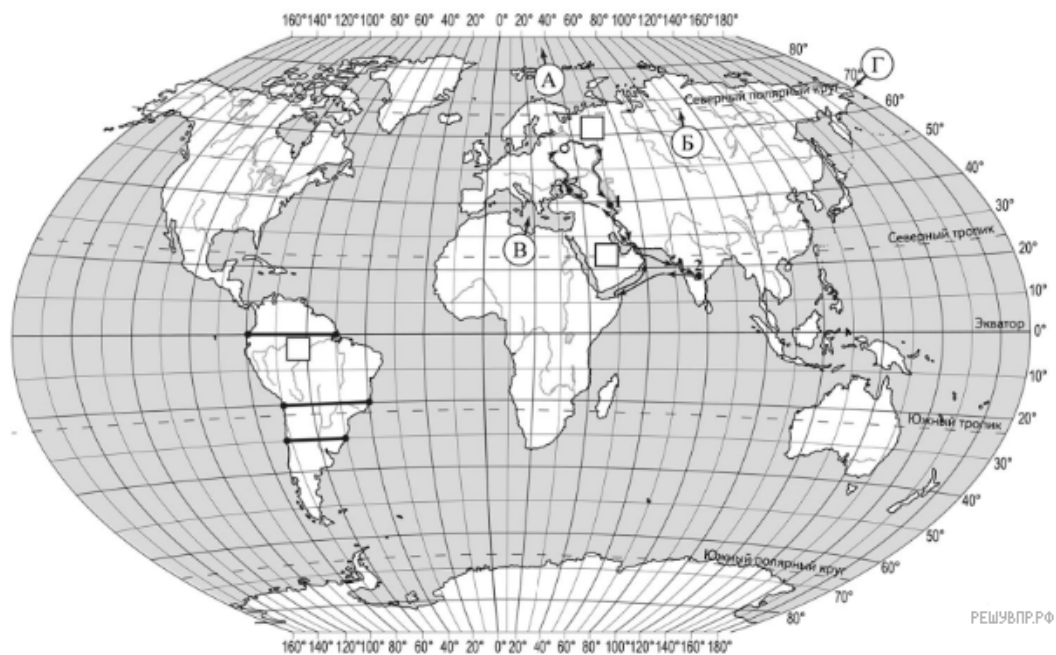
Карта составлена по состоянию на 01.01.2019

4. По какому из отрезков, проведённых на карте вдоль трёх параллелей, пересекающих материк Южная Америка, построен профиль рельефа, представленный на рисунке? Укажите в ответе значение параллели.

Определите по карте протяжённость материка Южная Америка в градусах по указанной Вами параллели.

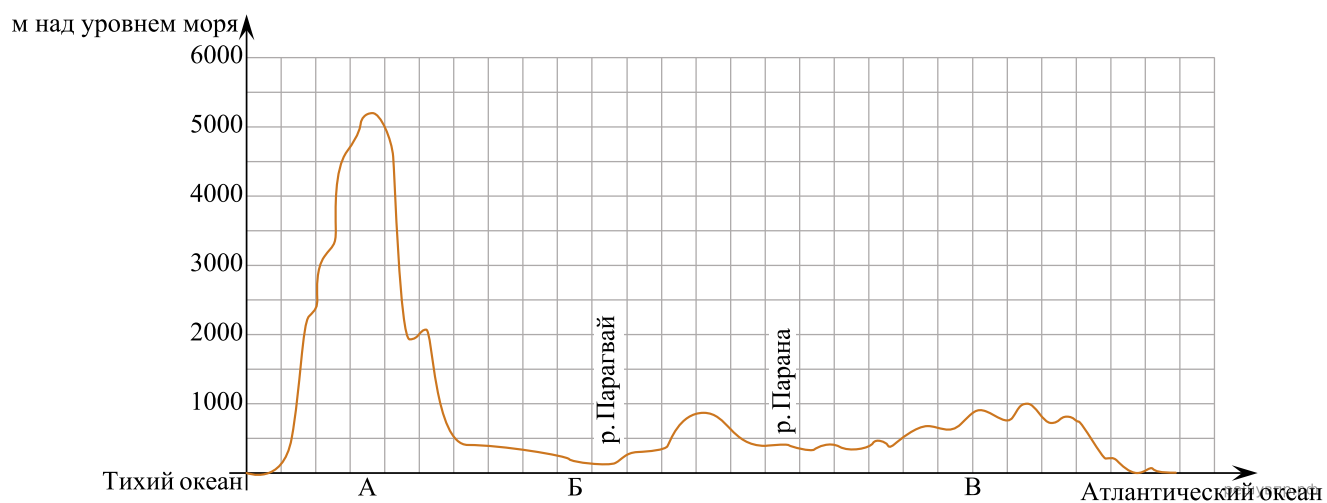
Рассчитайте протяжённость материка Южная Америка по указанной Вами параллели в километрах с помощью приведённой ниже таблицы. (Для расчёта воспользуйтесь калькулятором.)

Широта	0°	10°	20°	30°	40°	50°	60°	70°	80°	90°
Длина дуги параллели в 1°, км	111,3	109,6	104,6	96,5	85,4	71,7	55,8	38,2	19,4	0



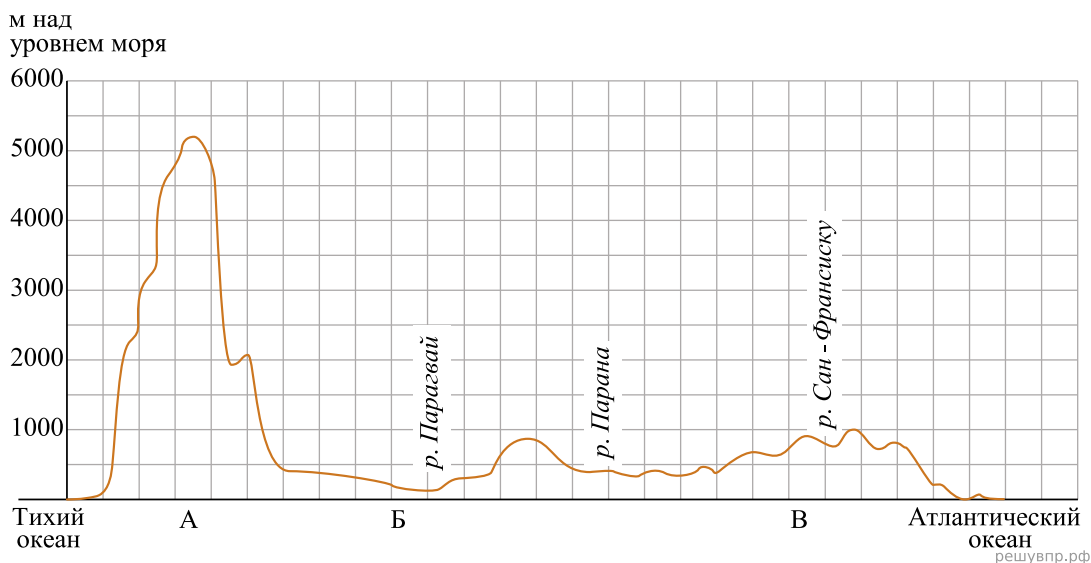
Карта составлена по состоянию на 01.01.2019

5. Какой крупной форме рельефа соответствует участок профиля, обозначенный на рисунке 1 буквой В?



- 1) Амазонская низменность
- 2) горы Анды
- 3) Бразильское плоскогорье
- 4) Ла-Платская низменность

На уроке географии Сергей построил профиль рельефа Южной Америки, представленный на рисунке. Используя рисунок и карту мира выполните задания.



Карта составлена по состоянию на 01.01.2019

6. На рисунке представлены значки, которыми обозначаются месторождения полезных ископаемых на географических картах.

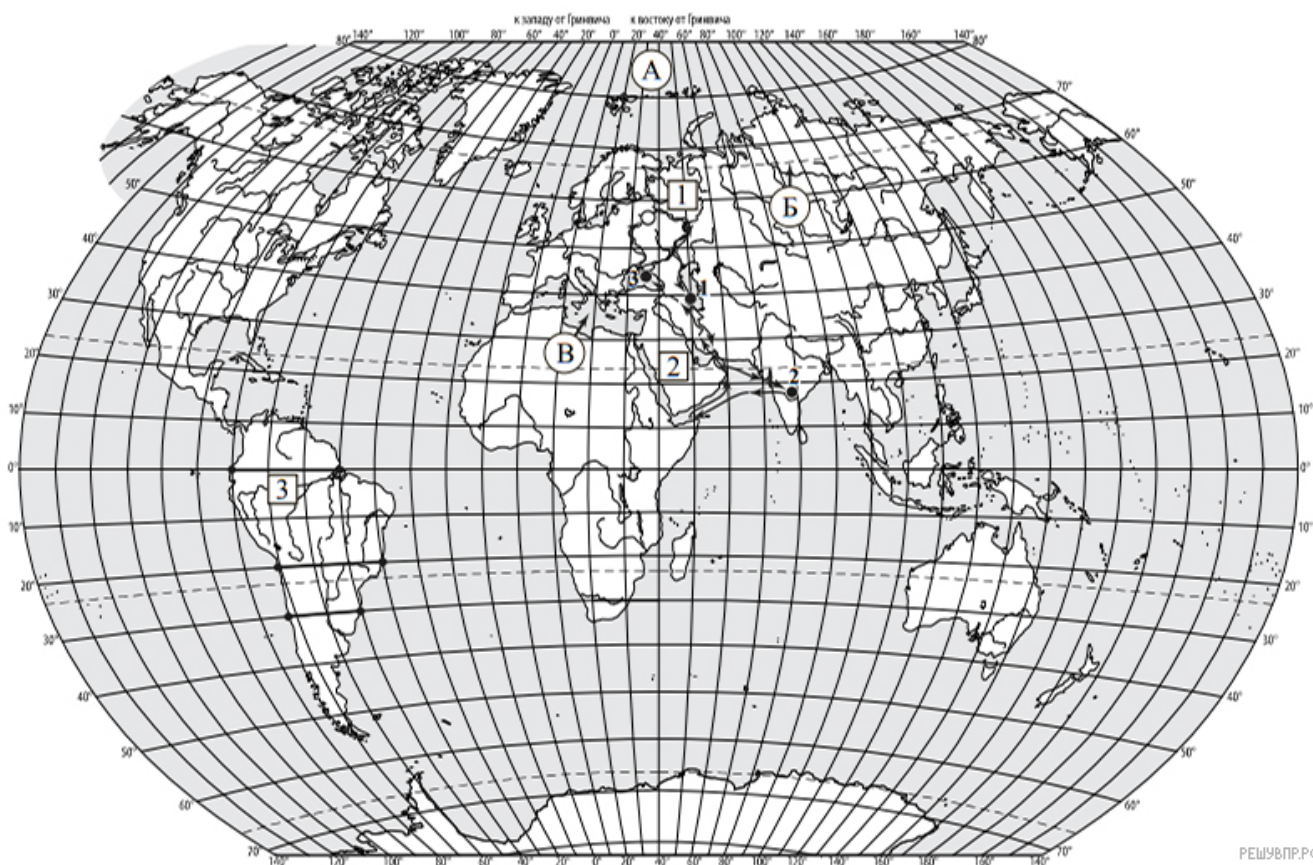
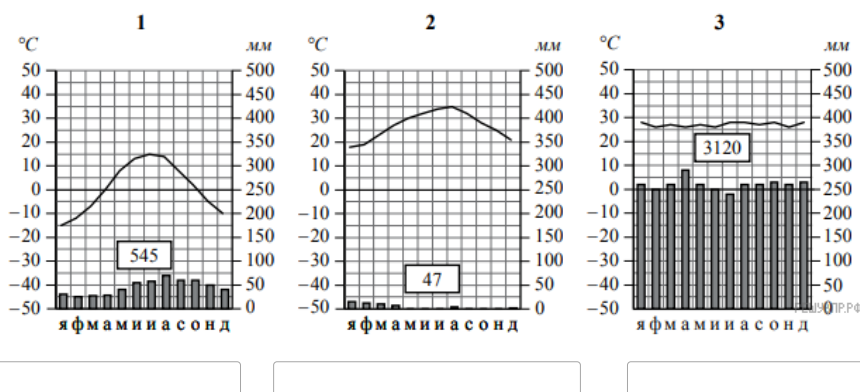


Внесите в таблицу значки, обозначающие месторождения полезных ископаемых, которые добывают на территории, обозначенной на профиле буквой В.

Железные руды	Алмазы	Марганцевые руды	Медные руды

7. Рассмотрите карту мира и рисунки с изображением климатограмм, построенных по данным метеонаблюдений в разных частях Земли, и выполните задания.

На карте мира территории, для которых построены изображённые на рисунках климатограммы, показаны квадратами с соответствующими номерами климатограмм. Определите, какому климатическому поясу соответствует каждая климатограмма. Подпишите название климатических поясов под соответствующими климатограммами.

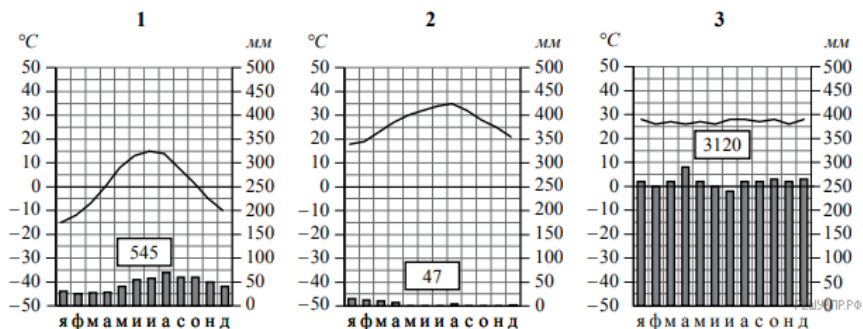


Карта составлена по состоянию на 01.01.2019

8. Какой природной зоне мира соответствуют приведённые ниже характеристики? Укажите в ответе название этой природной зоны.

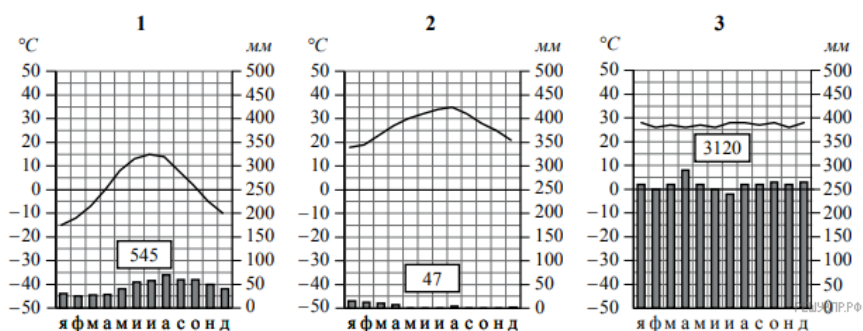
- 1) Занимает большие территории в Северном полушарии (в Северной Америке и Евразии).
- 2) Чётко выражены сезоны года.
- 3) В растительном покрове преобладают хвойные породы деревьев.
- 4) Формируются подзолистые почвы.
- 5) Типичные представители животного мира: бурый медведь, лисица, волк, белка.

Выберите климатограмму, соответствующую климатическим особенностям указанной Вами природной зоны. Укажите в ответе её номер.



9. По выбранной Вами в задании 3.2. климатограмме определите климатические показатели для указанной природной зоны и заполните таблицу.

Средняя температура воздуха, °С		Годовая амплитуда температур, °С	Среднегодовое количество осадков, мм	Месяц, на который приходится наибольшее количество осадков
в январе	в июле			



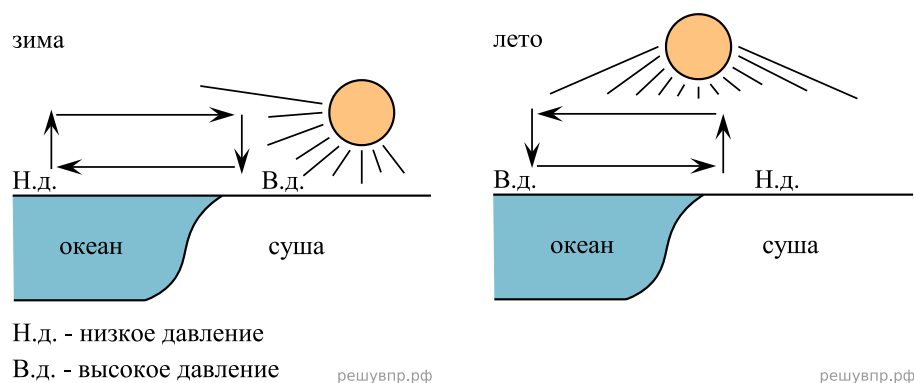
Для выполнения задания приводим текст задания 3.2:

Какой природной зоне мира соответствуют приведённые ниже характеристики? Укажите в ответе название этой природной зоны.

- 1) Занимает большие территории в Северном полушарии (в Северной Америке и Евразии).
- 2) Чётко выражены сезоны года.
- 3) В растительном покрове преобладают хвойные породы деревьев.
- 4) Формируются подзолистые почвы.
- 5) Типичные представители животного мира: бурый медведь, лисица, волк, белка.

Выберите климатограмму, соответствующую климатическим особенностям указанной Вами природной зоны. Укажите в ответе её номер.

Рассмотрите схему природного процесса и выполните задания.



10. Какой природный процесс отображён на схеме?

11. Установите последовательность этапов отображённого на схеме процесса в летний период. Запишите в ответе порядковые номера этапов.

ЭТАПЫ:

- 1) Влажный воздух с океана перемещается в сторону суши.
- 2) Суша прогревается сильнее, и тёплый воздух поднимается вверх.
- 3) Над поверхностью океана скапливается тяжёлый холодный воздух.
- 4) Над океаном формируется область повышенного давления.
- 5) Над сушей формируется область пониженного давления.

12. Установите соответствие между материками и их географическими особенностями.

Материки:

- А) Северная Америка
- Б) Африка

Географические особенности:

- 1) Наибольшую площадь материка занимает природная зона пустынь.
- 2) На западе материка расположена одна из самых крупных горных систем мира.
- 3) К северу от материка расположен один из крупнейших архипелагов мира.
- 4) Недра северной части материка богаты нефтью.
- 5) Для центральной части материка характерны ураганы и атмосферные смерчи — торнадо.
- 6) Восточная часть материка — это современная рифтовая зона с глыбовыми горами и глубочайшими впадинами, многие из которых заняты озёрами.

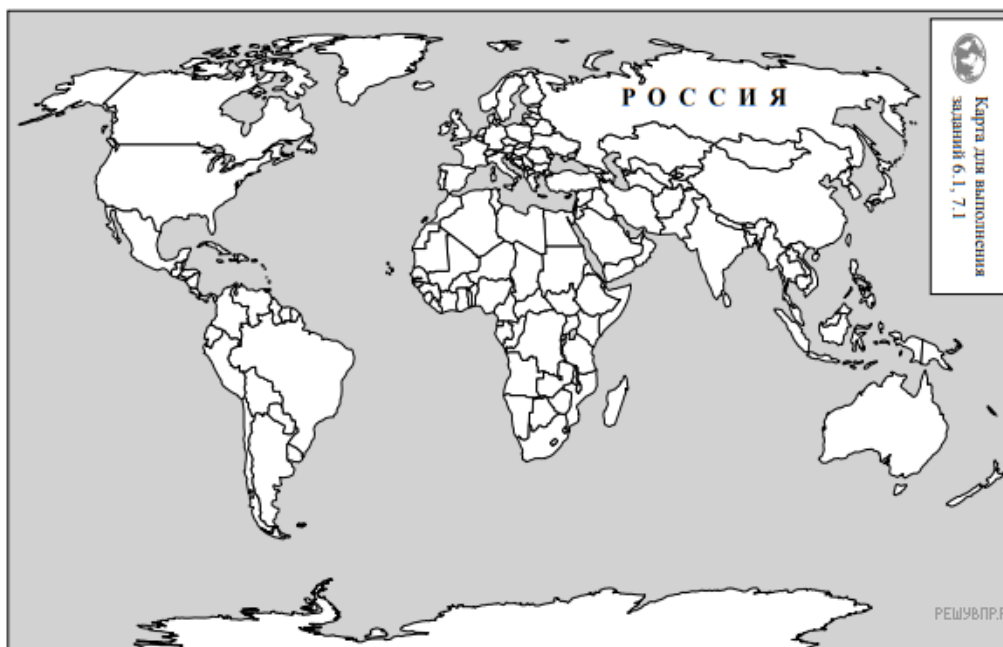
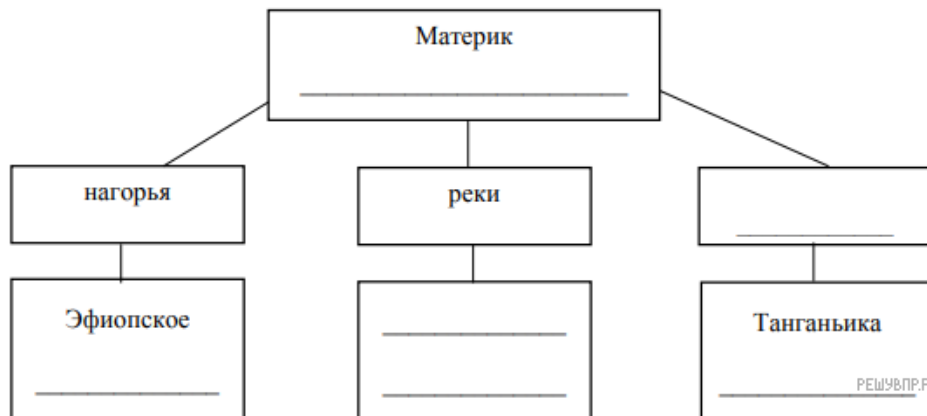
Запишите в таблицу выбранные цифры под буквами, которыми обозначены материки.

Ответ:

А	Б
<input type="text"/>	<input type="text"/>

13. В приведённом ниже списке перечислены крупные географические объекты. Выберите из представленного ниже списка названия географических объектов, расположенных на территории одного из этих материков, и заполните схему. Впишите в схему название материка, типы и названия выбранных Вами географических объектов.

Конго, Ориноко, Ниагара, Виктория, Амур, Анды, Кавказ, Тибести, Байкал, Замбези, Аппалачи, Тибет.



Карта составлена по состоянию на 01.01.2019

14. Томас и Акио познакомились на чемпионате мира по футболу. Акио живёт в столице Японии, а Томас — в столице Германии. Подростки общаются через Интернет, и при общении им приходится учитывать разницу во времени между их городами.

На политической карте мира выделите штриховкой страны, в которых живут подростки.

Томас и Акио познакомились на чемпионате мира по футболу. Акио живёт в столице Японии, а Томас — в столице Германии. Подростки общаются через Интернет, и при общении им приходится учитывать разницу во времени между их городами.



15. Вследствие вращения Земли время различается в разных её частях, и в Японии день наступает раньше, чем в Германии. Часы на рисунках отображают время в городах, где живут подростки. Подпишите названия городов под соответствующими часами.

16. Акио отправил Томасу электронное сообщение в 11:00 по местному времени.



Какое время будет отображаться в соответствующем окне на экране смартфона Томаса, когда он получит сообщение от Акио?

Используя представленную ниже таблицу и политическую карту мира выполните задания.

Численность и состав населения, 2017 г.

№	Страна	Численность населения, млн человек	Состав населения, %		
			Доля населения в возрасте до 15 лет	Доля населения в возрасте от 15 до 65 лет	Доля населения в возрасте старше 65 лет
1	Бразилия	211	22	69	9
2	Великобритания	66	17	65	18
3	Нигер	22	49	48	3
4	Япония	126	13	59	28

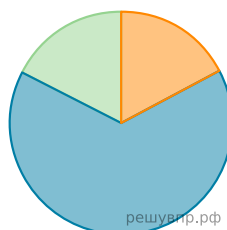


РЕШУВ.РФ

Карта составлена по состоянию на 01.01.2022

17. Расположите страны в порядке **увеличения** численности населения, начиная со страны с самой маленькой численностью. Запишите в ответе последовательность порядковых номеров этих стран.

18. Возрастной состав населения какой страны отражает представленная на рисунке диаграмма? Запишите в ответе название страны.



- Доля населения в возрасте до 15
- Доля населения в возрасте от 15 до 65
- Доля населения в возрасте от 65 и старше

Представьте, что Вы познакомились со своим сверстником, который живёт за границей, и он прислал Вам фотографии, сделанные в его стране.

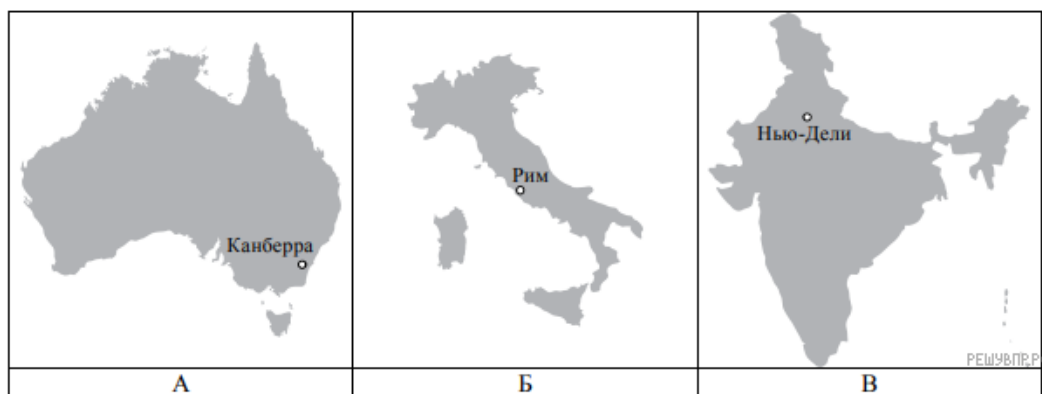
Рассмотрите фотографии и ответьте на вопросы.



19. В какой стране живёт Ваш сверстник?

20. Рассмотрите представленные ниже рисунки. Выберите рисунок с контуром страны, в которой живёт Ваш сверстник. Запишите в ответе букву, которой обозначен этот рисунок.

В какой части света находится эта страна?



Карты составлены по состоянию на 01.01.2022