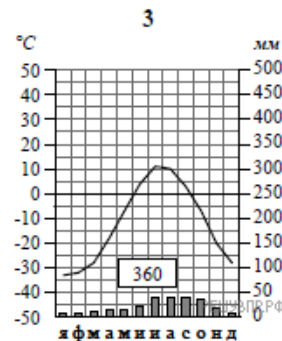
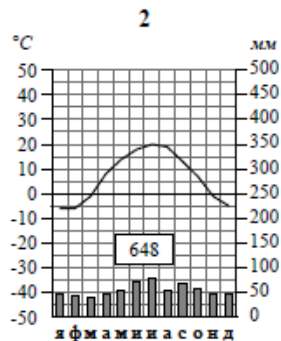
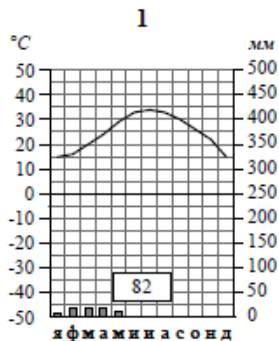


Карта составлена по состоянию на 01.01.2019

По выбранной Вами в задании 3.2 климатограмме определите климатические показатели для указанной природной зоны и заполните таблицу.

Средняя температура воздуха, °С		Годовая амплитуда температур, °С	Годовое количество осадков, мм	Месяц, на который приходится наибольшее количество осадков
в январе	в июле			



Для выполнения задания приводим текст задания 3.2:

Какой природной зоне мира соответствуют приведённые ниже характеристики? Укажите в ответе название этой природной зоны.

- 1) Распространены чернозёмные почвы, богатые перегноем и очень плодородные.
- 2) Занимает внутренние районы материков.
- 3) Растительный мир отличается богатым разнотравьем, среди которого преобладают злаки: ковыль, типчак, тонконог.
- 4) Среди животных преобладают грызуны: суслик, тушканчик, хомяк; много птиц и пресмыкающихся.
- 5) Тёплое засушливое лето с сухими горячими ветрами — суховеями.

Выберите климатограмму, соответствующую климатическим особенностям указанной Вами природной зоны. Укажите в ответе её номер.