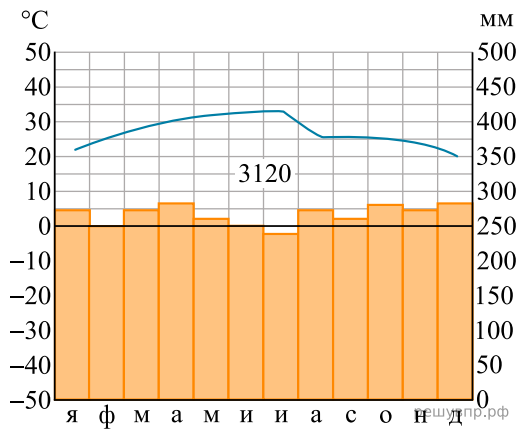


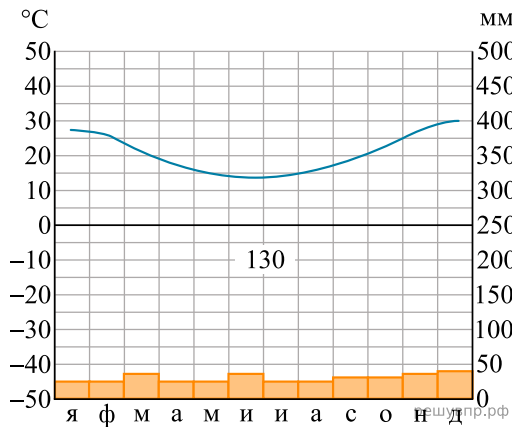
Карта составлена по состоянию на 01.01.2019

По выбранной Вами в задании 3.2 климатограмме определите климатические показатели для указанной природной зоны и заполните таблицу.

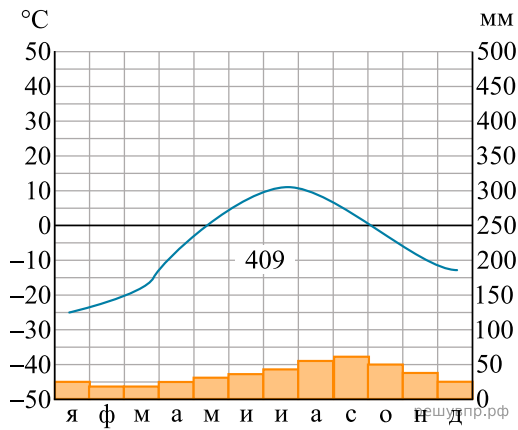
| Средняя температура воздуха, °С | | Годовая амплитуда температур, °С | Годовое количество осадков, мм | Месяц, на который приходится наибольшее количество осадков |
|---------------------------------|--------|----------------------------------|--------------------------------|--|
| в январе | в июле | | | |
| | | | | |



1



2



3

Для выполнения задания приводим текст задания 3.2:

Какой природной зоне мира соответствуют приведённые ниже характеристики? Укажите в ответе название этой природной зоны.

- 1) Почвы малоплодородны и сильно заболочены.
- 2) Короткое лето с продолжительным полярным днём; длинная и очень суровая зима, сопровождающаяся сильными ветрами и метелями.
- 3) Осадков выпадает очень мало.
- 4) Распространена многолетняя мерзлота.
- 5) Растут в основном карликовые растения, мхи и кустарники.

Выберите климатограмму, соответствующую климатическим особенностям указанной Вами природной зоны. Укажите в ответе её номер.