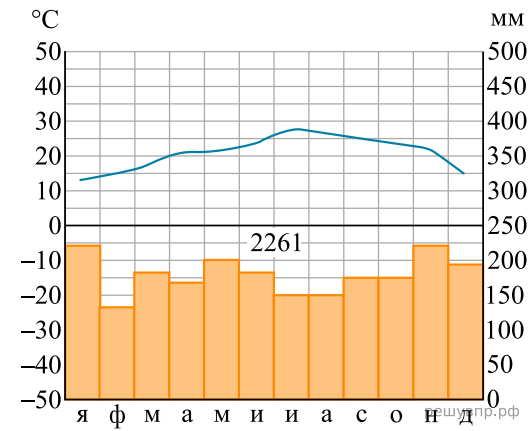


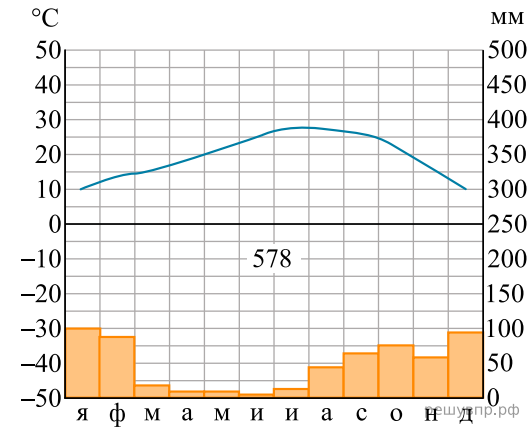
Карта составлена по состоянию на 01.01.2019

По выбранной Вами в задании 3.2 климатограмме определите климатические показатели для указанной природной зоны и заполните таблицу.

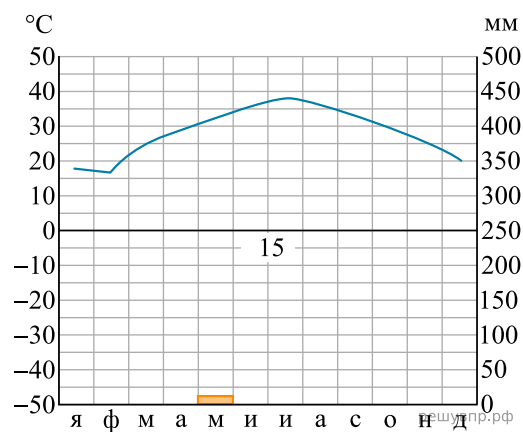
Средняя температура воздуха, °С		Годовая амплитуда температур, °С	Годовое количество осадков, мм	Месяц, на который приходится наибольшее количество осадков
в январе	в июле			



1



2



3

Для выполнения задания приводим текст задания 3.2:

Какой природной зоне мира соответствуют приведённые ниже характеристики? Укажите в ответе название этой природной зоны.

- 1) Отличается резким недостатком влаги и разреженным растительным покровом.
- 2) Почвы очень бедные либо вообще не формируются.
- 3) Встречаются оазисы, где растут финиковая пальма, акации, фруктовые деревья.
- 4) Осадки выпадают редко, обычно в виде коротких ливней, а в некоторых местах по несколько лет не бывает дождей.
- 5) Обитают многие виды пресмыкающихся: змей, ящериц, черепах.

Выберите климатограмму, соответствующую климатическим особенностям указанной Вами природной зоны. Укажите в ответе её номер.