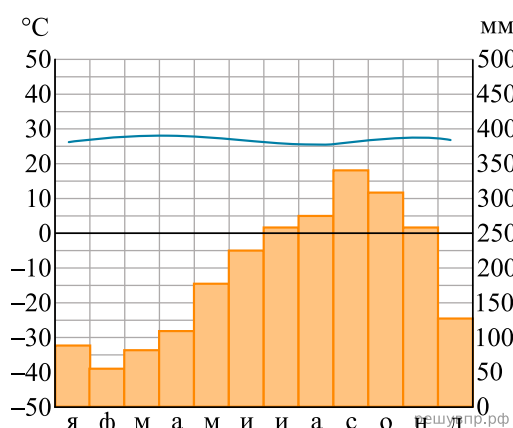


Карта составлена по состоянию на 01.01.2019

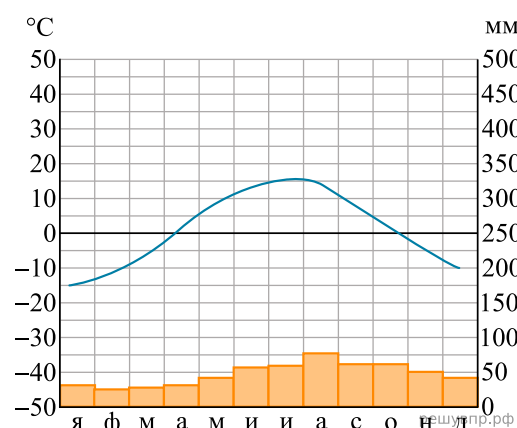
По выбранной Вами в задании 3.2. климатограмме определите климатические показатели для указанной природной зоны и заполните таблицу.

Средняя температура воздуха, °С		Годовая амплитуда температур, °С	Среднегодовое количество осадков, мм	Месяц, на который приходится наибольшее количество осадков
в январе	в июле			



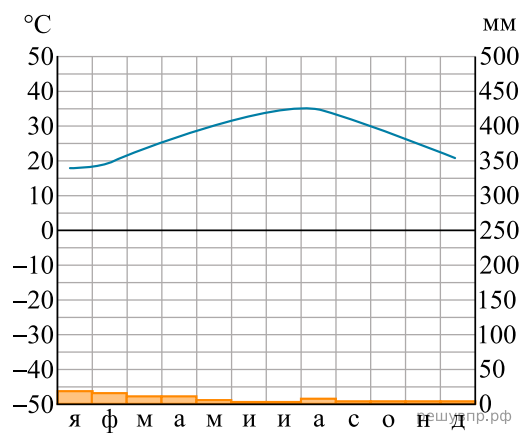
1

Высота над ур. моря - 72 м
Кол-во осадков в год - 2272 мм



2

Высота над ур. моря - 13 м
Кол-во осадков в год - 545 мм



3

Высота над ур. моря - 5 м
Кол-во осадков в год - 47 мм

Для выполнения задания приводим текст задания 3.2:

Какой природной зоне мира соответствуют приведённые ниже характеристики? Укажите в ответе название этой природной зоны.

- 1) Занимает небольшие территории в Африке, Юго-Восточной Азии и Южной Америке.
- 2) На протяжении всего года погода одинаковая (сезоны года не выражены).
- 3) В растительном покрове преобладают многоярусные лиственные породы.
- 4) Формируются неплодородные красно-желтые ферралитные почвы.
- 5) Типичные представители животного мира: приматы, птицы, тукан, ягуар, ленивец.

Выберите климатограмму, соответствующую климатическим особенностям указанной Вами природной зоны. Укажите в ответе её номер.