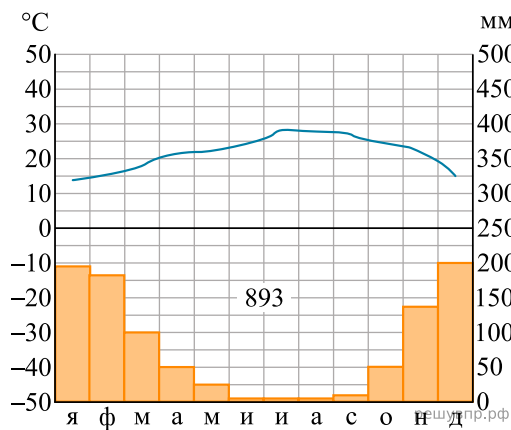


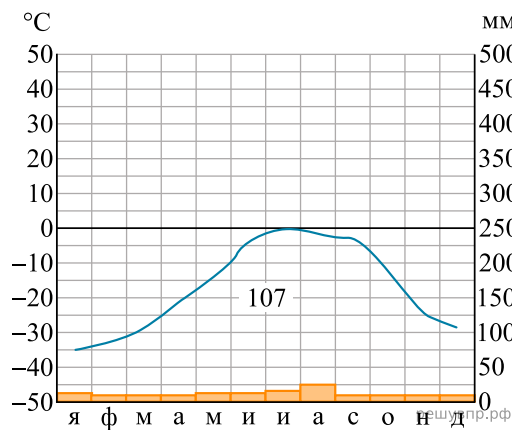
Карта составлена по состоянию на 01.01.2019

По выбранной Вами в задании 3.2 климатограмме определите климатические показатели для указанной природной зоны и заполните таблицу.

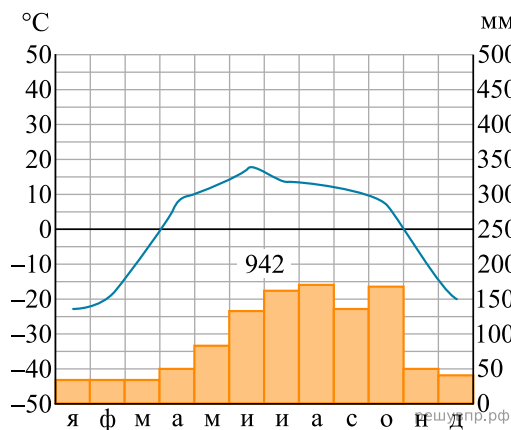
Средняя температура воздуха, °С		Годовая амплитуда температур, °С	Годовое количество осадков, мм	Месяц, на который приходится наибольшее количество осадков
в январе	в июле			



1



2



Для выполнения задания приводим текст задания 3.2:

Какой природной зоне мира соответствуют приведённые ниже характеристики? Укажите в ответе название этой природной зоны.

- 1) Распространена в полярных широтах выше 75° с. ш.
- 2) Почвы практически не развиты.
- 3) Обитают морские животные: белые медведи, моржи, тюлени, киты, нерпы.
- 4) Лето короткое и холодное.
- 5) Ледяной покров на большей территории не оттаивает даже в летний период.

Выберите климатограмму, соответствующую климатическим особенностям указанной Вами природной зоны. Укажите в ответе её номер.