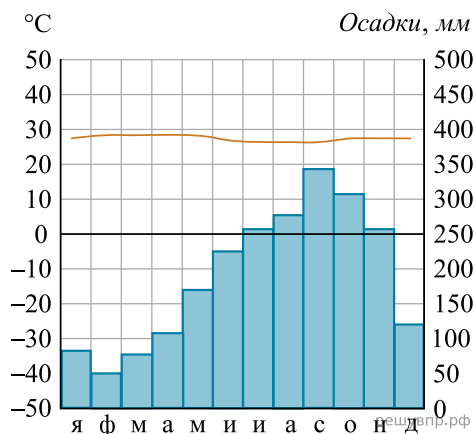


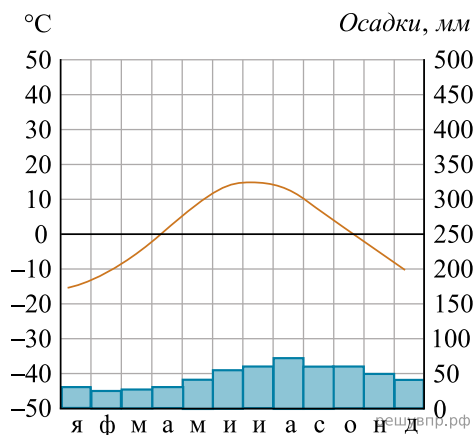
Карта составлена по состоянию на 01.01.2019

Рассмотрите рисунки с изображением климатограмм, построенных по данным метеонаблюдений в разных частях Земли, и выполните задания.

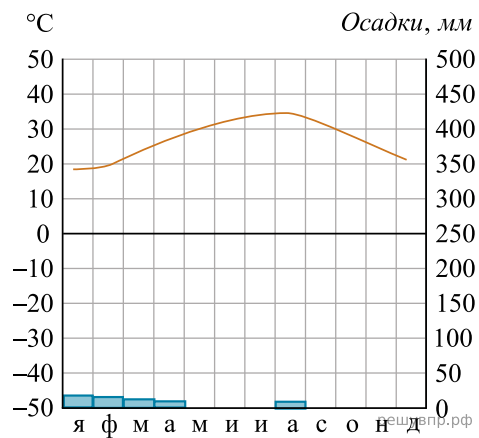
Определите, какому климатическому поясу соответствует каждая климатограмма. Подпишите название климатического пояса под соответствующей климатограммой.



1. Высота над ур. моря — 72 м. Кол-во осадков в год — 2272 мм



2. Высота над ур. моря — 13 м. Кол-во осадков в год — 545 мм



3. Высота над ур. моря — 5 м. Кол-во осадков в год — 47 мм