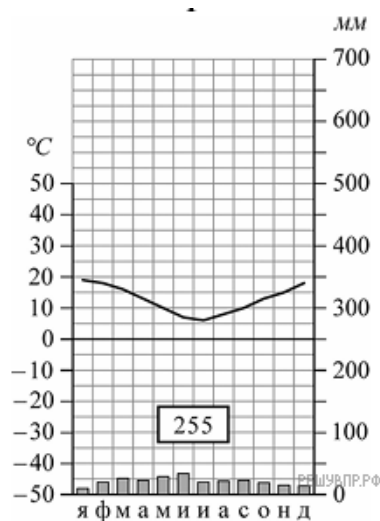
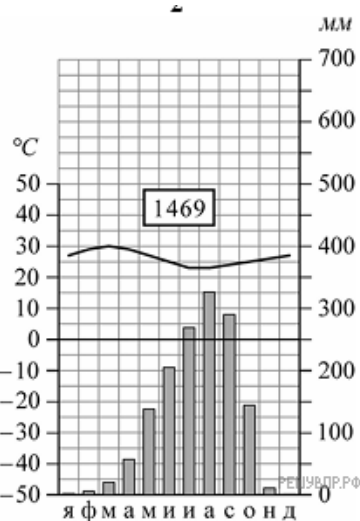


Выберите любую из приведённых выше климатограмм. Укажите в названии таблицы номер этой климатограммы и заполните таблицу климатических показателей, используя данные соответствующей климатограммы.

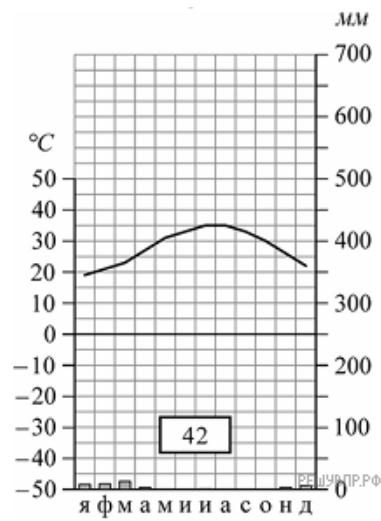
Климатические показатели пункта _____				
Средняя температура воздуха, °C		Годовая амплитуда температур, °C	Годовое количество осадков, мм	Месяц, на который приходится наибольшее количество осадков
в январе	в июле			



1



2



3