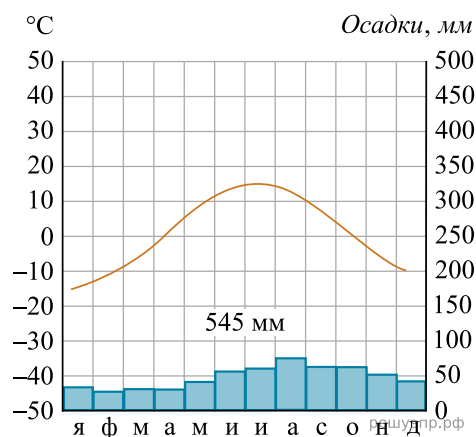
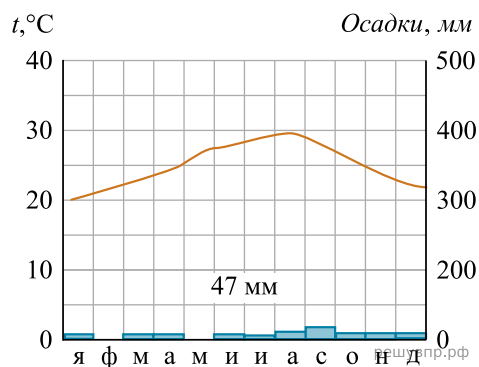


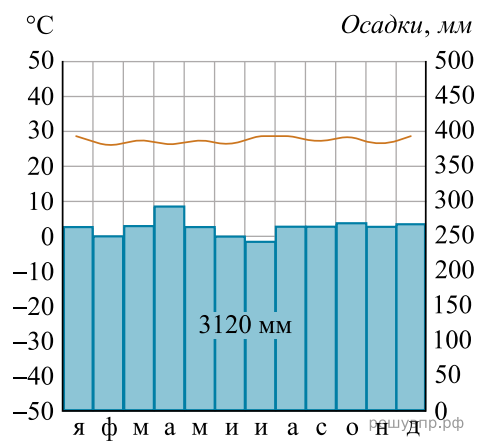
На карте мира пункты, для которых построены изображённые на рисунках климатограммы, обозначены цифрами, соответствующими номерам климатограмм. Определите, какому климатическому поясу соответствует каждая климатограмма. Подпишите названия климатических поясов под соответствующими климатограммами.



1



2



3