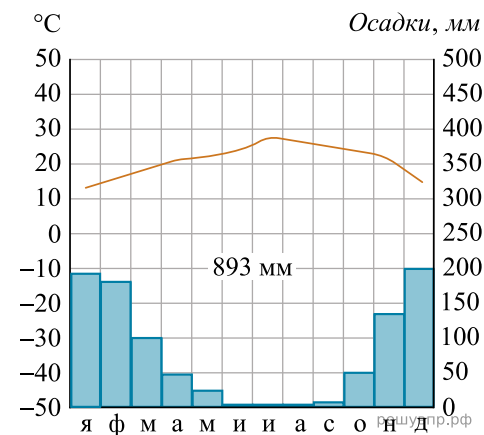




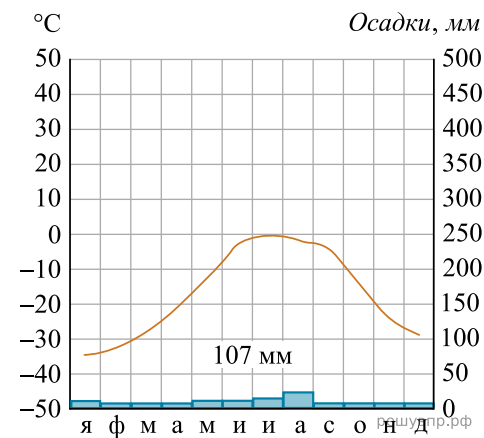
Карта составлена по состоянию на 01.01.2019

Выберите любую из приведённых выше климатограмм. Укажите в названии таблицы номер этой климатограммы и заполните таблицу климатических показателей, используя данные соответствующей климатограммы.

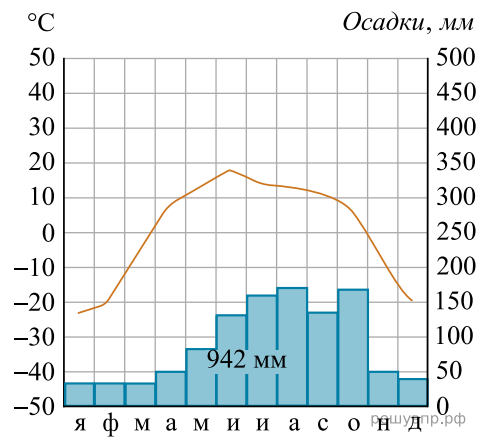
| Климатические показатели пункта ____ | | | | |
|--|--|----------------------------------|--------------------------------|--|
| Средняя температура воздуха в январе, °С | Средняя температура воздуха в июле, °С | Годовая амплитуда температур, °С | Годовое количество осадков, мм | Месяц, на который приходится наибольшее количество осадков |
| | | | | |



1



2



3