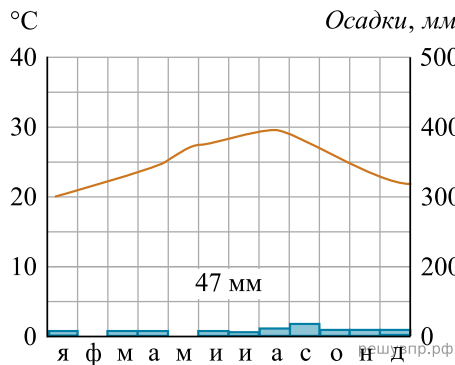


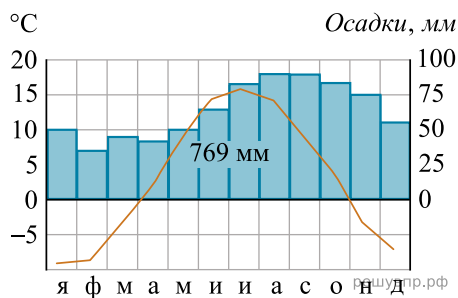
Карта составлена по состоянию на 01.01.2019

Выберите любую из приведённых выше климатограмм. Укажите в названии таблицы номер этой климатограммы и заполните таблицу климатических показателей, используя данные соответствующей климатограммы.

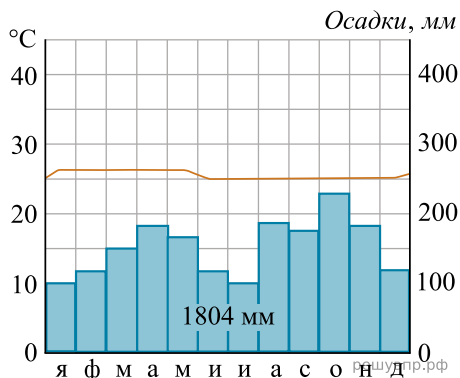
Климатические показатели пункта ____				
Средняя температура воздуха в январе, °C	Средняя температура воздуха в июле, °C	Годовая амплитуда температур, °C	Годовое количество осадков, мм	Месяц, на который приходится наибольшее количество осадков



1



2



3

