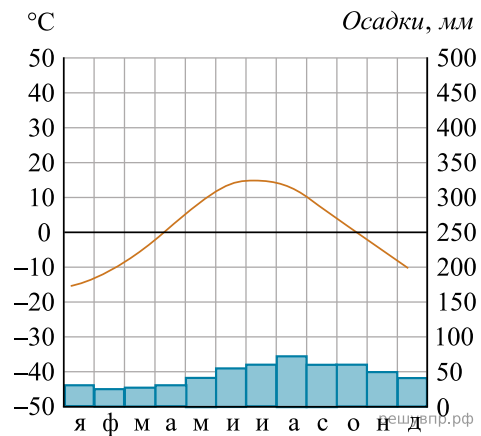
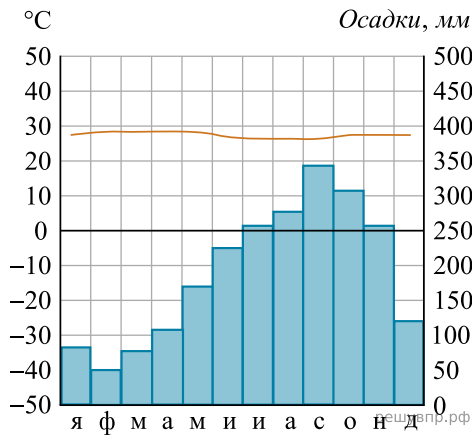


РЕШУВ.РФ

Карта составлена по состоянию на 01.01.2019

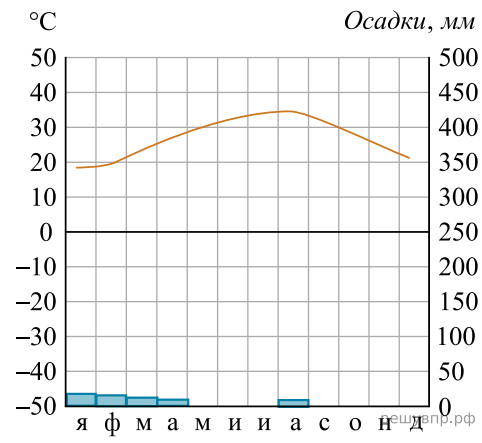
Выберите любую из приведённых выше климатограмм. Укажите в названии таблицы номер этой климатограммы и заполните таблицу климатических показателей, используя данные соответствующей климатограммы.

Климатические показатели пункта _____				
Средняя температура воздуха в январе, °С	Средняя температура воздуха в июле, °С	Годовая амплитуда температур, °С	Годовое количество осадков, мм	Месяц, на который приходится наибольшее количество осадков



1. Высота над ур. моря — 72 м. Кол-во осадков в год — 2272 мм

2. Высота над ур. моря — 13 м. Кол-во осадков в год — 545 мм



3. Высота над ур. моря — 5 м. Кол-во осадков в год — 47 мм