

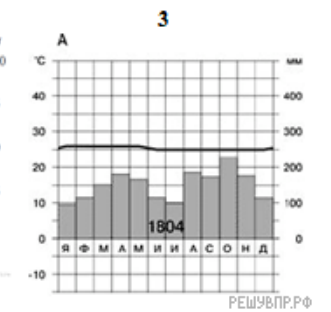
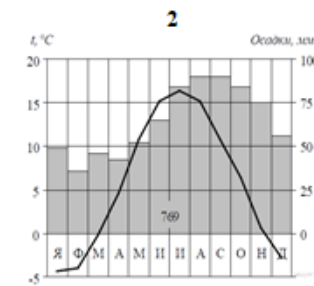
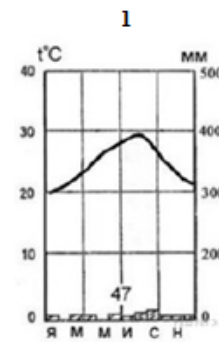
РЕШУ ВПР.РФ

Карта составлена по состоянию на 01.01.2019

Какой природной зоне мира соответствуют приведённые ниже характеристики? Укажите в ответе название этой природной зоны.

- 1) Занимает обширные территории Африки и Австралии, а также других материков.
- 2) Всегда очень жарко и сухо.
- 3) Растительность бедная, листья видоизменены или отсутствуют, корни очень длинные.
- 4) Бывают песчаные, каменистые или глинистые.
- 5) Типичные представители животного мира: змеи, ящерицы, пауки и др.

Выберите климатограмму, соответствующую климатическим особенностям указанной Вами природной зоны. Укажите в ответе её номер.



РЕШУ ВПР.РФ