

Используя представленную ниже таблицу и политическую карту мира выполните задания.

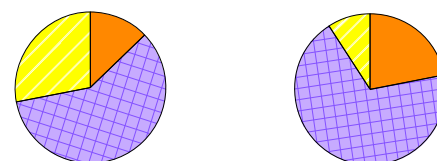
Численность и состав населения, 2017 г.

№	Страна	Численность населения, млн человек	Состав населения, %		
			Доля населения в возрасте до 15 лет	Доля населения в возрасте от 15 до 65 лет	Доля населения в возрасте старше 65 лет
1	Бразилия	211	22	69	9
2	Великобритания	66	17	65	18
3	Китай	1400	21	71	8
4	Япония	126	13	59	28

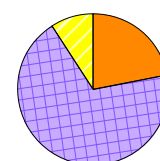


Карта составлена по состоянию на 01.01.2022

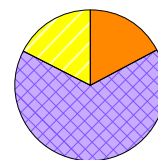
Определите, возрастной состав населения какой страны отражает каждая диаграмма. Запишите в ответе порядковые номера стран под соответствующими буквами.



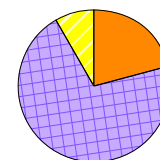
А



Б



В



Г

■ Доля населения в возрасте до 15 лет
 ■ Доля населения в возрасте от 15 до 65 лет
 ■ Доля населения в возрасте 65 лет и старше

reshu.vpr.rf

Ответ:

А	Б	В	Г
<input type="text"/>	<input type="text"/>	<input type="text"/>	<input type="text"/>