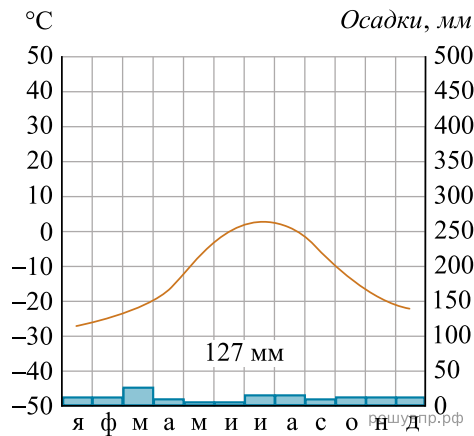


Карта составлена по состоянию на 01.01.2023

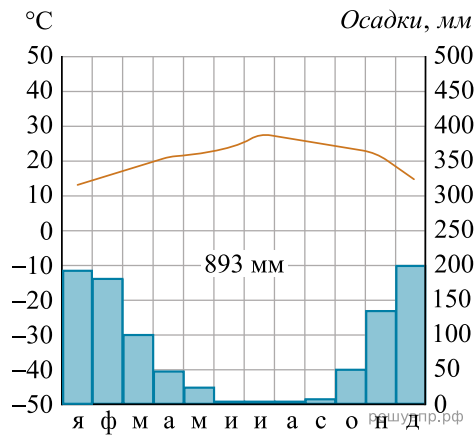
Рассмотрите рисунки с изображением климатограмм, построенных по данным метеонаблюдений в разных частях Земли, и выполните задания.

На карте мира территории, для которых построены изображённые на рисунках климатограммы, показаны квадратами с соответствующими номерами климатограмм. Определите, какому климатическому поясу соответствует каждая климатограмма.

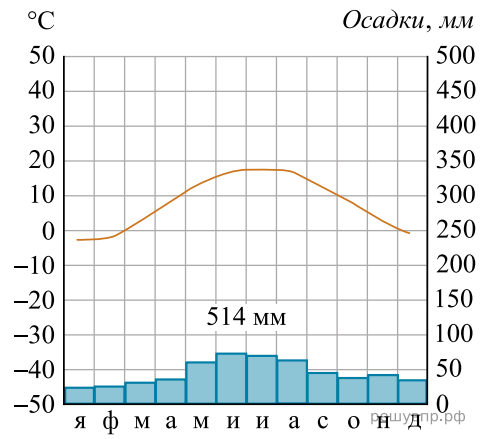
Подпишите названия климатических поясов под соответствующими климатограммами.



1



2



3