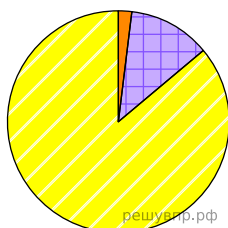





Используя представленную ниже таблицу выполните задания.

Численность и состав населения, 2017 г.

№	Страна	Численность занятого населения, млн человек	Доля занятого населения, %		
			в сельском хозяйстве	в промышленности	в сфере услуг
1	Швеция	5,3	2	12	86
2	Мексика	54,5	14	24	62
3	Гватемала	6,6	31	13	56
4	Соломоновы Острова	0,2	75	5	20

Структуру занятости населения какой страны, из приведённых в таблице, отражает представленная на рисунке диаграмма? Запишите в ответе название страны.



-  Доля населения, занятого в сфере услуг
-  Доля населения, занятого в промышленности
-  Доля населения, занятого в сельском хозяйстве