

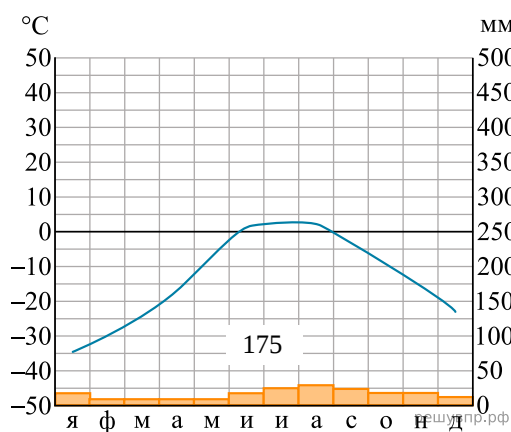
РЕШУ ВПР.РФ

Карта составлена по состоянию на 01.01.2022

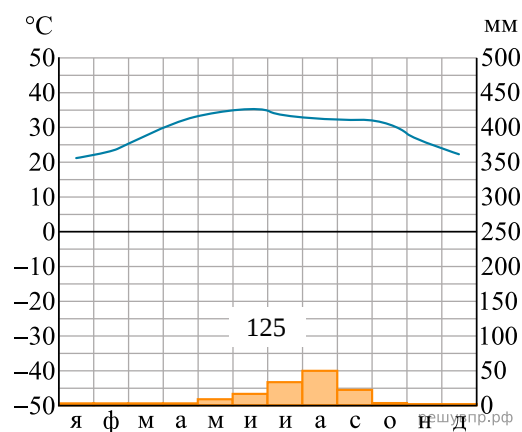
Какой природной зоне мира соответствуют приведённые ниже характеристики? Укажите в ответе название этой природной зоны.

- 1) Характерна заболоченность, много озёр и рек, часть территории находится в зоне вечной мерзлоты.
- 2) Зимы продолжительные холодные с устойчивым снежным покровом, лето короткое, но тёплое.
- 3) Растительный покров представлен хвойными деревьями.
- 4) Типичные представители животного мира — бурый медведь, рысь, россомаха, волк, лисица, глухарь, рябчик.
- 5) Традиционные занятия населения — охота на пушного зверя, сбор дикорастущих ягод и грибов, заготовка древесины.

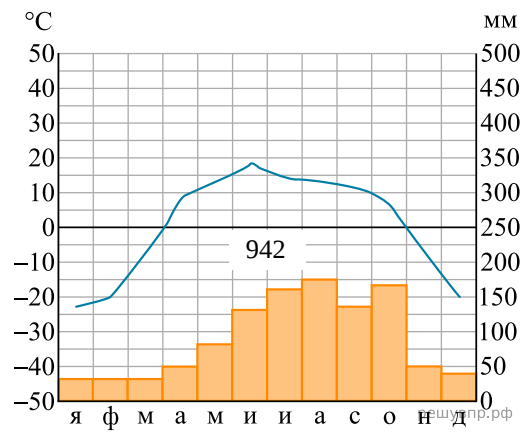
Выберите климатограмму, соответствующую климатическим особенностям указанной Вами природной зоны. Укажите в ответе её номер.



1



2



3