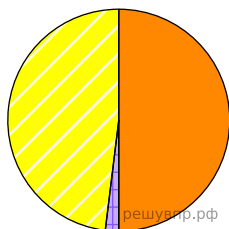





Используя представленную ниже таблицу выполните задания.

**Численность и структура занятого населения, 2017 г.**

№	Страна	Численность занятого населения, млн человек	Доля занятого населения, %		
			в сельском хозяйстве	в промышленности	в сфере услуг
1	Ирландия	2,2	5	11	84
2	Мавритания	1,5	50	2	48
3	Мозамбик	13,0	74	4	22
4	Турция	31,3	18	27	55

Структуру занятости населения какой страны, из приведённых в таблице, отражает представленная на рисунке диаграмма? Запишите в ответе название страны.



-  Доля населения, занятого в сфере услуг
-  Доля населения, занятого в промышленности
-  Доля населения, занятого в сельском хозяйстве