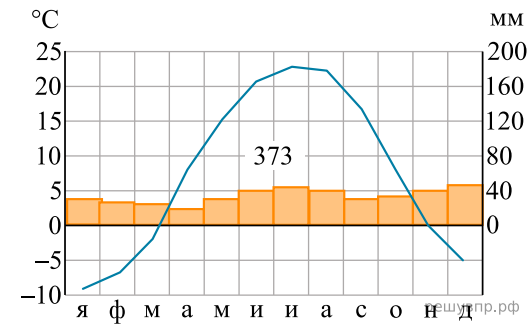


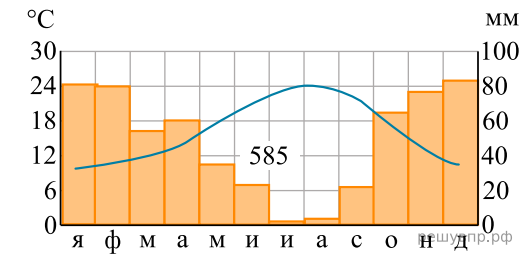
Карта составлена по состоянию на 01.01.2019

По выбранной Вами в задании 3.2. климатограмме определите климатические показатели для указанной природной зоны и заполните таблицу.

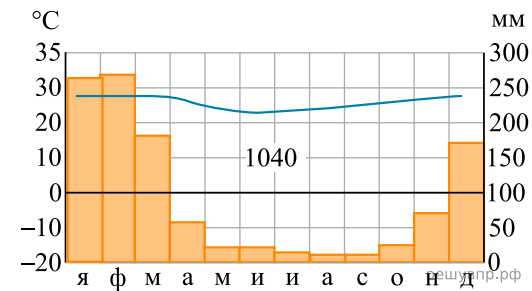
Средняя температура воздуха, °С		Годовая амплитуда температур, °С	Среднегодовое количество осадков, мм	Месяц, на который приходится наибольшее количество осадков
в январе	в июле			



1



2



3

Для выполнения задание приводим текст задания 3.2:

Какой природной зоне мира соответствуют приведённые ниже характеристики? Укажите в ответе название этой природной зоны.

1) Встречается почти на всех материках, но большие ее территории встречаются в Африке

- 2) Выделяются два сезона года: дождливое и теплое лето, и жаркая и сухая зима.
- 3) Среди растений преобладают травянистые растения и одинокие деревья с крупными стволами (баобабы, бутылочные деревья, восковые пальмы, кебрачо, акации).
- 4) Формируются красно-бурые или красно-коричневые почвы.
- 5) Типичные представители животного мира: гепард, слон, жираф, зебра, пума, оцелот, гривистый волк, броненосцы, страусы и др.

Выберите климатограмму, соответствующую климатическим особенностям указанной Вами природной зоны. Укажите в ответе её номер.