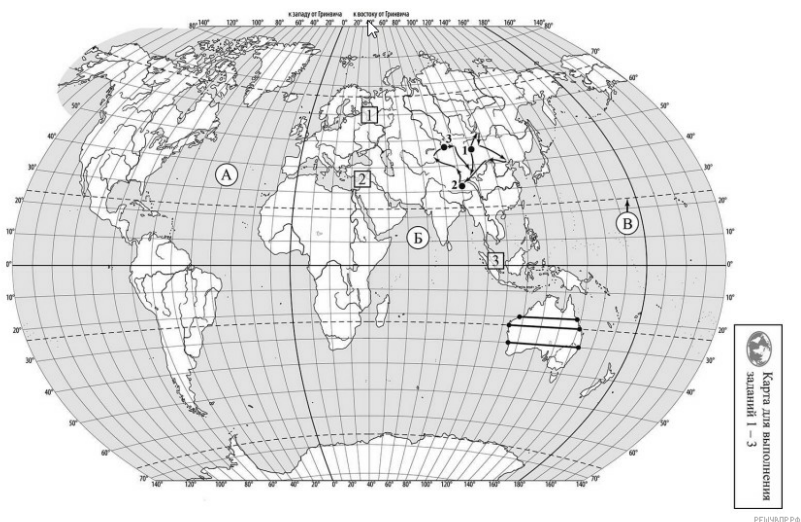
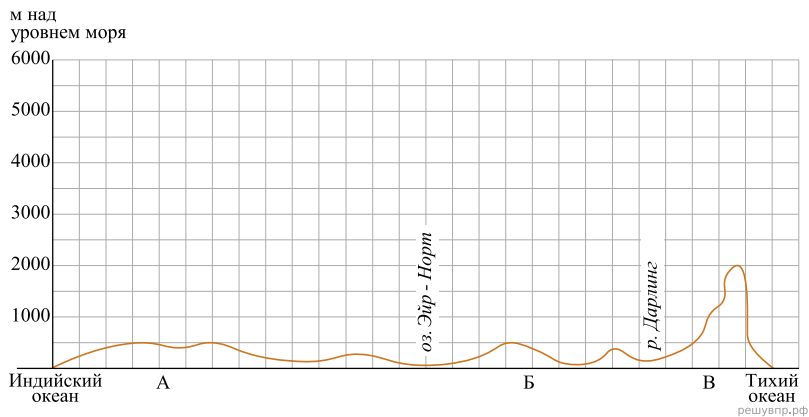


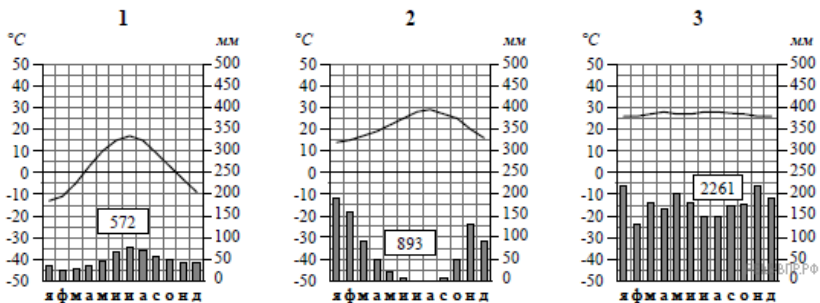
На уроке географии Алексей построил профиль рельефа Австралии. Используя рисунок и карту мира, выполните задания.



Карта составлена по состоянию на 01.01.2022

По выбранной Вами климатограмме определите климатические показатели для указанной природной зоны и заполните таблицу.

Средняя температура воздуха, °С		Годовая амплитуда температур, °С	Годовое количество осадков, мм	Месяц, на который приходится наибольшее количество осадков
в январе	в июле			



Для выполнения задания приводим текст задания 3.2:

Какой природной зоне мира соответствуют приведённые ниже характеристики? Укажите в ответе название этой природной зоны.

- 1) Занимает территорию в пределах только северных материков.
- 2) Для климата характерна продолжительная холодная зима с устойчивым снежным покровом.

- 3) В растительном покрове преобладают хвойные породы деревьев.
- 4) Обитают крупные млекопитающие: бурый медведь, волк, рысь, а также пушные звери: соболь, горностай, белка, куница.
- 5) Формируются преимущественно подзолистые почвы, много болот.

Выберите климатограмму, соответствующую климатическим особенностям указанной Вами природной зоны. Укажите в ответе её номер.