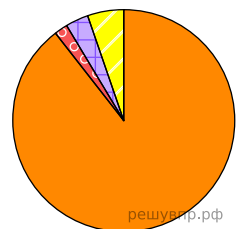






Используя представленную ниже таблицу выполните задания.

Численность и религиозный состав населения, 2019 г.

№	Страна	Численность населения, млн человек	Доля населения, %			
			Христиане	Мусульмане	Буддисты	Атеисты и другие
1	Лаос	7,2	2	—	66	32
2	Португалия	10,1	93	1	2	4
3	Сингапур	6,1	19	14	34	33
4	Пакистан	206,2	2	96	2	—

Религиозный состав населения какой страны, из приведённых в таблице, отражает представленная на рисунке диаграмма? Запишите в ответе название страны.



-  Атеисты и другие
-  Буддисты
-  Мусульмане
-  Христиане