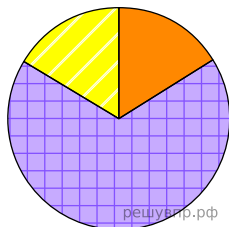





Используя представленную ниже таблицу выполните задания.

Численность и возрастной состав населения, 2018 г.

№	Страна	Численность занятого населения, млн человек	Доля населения, %		
			в возрасте до 15 лет	в возрасте от 15 до 65 лет	в возрасте старше 65 лет
1	Индонезия	263	27	67	6
2	Франция	65	19	65	17
3	Ангола	31	48	50	2
4	Италия	62	14	64	22

Возрастной состав населения какой страны, из приведённых в таблице, отражает представленная на рисунке диаграмма? Запишите в ответе название страны.



-  Доля населения в возрасте от 65 и старше
-  Доля населения в возрасте от 15 до 65
-  Доля населения в возрасте до 15 решувпр.рф