

Используя представленную ниже таблицу и политическую карту мира выполните задания.

Занятость населения по отраслям хозяйства, 2017 г.

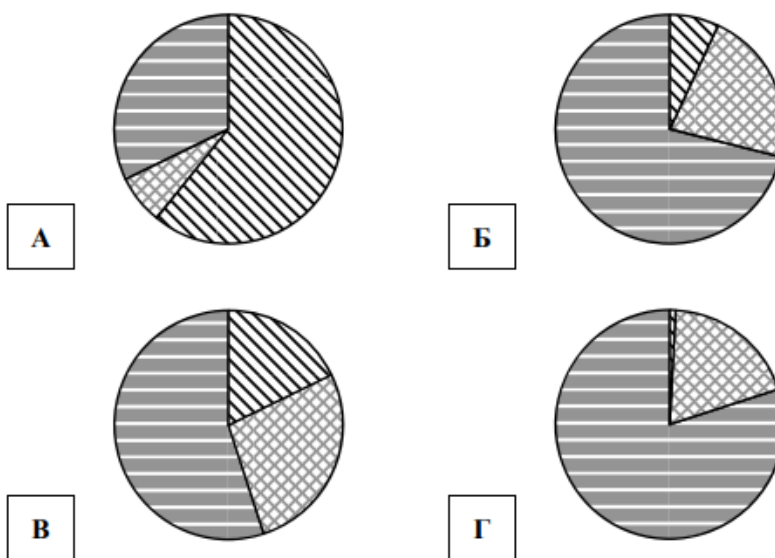
№	Страна	Численность занятого населения, млн человек	Доля занятого населения, %		
			в сельском хозяйстве	в промышленности	в сфере услуг
1	Бельгия	5,3	1	19	80
2	Кения	20,0	61	7	32
3	Венесуэла	14,2	7	22	71
4	Турция	31,3	18	27	55






РЕШУВПР.РФ

Карта составлена по состоянию на 01.01.2017

Определите, структуру занятости населения какой страны отражает каждая диаграмма. Запишите в ответе порядковые номера стран под соответствующими буквами.



 доля населения, занятого в сельском хозяйстве
  доля населения, занятого в промышленности
  доля населения, занятого в сфере услуг