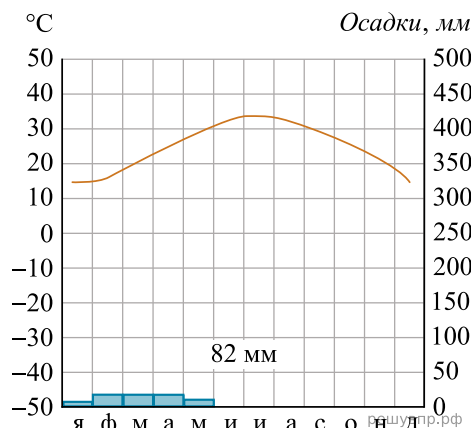


Карта для выполнения задания 1.1, 3.2
Г.И.У.И.П.Р.Ф.

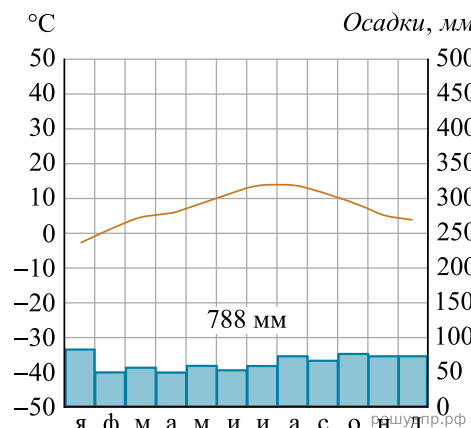
Карта составлена по состоянию на 01.01.2021

Рассмотрите рисунки с изображением климатограмм, построенных по данным метеонаблюдений в разных частях Земли, и выполните задания.

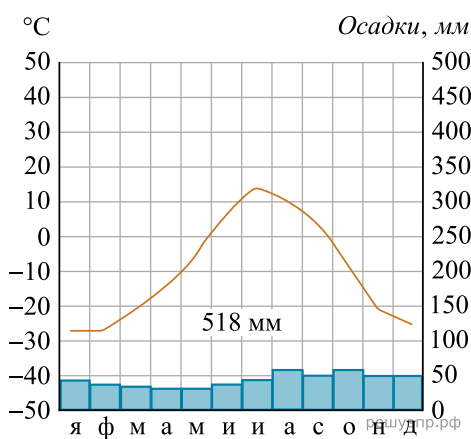
Определите, какому климатическому поясу соответствует каждая климатограмма. Подпишите название климатического пояса под соответствующей климатограммой.



1



2



3