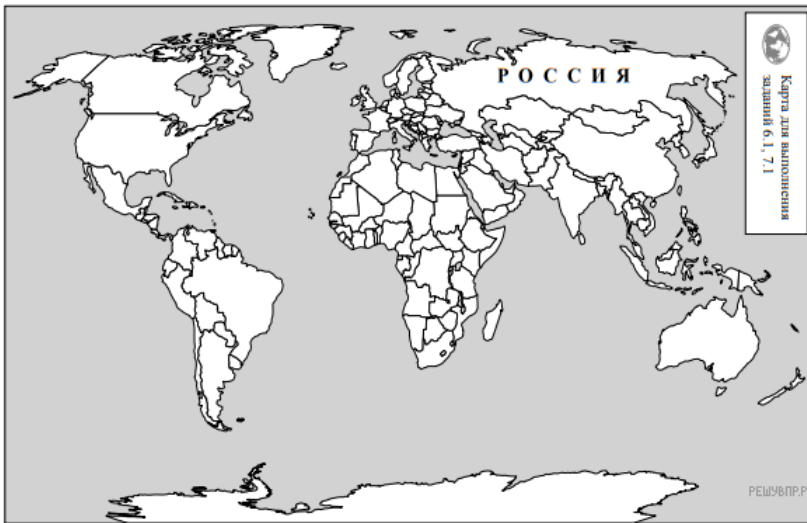


Используя представленную ниже таблицу и политическую карту мира выполните задания.

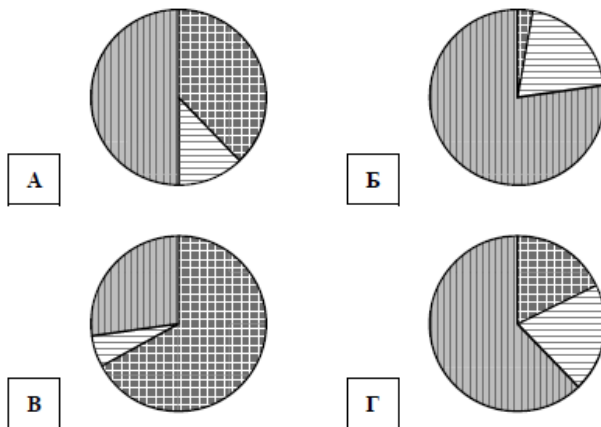
Численность и состав населения, 2017 г.




№	Страна	Численность занятого населения, млн человек	Доля занятого населения, %		
			в сельском хозяйстве	в промышленности	в сфере услуг
1	Франция	30,7	3	20	77
2	Казахстан	9,0	18	20	62
3	Гаити	4,6	38	12	50
4	Танзания	24,9	67	6	27



Карта составлена по состоянию на 01.01.2017

Определите, структуру занятости населения какой страны отражает каждая диаграмма. Запишите в ответе порядковые номера стран под соответствующими буквами.



 доля населения, занятого в сельском хозяйстве
  доля населения, занятого в промышленности
  доля населения, занятого в сфере услуг

Ответ:

А	Б	В	Г
<input type="text"/>	<input type="text"/>	<input type="text"/>	<input type="text"/>