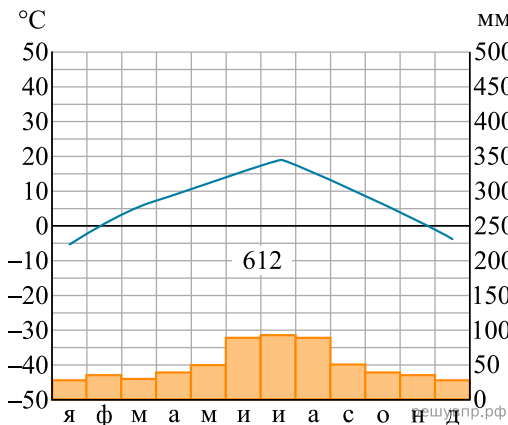


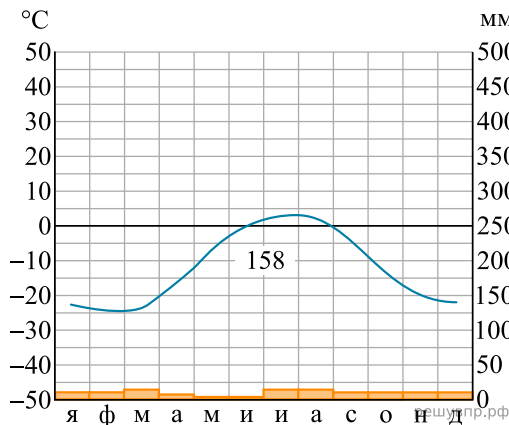
Карта составлена по состоянию на 01.01.2019

По выбранной Вами в задании 3.2 климатограмме определите климатические показатели для указанной природной зоны и заполните таблицу.

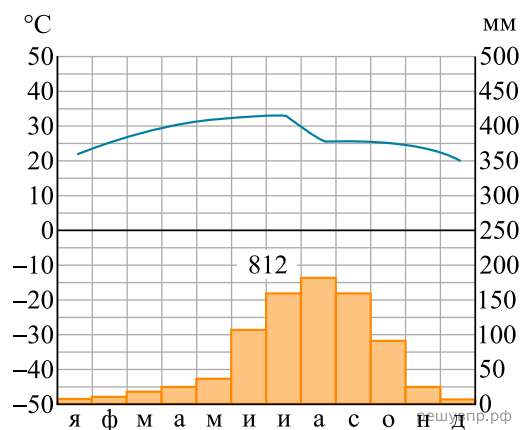
Средняя температура воздуха, °С		Годовая амплитуда температур, °С	Годовое количество осадков, мм	Месяц, на который приходится наибольшее количество осадков
в январе	в июле			



1



2



3

Для выполнения задания приводим текст задания 3.2:

Какой природной зоне мира соответствуют приведённые ниже характеристики? Укажите в ответе название этой природной зоны.

- 1) Занимает преимущественно равнинные территории.
- 2) Характерна смена сухого и влажного сезонов года.
- 3) Преобладает травянистый покров с травами, достигающими 3 м в высоту.
- 4) Древесная растительность представлена акациями, веерными пальмами, баобабам.
- 5) Обитают крупные травоядные животные: слоны, жирафы, зебры, антилопы, буйволы, носороги, бегемоты, а также хищники: гепарды, леопарды, шакалы, гиены.

Выберите климатограмму, соответствующую климатическим особенностям указанной Вами природной зоны. Укажите в ответе её номер.