

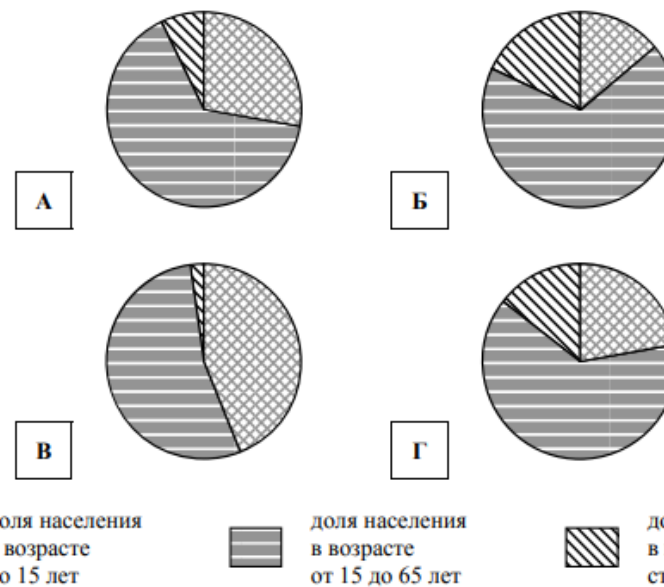
Численность и возрастной состав населения, 2018 г.




№	Страна	Численность населения, млн человек	Доля населения, %		
			в возрасте до 15 лет	в возрасте от 15 до 65 лет	в возрасте старше 65 лет
1	Австрия	9	14	68	18
2	Мексика	131	28	65	7
3	Исландия	0,3	20	57	13
4	Сомали	12	44	54	2



Карта составлена по состоянию на 01.01.2019

Определите, возрастной состав населения какой страны отражает каждая диаграмма. Запишите в ответе порядковые номера стран под соответствующими буквами.



 доля населения в возрасте до 15 лет
  доля населения в возрасте от 15 до 65 лет
  доля населения в возрасте старше 65 лет

Ответ:

А	Б	В	Г
<input type="text"/>	<input type="text"/>	<input type="text"/>	<input type="text"/>