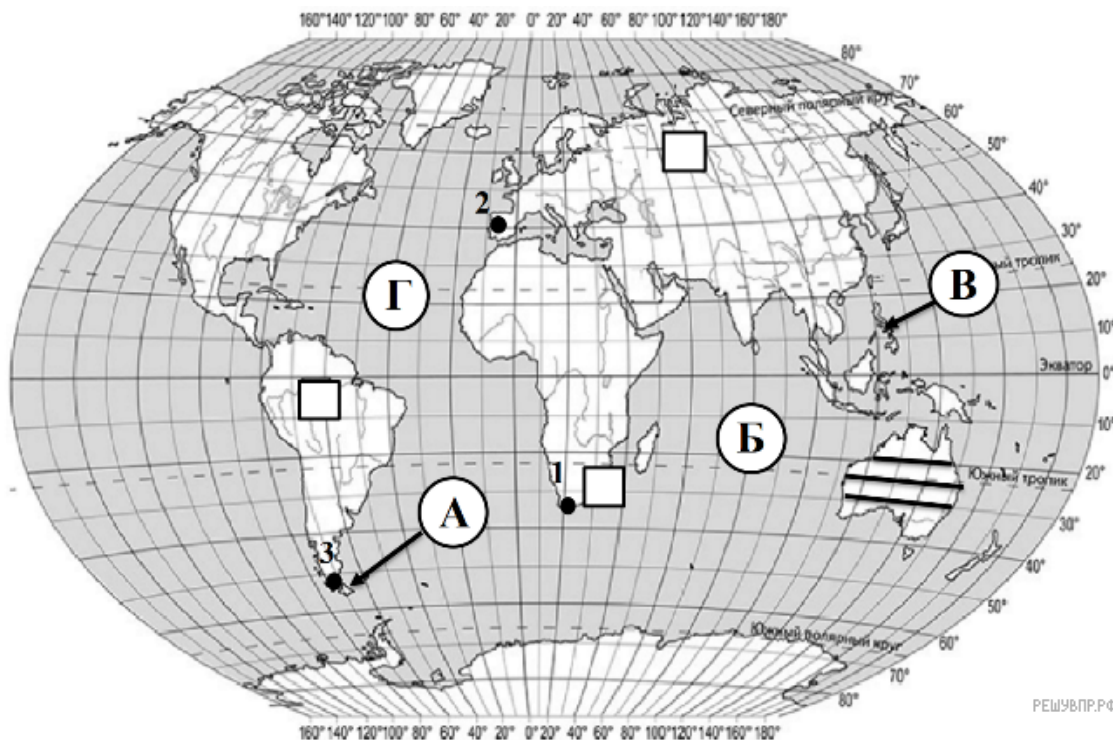
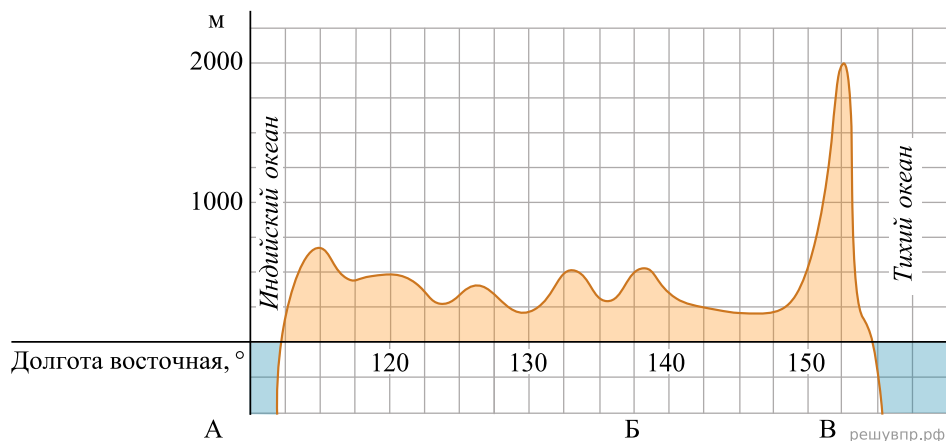



На уроке географии Сергей построил профиль рельефа Австралии, представленный на рисунке. Используя рисунок и карту мира выполните задания.



Карта составлена по состоянию на 01.01.2019

На рисунке представлены значки, которыми обозначаются месторождения полезных ископаемых на географических картах.



Внесите в таблицу значки, обозначающие месторождения полезных ископаемых, которые добывают на территории, через которую построен профиль.

| Урановые руды | Нефть | Природный газ | Золото |
|---------------|-------|---------------|--------|
| | | | |