

Используя представленную ниже таблицу и политическую карту мира выполните задания.

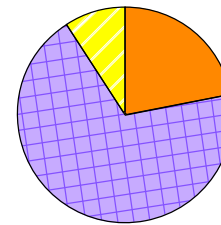
Численность и состав населения, 2017 г.

№	Страна	Численность населения, млн человек	Состав населения, %		
			Доля населения в возрасте до 15 лет	Доля населения в возрасте от 15 до 65 лет	Доля населения в возрасте старше 65 лет
1	Мавритания	4	46	52	2
2	США	325	19	66	15
3	Мексика	133	29	64	7
4	Япония	126	13	59	28

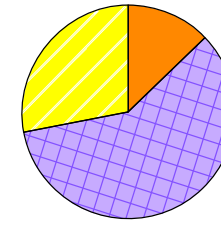


Карта составлена по состоянию на 01.01.2017

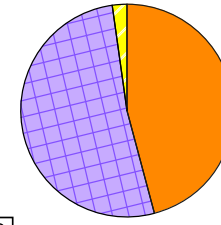
Определите, возрастной состав населения какой страны отражает каждая диаграмма. Запишите в ответе порядковые номера стран под соответствующими буквами.



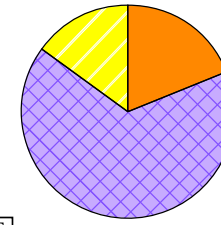
А



Б



В



Г

Доля населения в возрасте до 15 лет
 Доля населения в возрасте от 15 до 65 лет
 Доля населения в возрасте 65 лет и старше

решувпр.рф

Ответ:

А	Б	В	Г
□	□	□	□