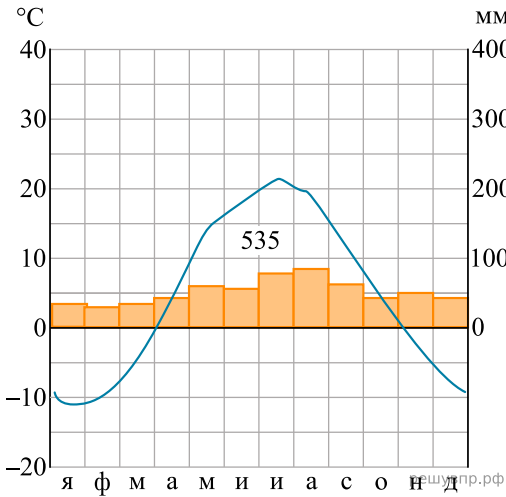


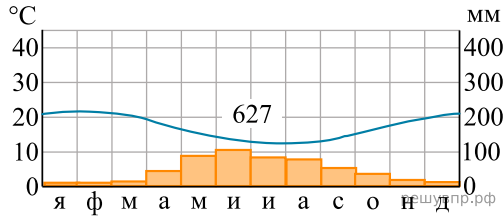
Карта составлена по состоянию на 01.01.2019

По выбранной Вами в задании 3.2. климатограмме определите климатические показатели для указанной природной зоны и заполните таблицу.

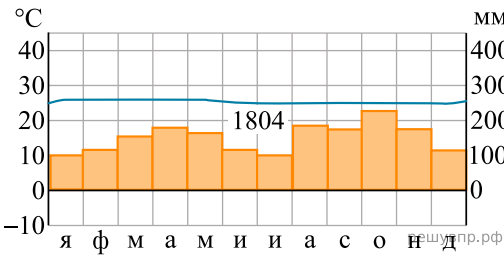
Средняя температура воздуха, °С		Годовая амплитуда температур, °С	Среднегодовое количество осадков, мм	Месяц, на который приходится наибольшее количество осадков
в январе	в июле			



1



2



3

Для выполнения задания приводим текст задания 3.2:

Какой природной зоне мира соответствуют приведённые ниже характеристики? Укажите в ответе название этой природной зоны.

- 1) Занимает обширные территории Северной Америки и Евразии.
- 2) Четко выражены все сезоны года.
- 3) Среди растений преобладают древесные породы (хвойные и лиственные).
- 4) Формируются дерново-подзолистые почвы.
- 5) Типичные представители животного мира: медведь, лиса, соболь, куница, белка, бурундук, лось и различные виды птиц.

Выберите климатограмму, соответствующую климатическим особенностям указанной Вами природной зоны. Укажите в ответе её номер.