

Используя представленную ниже таблицу и политическую карту мира выполните задания.

Численность и состав населения, 2017 г.

№	Страна	Численность населения, млн человек	Состав населения, %		
			Доля населения в возрасте до 15 лет	Доля населения в возрасте от 15 до 65 лет	Доля населения в возрасте старше 65 лет
1	Алжир	40	30	65	5
2	Германия	82	13	65	22
3	Мексика	133	29	64	7
4	Япония	126	13	59	28

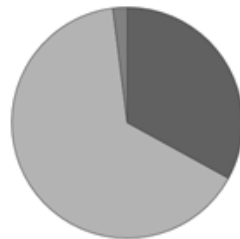


Карта составлена по состоянию на 01.01.2017

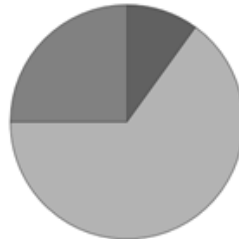
Определите, возрастной состав населения какой страны отражает каждая диаграмма. Запишите в ответе порядковые номера стран под соответствующими буквами.



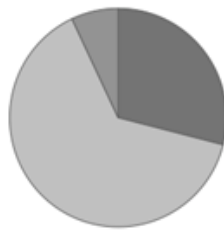
А



Б



В



Г

доля населения в возрасте до 15 лет



доля населения в возрасте от 15 до 65 лет



доля населения в возрасте старше 65 лет



РЕШУ ВПР.РФ

Ответ: